

ぴったり3

どかぐテスト

7. わたしたちの県

① 県の広がり

答え 13ページ

ONE OF

1

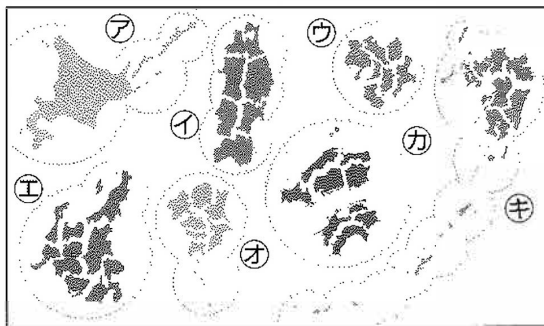
知識・理解

右の図について、次の問いに答えなさい。

1つ5点(25点)

(1) 次の①・②の文にあてはまる都道府県の名前を、から選んで、記号で答えなさい。

- ① 県の真ん中にある甲府盆地で、ぶどうの生産がさかんである。 ()
- ② 夏休みに、日本三景の1つに数えられる天橋立に行った。 ()



- ア やまなし 山梨県
- イ くまもと 熊本県
- ウ きょうと 京都府
- エ ほっかいどう 北海道

(2) 次の①~③の地方にあてはまるものを、図中のア~キから1つずつ選んで、記号で答えなさい。

- ① () 東北地方
- ② () 九州地方
- ③ () 関東地方

2

観察・資料活用の技能

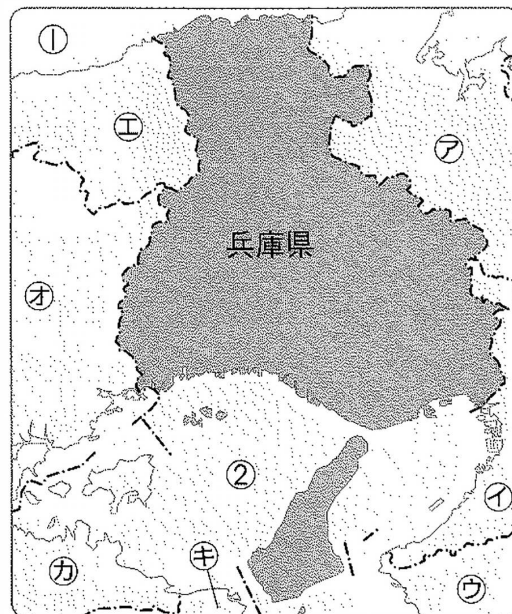
右の地図を見て、次の問いに答えなさい。

1つ5点(25点)

(1) 右の地図中の兵庫県の地方名を書きなさい。 () 地方

(2) 右の地図中のア~キの府県のうち、兵庫県が属する地方と同じ地方にふくまれているものを3つ選んで、記号で答えなさい。 () () ()

(3) 右の地図中の①・②の海の名前の組み合わせとして正しいものを、から選んで、記号で答えなさい。 ()



- ア ①瀬戸内海 ②日本海
- イ ①日本海 ②瀬戸内海
- ウ ①太平洋 ②日本海
- エ ①日本海 ②太平洋

3

観察・資料活用の技能

右の地図を見て、次の問いに答えなさい。

1つ5点(25点)

- (1) 次の文にあてはまる交通機関を、地図中の①～④から選んで、番号で答えなさい。

この道路は、兵庫県神戸市と四国の香川県を結んでいる。

- (2) 次の文にあてはまる都市を地図中の都市からぬき出して、()に書きなさい。

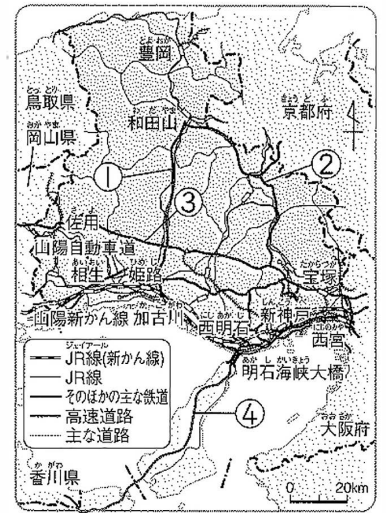
この都市は、お城で有名で、神戸市とともに海に面している。

()市

- (3) 次の文中の①～③にあてはまることばを書きなさい。○県内の主な道路と鉄道

神戸市は、兵庫県の①()所在地である。神戸市には、

②()や空港があり、船や③()で、愛媛県、大分県、沖縄県、北海道などと結ばれている。



4

社会的な思考・判断・表現

右の地図を見て、次の問いに答えなさい。

1つ5点(25点)

- (1) 右の地図は、何とよばれる地図ですか。その名前を書きなさい。

()図

- (2) 右の地図から読み取れることとして正しいものには○を、まちがっているものには×を()につけなさい。

①()兵庫県は、田の面積よりも畑の面積の方が大きい。

②()氷ノ山は、兵庫県の北西の山間部にある。

③()兵庫県にはかじゅ園はない。

- (3) 瀬戸内海に面した低い土地と、県の中央部の山地では、土地の様子にどのようなちがいはありますか。かんたんに書きなさい。



この本の終わりにある「本のチャレンジテスト」をやってみよう!



ぴったり☆ まとめよう

7. わたしたちの県

② 特色ある地いきと 人々のくらし ①

()に入る
ことばを、下から
えらびましょう。

答え 14ページ

みんなの ?

兵庫県の特徴ある地いきはどこなのだろうか。

教科書

150~151ページ

① () づくりがさかな篠山市

② () を育てる豊岡市



しろ



淡路島では、春と秋に
花祭りが開かれるよ。



あかし

お城がある ③ () 市

淡路島の花祭りと明石市のたこ



みんなの ?


篠山市では、なぜ焼き物づくりがさかなののだろうか。

教科書

152~155ページ

* 篠山市今田町には、丹波立杭焼をつくる(④)が多い。

→丹波立杭焼は、まちの大切な(⑤)な産業。



① 丹波立杭焼

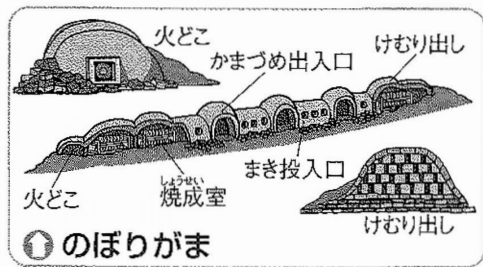
原料となる土が手に入れやすい

* 山土と田土とよばれ、市内の少しはなれたところや、となりの三田市でとれる土をまぜ合わせて使う。

(⑥) となる木が手に入れやすい

のぼりがま … (⑦) 半島から伝わった。

* 焼成室にかま入れした後、温度をじょじょに上げて焼く。焼き上がりには3日かかり、年に3~4回、つばや花びんを焼くときに使う。



① のぼりがま

()に入る
ことば

焼き物
 かま元

伝統的
 朝鮮

燃料

コウノトリ

姫路

先生からのひとこと



- ★兵庫県の特色ある地いきをかくにんしよう。
- ★篠山市の伝統的な産業をチェックしよう。
- ★焼き物づくりの原料や道具をおさえよう。

答え 14ページ

1

次の(1)～(5)の文にあてはまる兵庫県の市や地いきを、から選んで、記号で答えなさい。

- (1) コウノトリで有名である。
- (2) 丹波立杭焼という焼き物がつくられている。
- (3) 花祭りが開かれている。
- (4) お城があり、観光客でにぎわっている。
- (5) 近くの海でたこがとれる。

明石市 豊岡市 篠山市 姫路市 淡路島

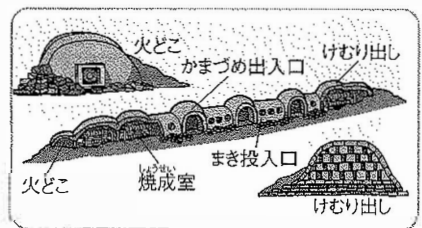
2

次の問いに答えなさい。

- (1) 丹波立杭焼をつくるどころが篠山市今田町にはたくさんあります。焼き物をつくる場所や人を何といいますか。
- (2) 焼き物づくりの燃料となるものを、から選んで、記号で答えなさい。

木 土 水 草

- (3) 焼き物づくりに使われる、右の図のようなせつびについて、次の問いに答えなさい。



- ①このせつびの名前を書きなさい。

- ②今田町には、右の図のようなせつびが、今から約400年前に、ある半島から伝わりました。この半島の名前を書きなさい。

半島

- ③のぼりがまでつくられるのは、次の⑦・①のどちらですか。あてはまる方の焼き物のに○をつけなさい。

⑦ うわ薬をつけた湯のみや茶わん

① つぼや花びんなど

ここが
だいじ!

篠山市では、地元のしげんを使って焼き物づくりが行われている。