

西大和学園補習校

2015年9月12日

3年学年通信


発行者 馬橋 直子

それぞれの子どもたちの成長を

今週は、まとめテストが行われました。力を出せた子も、思ったように答えられなかった子もいたと思います。テストは、点数で結果がでるので、「どうして、こんなにできないのかしら。」「他の子はできるのに。」などどまわりの子と比較しがちです。

しかしながら、「3年生になって難しくなった文章の意味を理解している。」「割り算のけいさんの方法がわかるようになった。」など、それぞれにできるようになったこと、成長できたことがあるはずです。テストの点数ではなく、できるようになったことをまず見つけて、褒めてあげてください。それだけで、子どもたちの日本の勉強へのやる気が変わってくるのではないかと思います。


特に、補習校には日本で生まれ育った子や、アメリカで育った子、家庭での言語が英語や他の言語の子など、言語環境が違う子どもたちが一緒に学んでいます。子ども達それぞれの頑張りを認め、後期の勉強に向けて、意欲を持たせることができるように、学校でもご家庭でも声を掛けていけたらと思います。



がくしゅう
《学習のかくにん》 ここで毎週の学習内ようと、宿題をかくにんします！

今週の 学習内よう	国語①	前期まとめテスト
	国語②	「県 緑 根 曲 泳 具 期」
	算 数	前期まとめテスト
	生 活	昔の外遊び

9月19日の 学習予定	国語①	ありがとうをつたえよう
	国語②	「両 進 童 反 対 練」
	算 数	かけ算のしかたを考えよう
	生 活	ゴム跳び

今週の宿題	国語①	 しゅくだいがおわったら、チェックしましょう。 <input type="checkbox"/> 作文 <input type="checkbox"/> 音読（カードに書いているところを読む） <input type="checkbox"/> ドリルの王様17 ※丸つけをおねがいします。学校では、学習しない部分ですが、教科書を読んで取り組んでみましょう。
	国語②	<input type="checkbox"/> 漢字の学しゅう 「県 緑 根 曲 泳 具 期」 ていねいになぞりましょう。 「とめ」「はね」「はらい」に気をつけましょう。 ③ことばや文を作る時、正しいつかい方ができているかをたしかめましょう。 <input type="checkbox"/> 漢字テストのれん習（プリント配付）
	算 数	<input type="checkbox"/> ちびまるごちゃんの算数ドリル④④④④④ ※丸つけをおねがいします。プリント1まい

⑩		水泳大会		すいすいたいかい		13	西大和学園補習校三年 漢字テストはんじ	
⑨	新緑	しんりょく	⑧	くねくね曲がる	くねくねまがる			
⑦	道具を使う。	どうぐをつかう。	⑥	海で泳ぐ。	うみでおよぶ。	⑤	黄緑	きみどり
④	作曲家	さつきょくか	③	千葉県	ちばけん	②	定期けん	ていきけん
①	大根の根っこ	だいこんのねっこ	①	名前	だいこんのねっこ	02月12日 配布	02月19日 テスト	

⑩		すいすいたいかい		13	西大和学園補習校三年 漢字テストはんじ
⑨	しんりょく	⑧	くねくねまがる		
⑦	どうぐをつかう。	⑥	うみでおよぶ。	⑤	きみどり
④	さつきょくか	③	ちばけん	②	ていきけん
①	だいこんのねっこ	①	名前	だいこんのねっこ	

8

大きな数

学習日	月	日	とく 点
名前			

1 58240619 について、次の問いに答えなさい。

- (1) 十万の位の数字を書きなさい。
- (2) 5は、何の位の数字ですか。

6点×2 /12点

(1)	
(2)	

2 次の数を漢字で書きなさい。

- (1) 827005
- (2) 62044930

6点×2 /12点

(1)	
(2)	

3 次の数を数字で書きなさい。

- (1) 四百八十五万七千五百
- (2) 九千二百万三千六十

6点×2 /12点

(1)	
(2)	

4 次の□にあてはまる数を書きなさい。

- (1) 7397020 は、百万を□①に、十万を□②に、一万を□③に、千を□④に、十を□⑤に合わせた数です。
- (2) 408000 は、千を□⑥に集めた数です。
- (3) 1090061 は、一万を□⑦こと、□⑧を合わせた数です。

5点×8 /40点

①	②	
③	④	
⑤	⑥	
⑦	⑧	

5 次の数を数字で書きなさい。

- (1) 千万を4こ、十万を7こ、百を6こ合わせた数
- (2) 十万を320こ集めた数
- (3) 一万を240ここと、38を合わせた数

8点×3 /24点

(1)	
(2)	
(3)	

15

あまりのあるわり算

学習日	月	日	とく点
名前			/100点

1 次の計算を^{つぎ}しなさい。

- (1) $11 \div 2$
- (2) $17 \div 6$
- (3) $26 \div 3$
- (4) $31 \div 4$
- (5) $33 \div 9$
- (6) $42 \div 5$
- (7) $54 \div 8$
- (8) $68 \div 7$

1 6点×8 /48点

(1)	
(2)	
(3)	
(4)	
(5)	
(6)	
(7)	
(8)	

2 次の問いに^と答えなさい。

(1) 次の計算を^としなさい。

- ① $33 \div 5$
- ② $79 \div 8$

(2) (1)でもとめた^{しき}答えのたしかめの^{しき}式を書きなさい。

2 6点×4 /24点

(1)	①		②	
(2)	①			
	②			

3 19 このいちごを4人で同じ数ずつ分けると、1人何こずつ分けられて、何こあまりますか。

3 /14点

こずつ 分けられて
こあまる

4 80cmのリボンを、9cmずつ切り分けていくと、何本できて、何cmあまりますか。

4 /14点

本できて
cmあまる



3年音読カード

なまえ

よい◎ ふつう○ もうすこし△

月 日	読んだところ	、やに 気をつけて	大きなこえで	ゆっくり読む	おうちの人の サイン
/	しゅくだい：里山は、未来の風景 P92～94 三行目				
/	しゅくだい：里山は、未来の風景 P94四行目～95				
/	しゅくだい：里山は、未来の風景 P96～97				
/	しゅくだい：里山は、未来の風景 P98～99				
/	しゅくだい：里山は、未来の風景 P100～さいご				
/	ここまでがしゅくだいです。ここからは、自由音読です。				
/					
/					
/					
/					
/					

先生のサイン

西大和学園補習校三年
漢字テスト

12 名前	
①	しごと
②	としょかん
③	ごちようめ
④	みずうみのしゃしん
⑤	ひろいやかた
⑥	びわこ
⑦	まなつ
⑧	かんじを うつす
⑨	そうだん
⑩	ばんついつちよう

2015年9月12日テスト

西大和学園補習校三年
漢字テスト

12 名前	
①	しごと
②	としょかん
③	ごちようめ
④	みずうみのしゃしん
⑤	ひろいやかた
⑥	びわこ
⑦	まなつ
⑧	かんじを うつす
⑨	そうだん
⑩	ばんついつちよう

算数 前きまとめテスト

9月12日

とく点

3年 組 名前

① わり算をしましょう。

各⑤点

① $12 \div 3$

② $72 \div 8$

③ $16 \div 5$

④ $67 \div 8$

⑤ $35 \div 6$

② 次の数を100倍した数を書きましよう。

各⑤点

① 35 ()

② 777 ()

③ 次の数を10でわった数を書きましよう。

各⑤点

① 50 ()

② 270 ()

③ 980 ()

④ 次の計算をしましょう。

各⑤点

①
$$\begin{array}{r} 251 \\ + 497 \\ \hline \end{array}$$

②
$$\begin{array}{r} 7947 \\ + 1929 \\ \hline \end{array}$$

③
$$\begin{array}{r} 391 \\ - 39 \\ \hline \end{array}$$

④
$$\begin{array}{r} 1000 \\ - 246 \\ \hline \end{array}$$

⑤
$$\begin{array}{r} 6230 \\ - 2875 \\ \hline \end{array}$$

⑤ 次の に等号、不等号を書きましょう。 各①点

① 20000 30000

② 700 万 200 万 + 500 万

③ 10000000 7000000

④ 123456789 987654321

⑤ 1 億 - 7000 万 2500 万

⑥ 次の問題に答えましょう。 各①点

① 1000 を 23 こあつめた数は です。

② 34000 は 1000 を こあつめた数です

③ 16000 は 20000 より 小さい数です。

④ 16000 は 10000 と をあわせた数です。

7 次の計算が正しいければ○、まちがってれば正しい答えを書きましょう。

各⑤点

① $13 \div 3 = 3$ あまり 2

()

② $29 \div 6 = 4$ あまり 5

()

③ $36 \div 7 = 5$ あまり 2

()

④ $26 \div 5 = 4$ あまり 6

()


⑤ $89 \div 9 = 9$ あまり 8

()

8 次の問題に答えましょう。 各⑤点

①トランプが54まいあります。7人で同じ数ずつ分けると、一人分は何まいになって、何まいあまるでしょう。

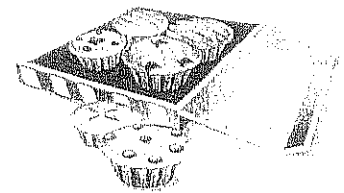
式 _____



答え _____


②カップケーキが22こあります。はこの中に、カップケーキを4こずつ入れていきます。カップケーキを全部入れるには、はこはいくつあればよいでしょう。

式 _____



答え _____

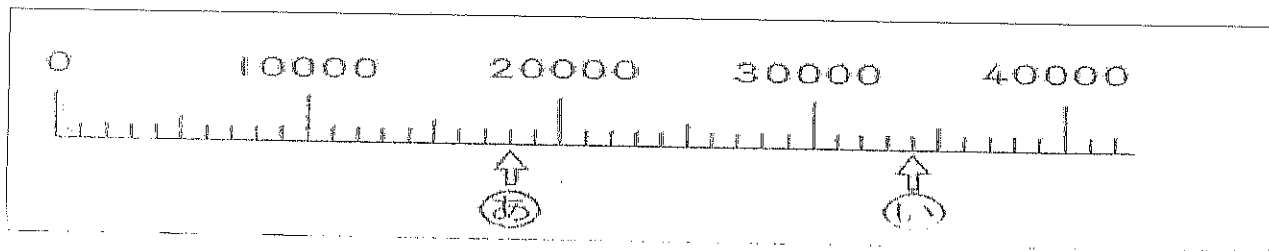
- ③ 花が33本あります。この花を5本ずつたばにして、花たばを作ります。
5本ずつの花たばはいくつできますか。



式 _____

答え _____

- 9 すうちよくせん 数直線で、次の問題に答えましょう。 各⑥点

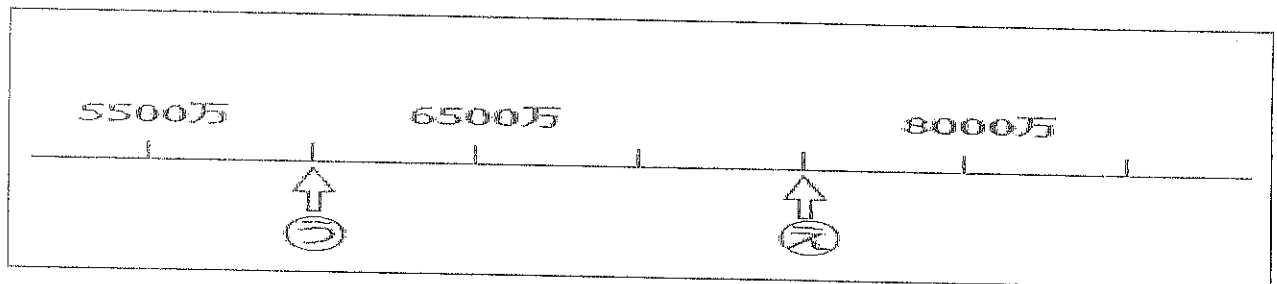


- ① 数直線のいちばん小さい1めもりはいくつですか。

- ② (あ)(い)のめもりが表す数を書きましょう。

(あ) _____

(い) _____



- ③ (う)(え)のそれぞれの数字を読みましょう。

(う) _____

(え) _____

3年生 前期まとめテスト

名前

国語 100

① 次の——の言葉では、漢字の音読みとくん読み、どちらがつかわれていますか。音読みには○を、くん読みには×を書きましょう。

① 三頭の馬 ()

② 真っ白な雪 ()

③ 開店じゅんぴ ()

④ たぬきの糸車 ()

⑤ なかよし親子 ()

⑥ 朝食を食べる ()

② □にあう符号を、□からえらんで書きましょう。

母が□

□ぞいりようは、とうふ□ねぎ・みそだよ□

と、教えてくれました□

、(読点) ・(中点) 。(句点) 「 」(かぎ)

③ つづく言葉を、——でつなぎましょう。

○つばめのひなが、大きく口を。 ・ふる。

○いぬがよるこんで、しっぽを。 ・開ける。

○飛んできた鳥が弟の頭を。 ・のばす。

○べいの中を見ようと、首を。 ・かすめる。

④ 次の言葉のうち、国語じてんで見出し語として先に出ているほうに、○をつけましょう。

1、()さか ()とかげ 2、()カヌラ ()かめ 3、()ホテル ()ホテル 4、()まち ()マッチ