

## 今週の学習内容／宿題と次回の学習予定

今週 (2月13日) 学習内容	国語①	学年末テスト
	国語②	学年末テスト
	算数	学年末テスト
	生活	自分まとめ
来週 2月20日 学習内容	国語①	「なかまのことばとかんじ 1/1」
	国語②	「二年生の漢字総復習」
	算数	図を使って考えよう
	生活	雛飾り (持ち物: はさみ、のり、テープ、 折り紙(あれば千代紙)、クレヨン)
宿題	国語①	<ul style="list-style-type: none"> <li>● 音読カード 96 ページ初めから 97 ページ終わりまで</li> <li>● 音読カード 98 ページ初めから終わりまで</li> <li>● 音読カード 100 ページ初めから 101 ページ終わりまで</li> <li>● 音読カード 102 ページ初めから 103 ページ 5 行目まで</li> <li>● 音読カード 103 ページ 6 行目から 105 ページ 4 行目まで</li> <li>● 音読カード 105 ページ 5 行目から 106 ページ終わりまで</li> <li>● ドリルの玉様 68 ページから 69 ページまで (終わっていない人のみ)</li> <li>● 絵日記</li> </ul>
	国語②	「かん字の学しゅう」(下) で、やっていないページ
	算数	● かけ算カードをしっかりと

- 来週的生活科の持ち物— はさみ、のり、テープ、折り紙 (あれば千代紙)、クレヨン

保護者の皆さま、子どもたちのテスト勉強にご協力いただきまして  
ありがとうございました！







# 2年音読カード

よい◎ ふつう○ もうすこし△

1  
2  
3  
4  
5  
6

日	読んだところ	、やに 気をつけて	大きなこえで	ゆっくり読む	おうちの人の サイン
/	しゅくだい: してい音読①				
/	しゅくだい: してい音読②				
/	しゅくだい: してい音読③				
/	しゅくだい: してい音読④				
/	しゅくだい: してい音読⑤				
/	しゅくだい: してい音読⑥		..		

ここまでが、しゅくだいです。ここから下は 自由音読 (じゅう おんどく)

/					
/					
/					
/					

先生のサイン



# 2年九九カード

なまえ

月 日	れんしゅう 練習した段	全問正かい◎ 1-3問まちがえた○ 5問い上まちがえた△	おうちの人の サイン
/	しゅくだい①  だん の段		
/	しゅくだい②  だん の段		
/	しゅくだい③  だん の段		
/	しゅくだい④  だん の段		
/	しゅくだい⑤  だん の段		
ここまでが、しゅくだいです。ここから下は 自由練習（じゅうれんしゅう）			
/			
/			
/			

2014.12月より

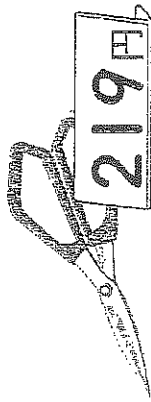
先生のサイン

くみ 名前

100

1 あわせて <sup>ちんせん</sup>何円ですか。

式・答え各5点〔10〕



しき

答え( )

2 <sup>こうえん</sup>公園におとなが67人、子どもが152人います。ちがいは何人ですか。

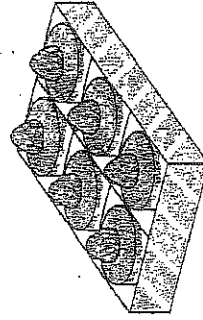
式・答え各5点〔10〕

しき

5 ケーキが6こずつ入ったはこが、4はこあります。ケーキは、ぜんぶで何こありますか。

式・答え各10点〔10〕

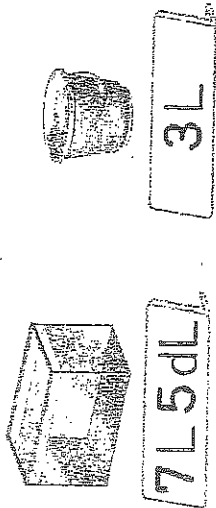
しき



答え( )

3 水そうに 7L 5dL, バケツに 3L の水が入ります。水のかさのちがいは何L 何dL ですか。

式・答え各5点 [10]

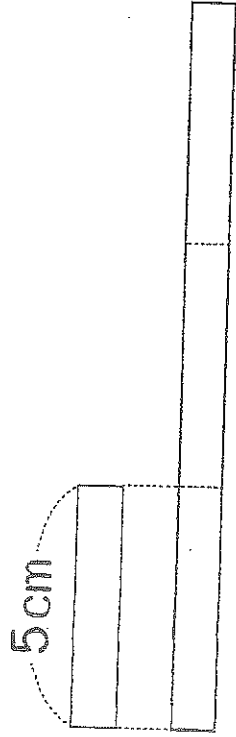


しき

答え ( )

4 5cm のテープの 3 ばいの長さは何cm ですか。

式・答え各5点 [10]



しき


答え ( )

6 子どもが 5 人います。1 人に あめを 8 こずつくばります。あめは、ぜんぶで何こいらいますか。

式・答え各10点 [20]

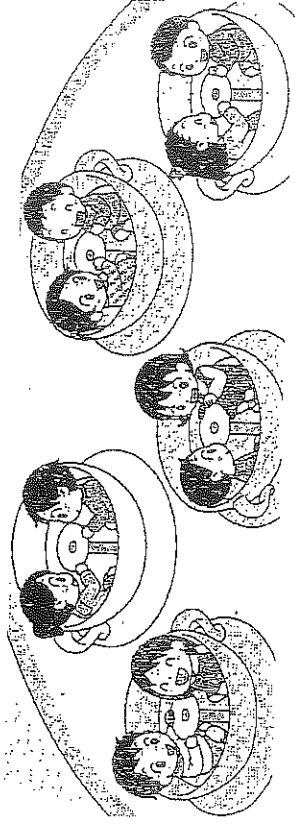
しき

答え ( )



7 子どもが 2 人ずつ のった のりものが、5 台 あります。子どもは、ぜんぶで何人 いますか。

式・答え各10点 [20]



しき

答え ( )

西大和学園補習校 2年算数

学年まつまじめテスト


くみ 名前

100

1 下の時計を見て答えましょう。

① 今の時こく

今の時こく



② 20分前の時こく

③ 20分後の時こく

2 つぎの数を数字で書きましょう。

① 1000を4こ、10を8こあわせた数

3 けいさん 計算をしましょう。

① 37 + 56 = 6738

③ 82 - 43 = 45126

各5点[15]

各5点[10]

各5点[20]

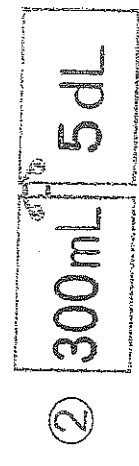
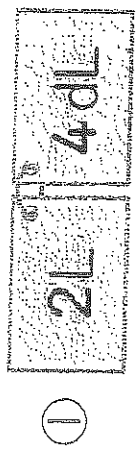


② 100を37こあつめた数

( )

③ かさの多いほうに○をつけましょう。

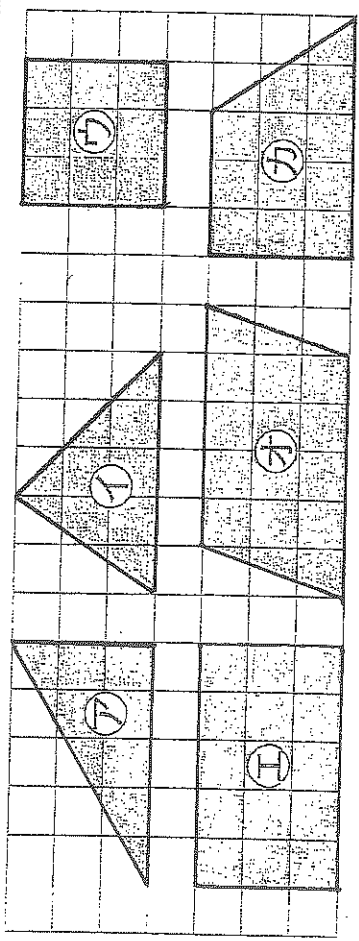
各5点(10)



( ) ( ) ( ) ( )

④ 長方形, 正方形, 直角三角形はどれですか。ア~カで答えましょう。

各5点(15)



▶ 長方形 ( ) ▶ 正方形 ( ) ▶ 直角三角形 ( )

⑤ かけ算をしましょう。

各5点(30)

① 3×5

② 8×7

③ 6×6

④ 4×8

⑤ 9×3

⑥ 7×9

名前

くみ

おにごっこは、どうぐがなくても、みんなのできるあそびです。おにごっこには、さまざまなあそび方があります。どんなあそび方があるのでしょうか。なぜ、そのようなあそび方をするのでしょうか。

あそび方の一つに、「てつぼうよりおこくに にげてはだめ。」など、にげてはいけないところをきめるものがあります。にげる人が、どこへでも行くことができたら、おには、つかまえるのがたいへんです。同じ人が、ずっと、おにをすることになるかもしれません。にげてはいけないところをきめることで、おには、にげる人をつかまえやすくなります。

また、「じめんにかいた丸の中に入れれば、つかまらない。」「木にさわって入れれば、つかまらない。」のように、にげる人だけが入れるところを作ったり、つかまらないときをきめたりするあそび方もあります。おにになった人の足がはやければ、にげるひとはみんな、すぐにつかまってしまいます。このようにきめることで、にげる人がかんたんにはつかまらないようになります。そして、つかれた人も、走るのがにがてな人も、すぐにはつかまらずに、あそびことができます。

「おにごっこ」もりたはるみ(和村園書「てつ」二年生版(2011))

① なんのあそび方について 書かれていますか。 [10]

--	--	--	--	--

のあそび方

② 「にげてはいけないところをきめる」あそび方について答えましょう。 [各5]

① あそび方の一つに、なにがありますか。

「てつぼうより 

--	--	--

 に

--	--	--

 はだめ。」

② このようにきめるのはなぜですか。

からあてはまることばをさがして書きましょう。

--	--

 がにげる人を

--	--	--	--

 やすくなるから。

③ 上の文じょうには、どんなあそび方が書かれていますか。二つに○をつけましょう。

- ( ) にげる人の気持ち考えたあそび方。
- ( ) 同じ人がずっとおにをするあそび方。
- ( ) おにの気持ち考えたあそび方。
- ( ) どんどんおにがふえるあそび方。

[各5]



