

たいよう

西大和学園補習校アーバイン校舎

2016年2月27日 第4学年学級通信

佐藤 亜矢子

- 学習の確認 -

今週 2/27の 学習内容	国語①	ほうこくする文章を書こう
	国語②	4年生の漢字総復習
	算数	4年生のまとめ(4)
	社会	都道府県かるたを使う
来週 3/5の 学習予定	国語①	報告する文章を書こう(発表)
	国語②	4年生の漢字総復習/漢字の復習テストがあります。
	算数	4年生のまとめ(5)
	社会	一年のまとめ(都道府県)
今週の 宿題	国語①	○絵日記 (41) 「4年生でがんばったこと、5年生でがんばりたいこと」 ○指定音読 ○ドリルの王様
	社会	ドリルの王様 (27) (28) ※授業では扱っていない内容ですが、ドリルにある資料をもとにしたり、言葉の意味を考えたりしながら取り組んでみてください。
	算数	○算数ドリル23、24
	国語②	「漢字の学習」下、 最後までやっていないページをやってくる。 漢字テスト勉強

 お知らせ

○卒園式・卒業式・3月19日の校時表についてのお知らせを保護者ページへ配信いたしました。
なお、19日は45分授業となります。ご確認をお願いいたします。



4年生音読カード



2/27

なまえ

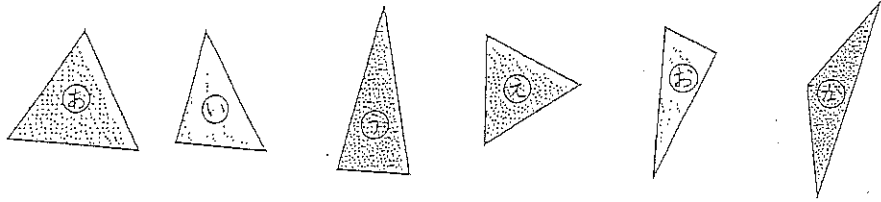
とてもよい◎ よい○ もうすこし△

月 日	読んだところ	間のとりに方に注意 して	よくようをつけて	相手を意きして	おうちの人のサイン
/	指定音読① 2/27 国語の授業中に 作成した文章を読む練習				
/	指定音読②				
/	指定音読③				
/	指定音読④ 初雪のふる日 p104 - p108				
/	指定音読⑤ 初雪のふる日 p109 - p112				
/	指定音読⑥ 初雪のふる日 p113 - p118				
ここまでがんばろう！ちりもつもれば山となる！毎日少しずつチャレンジしよう★					
/	自由音読①				
/	自由音読②				
/	自由音読③				
/	自由音読④				

先生のサイン

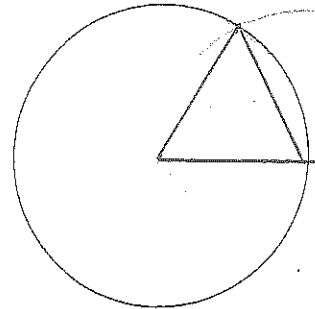
① いろいろな三角形 下の三角形を調べ、二等辺三角形には○を、
正三角形には△を、どちらでもないものには×をつけましょう。

各10 (60)



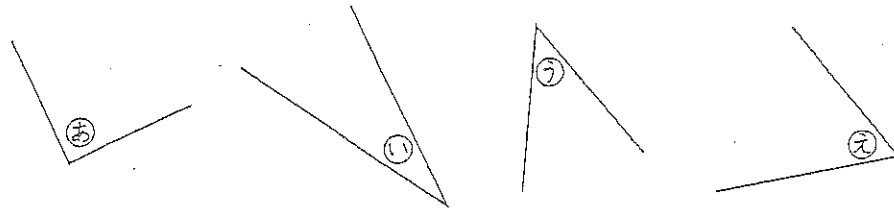
(△)(×)(○)(△)(○)(○)

② 正三角形のかき方 右の図は、半径が
2cmの円です。この円を使って、1
辺の長さが2cmの正三角形を1つか
きましょう。



(20)

③ 角の大きさ 角の大きいじゅんに番号をつけましょう。



(1)(4)(3)(2)

各5 (20)

1 計算をしましょう。

① $15 \times (12 - 8) = 60$

② $48 \div 2 + 14 \times 3 = 66$

③ $1\frac{1}{5} + 2\frac{3}{5} = 3\frac{4}{5}$

④ $2\frac{1}{7} - \frac{5}{7} = 1\frac{3}{7}$

⑤
$$\begin{array}{r} 16 \\ 4 \overline{) 64} \\ \underline{60} \\ 24 \\ \underline{24} \\ 0 \end{array}$$

⑥
$$\begin{array}{r} 26 \\ 27 \overline{) 702} \\ \underline{54} \\ 162 \\ \underline{162} \\ 0 \end{array}$$

⑦
$$\begin{array}{r} 4.35 \\ \times \quad 6 \\ \hline 26.10 \end{array}$$

小数点以下のさいごの0は消します。

⑧
$$\begin{array}{r} 2.7 \\ 36 \overline{) 97.2} \\ \underline{72} \\ 252 \\ \underline{252} \\ 0 \end{array}$$

2 筆算をしましょう。

① $17.4 + 0.95$ ② $3 - 0.026$

$$\begin{array}{r} 17.4 \\ + 0.95 \\ \hline 18.35 \end{array}$$

$$\begin{array}{r} 3.000 \\ - 0.026 \\ \hline 2.974 \end{array}$$

3 次の分数を、^{しんぶんすう}真分数、^{かぶんすう}仮分数、^{たいぶんすう}帯分数に分けましょう。

$1\frac{3}{7}$ $\frac{6}{5}$ $\frac{8}{9}$ $\frac{4}{4}$ $2\frac{2}{3}$ $\frac{5}{6}$

▶ 真分数 ($\frac{8}{9}$ と $\frac{5}{6}$)

▶ 仮分数 ($\frac{6}{5}$ と $\frac{4}{4}$)

▶ 帯分数 ($1\frac{3}{7}$ と $2\frac{2}{3}$)

仮分数を帯分数か整数に、帯分数を仮分数になおしましょう。

① $\frac{9}{4}$ ② $\frac{18}{6}$ ③ $2\frac{5}{9}$
 ($2\frac{1}{4}$) (3) ($\frac{23}{9}$)

4 次の長方形や正方形の面積を求めましょう。

① たてが18cm、横が12cmの長方形

式 $18 \times 12 = 216$ ^{95%}

答え (216cm^2) ^{90%}

② 1辺が30mの正方形

式 $30 \times 30 = 900$ ^{95%}

30×4という間違えが多かったです。

答え (900m^2) ^{95%}

③ たてが7km、横が13kmの長方形

式 $7 \times 13 = 91$ ^{95%}

答え (91km^2) ^{90%}

5 76本のジュースを1箱に12本ずつつめると、何箱できて、何本あまりますか。

式 $76 \div 12 = 6 \text{あまり} 4$ ^{65%}

答え (6箱 できて、 4本 あまる。) ^{80%}

2.25Lのウーロン茶のうち、0.28L飲みました。ウーロン茶は何L残っていますか。

式 $2.25 - 0.28 = 1.97$ ^{80%}

答え (1.97L) ^{75%}

図かんのねだんは2100円で、物語の本のねだんは600円です。図かんのねだんは、物語の本のねだんの何倍ですか。

式 $2100 \div 600 = 3.5$ ^{80%}

答え (3.5倍) ^{75%}

長さが2.4mのテープを18本使います。テープは全部で何m使いますか。



式 $2.4 \times 18 = 43.2$ ^{85%}

答え (43.2m) ^{80%}

重さが8.95kgの荷物が6こあります。全部で何kgになりますか。

式 $8.95 \times 6 = 53.7$ ^{85%}

答え (53.7kg) ^{50%}

ある店では、0.6L入りの油のびんを1日に12本使います。7日間では油を何L使いますか。



式 $0.6 \times 12 = 7.2$ ^{90%}

$7.2 \times 7 = 50.4$

答え (50.4L) ^{75%}

28人分のサンドイッチを買ったら、8624円かかりました。1人分はおよそいくらになるかを見積もりましょう。

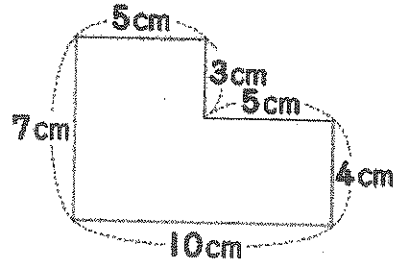
式

$9000 \div 30 = 300$ ^{85%}

8624 ÷ 28 = 308円でも可

答え ((約) 300円) ^{80%}

6 下のような形の面積を求めましょう。



式

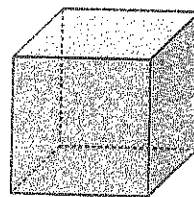
$7 \times 10 - 3 \times 5 = 55$ ^{85%}

- 別解 ① $7 \times 5 + 4 \times 5 = 55$
② $3 \times 5 + 4 \times 10 = 55$

※それぞれ分解式でも正答。

答え (55cm²) ^{75%}

7 下の立方体について答えましょう。




① 面はどんな形をしていますか。

答え (正方形) ^{90%}

② 面、辺、頂点の数は、それぞれいくつありますか。

▶ 面 (6つ) ^{90%}

▶ 辺 (12) ^{90%} ▶ 頂点 (8つ) ^{90%}



らじつのはな

066~101

名前

組

番

mm277a404

漢字を書きまじりな。 (~~~~は、送りがなも書きまじりな。)

① 本の ^{さいしよ} の のページ。

② ^{せんそう} と平和。

③ 米の ^{はいきゆう} 。

④ ^{ひこうき} を見る。

⑤ ^{ほうたい} をまく。

⑥ 赤ちゃんが ^{なぐ} 。

⑦ ^{いざまし} 声をする。

⑧ ^{けいたい} が列になって歩く。

⑨ ^{いちりん} のコケシ。

⑩ ^{とくべつ} のいちねん。

おひらねひだじねあまじり。

4年 国 ② 2月27日 2016

国語

だれもが関わり合える
ものに

102~120

なまえ

組

番

mm271ar05

漢字を書きまじらう。

① ^{りょう} ^り
を作る。

② 自分の ^か ^{だい}
をもつ。

③ 数が ^ふ ^{そく}
する。

④ ^き ^{かい}
化が進む。

⑤ ^{べん} ^り
な道具を発明する。

⑥ 家の ^{ひょう} ^{さつ}
。


⑦ ^{えい} ^{かい} ^わ
を習う。

⑧ 船での長い ^{こう} ^{かい}
を終える。

⑨ ^き ^{ぼう}
にもえる。

⑩ テストに ^し ^{めい}
を書く。

おひ一度たしかめまじらう。



一人おね

□4~33

名前

組

番

mm27tar406

漢字を書きまじりて。(~~~~は、送りがないも書きまじりて。)

① 気持ちが ^{くん} ^か する。

② 花びらを ^{ちら} ^す 。

③ 雨がふり ^つ ^つ ^く 。

④ おまけが ^つ ^く 。

⑤ 木のえだを ^お ^る 。

⑥ ^ひ ^る ^め ^し ^を ^食 ^べ ^る 。

⑦ 公園の ^ま ^つ の木。

⑧ 川の向こう ^が ^わ 。

⑨ 明かりが ^さ ^す 。

⑩ 土を ^か ^た ^め ^る 。

わのー座だじがめまじりて。

国語

ひとつの花

CD 66-101
名前

組番

mm271a4s01

漢字を書きましょ。 (は、送りがなも書きましょ。)

① 本の **最初** のページ。

② **戦争** と平和。

③ 米の **配給**。

④ **飛行機** を見る。

⑤ **包帯** をまく。

⑥ 赤ちゃんが **泣く**。

⑦ **勇ましい** 声がする。

⑧ **兵隊** が列になつて歩く。

⑨ **一輪** のコスモス。

⑩ **特別** のごちそう。

わくろおひだじかめましょ。

国語

だれもが関わり合える
よこじ

CD 102~120
なまえ

組 番

漢字を書きまじめて。

① 料理りょうりを作る。

② 自分の課題かだいをもつ。

③ 数が不足ふそくする。

④ 機械きかい化が進む。

⑤ 便利べんりな道具を発明する。

⑥ 家の表札ひょうさつ。

⑦ 英会話えいかいわを習う。

⑧ 船での長い航海こうかいを終える。

⑨ 希望きぼうにもえる。

⑩ テストに氏名しめいを書く。

おこし一度だけかめまじめて。

国語

こんせつね

044~33

名前

組

番

mm271a4s06

漢字を書きまじよう。(~~~~は、送りがなをお書きまじよう。)

① 気持ちが ^{へん}変 ^か化 する。

② 花びらを ^ち散 ^らす。

③ 雨がふり ^つ続 ^く。

④ おまけが ^つ付 ^く。

⑤ 木のえだを ^お折 ^る。

⑥ ^ひ昼 ^め飯 を食べる。

⑦ 公園の ^ま松 の木。

⑧ 川の向こう ^が側 。

⑨ 明かりが ^さ差 ^す。

⑩ 土を ^か固 ^ため ^める。

むつ一度たしがめまじよう。