

ほしゆうこう 1ねんせい

なつやすみのしゅくたい

さんすう



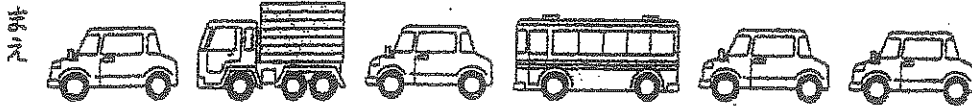
なまえ

いちねんせい さんすう

なつやすみのしゅくだい

なまえ

1 まえから 5 だいの じどうしゃを ○ で かこみましょう。




まえから 4 だいの じどうしゃを ○ で かこみましょう。




2 ひろしさんは まえから 6 ばんめです。

うしろから かぞえると なんばんめですか。



ばんめ

3 えをみてこたえましょう。



(1) いぬは うえから
なんばんめですか。

ばんめ

(2) にわとりは したから
なんばんめですか。

ばんめ

4 □に あう かずを かきなさい。

(1) 4は 3と □

(2) 7は 2と □

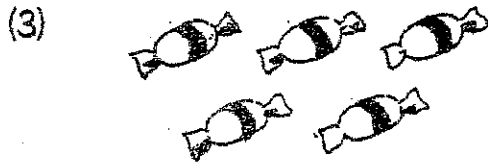
(3) 9は □と 4

(4) 10は □と 8

(5) 5と □で 6


(6) □と 3で 7

5 あと いくつで 10に なりますか。

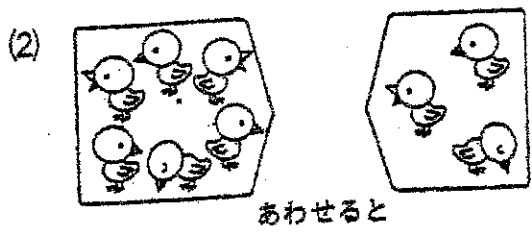


(1)
(2)
(3)

6 しきにかきましょう。



しき



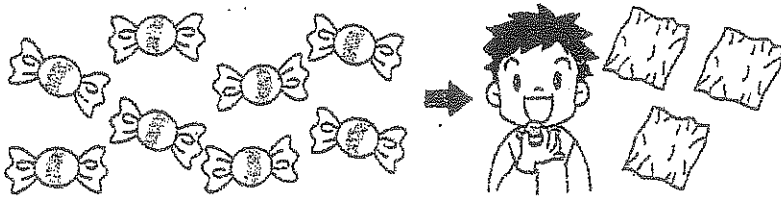
しき

7 いぬが 7ひき, ねこが 4ひき います。
 どちらが なんびき おおいてしょうか

しき

こたえ が びき おおい。

8 に かずや ことばをいれて, 8-3の しきになる おはなしに
 しましょう。



あめが こ あります。 こ たべました。

は なんこになりましたか。

9 こたえが 3になる ひきざんの しきをつくりましょう。

(1) - = 3

(2) - = 3

(3) - = 3

10 しきにあうように, おさらに りんごの えをかきましょう。



(しき) 0 + 3 = 3

11 たしざんを しましょう。

(1) $5+1$

(2) $4+4$

(3) $2+3$

(4) $1+6$

(5) $3+5$

(6) $8+2$

(7) $6+0$

(8) $3+4$

(9) $7+2$

(10) $9+1$

12 しきに かきましょう。

(1) 5まい あります。 2まい つかうと



のこりは なんまい

しき

(2) 



ちがいは いくつ

しき

13 ひきざんを しましょう。

(1) $7-1$

(2) $3-2$

(3) $8-4$

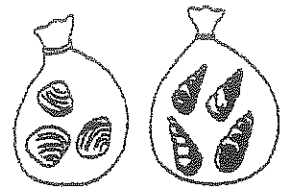
(4) $5-0$

(5) $9-2$

(6) $10-3$


14 ふくろの かいを あわせると、なんこに なり
ますか。しきも かきなさい。

しき	こたえ
	こ




15 じゅうすを 2つ のみました。のこりは いく
つですか。しきも かきなさい。

しき	こたえ
	つ




16 さかなが 5ひき います。
4ひき ふえると なんびきに なりますか。
しきも かきなさい。

しき	こたえ
	ひき



17 にわとりが 6わ、ひよこが 4わ います。
ちがいは なんわですか。しきも かきなさい。

しき	こたえ
	わ




18 7ほんの えんぴつを、5にんの
こどもに、1ほんずつ くばります。えんぴつは
なんほん のこりですか。しきも かきなさい。

しき	こたえ
	ほん



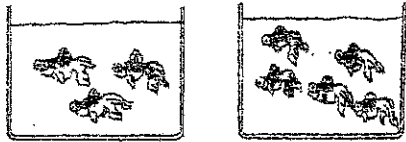
5

19 おはじきを 6こ もって います。おねえさんから 2こ もらいまし
た。おはじきは ぜんぶで なんこに なりましたか。しきも かきなさい。



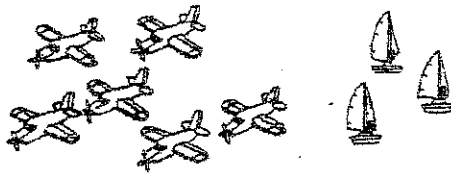
しき	こたえ
	こ

20 きんぎょを 3びき とりました。また、5びき とりました。きんぎょ
は みんなで なんびきに なりましたか。しきも かきなさい。




しき	こたえ
	ひき

21 よつとは ひこうきより いくつ すくないですか。しきも かきなさい。




しき	こたえ
	つ

22 たまいれを しました。



1かいめ



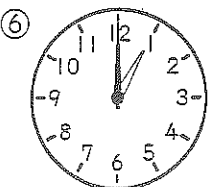
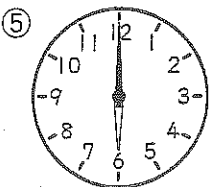
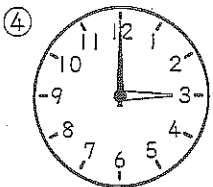
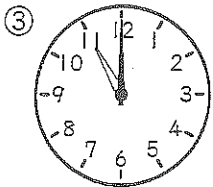
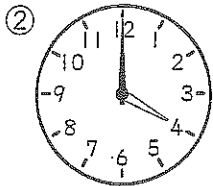
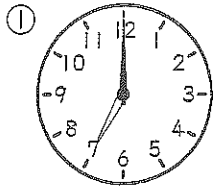
2かいめ

(1) 1かいめと 2かいめに はいった かずは
ぜんぶで なんこですか。しきも かきなさい。

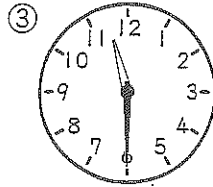
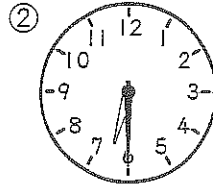
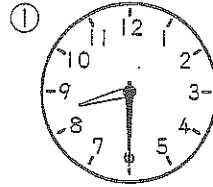
	しき
(1)	こたえ
	こ
	しき
(2)	こたえ
	こ

(2) 1かいめに はいった かずは、2かいめよ
り なんこ おおいですか。しきも かきなさい。

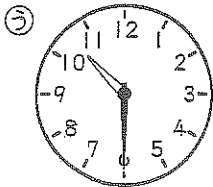
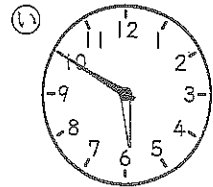
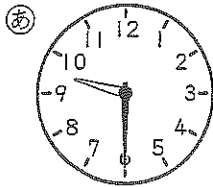
① なんじですか。



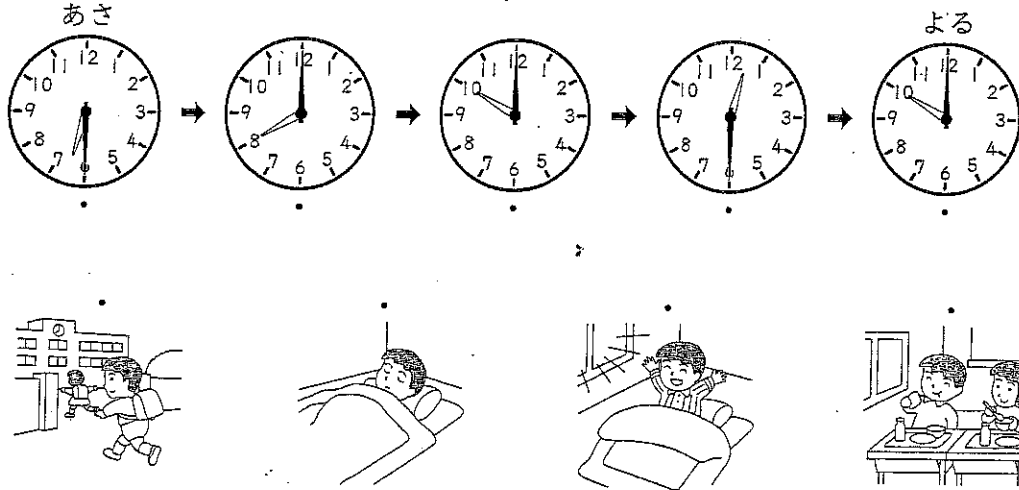
② なんじはんですか。



③ 10じはんの とけいは
どれですか。




① したの えは ゆうたさんの 1 にちです。えの ようすと とけいが
あう ものを — で むすびましょう。




② とけいの ながい はりを
かきましょう。

① 7じはん



② 5じ

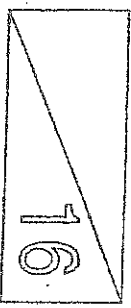


おもしろい数字のしくみ

たじろ たじろ にち やりかた なまえ <れい>

+	0	1	2	3
4	4	5	6	7
5	5	6	7	8
6				
7				

- ① たての数字とよこの数字が
違うかるとして、けい
をしよう。
- ② □のおおには、こたえだけ
ていいて。

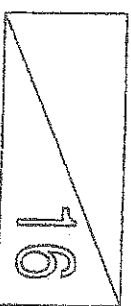


おもしろい数字のしくみ

たじろ たじろ にち やりかた なまえ <れい>

-	9	7	6	8
4	5	3	2	4
5	4	2	1	3
1				
2				

- ① うえの数字から、よこ数字をひい
て、こたえをかきましょう。

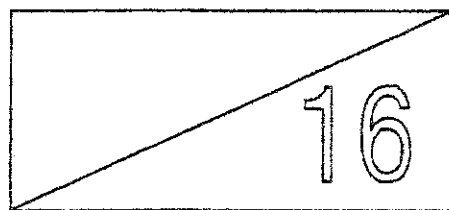


おもしろけいさんれんしゅう

がつ 日にち

なまえ

+	0	1	2	3
4				
5				
6				
7				



おもしろけいさんれんしゅう

がつ 日にち

なまえ

+	3	5	2	1
4				
5				
1				
2				

16

おもしろけいさんれんしゅう

がつ 日にち

なまえ

+	1	2	3	4
5				
3				
6				
4				

16

おもしろけいさんれんしゅう

がつ

にち

なまえ

+	6	5	4	7	8
0					
1					
2					
3					X
4				X	X

22

おもしろけいさんれんしゅう

がつ

にち

なまえ

+	0	2	1	3	4
6					
3					
5					
4					
2					

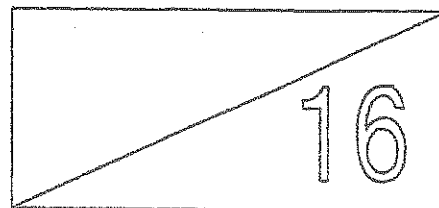
25

おもしろけいさんれんしゅう

がつ にち

なまえ

—	9	7	6	8
4				
5				
1				
2				

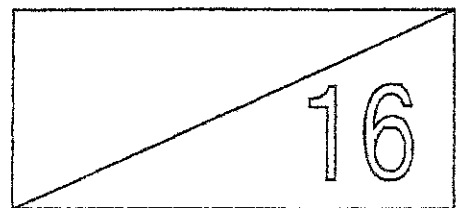


おもしろけいさんれんしゅう

がつ 日にち

なまえ

—	9	10	8	7
6				
4				
3				
5				



おもしろけいさんれんしゅう

がつ

にち

なまえ

—	10	7	8	9	6
1					
3					
2					
4					
5					

25

こたえのページ

おうちの方へ

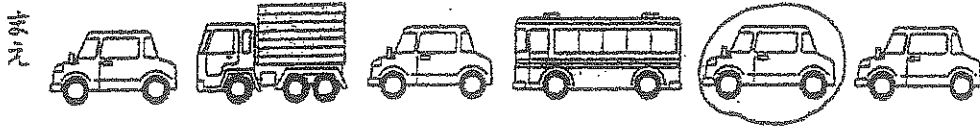
このページを見て、答えをチェックし、丸付けをよろしく

お願いします。


なつやすみのしゅくだい

こたえ

1 まえから 5 だいの じどうしゃを ○ で かこみましょう。




まえから 4 だいの じどうしゃを ○ で かこみましょう。




2 ひろしさんは まえから 6 ばんめです。

うしろから かぞえると なんばんめですか。



3 ばんめ

3 えをみて こたえましょう。



(1) いぬは うえから
なんばんめですか。

3 ばんめ

(2) にわとりは したから
なんばんめですか。

4 ばんめ

4 □に あう かずを かきなさい。

(1) 4は 3と

(2) 7は 2と

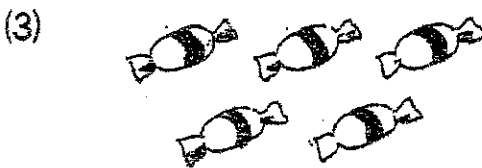
(3) 9は と 4

(4) 10は と 8

(5) 5と で 6


(6) と 3で 7

5 あと いくつで 10に なりますか。

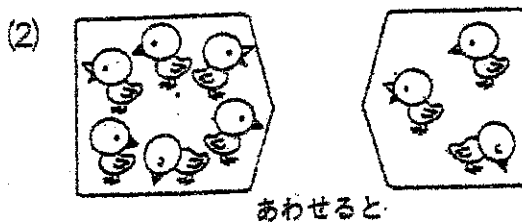


(1)	6
(2)	3
(3)	5

6 しきにかきましょう。



しき



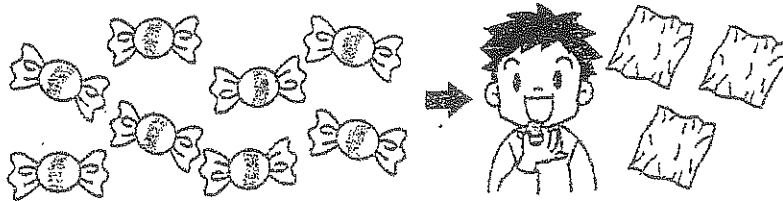
しき

7 いぬが 7ひき, ねこが 4ひき います。
 どちらが なんびき おおいてしょうか

しき $7 - 4 = 3$

こたえ $いぬ$ が 3 びき おおい。

8 \square に かずや ことばをいれて, $8-3$ の しきになる おはなしに
 しましょう。



あめが 8 こ あります。 3 こ たべました。

$のこり$ は なんこに なりましたか。

9 こたえが 3になる ひきざんの しきをつくりましょう。

(例) $5 - 2 = 3$

(2) $7 - 4 = 3$

(3) $3 - 0 = 3$

10 しきに あうように, おさらに りんごの えをかきましょう。



(しき) $0 + 3 = 3$

11 たしざんをしましょう。

(1) $5+1=6$

(2) $4+4=8$

(3) $2+3=5$

(4) $1+6=7$

(5) $3+5=8$

(6) $8+2=10$

(7) $6+0=6$

(8) $3+4=7$

(9) $7+2=9$

(10) $9+1=10$

12 しきにかきましょう。

- (1) 5まいあります。2まいつかうと



のこりはなんまい

しき

$$5-2=3$$

- (2) 6 cakes and 5 circles.



ちがいはいくつ

しき

$$6-5=1$$

13 ひきざんをしましょう。

(1) $7-1=6$

(2) $3-2=1$

(3) $8-4=4$

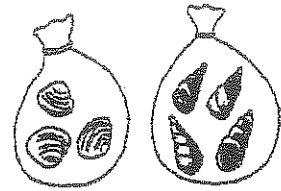
(4) $5-0=5$

(5) $9-2=7$

(6) $10-3=7$


14 ふくろの かいを あわせると、なんこに なりますか。しきも かきなさい。

しき	$3 + 4 = 7$	こたえ	7こ
----	-------------	-----	----



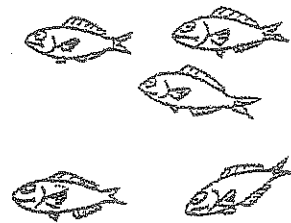
15 じゅうすを 2つ のみました。のこりは いくつですか。しきも かきなさい。

しき	$6 - 2 = 4$	こたえ	4つ
----	-------------	-----	----




16 さかなが 5ひき います。4ひき ふえると なんびきに なりますか。しきも かきなさい。

しき	$5 + 4 = 9$	こたえ	9ひき
----	-------------	-----	-----



17 にわとりが 6わ、ひよこが 4わ います。ちがいは なんわですか。しきも かきなさい。

しき	$6 - 4 = 2$	こたえ	2わ
----	-------------	-----	----




18 7ほんの えんぴつを、5にんの こどもに、1ほんずつ くばります。えんぴつは なんほん のこりですか。しきも かきなさい。

しき	$7 - 5 = 2$	こたえ	2ほん
----	-------------	-----	-----

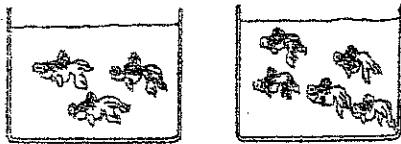


19 おはじきを 6こ もって います。おねえさんから 2こ もらいまし
た。おはじきは ぜんぶで なんこに なりましたか。しきも かきなさい。



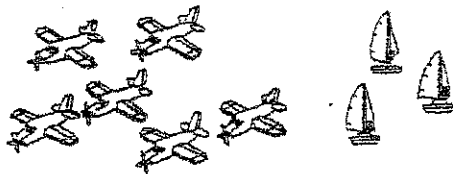
しき	$6+2=8$	こたえ	8こ
----	---------	-----	----

20 きんぎょを 3びき とりました。また、5ひき とりました。きんぎょ
は みんなで なんびきに なりましたか。しきも かきなさい。




しき	$3+5=8$	こたえ	8ひき (びき)
----	---------	-----	-------------

21 よつとは ひこうきより いくつ すくないですか。しきも かきなさい。
(なんそう)




しき	$6-3=3$	こたえ	3つ (そう)
----	---------	-----	------------

22 たまいれを しました。



1かいめ



2かいめ

(1) 1かいめと 2かいめに はいった かずは
ぜんぶで なんこですか。しきも かきなさい。

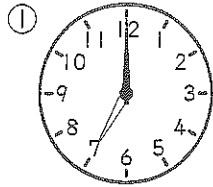
(1)	しき	$6+4=10$
	こたえ	10こ

(2) 1かいめに はいった かずは、2かいめよ
り なんこ おおいですか。しきも かきなさい。

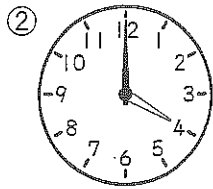
(2)	しき	$6-4=2$
	こたえ	2こ

① なんじですか。

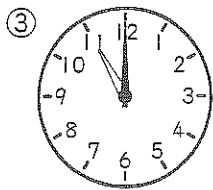
(各10点)



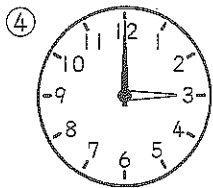
7じ



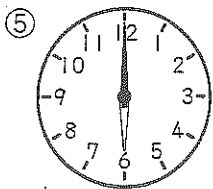
4じ



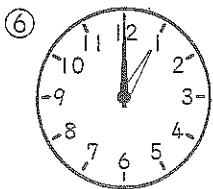
11じ



3じ



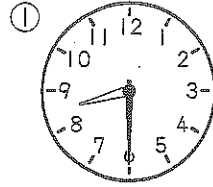
6じ



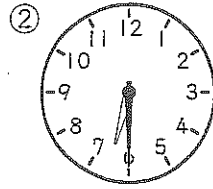
1じ

② なんじはんですか。

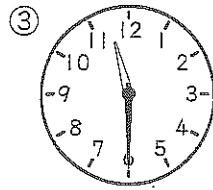
(各10点)



8じはん



6じはん

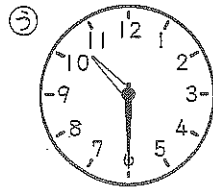
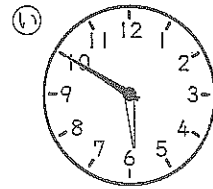
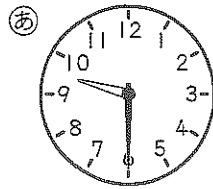


11じはん

③ 10じはんの とけいは

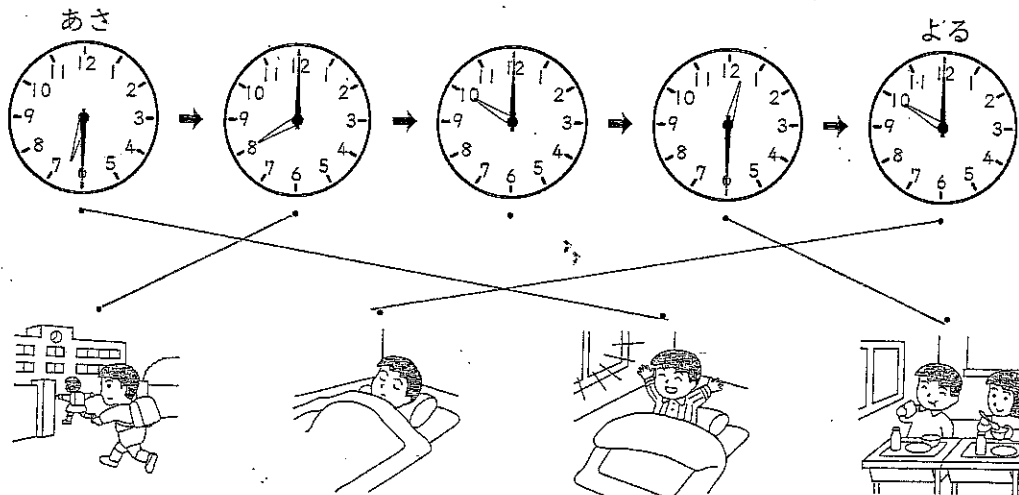
どれですか。

(10点)




⑦

① したの えは ゆうたさんの 1 にちです。えの ようすと とけいが
あう ものを — で むすびましょう。




② とけいの ながい はりを
かきましょう。

① 7じはん



② 5じ




おもしろけいさんれんしゅう

がつ にな

なまえ

+	0	1	2	3
4	4	5	6	7
5	5	6	7	8
6	6	7	8	9
7	7	8	9	10



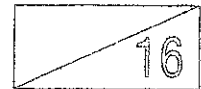
おもしろけいさんれんしゅう

がつ にな

なまえ

解答

+	3	5	2	1
4	7	9	6	5
5	8	10	7	6
1	4	6	3	2
2	5	7	4	3




おもしろけいさんれんしゅう

がつ にな

なまえ

+	1	2	3	4
5	6	7	8	9
3	4	5	6	7
6	7	8	9	10
4	5	6	7	8



おもしろけいさんれんしゅう

がつ にな 　 なまえ

+	6	5	4	7	8
0	6	5	4	7	8
1	7	6	5	8	9
2	8	7	6	9	10
3	9	8	7	10	X
4	10	9	8	X	X



おもしろけいさんれんしゅう

がっ にな なまえ

+	0	2	1	3	4
6	6	8	7	9	10
3	3	5	4	6	7
5	5	7	6	8	9
4	4	6	5	7	8
2	2	4	3	5	6

25

おもしろけいさんれんしゅう

がっ にな

なまえ

-	9	7	6	8
4	5	3	2	4
5	4	2	1	3
1	8	6	5	7
2	7	5	4	6

16

おもしろけいさんれんしゅう

がっ にな

なまえ

-	9	10	8	7
6	3	4	2	1
4	5	6	4	3
3	6	7	5	4
5	4	5	3	2

16

おもしろけいさんれんしゅう

がっ にな なまえ

-	10	7	8	9	6
1	9	6	7	8	5
3	7	4	5	6	3
2	8	5	6	7	4
4	6	3	4	5	2
5	5	2	3	4	1

25



