

6. 10より おおきい かず

20より おおきい かず

□□70~71

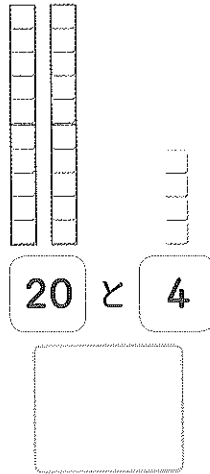
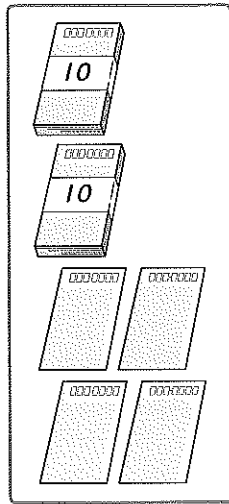
な
ま
え

1つ20でん

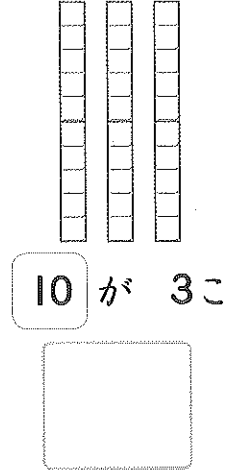
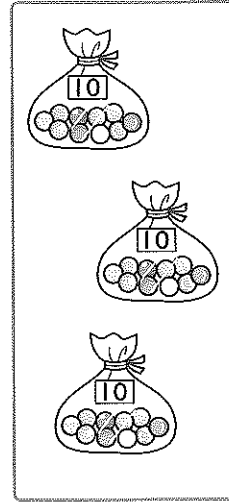
てん

1 かずをかきましょう。

①



②

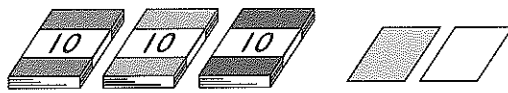


ひんと 20と4でいくつかな。

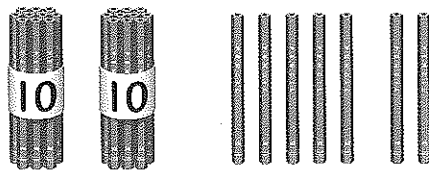


2 かずをかきましょう。

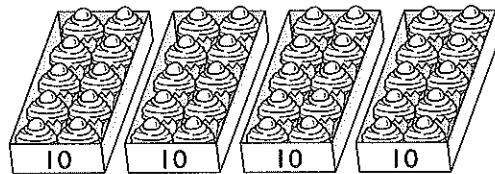
③



④



⑤



6. 10より おおきい かず

たしざんと ひきざん

72~73

な
ま
え

10月10日

てん

1 □ に かずを かきましょう。

① 10 に 2 を たした かず

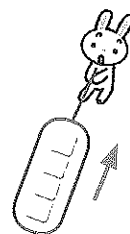
$10 + 2 = \square$

ひんと
10と いくつて
かんがえよう。



② 14 から 4 を ひいた かず

$14 - 4 = \square$



2 けいさんを しましょう。

③ 10 + 6

④ 10 + 9

⑤ 18 - 8

⑥ 11 - 1

⑦ 12 + 2


⑧ 13 + 4

⑨ 17 - 1

⑩ 19 - 7

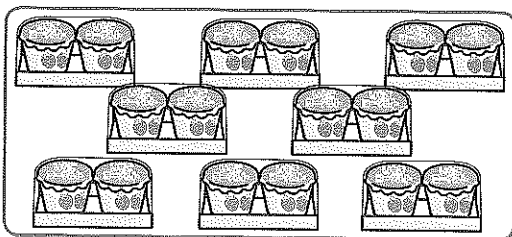
1 かずをかきましょう。

①




こ

②



こ

③



ぽん

2 □にかずをかきましょう。

④

13

14

⑤

17

18

⑥

10

12

14

18

20

3

けいさんをしましょう。

⑦

$10 + 1$

⑧

$17 + 2$

⑨

$15 - 5$

⑩

$18 - 3$