

6 暗算	3年 組 番
	名前

① 暗算で計算しましょう。 (各5点) ③ 暗算で計算しましょう。 (各5点)

- | | |
|----------------|-----------------|
| ① $32+34 = 66$ | ① $100-32 = 68$ |
| ② $64+33 = 97$ | ② $100-57 = 43$ |
| ③ $45+25 = 70$ | ③ $79-23 = 56$ |
| ④ $16+47 = 63$ | ④ $70-28 = 42$ |
| ⑤ $33+58 = 91$ | ⑤ $50-43 = 7$ |
| ⑥ $48+25 = 73$ | ⑥ $92-44 = 48$ |
| ⑦ $23+29 = 52$ | ⑦ $65-58 = 7$ |
| ⑧ $57+24 = 81$ | ⑧ $87-38 = 49$ |

② 55円のチョコレートと、17円の
あめを買った。代金は、何円に
なりますか。
暗算で答えをもとめよう。(10点)

全部で
55+17
72円

④ 90このひまわりのたねを73こ
まきました。
あと何このこっていますか。
暗算で答えをもとめよう。(10点)

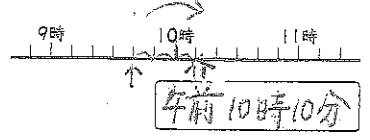
90-73
17こ

自分のやりやすいやり方で
チャレンジしてみよう!

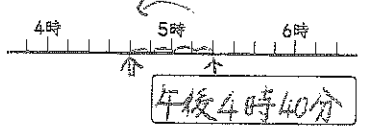
2 時こくと時間のもとの方	3年 組 番
	名前

① 次の時こくをもとめよう。(各15点)


① 午前9時40分から30分後の
時こく



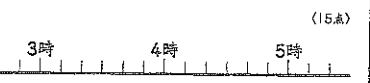
② 午後5時20分より40分前の
時こく



③ 午前8時15分より30分前の
時こく



② まさきさんは、午後3時40分から
午後4時30分まで遊んでいました。
遊んでいた時間は、何分ですか。(15点)



50分(間)

③ ゆきさんは、きのう40分、今日は
1時間30分読書をしました。
2日間で読書をした時間は、
あわせて何時間何分ですか。(20点)



2時間10分

④ りかさんの家での勉強の時間は
40分です。

午後3時40分から勉強をはじめると、
勉強が終わるのは午後何時何分ですか。(20点)



午後4時20分