

たし算とひき算

なまえ カ-花子

1. ちろが 12ひき います。ちきが 5ひき います。ちろは ちきより なんひき おおいですか。

しき $12 - 5 = 7$

こたえ

5ひき

2. 本が 9つあります。3つかいました。せんびで なんびつ ありますか。

しき $9 + 3 = 12$

こたえ

12びつ

3. けいけんを しらべよ。

① $4 + 1 + 2 = 7$

③ $30 + 40 = 70$

4. □にかたを かきましょ。

① 10が 6に 2を 1が 3に

63

② 10が 7に 1が 9に

79

③ 10が 4に 2を 1が 2に

42


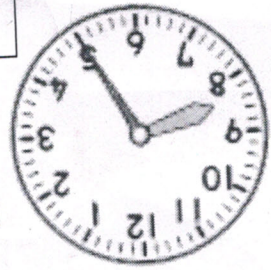
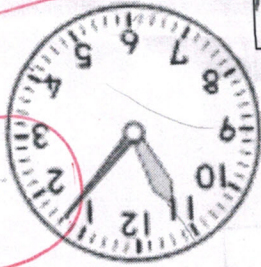
④ $100 - 80 = 20$

② $10 - 6 + 5 = 9$



11:7:51h

8/11/25/51

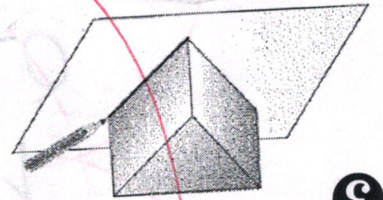
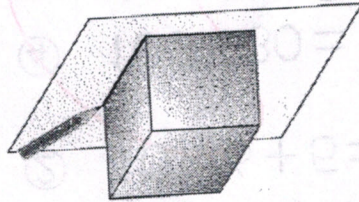
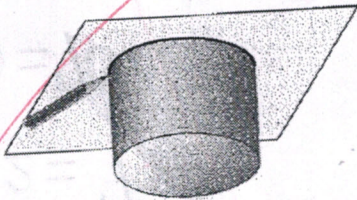

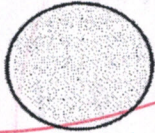


①

④

たんに たんぶんてしよ。

②



③

つれた かつちを つかうて つかひましょ。

(1) (1)



⑤

⑥


⑦

②

いちばん ちかく はいるのが つかてしよ。

() () ①

() () ④



つかてしよ。

①

75

つかひましょ。