



1年生 学年通信

Email

《今週の学習》

《来週の学習予定》

国語1	前期のまとめテスト	おもいだしてはなそう (p114-119)
算数	前期のまとめテスト	10より大きいかず (p66-69)
国語2	小 一 二 ボ ン	三 四 五 六 ケ ッ ト
生活科	どうぶつさんのおりがみ (先週間違えて掲載していました。 失礼いたしました。)	おじいちゃん、おばあちゃんへのおてがみ

《こんしゅうのしゅくだい》

こくご	○かんじのがくしゅうノート「小」「一」「二」の③④⑤を終わらせる。 ○テストの練習(来週より開始します)※裏面の説明をご覧ください。 ○おんどくかーど あいうえおであそぼう ○ドリルのおうさま 26 (P37~P38) ※えにっきのしゅくだいはありません。てすとのれんしゅうをがんばってください!
さんすう	○プリント1まい ○計算カード「たしざん①」または「ひきざん①」20問

<担任より一言>

本日、国語1と算数では「前期のまとめテスト」を行いました。最初に名前を忘れずに書くことやテストを受けるときの態度、提出する前にもう一度チェックをすること等を確認し合い、いよいよスタート!子ども達は初めてのテストに、少々緊張しながらも落ち着いた様子で取り組んでいました。終わった後は一気に緊張が解け、ホッとした表情に。一人一人が初めてのテストに真剣に取り組んでいたんだということに改めて気付かされました。おうちでもぜひ、今日の成果や様子についてお子様とお話してみてください。答案用紙は来週お返しいたします。(3組担任 酒井)

<今後の予定>

- 9月19日, 26日, 10月3日・・・通常授業
- 10月10日・・・前期終業式(短縮授業) 通知表を渡します。
- 10月17日・・・休校
- 10月24日・・・後期始業式(短縮授業) 通知表を回収します。



裏面もご覧ください。

いよいよはじまります。

＜「漢字／カタカナ」テスト＞について

来週から漢字／カタカナ小テストを始めます。

テストは次のように進めます。

来週のテスト問題です。

前の週の学年通信に次週のテストを載せます。



それをもとに、ご家庭で練習をしてください。



同じ問題を出題します。

※とめ・はね・はらい・かたちまで、正しく書けるように指導をして参ります。ご家庭でもご指導をお願いいたします。

てすつにてるい
ス・ボン・大・小・一・三
かたか
りんごがま
すいかが
ききかな
きなま
きなまはく

100

かんじ かたかな てすと
（ひらがな）がつかないものは
とめ・はね・はらいまで、まねて書いてください。

「ねんせい（へい）くみ
なまえ

にしやちのてすと

練習の仕方について

しっかり練習をしてテストにのぞむようにしてください。毎週10問の漢字・カタカナ・ひらがなをお知らせします。テストは新出の漢字・カタカナが中心となりますが、その文字のみ練習するのではなく、言葉として練習するようにしてください。練習プリントや練習をしたノートなどを提出する必要はありません。

また、右図の①のようにひらがなの出題がある問いは教員が読み上げます。ご家庭で練習するときもおうちの方が読んで出題していただくようお願いいたします。

100

かんじ かたかな てすと
（ひらがな）がつかないものは
とめ・はね・はらいまで、まねて書いてください。

「ねんせい（へい）くみ
なまえ

（実際のテスト用紙はこうなります）


採点の都合上、返却は次の週になります。間違えてしまった漢字やカタカナはお家でしっかり練習しておきましょう。

ちょうじょうにつけるのはだれ

なまえ

したの ひきざんを、ぜんぶしましょう。

おなじ こたえになる ひきざんをした どうぶつだけが、ちょうじょうにつけます。だれが、ちょうじょうにつけたでしょう。



うさぎさん

ぼんださん

かめさん

うしろもあまります。

ちょうじょうにつけたのは

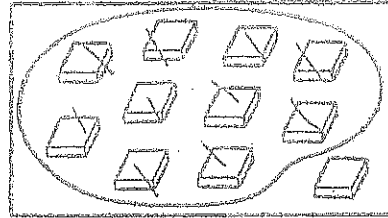
10といくつ? あそび!

なまえ


・10の まとまりを ○で かこんで かずを かぞえましょう。

・10と いくつかを ()に かいて かぞえた かずを □に かきましょう。

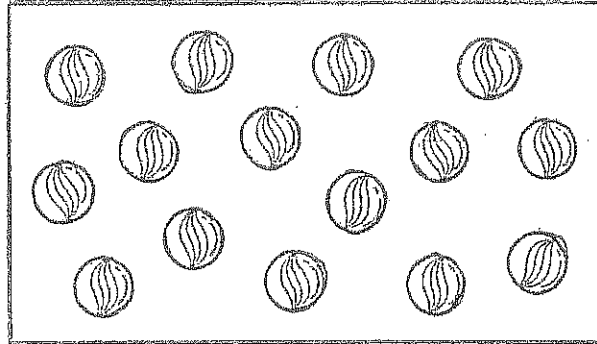
(れい)



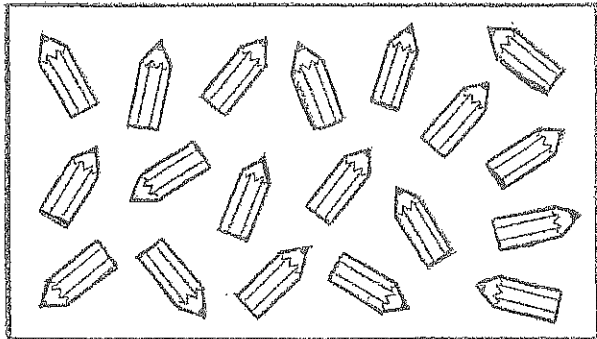
よ 10と(1)で こ




た 10と()で ほん




え 10と()で こ




か 10と()で ほん



れ 10と()で ひき



ら 10と()で こ



ぞ 10と()で まい

あおい じゆんに □のもしを ならべましょう。

どんな ことばが できるかな。

う ま <

よ /

うまもあひまです。



おんどく カード

1ねん

なまえ

よい◎ ふつう○ もうすこし△

月 日	よんだところ	、や。に きをつけて	おおきなこえで	ゆっくりよむ	おうちの人の サイン
/	しゅくだい：(P. 60～P. 61) あいうえおで あそぼう				
/	しゅくだい：(P. 60～P. 61) あいうえおで あそぼう				
/	しゅくだい：(P. 60～P. 61) あいうえおで あそぼう				
/	しゅくだい：(P. 60～P. 61) あいうえおで あそぼう				
/	しゅくだい：(P. 60～P. 61) あいうえおで あそぼう				
/	ここまでが、しゅくだいです。ここからは、じゅうおんどくです。				
/					
/					
/					
/					
/					

せんせいのサイン



ふたご なしかゆまろ

うみの がくれんぼ

1114~119 はまぐり

くみ ほん

はまぐり /100

よんで、ごたえまじょう。

うみには、いきものが
かくれて います。なにが、
どのように かくれて
いるのでしょうか。

はまぐりが、すなの
なかに かくれて います。

はまぐりは、
大きくて つよい



あしを もって
います。すなの



なかに あしを
のばして、すばやく



もぐって
かくれます。

たこが、うみの そこに
かくれて います。



たこは、からだの
いろを かえる



ことが できます。
まわりと おなじ

いろに なって、
じぶんの からだを



かくします。

1 うみの いきものについて、
どんな ことが かいて
ありますか。 ②

なにが、どのように
() いるのか。

2 はまぐりが かくれて
いるのは どこですか。 ②

()

3 はまぐりは、どのように
かくれますか。 ②

大きくて つよい
() を のばして、
すばやく ()
かくれる。

4 たこが かくれて いるのは
どこですか。 ②

()

5 たこは、どのように からだを
かくしますか。 ②


まわりと ()
になって、 からだを かくす。

せんせいの おしめ



V5



/100



画像



1 えをみて、の 各5 (20)
なかにじを
かきましよう。



2 えの なまえを ひらがなで
かきましよう。 各10




①  おに  せん



①  

②  ほと  と

②  

③  おね  せん

④   

③  



3 うえと したの いしはが かなるがらび — せんで
むすびましよう。 各10 (30)



① おとに きが 。 。 かける。

② かがみに すがたを 。 。 ひく。

③ おおきな えを 。 。 うつす。

4 □に あらほうの じを かきましよう。 各5 (20)

① ぴあの  (お・ま) せんせい  (が・で) ひく。

② わたし  (は・わ) でんわ  (お・ま) かける。

い	ち	ね	ん	せ	い	さ	や
ぬ	た	こ	お	ん	ぶ	し	か
あ	り	ま	く	ま	な	り	ん
ひ	と	え	き	ご	つ	と	そ
つ	け	も	ぐ	ら	や	り	ら
じ	い	も	だ	は	す	ず	め
え	ほ	ん	い	ち	み	い	だ
ひ	び	し	く	さ	ん	ぽ	か

● みつけた ことばを かきました。

1 ひらがな あつまれ
なまえ

～ちゃんじ!!～

9/12/2015

けいさんを して、こたえが7のところを ぬりましょう。
いろいろ ぬった ところは むしばです。
むしばが いちばんおおいのはだれでしょう。

なまえ

6+3	10-3	8+1	4+4
5+4	9-2	0+8	2+5

かばまる

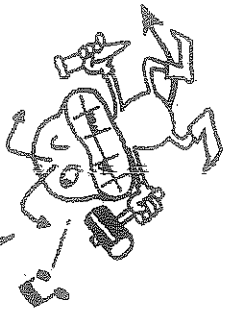
ぶーちゃん

こりた


1+6	6+2	7-4	8-0
10-2	5+4	4+3	9-3

いちばん おおいのは

だね。



これは ひどい!
みんな すごい むしばじゃ。



2+7	4+4	10-6	5+2
1+6	8-1	7+1	3+4

9. ねこが 6びきいます。 いぬが 3びきいます。

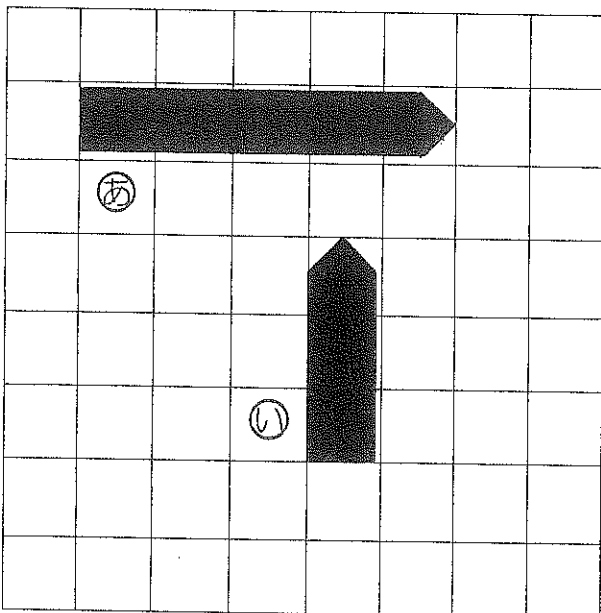
どちらが なんびき おおいでしょう。(式5点 答え5点 計10点)



しき

こたえ が びきおおい。


10. したの ずを みて こたえましょう。(各5点 計10点)



① ①は、ますの こぶんの ながさ。

② ②は、①より ますの こぶん ながい。


7. せんべいが 7まい あります。 くっきいが 3まい あります。
あわせて なんまい ありますか。(式5点 答え5点 計10点)



しき

こたえ

8. とんぼが 8ひき います。 2ひき とんでいきました。
のこりは なんひき ですか。(式5点 答え5点 計10点)



しき


こたえ

にしやまとかくえん ほしゅうこう
 ぜんき さんすう まとめてすと
 2015ねん9がつ12にち

1ねん くみ
 なまえ

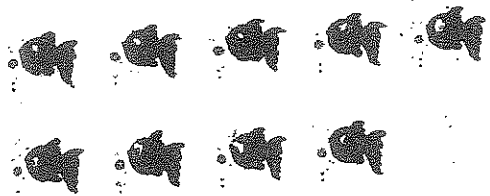
1、かずを かきましよう。(各5点 計10点)

① いぬ



ひき

② きんぎょ




ひき

2、かすの おおきい ほうに 〇を しましよう。(5点)

() ()

3、まえから 4ひきめに いろを ぬりましよう。(5点)

ま
え



4、 にあう かすを かきましよう。(各5点 計10点)

①

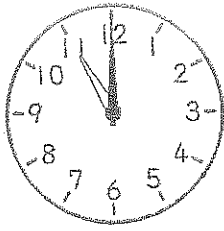
— — — —

②

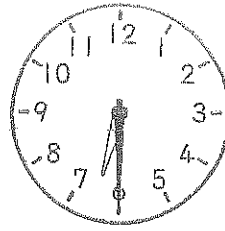
— — — —

5. なんじ、なんじはんぴが、 とは (すうじと ひらがな) でかきましよう。(各5点 10点)

①



②



6. たしざん、ひきざんを しましよう。(各2点 計20点)

① $5+4=$

② $2+8=$

③ $6+0=$

④ $4+3=$

⑤ $0+9=$

⑥ $7-2=$

⑦ $8-4=$

⑧ $6-5=$

⑨ $10-3=$

⑩ $2-0=$