

2015年度後期

2015年度後期		期末テスト範囲表		試験日 2月13日
校時	時間	教科	テスト範囲	勉強のポイント
1	8:50 ～ 9:40	国語1	「君は『最後の晩餐』を知っているか」 「平家物語」～“祇園精舎”の部分 「モアイは語る」「走れメロス」	ワークの問題を中心に出题します。 しっかり復習しておきましょう。
2	9:45 ～10:35	理科	①サイエンス2 (p27～35) ②サイエンス3 (p4～20) ③サイエンス1 (p54～71)	ワークの宿題をよく見直しておきましょう。
		社会	「教科書の確認・地理2」の次の中から出題 されます。 ①日本の領域と特色を見てみよう②世界の 地形③日本の川と平野④日本の工業⑤近畿 地方の人々の営み⑥関東地方の生活の舞台	解答、解説をよく見て復習してお くこと。
		体育	大なわとび ハの字とびと一人とび	なわの回転をよく見て、走りながら 片足ジャンプで飛べるように
3	10:40～ 11:30	数学	3章 一次関数 (p52～77) 4章 図形の調べ方 (p84～103) 5章 図形の性質と証明 (p110～127)	ワークと毎週の小テストを見直して おきましょう。
4	11:50～ 12:40	国語2	①漢字の練習 p.30～55 までの読み 50問・ 書き 40問 ②短文作り 5問 (「岐路」「堪えない」「陳 謝する」他2問)	
その他の連絡		<ul style="list-style-type: none"> ・持ち物 運動に適した服装、自分のなわとびを持ってきてもいいです (体育) 鉛筆、またはシャープペン (ボールペンは使えません。) 消しゴム (鉛筆、消しゴムは予備も持ってきましょう。) コンパス、三角定規 (数学) ・テストの時間は各教科 45分です。(授業の前後は準備の時間があります。) 		

試験日 2月13日

校時

時間

教科

テスト範囲

勉強のポイント

1

8:50
～
9:40

国語1

「君は『最後の晩餐』を知っているか」
「平家物語」～“祇園精舎”の部分
「モアイは語る」「走れメロス」

ワークの問題を中心に出题します。
しっかり復習しておきましょう。

2

9:45
～10:35

理科

①サイエンス2 (p27～35)
②サイエンス3 (p4～20)
③サイエンス1 (p54～71)

ワークの宿題をよく見直しておきま
しょう。

社会

「教科書の確認・地理2」の次の中から出題
されます。
①日本の領域と特色を見てみよう②世界の
地形③日本の川と平野④日本の工業⑤近畿
地方の人々の営み⑥関東地方の生活の舞台

解答、解説をよく見て復習してお
くこと。

体育

大なわとび
ハの字とびと一人とび

なわの回転をよく見て、走りながら
片足ジャンプで飛べるように

3

10:40～
11:30

数学

3章 一次関数 (p52～77)
4章 図形の調べ方 (p84～103)
5章 図形の性質と証明 (p110～127)

ワークと毎週の小テストを見直して
おきましょう。

4

11:50～
12:40

国語2

①漢字の練習 p.30～55 までの読み 50問・
書き 40問
②短文作り 5問 (「岐路」「堪えない」「陳
謝する」他2問)

その他の連絡

- ・持ち物 運動に適した服装、自分のなわとびを持ってきてもいいです (体育)
鉛筆、またはシャープペン (ボールペンは使えません。)
消しゴム (鉛筆、消しゴムは予備も持ってきましょう。)
コンパス、三角定規 (数学)
- ・テストの時間は各教科 45分です。(授業の前後は準備の時間があります。)



西大和学園補習校 中学部

国語1科

1月30日の連絡

8年

さんへ

※今日の学習内容

走れメロス

場面ごとのメロスの人物像をとらえる

※今日の宿題

音読「走れメロス」 ワーク p 115～118 漢字プリント③

書き写し課題 ワーク p 119 「自らの生き方を小説に描く」

※来週の予定

走れメロスまとめ テスト対策

※連絡事項

本日期末テスト範囲配布しました。

期末テストは2月13日です。

()年 氏名()

※教科書の本文から次の漢字をさがし、2回ずつ練習しよう。
おくりがなも書きましよう。

- ①メロスはげきどした。
- ②邪悪にびんかんなメロス。
- ③人の心をうたがう。
- ④体をゆすぶる。
- ⑤王はいげんをもって問いつめる。
- ⑥人を疑うことは最もはずべき悪徳だ。
- ⑦死ぬかくごでいる。
- ⑧ざんぎやくな気持ちでほくそ笑む。
- ⑨メロスはくやしがる。
- ⑩妹はメロスの姿を見ておどろく。
- ⑪深いねむりに落ちる。
- ⑫せまい家の中の人々。
- ⑬つかれたのでねむりたい。
- ⑭友をすくうために走る。
- ⑮日のしずむ前に王城に行く。
- ⑯やくそくを破る心はない。
- ⑰私は、きつとわらわれる。
- ⑱水を飲み、きぼうが生まれた。
- ⑲あなたはおそかった。
- ⑳あつばれ、ゆるせ。

①		
②		
③		
④		
⑤		
⑥		
⑦		
⑧		
⑨		
⑩		
⑪		
⑫		
⑬		
⑭		
⑮		
⑯		
⑰		
⑱		
⑳		

1 作品中の描写や会話に着目して、場面ごとのメロスの人物像をとらえよう。

① 「シラクスの町」「王城」の場面(初めく184ページ12行目)で、メロスの性格や考え方が感じられる部分を抜き出し、そこから読み取れるメロスの人物像を書こう。

性格や考え方が感じられる言動・様子	ページ・行	読み取れる人物像

② 「故郷の村」の場面(184ページ13行目く186ページ11行目)のメロスの性格や考え方が感じられる部分を抜き出し、そこから読み取れるメロスの人物像を書こう。

性格や考え方が感じられる言動・様子	ページ・行	読み取れる人物像

③ 「王城への道のり」での場面(186ページ12行目く193ページ7行目)のメロスの性格や考え方が感じられる部分を抜き出し、そこから読み取れるメロスの人物像を書こう。

性格や考え方が感じられる言動・様子	ページ・行	読み取れる人物像

④ 「刑場」の場面(193ページ8行目く終わり)のメロスの性格や考え方が感じられる部分を抜き出し、そこから読み取れるメロスの人物像を書こう。

性格や考え方が感じられる言動・様子	ページ・行	読み取れる人物像

1 作品中の描写や会話に着目して、場面ごとのディオニスの人物像をとらえよう。

① 「シラクスの町」「王城」の場面(初め～184ページ12行目)で、ディオニスの性格や考え方が感じられる部分を抜き出し、そこから読み取れるディオニスの人物像を書こう。

性格や考え方が感じられる言動・様子	ページ・行	読み取れる人物像

② 「刑場」の場面(193ページ8行目～終わり)のディオニスの性格や考え方が感じられる部分を抜き出し、そこから読み取れるディオニスの人物像を書こう。

性格や考え方が感じられる言動・様子	ページ・行	読み取れる人物像

2 メロスとディオニスの考え方や人物像はどんな場面でもどのように変化しているか。考えて書こう。

①メロス

②ディオニス

3 メロスの行動や考え方について、共感できたところや、できなかったところを、その理由も考えて書こう。

4 作品中の、効果的な優れた比喻表現や印象に残る語句を見つけて、それがなぜ効果的なのかという理由とともに書こう。



西大和学園補習校 中学部

<教科名> 国語②

1月30日の連絡

8年

※今日の学習内容

漢字の学習 . P54 ~ P55

漢字テスト No. 31②, No. 32①

※今日の宿題

漢字の学習 本時の学習 P54, P55 ①-②

プリント No. ~~32~~②, 33①

※2月6日の予定

漢字の学習. 後期に既習した漢字の復習

漢字テスト. No. ~~32~~②, 33①

※連絡事項

西大和学園補習校八年
漢字テスト

上段の①～⑩の漢字に読みか
なをつけて、
下段の①～⑩の語句を使って短文
を作りなさい。

① 湿り気のある雪

② 繊細な感覚

③ 岬に灯台が立つ

④ 丘の上の学校

⑤ 川岸に堤を築く

⑥ 招待状の寿の文字

⑦ 名人の誉れが高い

⑧ 風薫る五月

⑨ 体力が衰える

⑩ 謹んでお受けする

7月30日テスト

西大和学園補習校八年
漢字テスト

名前

① 湿り気

② 繊細な

③ 岬

④ 丘

⑤ 堤

⑥ 寿

⑦ 誉れ

⑧ 薫る

⑨ 衰える

⑩ 謹む

西大和学園補習校八年 漢字テスト	
	①～⑳の漢字に読みかたをアケなさい。
①	粘り強い性格。
②	粘土をこねる。
③	体を鍛え直す。
④	厳しい鍛練をする。
⑤	掃除を怠ける。
⑥	注意を怠る。
⑦	怠慢な仕事ぶり。
⑧	犬は賢い動物だ。
⑨	賢明な選択をする。
⑩	判断力が鈍る。

2月6日テスト

西大和学園補習校八年 漢字テスト	
	名前
⑪	鈍感な人。
⑫	童歌をうたう。
⑬	朗らかな声。
⑭	健やかに育つ。
⑮	憂いを帯びた顔。
⑯	現状を憂慮する。
⑰	偏りなく食べる。
⑱	偏見をもたない。
⑲	充実した毎日。
⑳	和歌の精髓を知る。

西大和学園補習校 八年
漢字テスト

①～⑩を漢字を使って
書き直して下さい。

①

しめりけのあるゆき

②

せんたくなかんかん

③

みまはにじつだいがた

④

おからのたのしみ

⑤

かみきりにのみまはり

⑥

おのれにたいしてのしんがりのまじ

⑦

めいじんのおんががたか

⑧

かぜが吹くとき

⑨

たいやくが吹くとき

⑩

ついでに吹くとき

2月6日テスト

西大和学園補習校 八年
漢字テスト

名前

①

②

③

④

⑤

⑥

⑦

⑧

⑨

⑩



西大和学園補習校 中学部	
8年数学	1月30日の連絡
8年	さん

きょう がくしゅうないよう
※今日の学習内容

教科書 p 124～127 平行四辺形になる条件
小テスト (先週の学習内容)

きょう しゅくだい
※今日の宿題

ワーク p 72 (右半分)、78 (問題 (5) は省く)

じしゅう よてい
※次週の予定

教科書 p 128～129 長方形、ひし形、正方形
復習プリント

れんらくじこう
※連絡事項

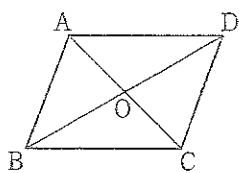
図形の勉強に入っています。
三角定規、コンパス、分度器を持ってきてください。

小テスト 5章—3

1 次の計算をなさい。

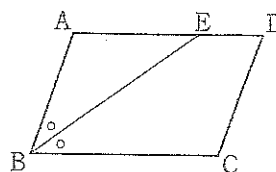
$$12x^3y^5 \times \left(-\frac{1}{2}xy\right)^2 \div (-2y)^2$$

2 右の図のように、 $\square ABCD$ の対角線の交点を O とするとき、次の問いに答えなさい。




- (1) OA と長さが等しい線分はどれですか。
- (2) この図の中に、合同な三角形が4組あります。記号 \cong を使って、すべて答えなさい。

3 右の図の $\square ABCD$ で、 $\angle ABC$ の二等分線と辺 AD の交点を E とします。



$AB=4\text{ cm}$, $BC=6\text{ cm}$, $\angle BCD=110^\circ$ のとき、次の線分の長さや角の大きさを、それぞれ求めなさい。

- (1) AD (2) $\angle CDE$
- (3) $\angle AEB$ (4) ED



西大和学園補習校 中学部

<教科名> 社会

1月30日の連絡

7-9年

※^{きょう}今日の^{がくしゅうないよう}学習内容

教科書 P.210~215

※^{きょう}今日の^{しゅくだい}宿題

- 。教科書 P.216~219の音読と語句ノート作成
- 。問題集地理2 P.69~71

※ 月 日の^{よてい}予定

教科書 P.216-219

※^{れんらくじこう}連絡事項



西大和学園補習校 中学部	
理科	1月30日の連絡
年	さん

きょう がくしゅうないよう
※今日の学習内容

教科書 (サイエンス1) p 72~73 地震はどのようにして起こるのだろうか
教科書 (サイエンス1) p 84~89 地層はどのようにしてできるのだろうか
プリント (P波、S波の計算)

きょう しゅくだい
※今日の宿題

ワーク (理科の学習1) p 36, 37, 38

じしゅう よてい
※次週の予定

復習プリント

れんらくじこう
※連絡事項

来週、期末テストのための復習プリントをやります。
サイエンス1, 2, 3の教科書を持ってきてください。