



1年生 学年通信

Email

《今週の学習》来週のまとめテストに向けて練習を行いました。


国語 1	うみのかくれんぼ p114-118
算数	前期の復習 p2-59, 74-81
国語 2	漢字の学習ノートとカタカナノート 「大」「ズ」 副教材の「漢字の学習ノート」と「カタカナノート」を配布しました。 今後毎週使い続ける教材です。記名を忘れずにお願いします。
生活科	「夏休みの振り返り、これから頑張ること」

《来週の学習予定》こくごとさんすうのテストがあります！

国語 1	まとめテスト
算数	まとめテスト
国語 2	小 一 二 / ボ ン
生活科	「おじいちゃん、おばあちゃんへのおてがみ」

《こんしゅうのしゅくだい》 テストにそなえましょう！

こくご	○音読カード「うみのかくれんぼ」「いちねんせいのうた」 ○えにつき1まい ○ドリルの王様 28 (P41 ①②、p42 ④のみ)
さんすう	○れんしゅうプリント1まい(りょうめん) ○計算カード「たしざん①」または「ひきざん①」 ※さんすうドリルのしゅくだいはありません。




※本日「ひらがなとすうじのおけいこ」ワークブックを返却しています。付箋が付いていた、やり残したページがある場合はご確認いただき、来週再度提出をお願いいたします。(丸付けは必要ありませんが、お子さんが落ち着いて丁寧に練習ができるようご配慮ください。)

※本日、副教材(カタカナノート、漢字学習ノート)を配布いたしました。ご家庭で記名をお願いいたします。さんすうドリルの下巻については混乱を避けるため、宿題に出す週より配布する予定です。なお、教材の費用は今月末の授業料と併せて徴収させていただきます。どうぞよろしくお願い致します。

<担任よりひとこと>

先週の国語2の授業で、夏休みの日記を各自発表しました。初めての絵日記の宿題でしたが、そこには自分の感想を交え、楽しかった出来事が一生懸命に書かれていました。きっとご家庭で温かい励ましがあったのだろうと、聞いていて思わず微笑んでしまいました。これから毎週絵日記の宿題が出されます。

「何も書くことがないよ。」という声が聞こえるかもしれません。そんなときは日常の生活にもう一度目を留めてみてください。きっといろいろな発見があるはずです。一つのできごとでも、そこに「どのように(様子)」や「どうしてかという(理由)」を足すだけでも広がりが出てきます。ぜひお子さんから表現力を引き出してあげてください。(2組担任 小泉)



おんどく カード

1ねん

なまえ

よい◎ ふつう○ もうすこし△


月 日	よんだところ	、やに きをつけて	おおきなこえで	ゆっくりよむ	おうちの人の サイン
/	しゅくだい：(P. 114～P. 119) うみの かくれんぼ				
/	しゅくだい：(P. 114～P. 119) うみの かくれんぼ				
/	しゅくだい：(P. 114～P. 119) うみの かくれんぼ				
/	しゅくだい：(P. 98～P. 99) いちねんせいの うた				
/	しゅくだい：(P. 98～P. 99) いちねんせいの うた				
/	しゅくだい：(P. 98～P. 99) いちねんせいの うた				
/	ここまでが、しゅくだいです。ここからは、じゅうおんどくです。				
/					
/					
/					
/					

せんせいのサイン


にしまとがくえん ほしゅうこう
 ぜんき さんすう れんしゅうてすと
 9がつ5か しゅくだい

1ねん くみ
 なまえ

1、かずを かきましょう。



わ

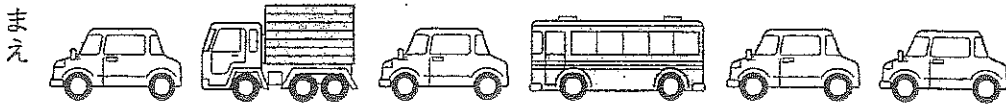


こ

2、かずの おおきい ほうに 〇を しましょう。

() ()

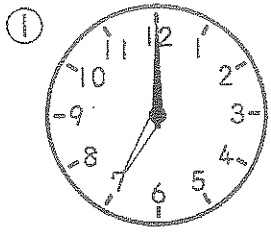
3、まえから 3だいに いろを ぬりましょう。

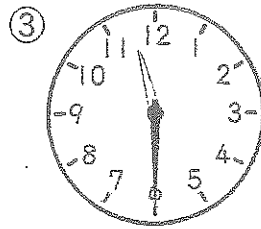


4、□にあう かずを かきましょう。

— — — —

5. なんじ、なんじはん ですか。ことば (すうじと ひらがな) で かきましょう。





6. たしざん、ひきざんを しましょう。

$3 + 5 =$


$6 + 4 =$

$7 - 2 =$

$9 - 6 =$

7. あひるが 4わ います。 5わ きました。

あひるは、みんなで なんわに なりましたか。




しき _____

こたえ _____

8. ぱんだが 7ひき います。こあらが 4ひき います。

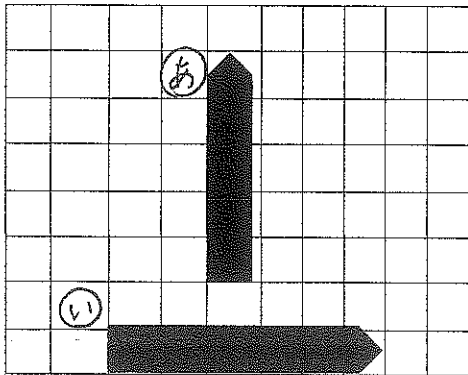
どちらが なんびき おおいでしょう。



しき _____

こたえ が ひきおおい。

9.



① ② **あ** のながさは、
ます こ ぶん。

② **あ** と **い** では、 が
ますの こぶん ながい。


にしやまどがくえん ほしゅうこう
 ぜんき さんすう れんしゅうてすと
 9がつ5か しゅくだい

1ねん くみ
 なまえ


しゅくだいプリントのこたえ

おうちでこたえあわせをしてください。

1. かずを かきましょう。



8 わ

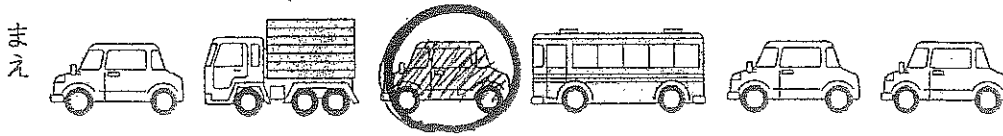


10 こ

2. かずの おおきい ほうに 〇を しましょう。

() 4 6 (〇)

3. まえから 3だいに いろを ぬりましょう。



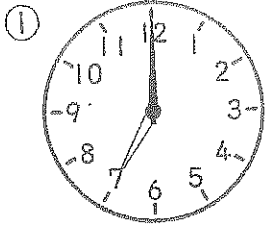
4. 口にあう かずを かきましょう。

5 6 7 8 9

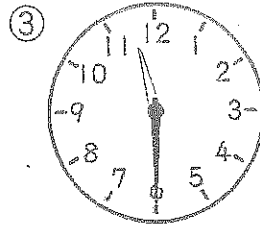
うしろもあります。

(しゅくだいの こたえです。おうちで、こたえあわせをしてください。)

5. なんじ、なんじはん ですか。ことば (すうじと ひらがな) で かきましょう。



7じ



11じはん

6. たしざん、ひきざんを しましょう。 7:00はX

$$3 + 5 = 8$$

$$6 + 4 = 10$$

「11:30」はX


「11:30ぶん」はO

$$7 - 2 = 5$$

$$9 - 6 = 3$$

7. あひるが 4わ います。 5わ きました。


あひるは、みんなで なんわに なりましたか。



しき $4 + 5 = 9$ こたえ 9わ

8. ぱんだが 7ひき います。こあらが 4ひき います。

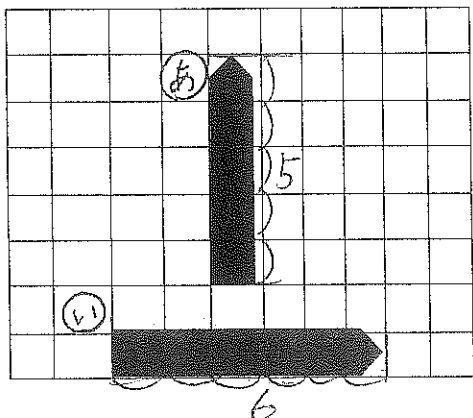
どちらが なんびき おおいでしょう。



うしろも あります。

しき $7 - 4 = 3$ こたえ **ぱんだ** が **3** びきおおい。

9.





① **あ** のながさは、
ます **5** こ ぶん。

② **あ** と **い** では、**い** が
ますの **1** こ ぶん ながい。

にしまとがくえん ほしゅうこう
ぜんき さんすう れんしゅうてすと
9がつ5か

1ねん くみ
なまえ

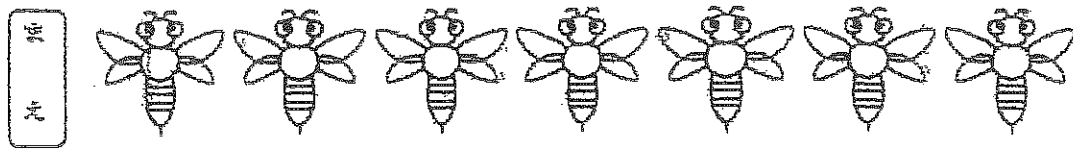
1、かずを かきましょう。

こびき

2、かずの おおきい ほうに 〇を しましょう。

() 9 7 ()

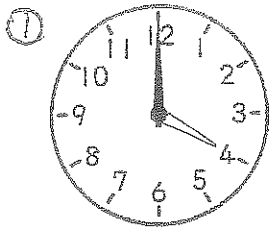
3、まえから 7ひきめに いろを ぬりましょう。

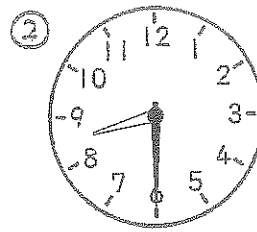


4、□にあう かずを かきましょう。



5. なんじ、なんじはん ですか。ことば (すうじと ひらがな) で かきましょう。





6. たしざん、ひきざんを しましょう。


$9 + 1 =$

$2 + 3 =$

$7 - 2 =$

$6 - 6 =$

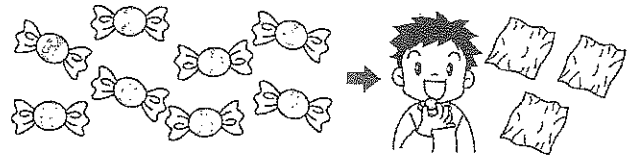
7. ほんが 5さつ あります。3さつ ぶえました。
ほんは、あわせて なんさつに なりましたか。



しき

こたえ

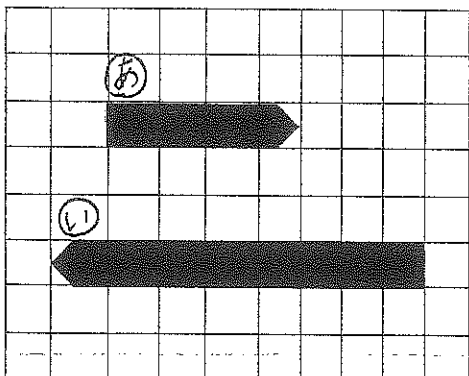
8. あめが 8こ あります。3こ たべました。
のこりは なんこに なりましたか。



しき

こたえ

9.



① ② のながさは、

ます こ ぶん。

② ①と②では、

が
ます こぶん ながい。

1年② 問題① 問い分けて説明の図を完成せよ。

222
うみの かくれんぼ
たて たいせつ
1114~119
1000

♪ 楽しんで、いたえまじよう。

うみには、いきものが かく
 れて います。なにが、どのよ
 うに かくれて いるのでしょ
 うか。

たこが、うみの そとに かく
 れて います。

たこは、からだの
 いろを かえることが
 できます。

まわりと おなじ
 いろに なって、

じぶんの からだを
 かくします。

かにの なかまの もくずしよ
 いか、いわの ちかくに かく
 れて います。

もくずしよいは、ほぞみで、
 かいそらなびを ちいさく き
 る ことが できます。

かいそらなびを からだに つ
 けて、くみしんするのです。

① うみの いきものに ついて
 どんな ことが かいて
 ありますか。

② なにが、どのように
 いるのか。

③ たこが かくれて いるのは
 どこですか。

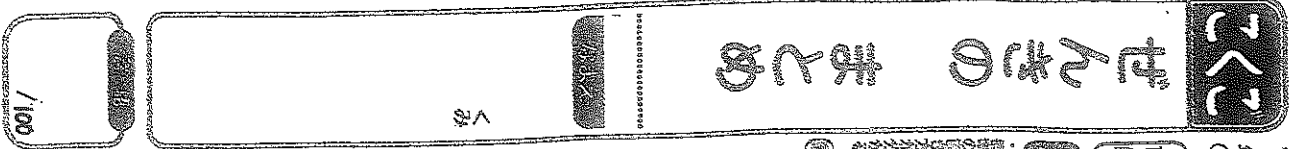
④ たこは、どのように からだを
 かくしますか。

⑤ もくずしよいは、かくれて
 いるのは どこですか。

⑥ もくずしよいは、どのように
 かくれますか。

⑦ ほぞみで、
 かいそらなびを ちいさく
 きる ことが
 できます。

- 漢字の読み及かな。
- 平假名の正しい書き方をみる。
- 漢字の正しい書き方をみる。



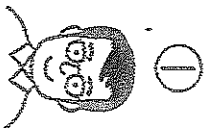
図漢

2 そのなまえをひらがなでかきましよう。

2

1 えをみて、なかにじをかきましよう。

各5 (20)



1

おとさん




2

おかさん



3

いもと



4

ねこ

かきましよう。

3 うたひしたのしじやうのなまえをかきましよう。

3

4 □にあつはうのじをかきましよう。

4

- ① おまのはたけを
- ② うつかりおしを
- ③ なまみのおんたを

各5 (20)

① □ □ さん

② □ □ さん

③ □ □

④ □ □

とじよかんでほん

かりた。