

中学部 社会科 1学期中間試験 「地理1」 解答用紙

年 番 氏名 ()

1. (1点X 14=14点)

(1)

① () ② () ③ ()

④ () ⑤ () ⑥ ()

⑦ () ⑧ () ⑨ ()

⑩ () ⑪ () ⑫ ()

⑬ ()

(2) ()

2. (2点X 14=28点)

(1)

① () ② () ③ () ④ ()

⑤ () ⑥ () ⑦ () ⑧ ()

(2) 西 () 南 ()

(3) () (4) () (5) () (6) ()

3. (2点X 7=14点)

(1) ()

(2) 緯度 () 經度 ()

(3) 經典 () 地域 ()

(4) () (5) ()

4. (2点X 12=24点)

(1) ① () 大陸 ② () 大陸
 ③ () 大陸 ④ () 大陸
 ⑤ () 大陸 ⑥ () 大陸

(2) ㉑ () 州 ㉒ () 州

㉓ () 州

氏名 ()

(3) A () B ()
C ()

5. (1点X 17=17点)

(1) ① () ② ()

(2) ① () ② () ③ ()

(3) ① () ② ()

(4) ()

(5) ① () ② () ③ ()

(6) ()

(7) ()

(8) ()

(9) ()

(10) ① () ② ()

6. 論述問題 (3点) (続けて書きたい場合は、この用紙の裏側に書きなさい。)

1 学期中間考査 7 年社会問題 地理 1

(答えはすべて解答用紙に記入すること。)

1. 次の () にあてはまることばや数字を下の□から選んで書き入れなさい。ただし、□の中にはふさわしくないことばもあるので注意すること。

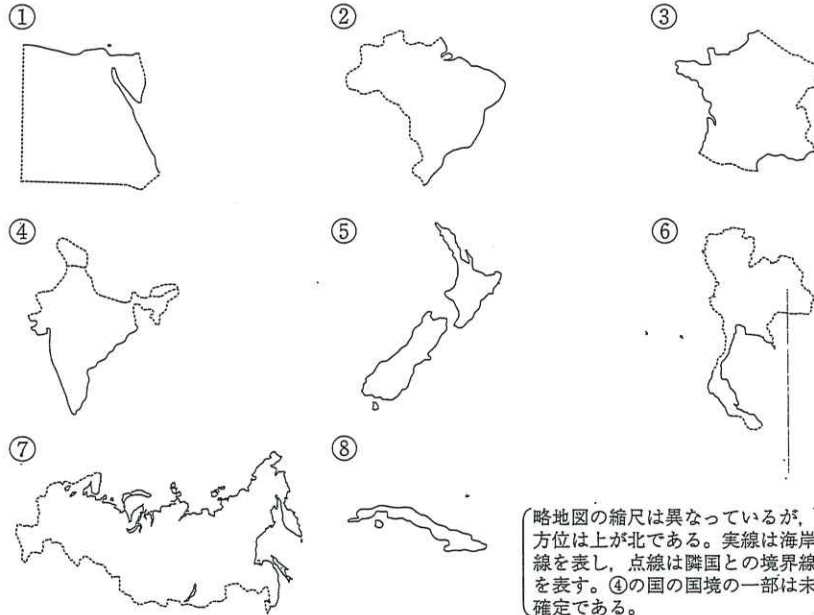
- (1) ① () は、イギリスの② () を通る
 ③ () を0度として、東西をそれぞれ
 ④ () 度に分け、東を⑤ ()、西を
 ⑥ () と呼んで数える。
- ⑦ () とは、北極と南極を同じ①で結んだ縦の線をいう。
- ⑧ () は、⑨ () を0度として、南北をそれぞれ⑩ () 度に分け、北を⑪ ()、南を
 ⑫ () と呼んで数える。
- ⑬ () とは、同じ⑧を結んだ横の線をいう。

経度、緯度、経線、緯線、パリ、ロンドン、ローマ、本初子午線、
 日本標準時子午線、北回帰線、南回帰線、日付変更線、赤道、北緯、
 南緯、東経、西経、90、120、160、180、270、360

(2) 南アメリカ大陸にあり、赤道ということばを国名にしている国はどこか。

()

2. 次の部分地図は、それぞれ世界のある国を示したものである。これについて、あとの問いに答えなさい。

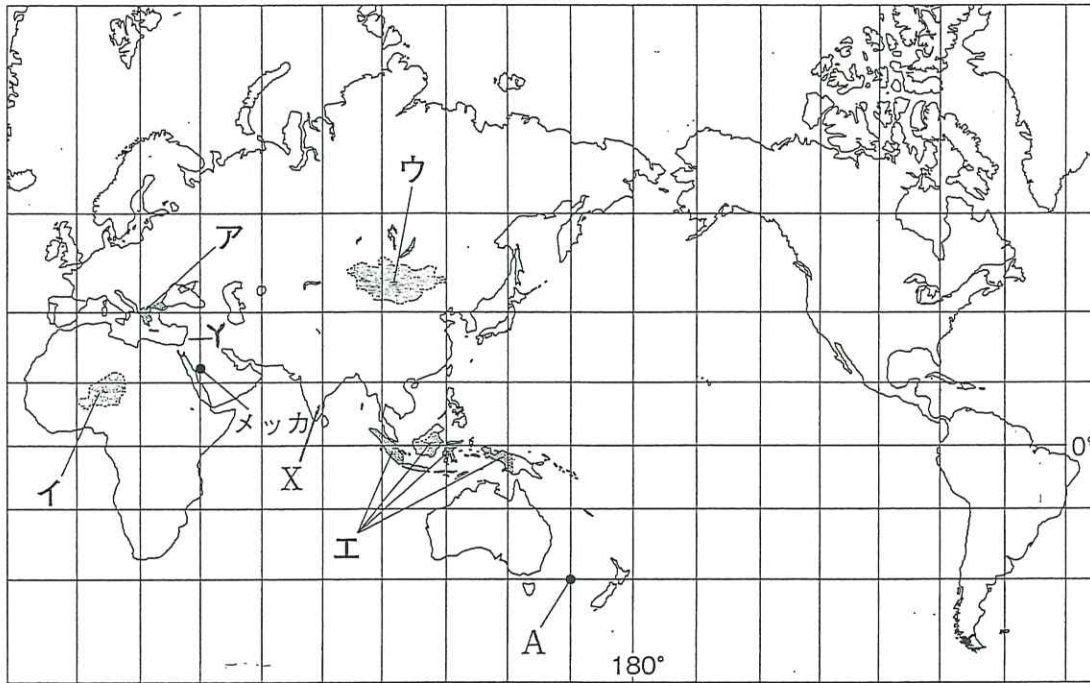


- (1) ①～⑧の国名を次からそれぞれ選び、記号で答えなさい。

ア インド イ キューバ ウ エジプト
 エ タイ オ フランス カ ロシア連邦
 キ ブラジル ク ニュージーランド

- (2) ①の国の西側と南側の国境線の大部分は、何を基準として決められたと考えられるか。西、南のそれぞれについて答えなさい。
- (3) ①～⑧の中で、面積が最も広い国を番号で答えなさい。
- (4) ①～⑧の中で、赤道が国土を通過している国を選び、番号で答えなさい。
- (5) ①～⑧の中で、国土のすべてが南半球に位置している国を選び、番号で答えなさい。
- (6) アフリカ州にある国を①～⑧から選び、番号で答えなさい。

3. 次の地図を見て、あとの問いに答えなさい。




- (1) 地図中のX国で、一番多くの人々が信じている宗教は何か。
- (2) 地図は、緯線と経線が直角に交わる地図で、緯線と経線はそれぞれ20度間隔で描かれている。●で示したA地点の緯度と経度を答えなさい。ただし、緯度は南緯か北緯か、経度は東経か西経かの区別を明らかにすること。
- (3) 地図中のメッカは、この地域でおこった宗教の聖地である。この宗教の経典は何というか。また、アラビア半島はアジア州のうち、何という地域に属するか。次から選び、記号で答えなさい。

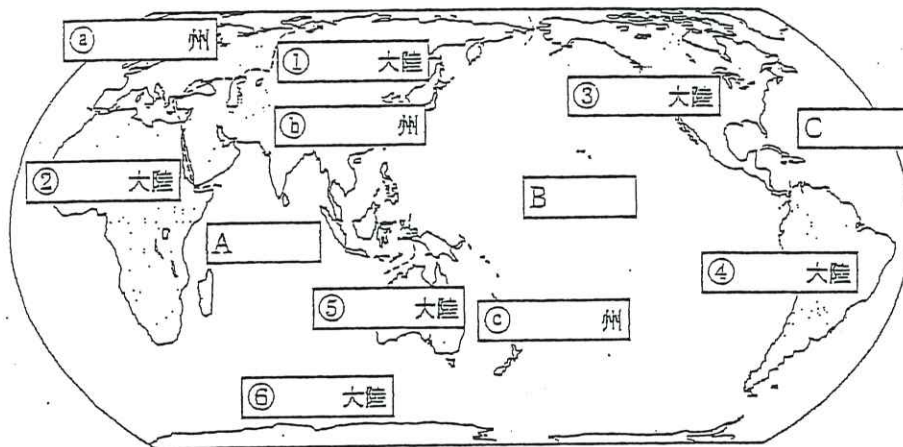
ア 中央アジア イ 東アジア
ウ 西アジア エ 南アジア

- (4) Yの地域でおこり、世界中に広がった宗教の教典は聖書である。この宗教は何というか。

- (5) 右の写真は、ゲル(パオ)とよばれる円形のテントで、組み立てがしやすいつくりとなっている。この住居が見られる地域を地図中のア～エから選び、記号で答えなさい。



4. 次の地図を見てそれぞれの問いに答えなさい。



(1) 地図中の①から⑥にあてはまる大陸名を書きなさい。

- | | | | |
|-----|------|-----|------|
| ① (|) 大陸 | ② (|) 大陸 |
| ③ (|) 大陸 | ④ (|) 大陸 |
| ⑤ (|) 大陸 | ⑥ (|) 大陸 |

(2) 地図中の㊸から㊺にあてはまる州名を書きなさい。

- | | | | |
|-----|-----|-----|-----|
| ㊸ (|) 州 | ㊹ (|) 州 |
| ㊺ (|) 州 | | |

(3) 地図中のA-Cにあてはまる海洋名を書きなさい。

- | | | | |
|-----|---|-----|---|
| A (|) | B (|) |
| C (|) | | |

5. 次のかっこにあてはまる語句を下の□から選んで書きなさい。ただし、□の中にはふさわしくないことばもあるので注意すること。

- (1) 世界で面積が最小の国は①（ ）であり、イタリアの首都②（ ）市の中に領土がある。
- (2) ①（ ）は、「山国」、②（ ）は、「ライオンの町」、③（ ）は、「インダス川の流れる国」という意味をもつ。
- (3) イギリスの正式名称はグレートブリテン・北アイルランド連合王国といい、イングランド、イングランドのすぐ北に位置する①（ ）、②（ ）、北アイルランドの4つの地域が連合して成り立っている国である。
- (4) 北回帰線と南回帰線をあわせて回帰線と呼ぶ。この二つの回帰線にはさまれた地域が（ ）である。
- (5) ヨーロッパに近いトルコ付近を①（ ）、その次に近いペルシャ湾を囲む付近を②（ ）、この二つをまとめた西アジア付近を③（ ）とよぶことがある。
- (6) カナダ北部などの氷雪地帯に住む先住民族のことを（ ）と呼ぶ。彼らは、1970年代ごろから「エスキモー」差別用語と位置付け、自分たちの言葉で「人々」を意味するこの言い方を「エスキモー」の代わりに使用している。
- (7) 冷帯に広がる広大な針葉樹の森林を（ ）という。
- (8) ロシア・旧ソ連圏にある家庭菜園つきの簡易別荘のことを（ ）という。この別荘は、ロシア語で「田舎の邸宅」を意味し、サウナを備えたものもある。普段は近隣の都会に居住し、週末のみ利用する持ち主が多い。かつての貴族の別邸から掘っ立て小屋のようなものまで、規模や質はさまざまである。
- (9) アフリカ北部に広がる広大なサハラ砂漠の南に接して、わずかに木や草の生えた土地を（ ）という。
- (10) 顔立ちや皮膚の色などの身体上の特色によって人類を分類したものが①（ ）で、言語や宗教、生活習慣など同じ文化を共有しているという意識をもつ人々の集団を②（ ）という

温帯、熱帯、冷帯、バチカン市国 フランス、ドイツ、オランダ ロシア、イタリア、マレーシア、シンガポール、インド、スコットランド、ウェールズ、マドリッド、ローマ、アムステルダム、モスクワ、中東、遠東、極東、近東、中近東、イヌイット、ネコイット、チーター、タイガ、ライオン、ダーチャ、マツチャ、コブチャ、サヘル、サガル、サトル、国民、民族、人種、外国人

6. 論述問題

次の問題から一つ選んで書きなさい。

1. 地理の授業を受けた感想。
2. 寒いところと暑いところ、どちらが好きか。(理由も書くこと)
3. 世界の国々の中で行ってみたい国はどこか。(理由も書くこと)
4. 外国人に自慢したい日本のよいところはどこか。
5. 旅行して発見したこと。(どこへ旅行したか具体的に書くこと)