

第4号

わかば



西大和学園補習校(アーバイン)
2015年5月2日
小学部第二学年 学年通信
発行者 中澤 瀬里奈

懇談会の出欠席の提出をご協力いただき、ありがとうございました。組まれた懇談会の日程は、保護者アカウントで確認することができます。懇談会に伴い授業時間の短縮、及び下校時間に変更がありますので、下記の「懇談会による短縮時間割」を御確認ください。また、本日は絵日記を綴じるバインダーが配布されています。一年次と同様に、返却された絵日記を保管する際にご利用ください。

今週 (5/2) 学習内容	国語①	「今週のニュース2/2」
	国語②	門・黄・色・太・毛
	算数	「たし算のしかたを考えよう③」
	生活	「こどもの日」
来週 (5/9) 学習予定	国語①	「たんぼぼのちえ1/2」
	国語②	高・風・晴・多・知
	算数	「ひき算のしかたを考えよう①」
	生活	俳句を作ろう
今週の宿題	国語①	<p>絵日記 音読カード</p> <div style="border: 1px solid black; padding: 5px;"> <p>して音読① 24ページ初めからP25終わりまで して音読② 26ページ初めから終わりまで して音読③ 27ページ初めから終わりまで して音読④ 28ページ初めから終わりまで して音読⑤ 29ページ初めから終わりまで</p> </div> <p>ドリルの王様7ページ、8ページ</p>
	国語②	授業で終らなかった箇所を終らせる テスト勉強
	算数	算数ドリル10・11・12ページ

■漢字テスト勉強用の配布用紙■

毎週配布される漢字テストの予告問題は学校に提出する宿題ではありません。ご自宅で勉強用にお使いください。下半分は、テストに出る漢字を覚えられているか、実際に問題を解いて確認していただくと有効かと思えます。テスト時間は5分が目

にしやまと学えん

ほしゆう校

二年生

絵日記

名前

漢字テスト

5/2 ②

名前

①	えをみる
②	はるになる
③	じんげい
④	じゅうげん
⑤	かみひしつち
⑥	がっしつ
⑦	しんぶんのみ
⑧	おかしじま
⑨	がようし
⑩	あかちゃん



2年音読カード

名前

よい◎ ふつう○ もうすこし△

月 日	読んだところ	、やに 気をつけて	大きなこえで	ゆっくり読む	おうちの人の サイン
/	しゅくだい: してい音読①				
/	しゅくだい: してい音読②				
/	しゅくだい: してい音読③				
/	しゅくだい: してい音読④				
/	しゅくだい: してい音読⑤				
/	しゅくだい: してい音読⑥				

ここまでが、しゅくだいです。ここから下は 自由音読 (じゆう おんどく)

/					
/					
/					
/					

先生のサイン

5/2 テストの勉強用に配布
テストの勉強をしましょう

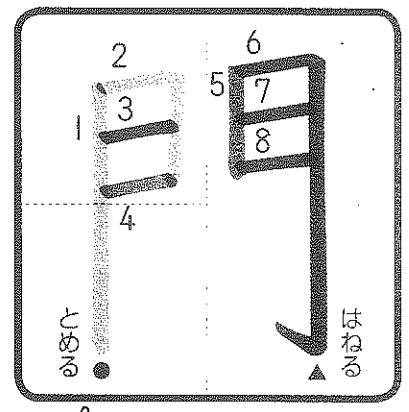
漢字テスト

5/9 NO ③
に出る漢字

①	こうもん 校門
②	き 黄みどり
③	いろ 色えんぴつ
④	ふと き 太い木
⑤	げ わた毛
⑥	やす 休む
⑦	しろ はな 白い花
⑧	き 気をつける
⑨	み 見る
⑩	いがつ にのひか 五月九日

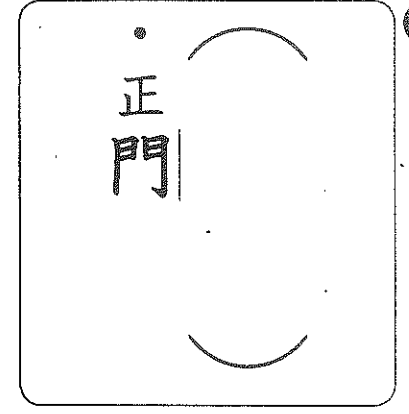
名前

①	こうもん
②	きみどり
③	いろえんぴつ
④	ふと き
⑤	わたげ
⑥	やすむ
⑦	しろいはな
⑧	きをつける
⑨	みる
⑩	いがつ にのひか

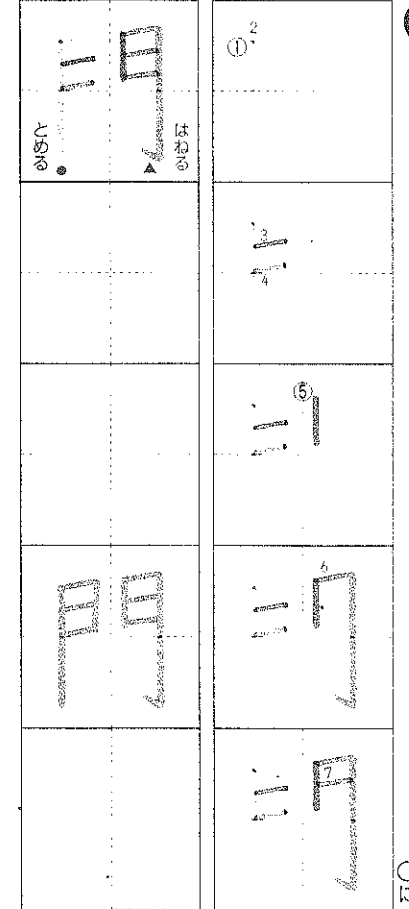


④ ゆびで なぞりましょう。

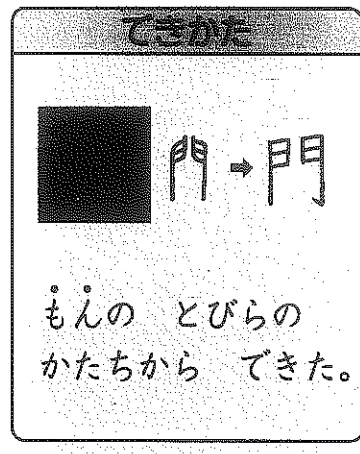
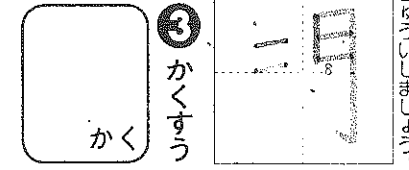
① 読みかたを書きましよう。



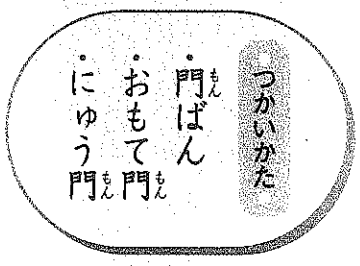
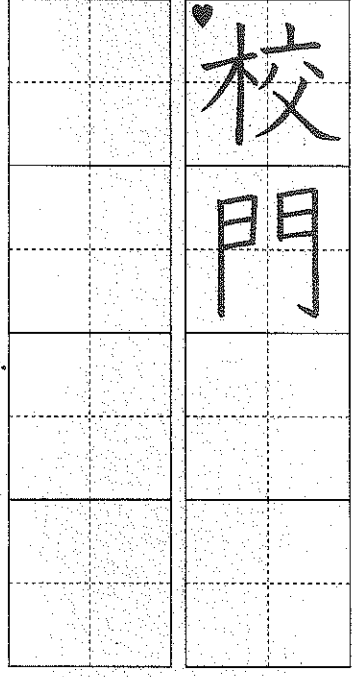
② 書きじゆんに 気をつけて れんしゆうしましよう。



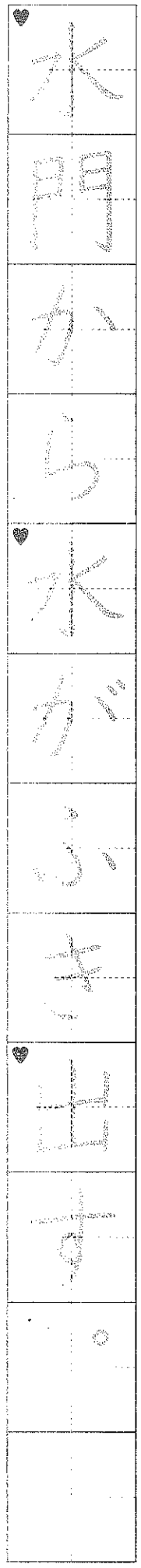
③ かくすう



④ 門のつくことばを書きましよう。




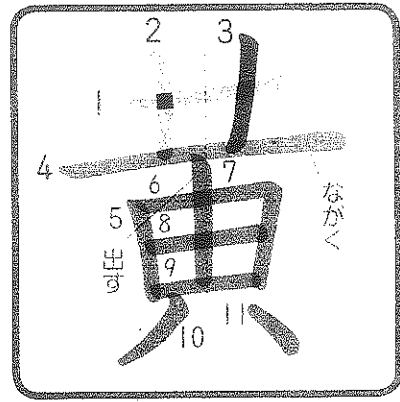
⑤ 文を なぞって 書きましよう。



⑥ 門をつかって 文をつくりましよう。


(れい) 学校の うら門をあける。






ゆびで なぞりましょう。

① 読みかたを書きましよう。



② 書きじゆんに 気をつけて れんしゆうしましよう。




○ 戸すけりしに 卵ごま。

③ かくすう

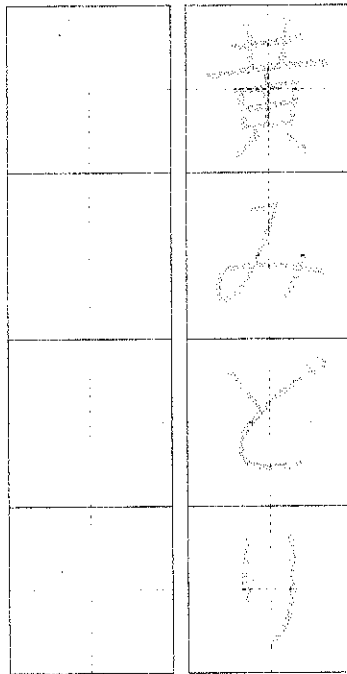


なかまの かん字




いろを あらわす かん字を おぼえよう。

④ 黄の つくことばを 書きましよう。

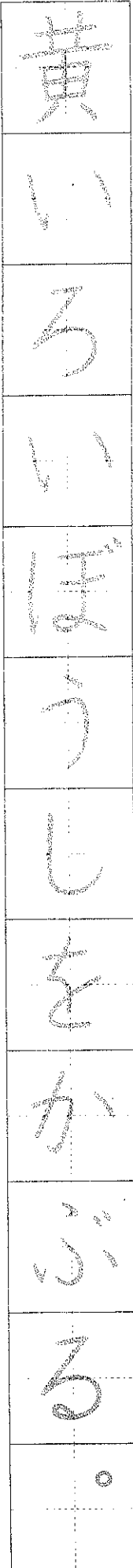


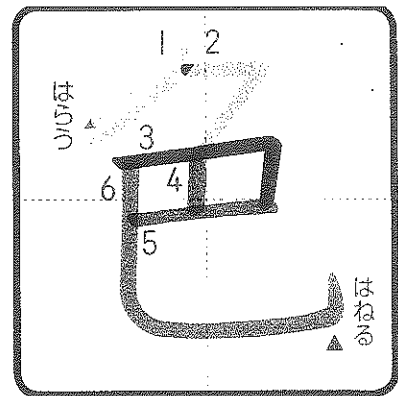
つかいかた
 ・黄み
 ・黄ばむ
 ・黄なこ



⑥ 黄をつかって 文をつくりましよう。

(れい) 黄いろい 花がさいた。



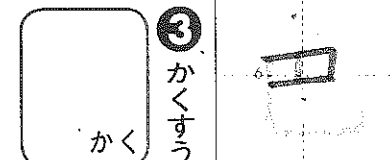
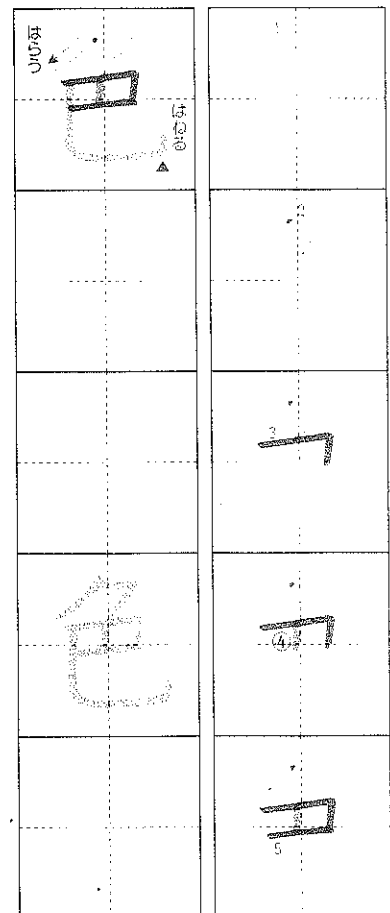



ゆびで なぞりましょう。

① 読みかたを 書きましょう。

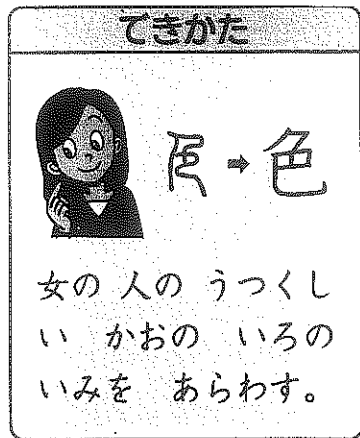
② 書きじゆんに 気をつけて れんしゅうしましょう。

○ びんごうに ぬいて ぬい。






③ かくすう

かく

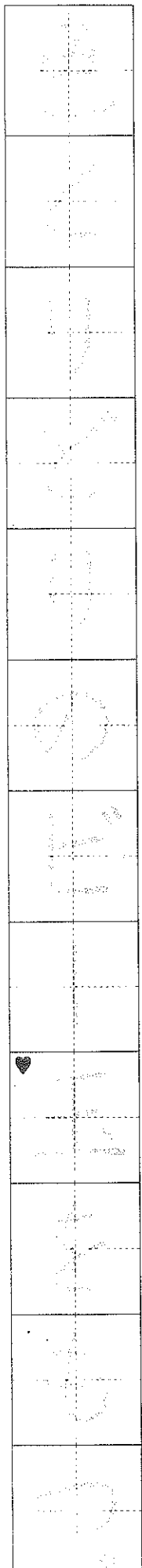


女の人の うつくしい かおの いろの いみを あらわす。

④ 色の つくことばを 書きましょう。

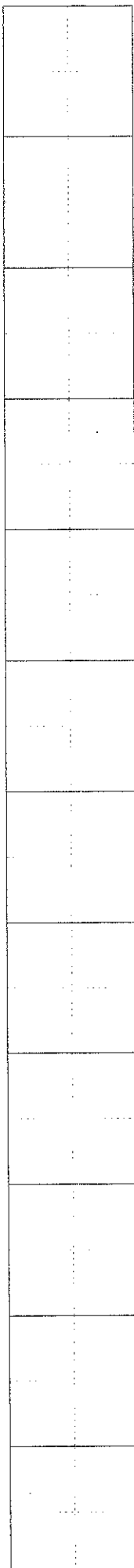


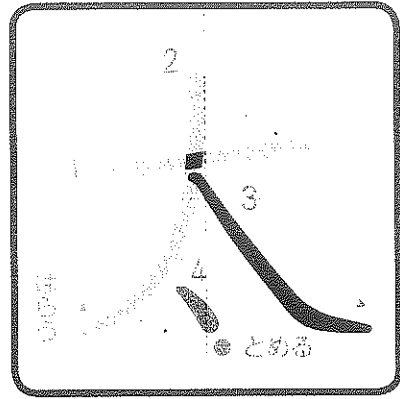
⑤ 文を なぞって 書きましょう。



⑥ 色をつかって 文をつくりましょう。


(きれい) すきな 色のおり紙を えらぶ。






ゆびで なぞりましょう。

① 読みかたを書きましよう。




② 書きじゆんに気をつけてれんしゅうしましょう。



③

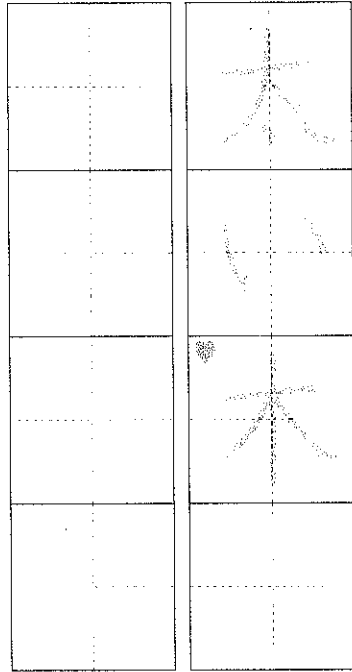
かくすう
かく

にている字




「、」のいちに気をつけよう。

④ 太のつくことばを書きましよう。

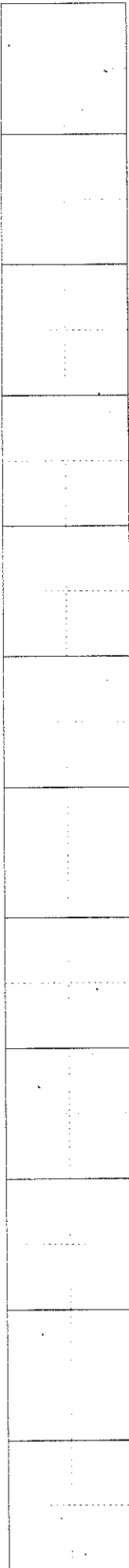
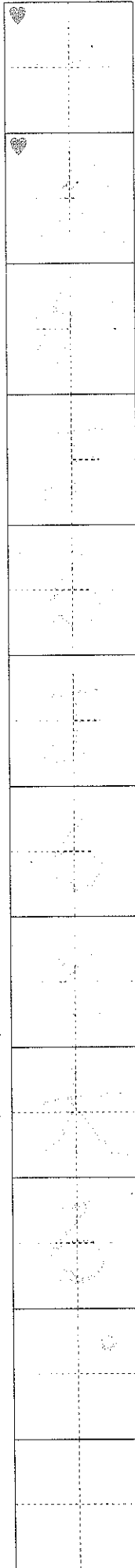



つかいかた
 太まき
 ほね太
 太い糸



⑥ 太をつかって文をつくりましよう。

(れい) 太いはしらによりかかる。







ゆびで なぞりましょう。

読みかたを 書きましょう。

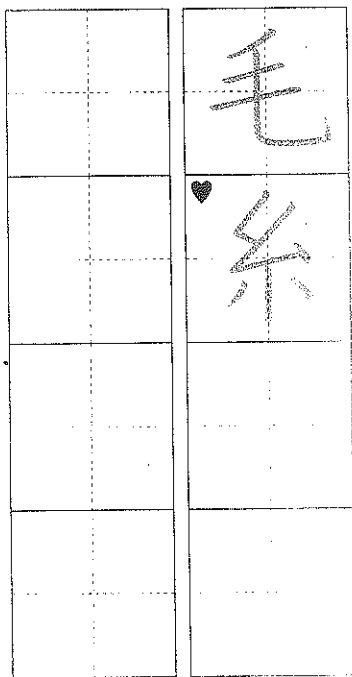
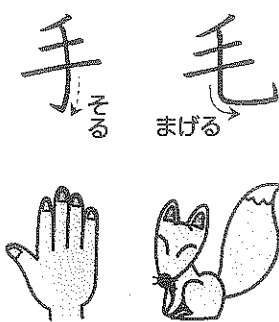
書きじゆんに 気をつけて れんしゅうしましょう。

かくすう


4 毛のつくことばを 書きましょう。



にている字




つかいかた
かみの毛
けなみ
まゆ毛



5 文を なぞって 書きましょう。

6 毛をつかって 文をつくりましょう。

セーターに 毛玉ができる。




ては なくても、にんげんのように うごいた
り かんがえたり する 生きものや ものも、
「どうしようじんぶつ」と いいます。

と (聖母) (そのてんてん) 10カ
てん

②③ はなが さいたに 「が ついて いるよ。」

教科書 ④ 8 ~ 23 ページ 月 日



おはようございます

4

おはようございます、春がこぼれ
今週のニゴース

時間 20分

合かく 80点

100点

おはようございます、春がこぼれ

① ①のしを 読んで、もんだいに くださいな。

(教 ④ 21ページ)

- はなが さいた まど・みちお
- はなが さいた
- はなが さいた
- はひふく ほほほ
- はなが さいて
- みない ひと いない
- はなが さいた
- はなが さいた
- ほへふひ ははは
- はなが さいて
- おこる ひと いない

(1) この しは、どんな 気も
ちを あらわした してですか。
あう ものに、○を つけま
しょう。 10カ
てん

- ㊸ () はなが さいて う
れしい 気もち。
- ㊹ () はなが さいて お
かしい 気もち。
- ㊺ () はなが さいて か
なしい 気もち。

(2) わらいごえに にた こと
ばを ニギよう さがして、
— を つけましょう。

20カ(二つ)

今週のニゴース

② ②の文じょうを 読んで、もんだいに くださいな。

(教 ④ 23ページ)

四月二十八日
しいくじやで、うぎぎの赤ちや
んを見ました。とても小さくて、
びっくりしました。
かみたに なつき

(1) かみたにさんは、どんな
ことを 書きましたか。二つ
に ○を つけましょう。

- ㊸ () 見た こと。 10カ(二つ)
- ㊹ () きいた こと。
- ㊺ () かんじた こと。



「今週のニゴース」より

おはようございます

おはようございます

0303420 2222 2222 2222

3 この本の文じもつを 読んで、おどろきに したえおじもつ。

(教 ①14ページ ②8ページ ③16ページ ④8ページ)

はるかぜに ふかれて、
 竹やぶが、ゆれる ゆれる、
 おどる。
 雪が、とける とける、水に なる。
 ふきのとうが、ふんばる、
 せが のびる。
 ふかれて、
 ゆれて、
 とけて、
 ふんばって、
 —もっこり。
 ふきのとうが、かおを
 出しました。
 「人にちは。」
 もう、
 すっかり はるです。

● 文じもつ 4つ 「はる」の文じもつ ●

(1) 雪が とけて 水に なつたのは だれ(なに)が どうしたからですか。 15 点

()

(2) ふきのとうが ふんばり、せが のびたのは だれ(なに)が どう なったからですか。 15 点

()

(3) ふきのとうが 雪の下から かおを 出す ようすを あらわした ことばを、文じようの中から 四字で 書きぬきましょう。 15 点

--	--	--	--

4 ()に おしほせる ことばを、□から えらんで、おじもつを 書け。 15 点(10分)

- ① () こきを はく。
- ② あたりは () して いる。
- ③ おね () こきを すう。

あ しんと ① ふうしと ② こばいに

③ () 「……からですか。」には、「……から。」と したえおじもつ。

3 4

- ①こんしゅう ②かみ ③せいもん
- (1) **あ**
- (2) (竹やぶの)竹のはっぱ。
- (3) 「さむかったね。」
「うん、さむかったね。」
- (4) ふきのとう
- (5) 雪

読者の友

動詞などの意味をとらえる問題です。これから文章を読んでいくとき、「どんな動作かな。」「どんな様子かな。」と、問いかけながら、語彙を少しずつふやしていくようにしたいものです。

②の「あびる」は、「水をあびる。」などにも使います。

③「 」がなくても正解です。

4

まとめのドリル 7~8ページ

- (1) **あ**
- (2) はひふく ほほほ
ほへふひ ははは
- (1) **あ**・**あ**
- (1) (はるかぜに ふかれて)竹やぶが
ゆれて おどったから。
- (2) 雪が とけて、水に なったから。
- (3) もっこり
- ① **あ** ② **あ** ③ **あ**

読者の友

(1) 一つ目の文は見たことを、二つ目の文は感じたことを書いています。

「ふきのとう」の文章では、ふきのとうが顔を出す、春のはしまりの情景を想像しましょう。

(1) 春風が吹くことによつて、竹やぶがゆれ、竹やぶがゆれることによつて、日が差して雪がとけると、水になるのです。

読者の友

この文章には、「その あとに」「このわた毛の」など、たくさんの指示

5 きほんのドリル 9~10ページ

- ① きいろ ② ふと ③ げ ④ かぜ
 - ⑤ は ⑥ け ⑦ おお ⑧ たか
 - ① **あ** ② **い**
 - れい** 川のそばを車ではしる。
 - (1) 春
 - (2) (じゆんに)黄(色い)・くろつばい
 - (3) (じゆんに)じく・たね・えいよう。
- 木らせ

読者の友

④ 二年生になると、一年生のころに比べて、一つ一つの文の長さが、だんだん長くなってきます。その分、一つの文の情報量が増えるので、それを確実に理解する必要があります。

そのためには、(1)のように、「いつ」のことを書いた文章かということ以外にも、「どこ」のことが、「何」についてなのかなど、文章のベースとなる部分をきちんと読みとる必要があります。また、文章中に出てくる言葉は、正しくぬき出す習慣をつけましょう。

6 まとめドリル 11~12ページ

- ① 町・学校 ② 王・森
- ③ 村・田 ④ 山・夕日
- (1) (白い)わた毛
- (2) らつかさん
- (1) よく 晴れて、風の ある 日。
- (2) しめり気の 多い 日。
- 雨ふりの 日。
- (3) **あ**
- ① **あ**
- ② **あ**
- ③ **あ**
- ④ **あ**

8 きほんのドリル 15~16ページ

- ① **れい** フールに入るまえに、シヤロ

10

めあて●たし算の きまりが わかる。

5月2日

べんきょうした 日 月 日

2. たし算の ひっ算

③ たし算の きまり

□□16~17

なまえ

1つ10点

点

1 たし算を ^{さん}しまししょう。また、たされる数と たす数 ^{かず}を 入れかえて ^{けいさん}計算しまししょう。

①

たされる数	3	7
たす数	+	5 2
答え		

② ①の 入れかえ

+		

③

	6	5
+	2	8

④ ③の 入れかえ

+		



たし算の たされる数と たす数 を 入れかえて 計算しても、答えは 同じになるね。



⑤

5	0
+	2 4
<hr/>	

⑥ ⑤の 入れかえ

+	

⑦

1	9
+	4 3
<hr/>	

⑧ ⑦の 入れかえ

+	

⑨

	3
+	6 8
<hr/>	


⑩ ⑨の 入れかえ

+	

おもしろさんすう

② 計算を しなくても、答えが 同じになる ことが わかる しきと しきを、線て むすびましよう。

- 36+13
- 24+40
- 82+5
- 13+36
- 40+24
- 5+82
- 39+50



なまえ

10点

点

1 たし算を しましょう。

①
$$\begin{array}{r} 24 \\ + 35 \\ \hline \end{array}$$

②
$$\begin{array}{r} 70 \\ + 26 \\ \hline \end{array}$$

③
$$\begin{array}{r} 41 \\ + 7 \\ \hline \end{array}$$

④
$$\begin{array}{r} 57 \\ + 29 \\ \hline \end{array}$$

⑤
$$\begin{array}{r} 46 \\ + 38 \\ \hline \end{array}$$

⑥
$$\begin{array}{r} 85 \\ + 6 \\ \hline \end{array}$$


2 ひっ算で しましょう。

⑦ $19 + 71$

⑧ $9 + 63$

⑨ $42 + 8$

3 こうたさんは、きのうまでに 本を 38ページ 読みました。今日は、13ページ 読みました。ぜんぶで 何ページ 読みましたか。



⑩ しき

答え ()

10点

12

「3. ひき算の ひっ算」の じゅんび

なまえ

125点

点

1 ひき算^{ざん}を しましょう。

① $8-1$

② $5-3$

③ $7-2$

④ $6-5$

⑤ $9-4$

⑥ $10-6$

⑦ $10-3$

⑧ $8-8$

⑨ $4-0$

⑩ $0-0$

2 ひき算を しましょう。

⑪ $12-4$

⑫ $14-5$

⑬ $16-9$

⑭ $15-6$

⑮ $13-7$

⑯ $14-8$

⑰ $11-3$

⑱ $18-9$

⑲ $17-8$

⑳ $11-6$

10 2. たし算の ひっ算
③ たし算の きまり

たし算をしましょう。また、たされる数と たす数を 入れかえて 計算しましょう。

①
$$\begin{array}{r} 37 \\ +52 \\ \hline \end{array}$$
 ② ①の 入れかえ
$$\begin{array}{r} 65 \\ +28 \\ \hline \end{array}$$
 ③ ④ ③の 入れかえ

④
$$\begin{array}{r} 50 \\ +24 \\ \hline \end{array}$$
 ⑤
$$\begin{array}{r} 19 \\ +43 \\ \hline \end{array}$$
 ⑥ ⑤の 入れかえ ⑦ ⑧ ⑥の 入れかえ

⑧
$$\begin{array}{r} 3 \\ +68 \\ \hline \end{array}$$
 ⑨ ⑩ ⑧の 入れかえ

ヒント
たし算の たされる数と たす数を 入れかえて 計算しても、答えは 同じになるね。

計算を しなくても、答えが 同じになる ことが わかる しきと しきを、線て むすびましょう。

$36+13$ $24+40$ $82+5$

$13+36$ $40+24$

$5+82$ $39+50$

11 2. たし算の ひっ算
力だめし

たし算を しましょう。

①
$$\begin{array}{r} 24 \\ +35 \\ \hline \end{array}$$
 ②
$$\begin{array}{r} 70 \\ +26 \\ \hline \end{array}$$
 ③
$$\begin{array}{r} 41 \\ +7 \\ \hline \end{array}$$

④
$$\begin{array}{r} 57 \\ +29 \\ \hline \end{array}$$
 ⑤
$$\begin{array}{r} 46 \\ +38 \\ \hline \end{array}$$
 ⑥
$$\begin{array}{r} 85 \\ +6 \\ \hline \end{array}$$

ひっ算で しましょう。

⑦ $19+71$ ⑧ $9+63$ ⑨ $42+8$

こうたさんは、きのうまでに 本を 38ページ 読みました。今日は、13ページ 読みました。 ぜんぶで 何ページ 読みましたか。

⑩

ヒント
あ、54に入る 数字は 何

14 3. ひき算の ひっ算
① ひき算を

①
$$\begin{array}{r} 3 \\ -1 \\ \hline \end{array}$$

④
$$\begin{array}{r} 7 \\ -2 \\ \hline \end{array}$$

⑦
$$\begin{array}{r} 8 \\ -5 \\ \hline \end{array}$$

色紙が つかいまし

⑩

あ、54に入る 数字は 何

12 3. ひき算の ひっ算の じゅんぴ
たしかめよう

ひき算を しましょう。

① $8-1$ ② $5-3$ ③ $7-2$ ④ $6-5$ ⑤ $9-4$ ⑥ $10-6$ ⑦ $10-3$ ⑧ $8-8$ ⑨ $4-0$ ⑩ $0-0$

ひき算を しましょう。

⑪ $12-4$ ⑫ $14-5$ ⑬ $16-9$ ⑭ $15-6$ ⑮ $13-7$ ⑯ $14-8$ ⑰ $11-3$ ⑱ $18-9$ ⑲ $17-8$ ⑳ $11-6$

13 3. ひき算の ひっ算
① ひき算(1)

ひき算を しましょう。

①
$$\begin{array}{r} 87 \\ -23 \\ \hline \end{array}$$
 ②
$$\begin{array}{r} 74 \\ -62 \\ \hline \end{array}$$
 ③
$$\begin{array}{r} 46 \\ -15 \\ \hline \end{array}$$

④
$$\begin{array}{r} 68 \\ -36 \\ \hline \end{array}$$
 ⑤
$$\begin{array}{r} 49 \\ -21 \\ \hline \end{array}$$
 ⑥
$$\begin{array}{r} 78 \\ -57 \\ \hline \end{array}$$

⑦
$$\begin{array}{r} 79 \\ -45 \\ \hline \end{array}$$
 ⑧
$$\begin{array}{r} 93 \\ -32 \\ \hline \end{array}$$
 ⑨
$$\begin{array}{r} 65 \\ -43 \\ \hline \end{array}$$

メダルを 36こ 作りまし。23こ くばりました。のこりは 何こですか。

⑩

あ、54に入る 数字は 何ですか。

$$\begin{array}{r} 9 \\ -5 \\ \hline 37 \end{array}$$

10 たされ けいさん 計算し

$36+1$

$24+4$

$82+5$

14 ⑩

$$\begin{array}{r} 2 \\ -2 \\ \hline 3 \end{array}$$

十のく

⑩ $2=$