



にしやまどの

さんすうプラス



1年 くみ なまえ

～1月からの算数 復習教材です。～

保護者の方へ 1年生の総復習として、マス計算、文章題に取り組む家庭学習の冊子です。文章題では、日本語での読解力もあわせてつけていきます。通信で取り組む課題番号をお知らせしますので、翌週「ホチキスを外して宿題のページだけ」を提出してください。保護者の方による丸付けをお願いします。

1

マスけいさん たしざん



やった日: 月 日 よう日 なまえ()

ますの 中に こたえを かきましょう。

+	2	7	6	1	3	5	9
3							
5							
4							
2							
8							
9							
0							

おわったら おうちの人に まるつけを してもらいましょう。

2

マスけいさん ひきざん




やった日: 月 日 曜日 なまえ()

ますの 中に こたえを かきましょう。

—	19	13	17	11	15	12	16
2							
7							
4							
8							
5							
1							
9							

おわったら おうちの人に まるつけを してもらいましょう。



3

マスけいさん たしざん



やった日: 月 日 よう日 なまえ()

ますの 中に こたえを かきましょう。

+	2	4	8	6	9	7	3
0							
7							
9							
5							
1							
6							
3							

おわったら おうちの人に まるつけを してもらいましょう。

4

マスけいさん ひきざん



やった日: 月 日 より日 なまえ()

ますの 中に こたえを かきましょう。

—	18	10	14	19	11	16	12
9							
2							
7							
5							
4							
8							
3							

おわったら おうちの人に まるつけを してもらいましょう。

** 保護者の方へ ここからは、いろいろな文章題です。解くことによって、言葉と数にふれ、算数と日本語力をつけることをねらいとしています。図や絵にしながら、解かせてもいいです。後ろについている「かぞえかたひょう」もご活用ください。

5 ぶんしょうだい たすのかな？ひくのかな？

1. えんぴつが5本あります。おかあさんから、3本もらいました。

あわせて なん本ありますか。

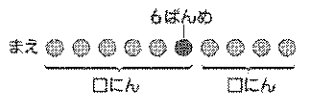

しき

こたえ ()

2. やまとくんは まえから 6ばんめに ならんでいます。やまとくんの

うしろに 4人 います。みんなで なん人 いますか。

しき



こたえ ()

できたらすごい!


3. みんなで えいがかんに 行きました。9こ あいている いすに ひとりずつ すわりました。あいている いすが なかったので、のこりの3人は うしろで たっています。

なん人で えいがかんに いったでしょうか。

しき



一つのいすに ひとりずつすわるので、9人いるんだね。



こたえ ()

6

ぶんしょうだい たすのかな？ひくのかな？

なまえ

1. キャンディを 9こ かいました。とてもおいしいので、6こも

たべてしまいました。キャンディは なんこ のこっていますか。

しき



「たべてしまいました」ということは、キャンディはなくなりました！

こたえ ()

2. やまとくんは クッキーを14こ もっています。

にしさんは やまとくんより クッキーを2こ おおく もっています。

にしさんは クッキーを なんこ もっていますか。

しき



「おおくもっています」→
どちらがおおくもっているかな？
たすのかな？ひくのかな？

こたえ ()

できたらすごい！

3. 20つぶの いちごを ひとり ひとつづつ くばりました。


6つぶ のこりました。なんつぶ くばったでしょうか。

しき



「くばった」ということは、なくなりました？→たすのかな？ひくのかな？

こたえ ()



7

マスけいさん たしざん



やった日: 月 日 よ日 なまえ()


ますの 中に こたえを かきましょう。

+	3	7	2	8	6	5	4
8							
4							
6							
9							
7							
5							
1							

おわったら おうちの人に まるつけを してもらいましょう。

8

マスけいさん ひきざん



やった日: 月 日 曜日 なまえ()

ますの 中に こたえを かきましょう。

—	11	19	14	17	12	15	10
8							
5							
1							
7							
4							
9							
6							

おわったら おうちの人に まるつけを してもらいましょう。

にしゃまどの

さんすうプラス



こたえ

1

マスけいさん たしざん



+	2	7	6	1	8	5	9
3	5	10	9	4	11	8	12
5	7	12	11	6	13	10	14
7	9	14	13	8	15	12	16
6	8	13	12	7	14	11	15
8	10	15	14	9	16	13	17
9	11	16	15	10	17	14	18
0	2	7	6	1	8	5	9

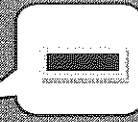
保護者のかたへ

終わったら丸付けをお願いします。

/49

2

マスけいさん ひきざん



—	19	13	17	11	15	12	16
2	17	11	15	9	13	10	14
7	12	6	10	4	8	5	9
4	15	9	13	7	11	8	12
8	11	5	9	3	7	4	8
5	14	8	12	6	10	7	11
1	18	12	16	10	14	11	15
9	10	4	8	2	6	3	7

保護者のかたへ

終わったら丸付けをお願いします。

49

3

マスけいさん たしざん




+	2	4	8	6	9	7	3
0	2	4	8	6	9	7	3
7	9	11	15	13	16	14	10
9	11	13	17	15	18	16	12
5	7	9	13	11	14	12	8
1	3	5	9	7	10	8	4
6	8	10	14	12	15	13	9
3	5	7	11	9	12	10	6

保護者のかたへ

終わったら丸付けをお願いします。

4

マスけいさん ひきざん



—	18	10	14	19	11	16	12
9	9	1	5	10	2	7	3
2	16	8	12	17	9	14	10
7	11	3	7	12	4	9	5
5	13	5	9	14	6	11	7
4	14	6	10	15	7	12	8
8	10	2	6	11	3	8	4
3	15	7	11	16	8	13	9

保護者のかたへ

終わったら丸付けをお願いします。

/49

** 保護者の方へ ここからは、いろいろな文章題です。解くことによって、言葉と数にふれ、算数と日本語力をつけることをねらいとしています。図や絵にしながら、解かせてもいいです。後ろについている「かぞえかたひょう」もご活用ください。

5 ぶんしょうだい たすのかな？ひくのかな？

1. えんぴつが5本あります。おかあさんから、3本もらいました。

あわせて なん本ありますか。

しき

$$5 + 3 = 8$$

こたえ (**8本**)

2. やまとくんは まえから 6ばんめに ならんでいます。やまとくんの

うしろに 4人 います。みんなで なん人 いますか。

しき

$$6 + 4 = 10$$



こたえ (**10人**)

できたらすごい!


3. みんなで えいがかんに 行きました。9こ あいている いすに ひとりずつ すわりました。あいている いすが なかったので、のこりの3人は うしろで たっています。

なん人で えいがかんに いったでしょうか。

しき

$$9 + 3 = 12$$

一つのいすに ひとりずつすわるので、9人いるんだね。



こたえ (**12人**)

6

ぶんしょうたい たすのかな？ひくのかな？

1. キャンディを 9こ かったです。とてもおいしいので、6こも
たべてしまいました。キャンディは なんこ のこっていますか。

しき

$$9 - 6 = 3$$

「たべてしまいました」ということは、なくなつた！→ ひきざん！

こたえ (3こ)

2. やまとくんは クッキーを14こ もっています。
にしさんは やまとくんより クッキーを2こ おおく もっています。
にしさんは クッキーを なんこ もっていますか。

しき

$$14 + 2 = 16$$

にしさんのほうが おおくもっているだね！

こたえ (16こ)

できたらすごい！

3. 20つぶの いちごを ひとり ひとつづつ くばりました。

6つぶ のこりました。なんつぶ くばったでしょうか。

「くばった」ということは、なくなつた！→ひきざん！

しき

$$20 - 6 = 14$$

こたえ (14こ)



7

マスけいさん たしざん



+	3	7	2	8	6	5	4
8	11	15	10	16	14	13	12
4	7	11	6	12	10	9	8
6	9	13	8	14	12	11	10
9	12	16	11	17	15	14	13
7	10	14	9	15	13	12	11
5	8	12	7	13	11	10	9
1	4	8	3	9	7	6	5

保護者のかたへ

終わったら丸付けをお願いします。

/49

8

マスけいさん ひきさん




—	11	19	14	17	12	15	10
8	3	11	6	9	4	7	2
5	6	14	9	12	7	10	5
1	10	18	13	16	11	14	9
7	4	12	7	10	5	8	3
4	7	15	10	13	8	11	6
9	2	10	5	8	3	6	1
6	5	13	8	11	6	9	4

保護者のかたへ

終わったら丸付けをお願いします。

49



か

ぞ

え

か

た

ひ

よ

う

い

ろ

ん

1 2 3 4 5 6 7 8 9 10

ひとり ふたり さんにん よにん ごにん ろくにん ななにん はちにん きゅうにん じゅうにん

いっご にご さんご よんご ごご ろご ながご はっご きゅうご じっご

いっほん にほん さんほん よんほん ごほん ろっほん ななほん はっほん きゅうほん じっほん

いちまい にまい さんまい よんまい ごまい ろくまい ななまい はちまい きゅうまい じゅうまい

いっさつ にさつ さんさつ よんさつ ごさつ ろくさつ ななさつ はっさつ きゅうさつ じっさつ

いっびき にひき さんびき よんひき ごひき ろっびき ななひき はっびき きゅうひき じっびき

いちわ にわ さんわ よんわ ごわ ろくわ ななわ はちわ きゅうわ じゅうわ

いっぶん にぶん さんぶん よんぶん ごぶん ろっぶん ななぶん はっぶん きゅうぶん じっぶん

いっごくにん にごくにん さんごくにん よんごくにん ごごくにん ろくごくにん ななごくにん はっごくにん きゅうごくにん じっごくにん

いっごくにん にごくにん さんごくにん よんごくにん ごごくにん ろくごくにん ななごくにん はっごくにん きゅうごくにん じっごくにん