


# 社会単元テスト「3人の武将と天下統一」

1 右の資料を見て、次の問いに答えなさい。

- (1) 資料で表されているのは、1575年に現在の愛知県で起きた戦いです。この戦いを何といいますか。  
( )
- (2) [A]の軍は、戦いに何を使用していますか。  
( )



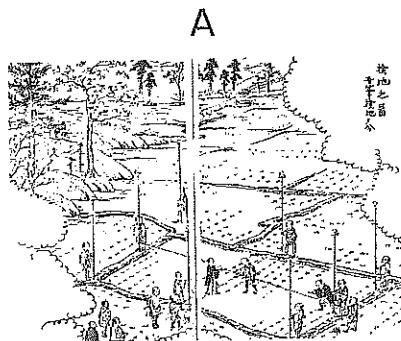
2 ある人物についてまとめた右の年表を見て、次の問いに答えなさい。

- (1) 年表はだれについてまとめたものですか。  
( )
- (2) Aについて、キリスト教を日本に伝えたのは、だれですか。  
( )
- (3) (B)にあてはまる言葉を書きなさい。  
( )

年	主なできごと
1534	尾張国(愛知県)に生まれる
1549	日本にキリスト教が伝わる…………… A
1560	今川義元 <small>いまがわよしもと</small> を破る
1573	室町幕府をほろぼす
1576	( B )城を築いて、根拠地とする
1582	明智光秀 <small>あきほ</small> に襲われ、自害する

3 **資料読み取り** 右のA・Bの資料を見て、次の問いに答えなさい。

- (1) Aは何をしているところですか。  
( )
- (2) Bについて、①どのような武器を取り上げましたか。また、②武器を取り上げた目的は何ですか。資料から読み取って、それぞれ書きなさい。  
①( )  
②( )
- (3) Aを行い、Bの命令を出したのはだれですか。  
( )



B

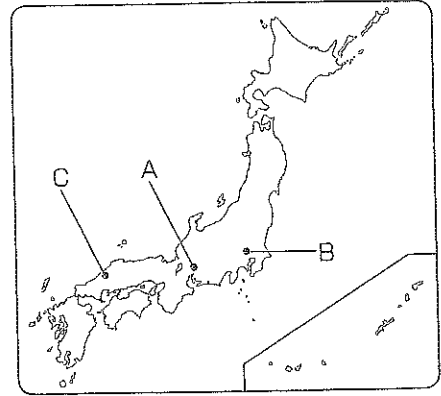
— 諸国の百姓が、刀、やり、鉄砲などの武器をもつことを、かたく禁止する。武器をたくわえ、年貢を出ししぶり、一揆をくわだてて領主に反抗する者は厳しく処罰される。

4 右の地図を見て、次の問いに答えなさい。

(1) Aでは、1600年に「天下分け目の戦い」とよばれる戦いが起きました。この戦いを何といいますか。  
( )

(2) Bについて、次の文中の①～③にあてはまる言葉をそれぞれ書きなさい。

①は1590年にBの地に入り、②を築いた。①の戦いのあと、1603年にはここに幕府が開かれた。この幕府を③という。



①( ) ②( ) ③( )