

- 1 地図のやくそく
- 2 地図帳の使い方
- 3 広く見たす地図
- 4 都道府県を見る地図
- 5 くわしく見る地図
- 6 世界の地図
- 7 資料図
- 8 統計・さくいん

世界発見! 1-3

日本をながめてみよう 4-6

地図って何だろう 7-8

地図のやくそく 9-14

地図帳の使い方 15-18

広く見たす地図 19-28

日本の領土とそのまわり 29-30

南西諸島 31-32

九州地方 33-34

九州地方北部 35-36

中国地方 37-38

四国地方 39-40

瀬戸内海周辺 41-42

近畿地方 43-44

近畿地方中部 45-46

京阪神(京都・大阪・神戸) 47-48

奈良市中心部・京都市中心部 49-50

中部地方 51-52

中部地方南部 53-54

自動車産業のさかな愛知県 55

新潟県 56

関東地方 57-58

関東地方南部 59-60

日本の首都・東京 61-62

東京都とそのまわり 63-65

東北地方 66-68

北海道地方 69-70

北海道地方南部 71-72

世界と地球儀 73-74

アジア・オセアニア 75-76

アジア 77-78

ヨーロッパ・アフリカ 79-80

ヨーロッパ 81-82

北アメリカ・南アメリカ 83-84

アメリカ合衆国 85-86

日本の自然のようす 87-90

日本の自然災害と防災 91-94

日本の産業のようす 95-98

日本と世界の結びつき 99-100

日本の歴史と世界文化遺産 101-102

日本の統計・世界の統計 103-105

さくいん 106-114

3年生から始まる外国語活動でも
地図帳を使ってみよう!

世界発見!

発見しよう1 日本はどこにあるかな。
発見しよう2 下の絵はどの国にあるかな。

パンダ
コーヒー豆
バナナ



いろいろな国の
こんにちはを
言ってみよう。

イギリス Hello ハロー (英語)

フランス Bonjour ボンジュール (フランス語)

ドイツ Guten Tag グーテン ターク (ドイツ語)

ロシア Здравствуйτε スドラーストビチェ (ロシア語)

タンザニア Jambo ジャンボ (スワヒリ語)



この二次元コードを読み取ると、
別の表現の日本列島が見られます。



宇宙船から日本をながめると、
たかやま
高い山やたくさんの島が見えるね。



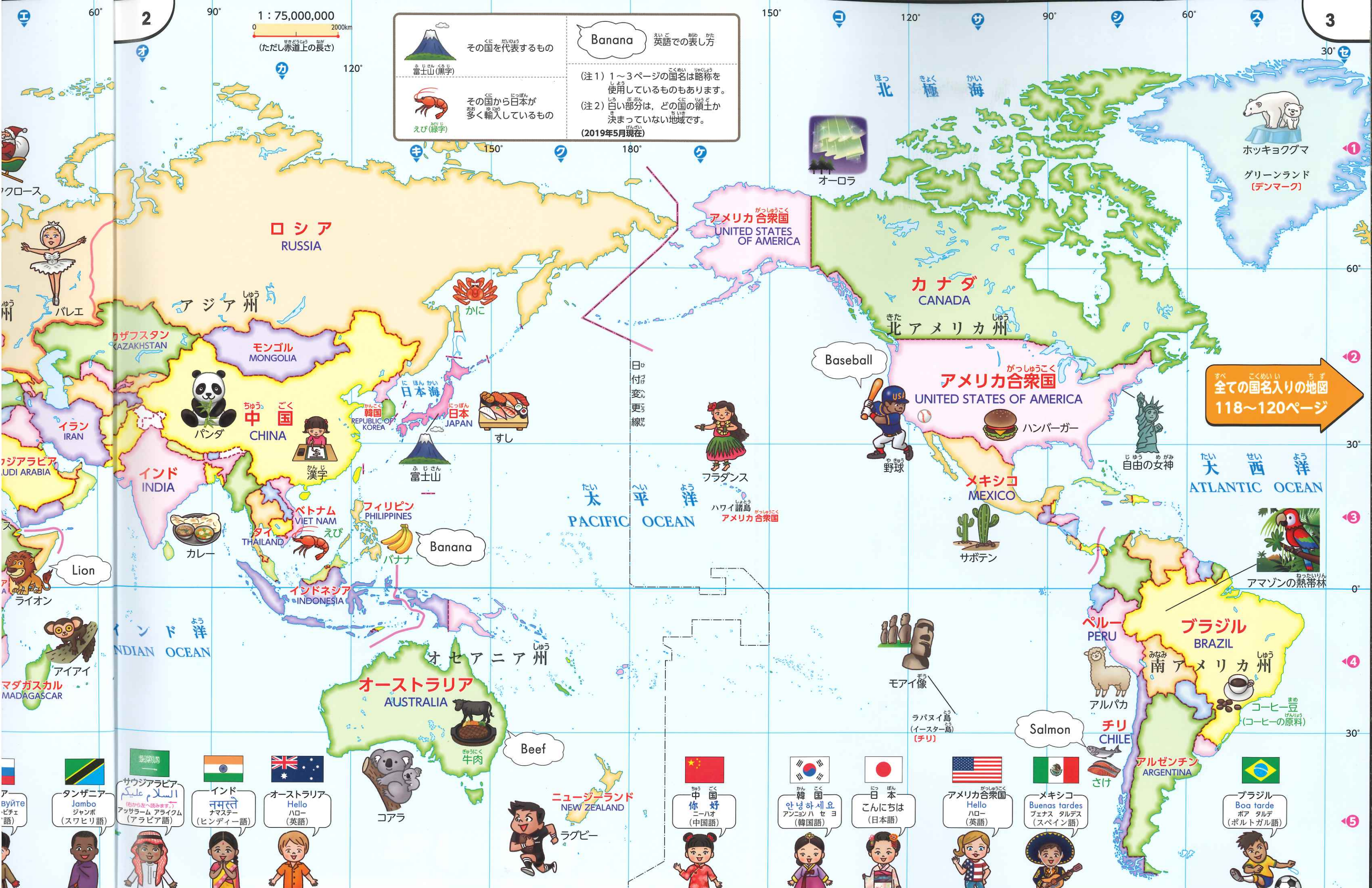
1 : 75,000,000
 0 2000km
 (ただし赤道上の長さ)

Banana えいご 英語での表し方

その国を代表するもの
 富士山 (黒字)

その国から日本が
 多く輸入しているもの
 えび (緑字)

(注1) 1~3ページの国名は略称を使用しているものもあります。
 (注2) 白い部分は、どの国の領土か決まっていない地域です。
 (2019年5月現在)



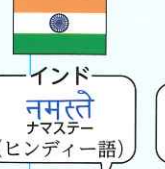
すべての国名入りの地図
 118~120ページ



Banana



Beef



朝鮮民主主義人民共和国

ロシア連邦

大韓民国

日本国



オホーツク海

北海道

日本の領土
29~30ページ

日本の都道府県
115~117ページ

海の底も、陸地と同じように
でこぼこしているんだね。



学習を深めるクイズや資料などの
コンテンツが入っている

二次元コードを使おう

タブレットパソコンなどを使って、ページの
タイトル横にある二次元コードを読み取ろう。

コンテンツメニュー



いっしょに学習しよう

わたしが地図帳の
使い方をしようかい
するよ。



地図の大切な
ポイントを
いっしょに
確認しよう。

下のものさしを使うと、
この地図のきよりがはかれるよ。



ものさし

地図って何だろう



地図とは?

上から見た土地のようすを
わかりやすくえがいたもの

1 まず学校を上から見てみよう

ア 真横から見た学校



校庭からだ、
校舎の裏側に
何があるか
わからないね。



イ ななめ上から見た学校



校舎の裏側に
体育館の屋根が見えるね。
その向こう側は
どうなっているのかな。



エ 真上から見た学校のまわり



学校のまわりの
道路や建物が
全部見えるね。



オ 学校のまわりの地図



地図で表すと、
道路や建物の
形や大きさが
わかりやすいね。



地図って何だろう

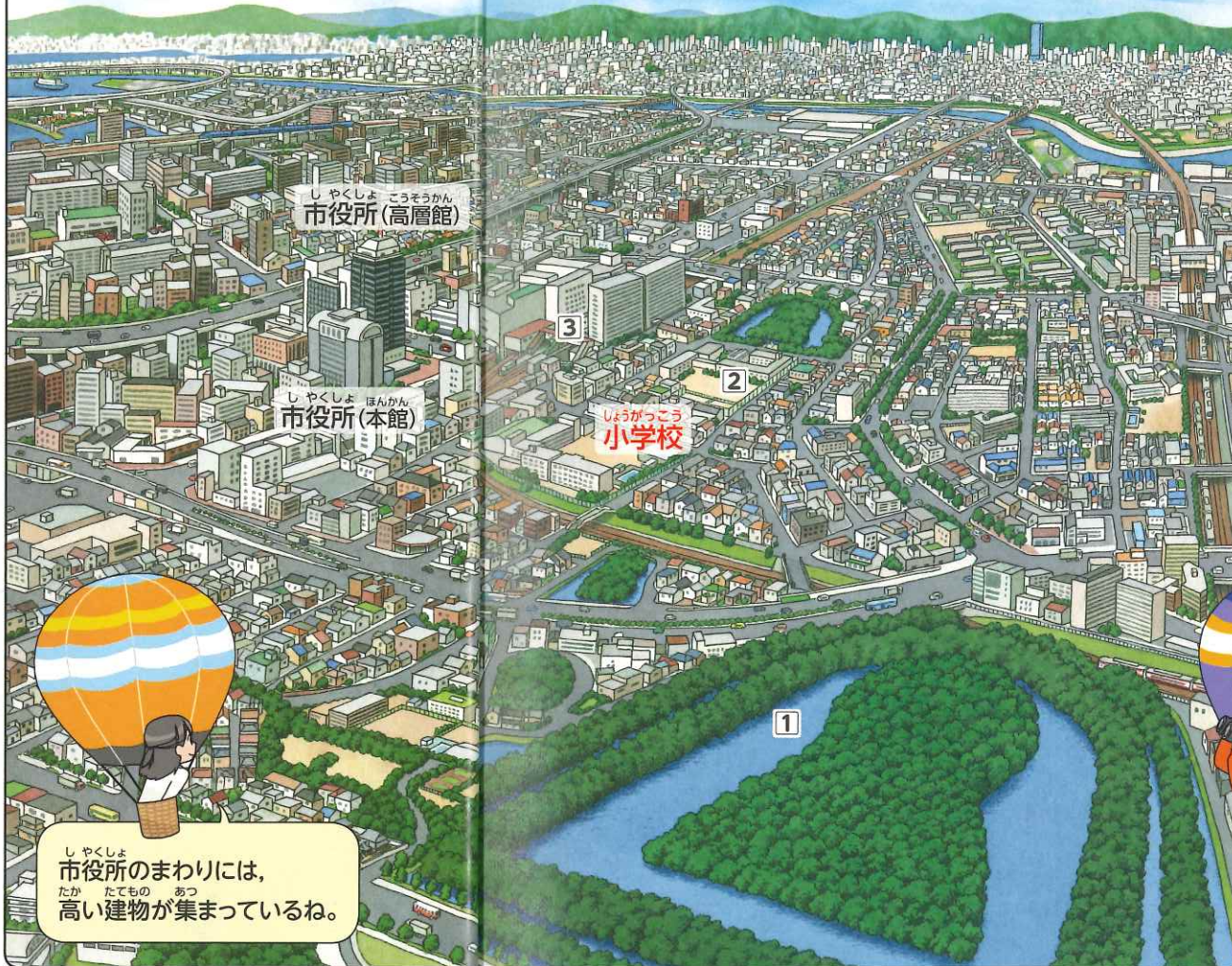
方位

地図記号

きよりの求め方

2 もっと広い範囲を 見てみよう

オ ななめ上から見た学校の まわりのようす(絵図)



市役所のまわりには、
高い建物が集まっているね。

もっと高いところからだ、
広い範囲がながめられるよ。
どのようなものが見えるかな。
下に見える大きな森は何だろう。



- トライ!**
- オの絵図とカの地図を見比べて、
下の問題にちょうせんしよう。
- オとカのそれぞれで小学校をさがして丸で囲もう。
 - オとカのそれぞれで市役所(高層館)をさがして丸で囲もう。
 - オの絵図にある123はそれぞれ何か、カの地図からさがして答えよう。

電車が走っているよ。
電車はどこまで
行くのかな。

地図を見ると、
自分の知らない場所や
行ったことのない場所でも、
どんなようすがわかるよ。
地図ってとても便利だね。



カ 真上から見た学校のまわりのようす(地図)



地図だと、市役所の場所もちゃんとわかるよ。
でも、市役所が高い建物だということはわからなくなるね。

道路や線路がどのように
つながっているかは、
地図のほうがよくわかるね。

- 地図からわかること**
- ★ どこに何があるかがわかる。
例：小学校のまわりには、
どのような施設があるか。
 - ★ つながりや位置関係がわかる。
例：小学校から見て、
市役所はどの方向にあるか。
 - ★ 遠い、近いがわかる。
例：小学校と市役所は、
どのくらいはなれているか。



地図って何だろう

方位

地図記号

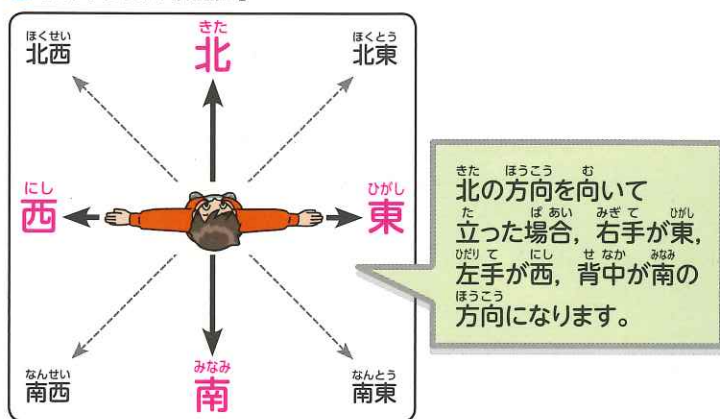
きよりの求め方

地図で正しい方向を表すには、どうすればよいかな。



1 方位で正しい方向を表そう 方向は、東西南北などの方位で表すと便利だよ。

7 方向を表す「方位」



どちらの方向にあるかを正しく表すには方位を使います。東西南北という4方位や、さらに細かく示した8方位があります。

8 教室の中で東西南北を調べてみよう

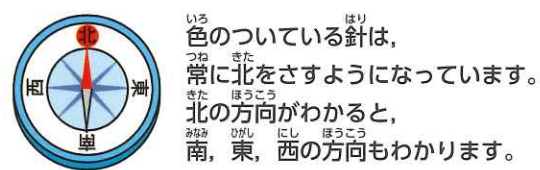


この教室は、ろうか側が北で、正面の黒板側は西になるんだね。

自分たちの教室でも、

方位じしんを使った方位の調べ方

方位じしんを使うと、方位を調べることができるよ。



- 調べるものの方向を向いて、方位じしんが水平になるように手のひらに置きます。
- 針の動きが止まったら、針の色のついたほうに、文字ばんの「北」を合わせます。
- 文字ばんから方位を読み取ります。

この場合の山の方位は「西」になります。

2 地図から方位を読み取ろう

地図には、方位記号がかかっているよ。

地図上で方位を示すさまざまな方位記号



方位記号を見れば、どちらが北なのかがわかるね。

地図はふつう北を上にかかれています。方位記号がない地図の多くは、上が北になっています。

9 学校のまわりの地図



地図のやくそく(1) 方位

- ★ 方向は、東西南北などの方位で表すことができます。
- ★ 地図には、どちらが北なのかがわかるように、方位記号がかかっています。
- ★ 方位記号がない地図の多くは、上が北になっています。

自分で地図をつくる時にも、方位記号をかこう。

地図のやくそく



地図って何だろう

方位

地図記号

きよりの求め方

わかりやすい地図をつくるには、どうすればよいか。

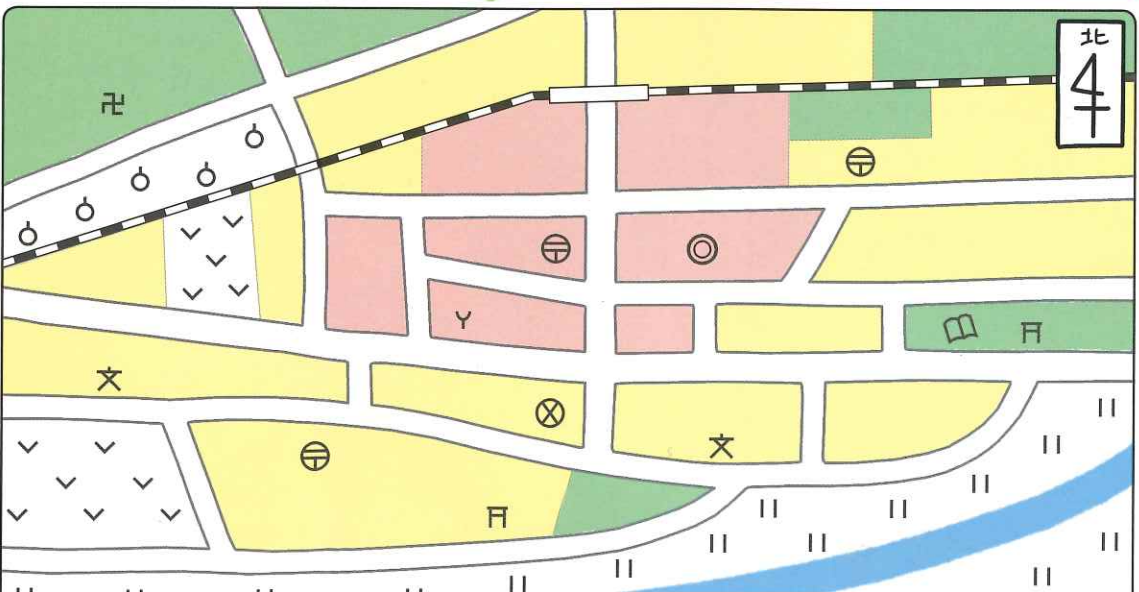


1 地図記号を使おう 地図記号を使うと、地図がわかりやすくなるよ。

絵で表した地図



2 地図記号を使って表した地図



マークや記号が何を表しているかわかるように、説明をつけよう。

マークの説明

- 小学校・中学校
- 市役所
- 郵便局
- 図書館
- 警察署
- 消防署
- 神社
- 寺
- 田
- 畑
- 果物畑
- 鉄道
- 家
- 店
- 緑があるところ

記号の説明

- 小学校・中学校
- 市役所
- 郵便局
- 図書館
- 警察署
- 消防署
- 神社
- 寺
- 田
- 畑
- 果物畑
- 鉄道
- 家が多いところ
- 店が多いところ

2 どの地図記号を知っているかな

地図記号はこうやって生まれたよ。

ものの形から生まれた地図記号

地図記号	地図記号のもとになったもの	地図記号	地図記号のもとになったもの
	警察官が持っている警棒を交差させた形。		湯のわき出すところと湯けむりを組み合わせた形。
	昔、火事の際に火の広がりを防ぐために使ったさすまたの形。		稲をかり取ったあとの切り株の形。
	神社の入り口などにある鳥居の形。		2枚の子葉の形。
	本を開いたときの形。		りんごやなしなどの果物を横から見た形。
	博物館や美術館などの建物の形。		橋を上から見た形。
	城をつくるときにはったなわの形。		線路と駅を上から見た形。

文字や記号から生まれた地図記号

地図記号	地図記号のもとになったもの	地図記号	地図記号のもとになったもの
	昔、教育や文化などに関わる仕事をしていた文部省の「文」を記号にしたもの。		昔、郵便をあつかっていた逓信省の「テ」を記号にしたもの。
	昔、郵便をあつかっていた逓信省の「テ」を記号にしたもの。		昔の衛生隊の印を記号にしたもの。
	仏教で使われる「卍」を記号にしたもの。		

そのほかの地図記号

地図記号	地図記号のもとになったもの	地図記号	地図記号のもとになったもの
	建物の形に関係なく、市の中心にあることをイメージしたもの。		建物とつえを合わせたもの。

※11~14ページの地図記号は、国土地理院の記号を参考にしています。

トライ!

① ①の地図で、一番多い建物の地図記号は何かな。

② ②の地図で、畑が広がっているところを茶色でぬってみよう。

地図のやくそく(2) 地図記号

★ 建物や土地のようすを地図に表すときには、地図記号を使うとわかりやすくなります。

★ 地図のそばに、地図記号の説明をつけよう。



地図で実際のきよりを求めるには、どうすればよいかな。

「地図でも、実際のきよりを求めることはできるのかな。」

「地図の上では、3cmだね。」

「[地図のものさし]を使えば、実際のきよりがわかるよ。」

600m

1 きよりを求めよう 「地図のものさし」を使うと、実際のきよりがわかるよ。

学校のまわりの地図

地図のものさし
0 200 400 600 800 1000
地図上の1cmは実際には200mです。

◎ 市役所	老人ホーム
文 小学校・中学校	JR線
⊗ 警察署	その他の鉄道線
Y 消防署	おもな道路
⊕ 郵便局	有料道路
⊕ 病院	家が多いところ
⊕ 神社	店や建物が集まっているところ
📖 図書館	緑が多いところ
🏠 博物館	

トライ!

- ① ⑦の地図で、小学校からみくにがおか駅までの実際のきよりは何mかな。
 m
- ② ⑦の地図で、市役所から博物館までの実際のきよりは何mかな。
 m

地図のやくそく(3) きよりの求め方

- ★ 地図は実際のきよりを縮めてかかれています
- ★ 地図で実際のきよりを求めるときは、「地図のものさし」を使います。



この地図帳にも、地図ごとに「地図のものさし」があります。

▶ 18ページ

たからさがしにちょうせんしよう



地図の三つのやくそくは確認できたかな。
方位・地図記号・きよりについてふり返りながら、たからさがしにちょうせんしよう。

たからじまの地図

0 50 100 150m

文 小学校	Y 消防署	📖 図書館	♨️ 温泉
◎ 市役所	X 交番	⊕ 寺	田
⚓ 港	⊕ 郵便局	⊕ 神社	∨ 畑

トライ!

- ③ 下の1~4を手がかりにして、たからさがそう。たからは地図中のあ~えのどこにあるかな。
- 1 ☆から北に進み、お寺のある交差点を西に進もう。
- 2 交番を右に見ながら、畑に囲まれた道を北に向かって進もう。
- 3 消防署のある道に出たら、東に進もう。
- 4 東に50m進み、小学校のある交差点を北に進んだところに、たからがあるよ。
- ④ たからが◆の場所にあるときの小学校からの行き方を説明してみよう。



地図中の方位記号で、東西南北を確認しよう。



建物だけでなく、土地のようすにも注目しよう。

③の答えは、このページの下にあります。

地図って何だろう

方位

地図記号

きよりの求め方

地図のやくそく



ちず きごう いろ
地図の記号や色の
説明のことを
はんれい
凡例ともいいます。



1 記号に注目しよう

ちずちよう きごう
地図帳の記号は、ここで調べられるよ。

日本

都市・境界の記号

都市の記号

- 人口100万人以上の市
- 人口50万人~100万人の市
- 人口20万人~50万人の市
- 人口10万人~20万人の市
- 人口10万人未満の市

- 町
- 村
- おもな字・旧市町村

- 都・道・府・県庁のある都市
- 北海道の振興局のある都市

- 都・道・府・県庁 (160万分の1と100万分の1の地図をのぞく)
- 人口10万人~20万人とは、人口10万人以上20万人未満の意味です。

境界の記号

- 外国との境界
- 都・道・府・県境
- 北海道の振興局の境界
- 河川などと重なる場合は、黒の線を省略していることもあります。

文化・歴史の記号

- 原爆ドーム 世界文化遺産
- 桶狭間の戦い おもな歴史地名・事項
- 神社 寺院 城跡
- 史跡・名勝 古戦場跡

世界

都市・境界の記号

都市の記号

- 人口100万人以上の都市
- 人口50万人~100万人の都市
- 人口20万人~50万人の都市
- 人口10万人~20万人の都市
- 人口10万人未満の都市

境界の記号

- 世界の州境
- 国の境界
- 確定していない国の境界

地形の記号

- 川
- 滝
- 湿地
- 山頂
- 火山頂

交通の記号

陸上交通(鉄道・道路)の記号

- 新幹線
- 高速道路
- JR線
- おもな自動車専用道路・有料道路
- その他の鉄道線
- おもな道路
- 地下鉄
- 橋

水上交通の記号

- 船の航路
- 国際便のある空港
- 商港
- 漁港
- 灯台
- その他の空港

環境の記号

- 知床 世界自然遺産
- 世界ジオパーク
- ラムサール条約登録湿地
- 貴重な動植物
- 天然記念物

産業の記号

おもな農業・林業・水産物の産物記号

- こめ
- とうもろこし
- かぼちゃ
- きゅう
- さつまいも
- じゃがいも
- だいこん
- たまご
- トマト
- なす
- にんじん
- ねぎ
- はくさい
- ピーマン
- いちご
- かき
- くり
- さくらんぼ
- すいか
- なし
- ぶどう
- みかん
- メロン
- もも
- りんご
- しいたけ
- 木材
- 肉牛
- 乳牛
- ぶた
- にわとり(卵用)
- にわとり
- かき
- ほたて貝
- しんじゆ

おもな工業製品の記号

- 自動車
- 自動車部品
- 造船
- 製鉄
- 集積回路
- 製油
- 化学
- 医薬品
- 食品
- その他の工場

エネルギー資源の記号

- 鉱山
- 閉山した鉱山
- 炭田
- 油田
- ガス田

発電所の記号

- 火力発電所
- 水力発電所
- 原子力発電所
- 地熱発電所
- 風力発電所
- 太陽光発電所

その他の記号

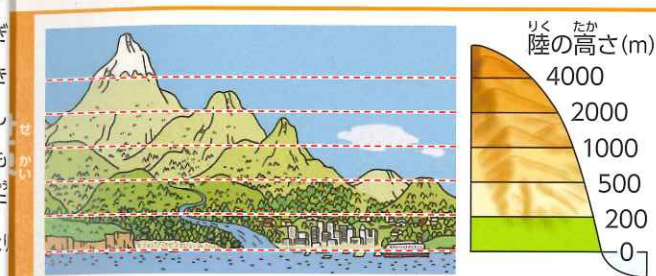
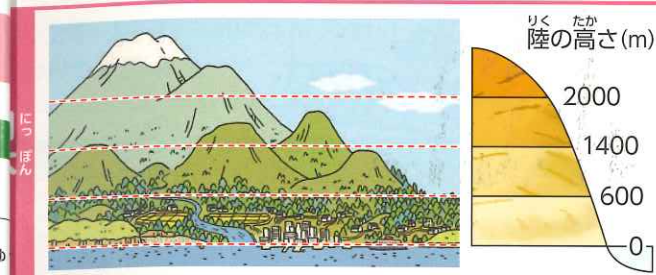
- 用水路・運河
- ダム
- 温泉
- 特色のある建物
- 野球場
- サッカー場
- 動物園
- 音楽のぶたい

2 色に注目しよう

ちずちよう りく たか とち つか かた とちりよう いろ
地図帳では、陸の高さや土地の使われ方(土地利用)を色で表しているよ。

陸の高さ

たか高いところ、ひく低いところが
いろ色でわかるようになっています。



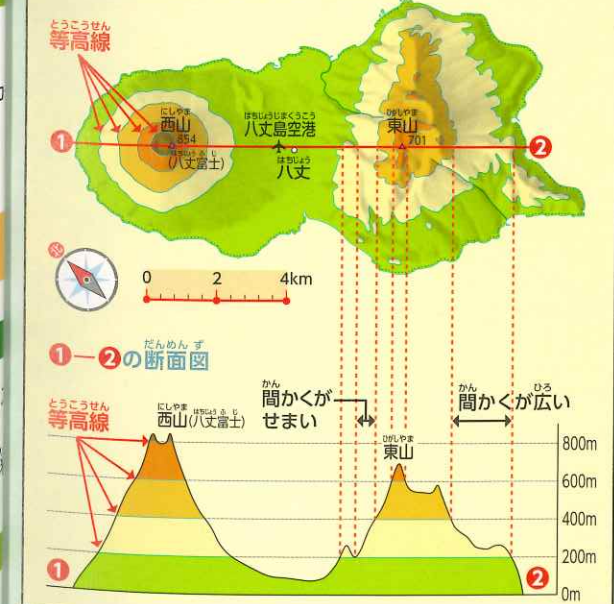
ちずによつては、たかの区切り方が異なる場合があります。

陸の高さと地図

ななめ上から見た八丈島(東京都)



陸の高さを色で表した八丈島の地図



土地利用

さんぎよう 産業のようすや市街地の広がりが
いろ色でわかるようになっています。



※地図によつては、茶畑や牧草地、工業地なども色で表しています。

陸の高さが同じところを結んだ線を等高線といいます。等高線の間かくがせまいと土地のかたむきが急で、間かくが広いと土地のかたむきがゆるやかです。

上から見た地図でも陸の高さがわかるように、色のちがいで表しているんだよ。



地図帳の記号と色(凡例)

さくいんの使い方・縮尺

地図帳の使い方



地図帳の記号と色(凡例)

さくいんの使い方・縮尺

1 さくいんを使おう 地名の場所が簡単に見つかるよ。



このみかんがつけられた浜松の場所を地図帳で見つけるには、どうすればいいかな。



地図帳で地名をさがすときには、さくいんを使いましょう。さくいんは106~114ページにあります。

地名のさがし方 ~浜松を例に~

- 106ページから始まるさくいんを開こう。
- 「はままつ」の1文字目の「は」をさがそう。
- 次に、2文字目の「ま」をさがそう。
- 「はままつ」を見つけたら、ページと、列・行の記号を確認しよう。
- 52ページを開いて、Eの列と7の行がぶつかるマス目の中をさがそう。

さくいんの地名は、国語辞典のように五十音順に並んでいるね。



マス目の見方は、時間割の見方と似ているね。

は

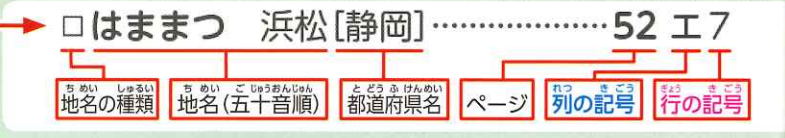
○はえばる 南風原[沖縄] 31 ㉔A4
○はが 芳賀[栃木] 57 カ4

...

□はまだ 浜田[島根] 37 エ4
○はまとんべつ 浜頓別[北海道] 69 エ1
○はまなか 浜中[北海道] 70 キ3
○はまなこ 浜名湖 52 エ7
□はままつ 浜松[静岡] 52 エ7
□はむら 羽村[東京] 59 エ3
○はやかわ 早川[山梨] 52 オ6

時間割

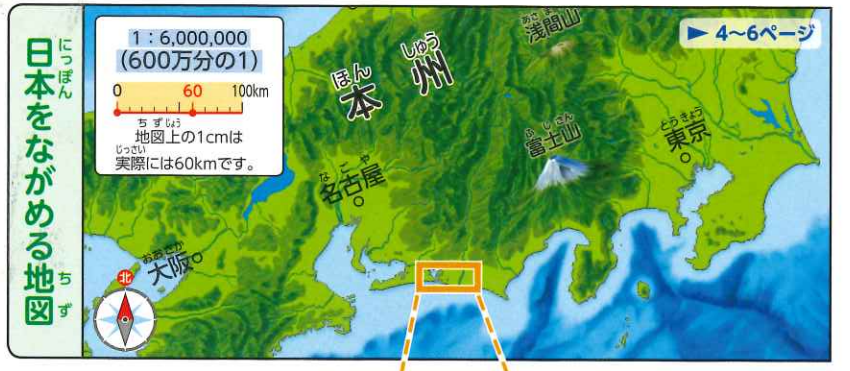
	月	火	水	木	金	土
1	国語	音楽	国語	算数	体育	国語
2	理科	算数	英語	社会	総合	
3	社会	図工	音楽	算数	総合	
4	算数	体育	図工	国語	総合	
5	道徳	算数	学活	理科	国語	
6	国語		書写			



52ページの浜松周辺の地図



2 目的に合わせて地図を使い分けよう 地図帳にはいろいろな地図があるよ。



「日本をながめる地図」は、日本列島の形や大きさがわかりやすいね。



「日本をながめる地図」4~6ページ

「広く見わたす地図」は、都道府県の位置や形、交通のつながりが確認しやすいね。



「広く見わたす地図」19~28ページ

「地域のような絵からもわかるね。」



「都道府県を見る地図」と「くわしく見る地図」は、都道府県の特徴を調べるときに便利だよ。



「都道府県を見る地図、くわしく見る地図」31~72ページ

縮尺って何?

地図は、実際のきよりを縮めてかかれています。どのくらい縮めたのかを示した値を「縮尺」といいます。

「都道府県を見る地図」の場合
1 : 1,000,000 (100万分の1)



*このほかに、20万分の1や5万分の1の地図などのよりくわしい地図もあります。

地図マスターへの道

この地図帳のいろいろなページに、「地図マスターへの道」のコーナーがあります。

この地図帳は6年生まで使えます。4年間でさまざまな問題に何度もチャレンジして、地図マスターをめざそう。

なかには、難しい問題もあるけど、上級生になったら解けるようになるかな。

① Lv.1 (レベル1) ② Lv.2 (レベル2) ③ Lv.3 (レベル3)

問題に正しく答えられたら、□に印(✓)をつけよう。

問題に正しく答えられたら、1問につき、117ページの○を一つずつぬっていき、すべての○をぬりつづけて地図マスターになろう。

地図帳の使い方

② 南西諸島

1:5,000,000 (500万分の1)



地図上の1cmは実際には50kmです。

※この②図は、①図や③図と縮尺がちがいます。



広く見わたす地図では、それぞれの都道府県で有名なものが、絵でついているよ。



自分たちの住む都道府県には、どんな絵がのっているかな。さがしてみよう。



③ 沖縄諸島

1:1,600,000 (160万分の1)




地図上の1cmは実際には16kmです。



① 広く見わたす地図

九州地方

1:1,600,000 (160万分の1)



地図上の1cmは実際には16kmです。



地図マスターへの道

19ページで、沖縄県にある水族館をさがしてみよう。

20ページで、福岡市から鹿児島市まで、新幹線の線路(→←)を指でたどってみよう。



広く見わたす地図

② 竹島

島根県

位置

陸の高さ(m)

地図記号などは15ページ



② 広く見わたす地図

地図マスターへの道

① Lv.1 大きな橋がかいてある絵を地図から三つさがしてみよう。

② Lv.2 新幹線で大田市から福岡市まで行く間に通る府県はどこかな。線路(---)を指でたどりながら、府県の名前を言ってみよう。

瀬戸内海には、高速道路で結ばれている島もあるね。





日本標準時子午線

3

4

5

6

7

3

4

5

6

7

このページの地図では、
色のところは、陸の高さが
0~200mのところなんだね。

地図マスター

① Lv.1 富士山をさがしてみよう。
どの県とどの県に
またがっているかな。

② Lv.2 京都市から静岡市までの
地図上の長さは、およそ
15cmです。実際の
長さは、およそ
何kmかな。



カ

オ

イ

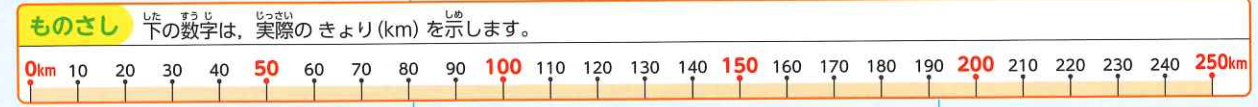
カ

オ


カ

オ

カ



ものさし 下の数字は、実際のきより(km)を示します。



① ② ③ ④ ⑤ ⑥
⑦ ⑧ ⑨ ⑩ ⑪ ⑫ ⑬ ⑭ ⑮ ⑯ ⑰ ⑱ ⑲ ⑳ ㉑ ㉒ ㉓ ㉔ ㉕ ㉖ ㉗ ㉘ ㉙ ㉚ ㉛ ㉜ ㉝ ㉞ ㉟ ㊱ ㊲ ㊳ ㊴ ㊵ ㊶ ㊷ ㊸ ㊹ ㊺ ㊻ ㊼ ㊽ ㊾ ㊿

ちいばね
北海道の地域分け
渡島 総合振興局・振興局



いろいろな新幹線が走っているね。どこまで行けるのかな。

地図マスタ

東北地方の大きなまつりを五つさがしてみよう。
それぞれ何県にあるかな。
ヒント：東北地方の範囲は、116～117ページで確認できるよ。

① Lv.1

② Lv.2

さくいん記号の26④⑤⑥の中にある果物の名前を、二つ答えよう。
ヒント：さくいんの使い方は、17ページで確認できるよ。

ちみ 広く見わたす地図
とうほくちほう 東北地方
1:100,000 (160万分の1) 0 10 1620 30km 地図上の1cmは実際には16kmです。



139°

カ

オ

イ

カ

広へ見わたす地図

カ

オ

イ

① 広く見わたす

ちづ 地図 北海道地方

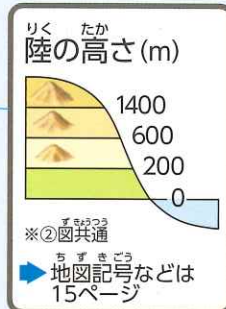
1 : 1,600,000 (160万分の1)

0 10 16.20 30km

地図上の1cmは実際には16kmです。



ちづ 位置



北海道の地域分け
釧路 総合振興局・振興局



フェリー

4

5

えとろとろ ② 択捉島

1 : 1,600,000 0 10 16.20km
(160万分の1)



北海道には、いろいろな
のうさぎつ え
農産物の絵があるね。



ちづ 地図マスター への道

北海道で、寒い地域ならではの
1 Lv.1 まつりの絵をさがしてみよう。

札幌市から見て、旭川市は
2 Lv.1 どの方位にあるかな。

広く見わたす地図

0 200 400 600 800 1000km 東京からのきよりと方位が正しい地図

② 国の範囲はどこまでだろうか？(模式図)



ミャンマー連邦共和国

タイ王国

カンボジア王国

ベトナム社会主義共和国

フィリピン共和国

マレーシア

インドネシア共和国

ブルネイ・ダルサラーム

シンガポール

ロシア連邦

モンゴル国

中華人民共和国

日本国

北海道

本州

四国

九州

北緯45°33'

北緯20°25'

東経153°59'

東経122°56'

東京から5500km

東京から10000km

東京から15000km

東京から2000km

東京から2300km



日本の所屬界

日本の排他的経済水域

写真の位置

(注1,2および②図参照)

(注1) 経済水域および大陸棚に関する法律に基いて引かれた線。

(注2) 線の一部については関係する近隣諸国と話し合っています。

その他の記号は15ページ

④ 日本固有の領土

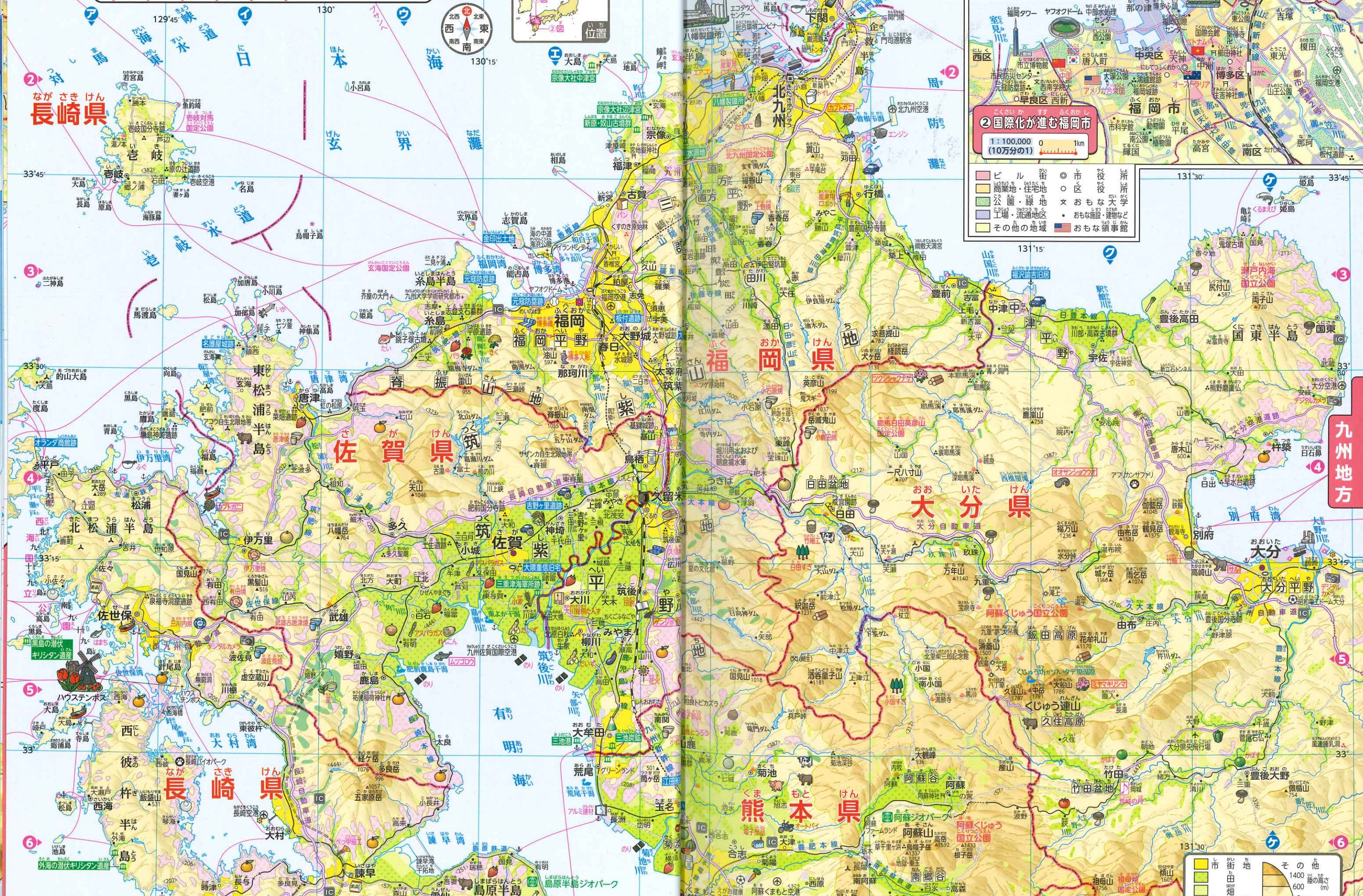
- 1 北方領土 (北海道)**
写真は知床半島から見た国後島です。北方領土は日本固有の領土ですが、ロシアが不法に占拠しています。
- 2 竹島 (島根県)**
島根半島の沖に位置する日本固有の領土ですが、韓国が不法に占拠しています。
- 3 尖閣諸島 (沖縄県)**
日本固有の領土です。一番奥に見えるのが諸島の中で最も大きな魚釣島です。

地図マスターへの道

① Lv.1 日本の南端、北端、東端、西端の島の名前をそれぞれ答えよう。

② Lv.1 北方領土とよばれる島と群島の名前を四つ答えよう。





2 国際化が進む福岡市

1:100,000 (10万分の1)

- ビル街
- 商業地・住宅地
- 公園・緑地
- 工場・流通地区
- その他の地域
- 市役所
- 区役所
- おもな大学
- おもな施設・建物など
- おもな領事館

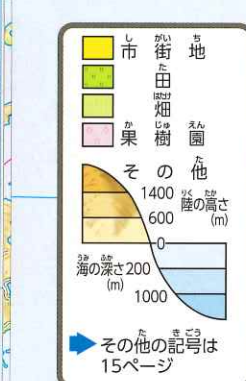




地図上の1cmは実際には10kmです。

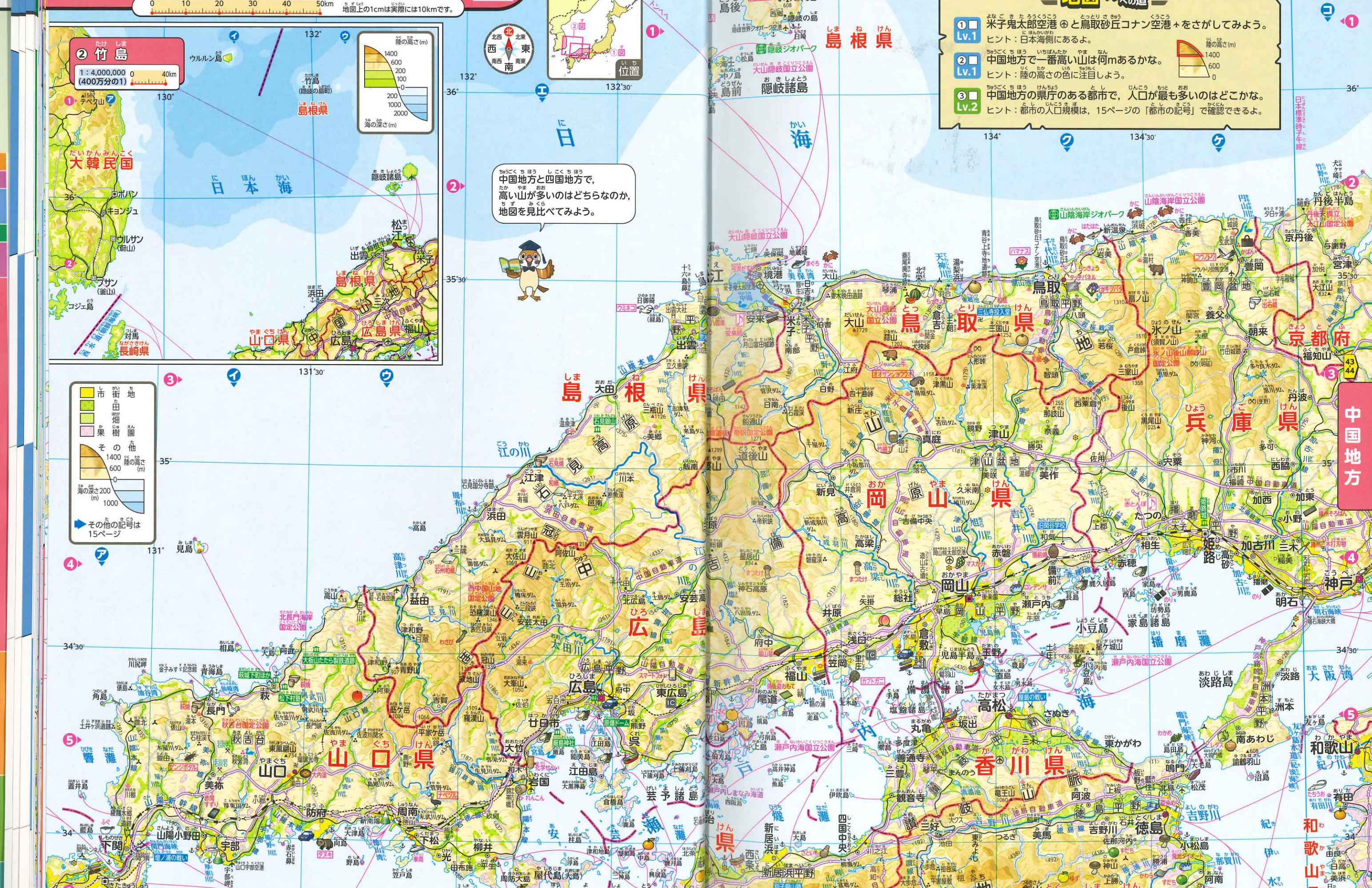


中国地方と四国地方で、高い山が多いのはどちらなのか、地図を見比べてみよう。



地図マスターへの道

- 1 Lv.1 よなごき たろうくうこう ととりさきやう 米子鬼太郎空港と鳥取砂丘コナン空港をさがしてみよう。 ヒント：日本海側にあるよ。
- 2 Lv.1 ちゅうごくちゅうほう いちばんたか やま なん 中国地方で一番高い山は何mあるかな。 ヒント：陸の高さの色に注目しよう。
- 3 Lv.2 ちゅうごくちゅうほう けんちゆう としじんこう 中国地方の県庁のある都市で、人口が最も多いのはどこかな。 ヒント：都市の人口規模は、15ページの「都市の記号」で確認できるよ。



中国地方



0 10 20 30 40 50km 地図上の1cmは実際には10kmです。



くわしく見る地図 ▶ 41~42ページ



四国地方

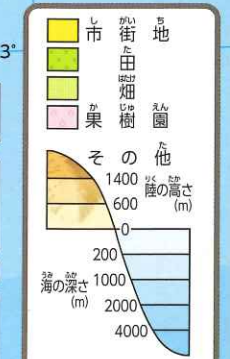


位置

地図マスター

- ① Lv.1 四国地方4県の中でオリーブの記号 があるのは何県かな。
ヒント：四国地方の範囲は、116~117ページで確認できるよ。
- ② Lv.2 四国と本州を結ぶ高速道路は何県と何県を結んでいるかな。
全部答えよう。
ヒント：四国と本州は、4~6ページで確認できるよ。

しましまむすせん (——) は何だろう。





地図上の1cmは実際には5kmです。



② 広島市のようす

2018年

原爆による被害状況

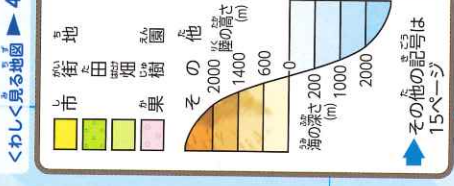
- 爆心地からのきよりの建物がつすてこわってしまった地域



10 20 30 40 50km 地図上の1cmは実際には10kmです。

地図マスタ

たぬきの焼き物 をさがしてみよう。
ヒント：滋賀県にあるよ。
日本標準時子午線上に都市の記号があるのは何市かな。
近畿地方で、果樹園が一番広がっているのは何県かな。また、そこにある果物の記号を一つ答えよう。
ヒント：果樹園 に注目しよう。



くわしく見る地図 ▶ 45~46ページ

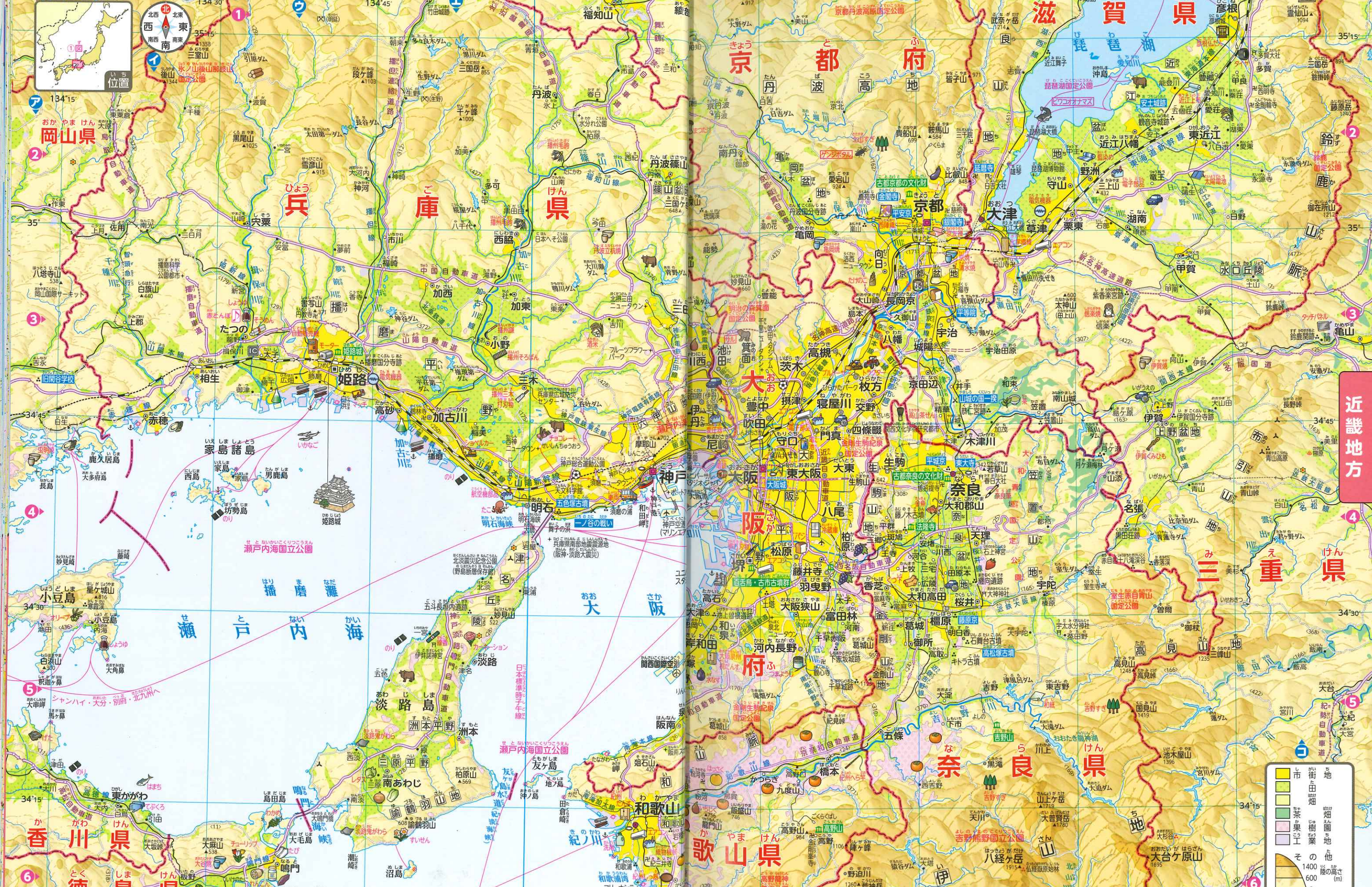


東経135度は、日本の時刻の基準になっている線で、「日本標準時子午線」とよばれているよ。

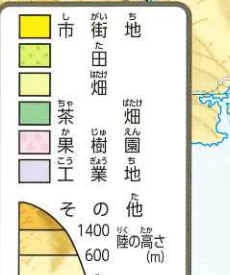


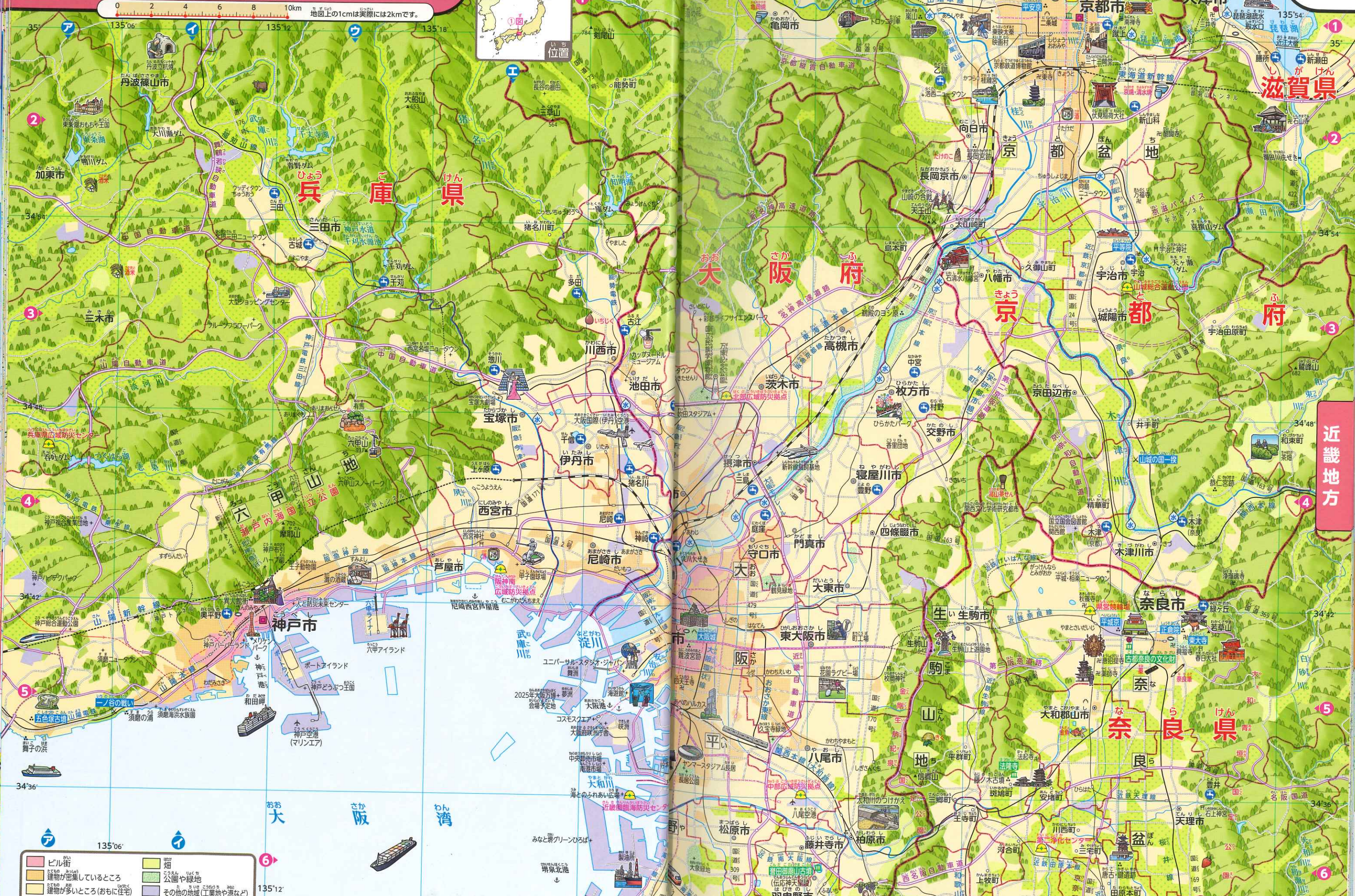


0 5 10 15 20 25km 地図上の1cmは実際には5kmです。



近畿地方





滋賀県

近畿地方

ビル街
 建物が密集しているところ
 建物が多いところ(おもに住宅)
 畑
 公園や緑地
 その他の地域(工業地や港など)
 山地や丘陵地



0 500 1000 1500 2000 2500m 地図上の1cmは実際には500mです。



② 斑鳩町付近

③ 明日香村付近



0 500 1000 1500 2000 2500m 地図上の1cmは実際には500mです。



近畿地方

- ①~④共通
- ビル街
- 商業地・住宅地
- 公園・緑地
- その他の地域
- 森林
- 清水寺
- 世界文化遺産
- 市役所
- 区役所・町役場・村役場



46ページを見てみよう。①~④図の位置が確認できるよ。



① 奈良公園を訪れる外国人観光客(2013年)

奈良や京都は外国から観光客も多く来ると言われています。



② 空から見た京都市中心部(2016年)

地図マスターへの道

①Lv.1 写真は京都駅から見て北か南どちらの景色かな。地図で確認してみよう。

②Lv.2 私はどこにいるかな。

①京都駅から北に1000mほど進んで、五条通を西に曲がって進んで。

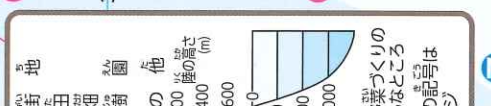
1 : 1,000,000 (100万分の1)



地図 53~54ページ

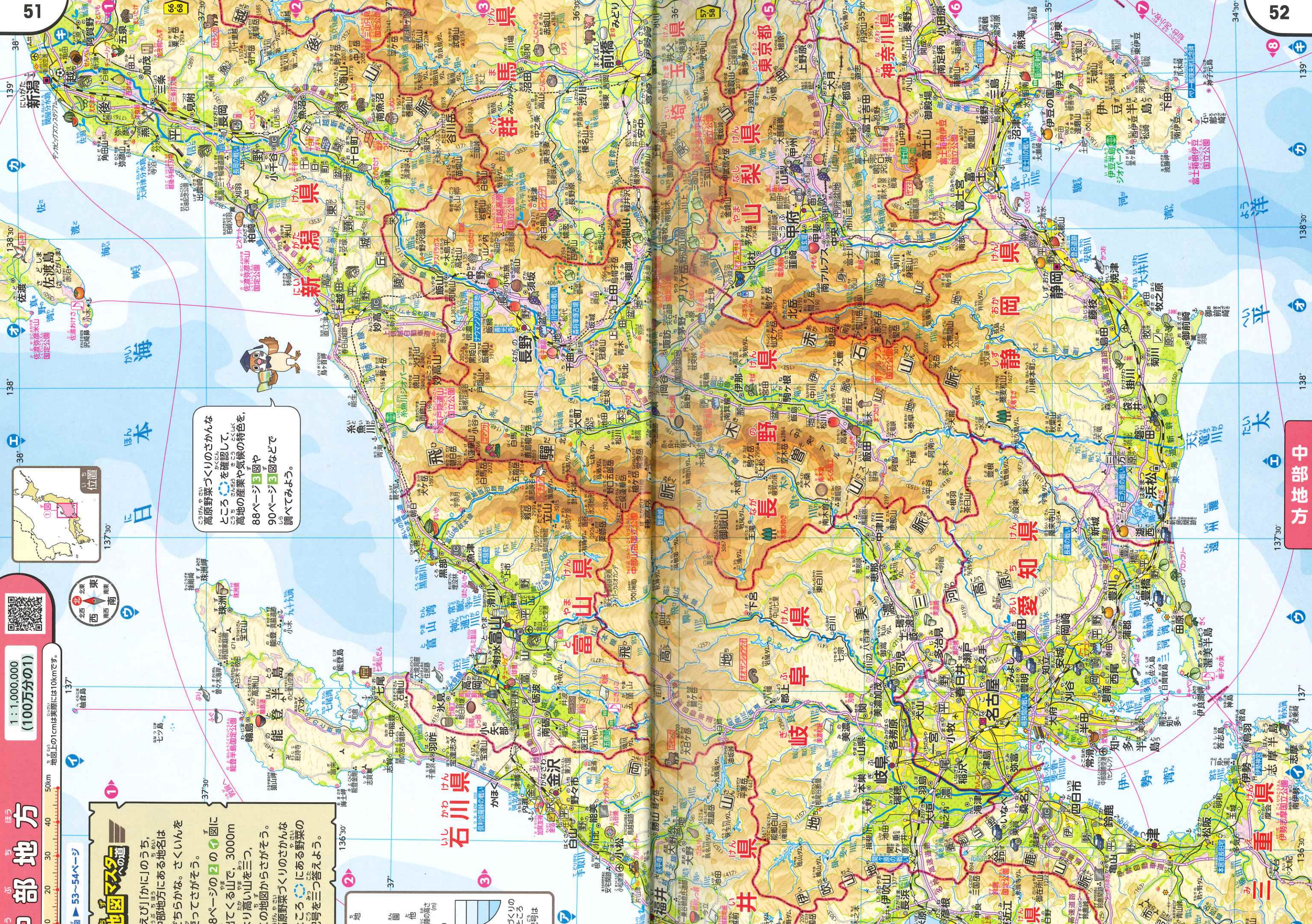
地図マスタへの道

「えび」か「かに」のうち、中部地方にある地名はどちらかな。さくいんをど使ってさがそう。
88ページの2の図に出てくる山で、3000mより高い山を三つ、この地図からさがそう。
高原野菜づくりのさかんなところにある野菜の記号を三つ答えよう。



高原野菜づくりの記号は...

高原野菜づくりのさかんなところを確かめて、高地の産物や気候の特色を、88ページE図や90ページE図などで調べてみよう。



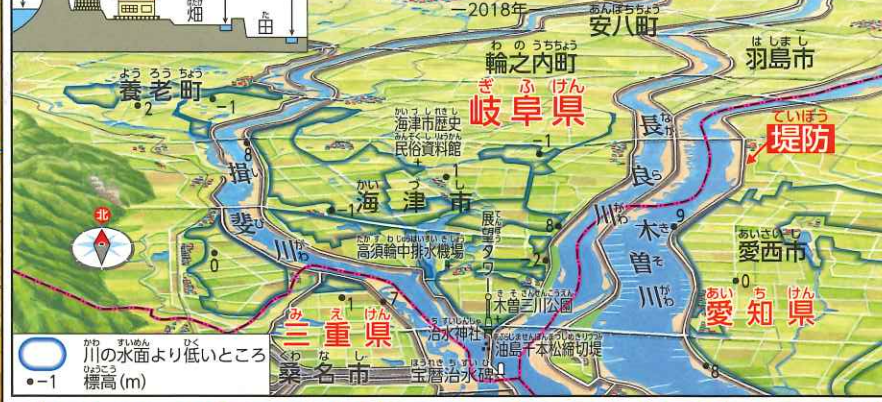
地図上の1cmは実際には5kmです。



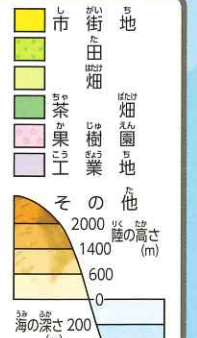
位置



② 洪水への備え -濃尾平野の輪中-



中部地方



地図上の1cmは実際には3kmです。



ビル街
建物密集して建物が多いところ

公園や緑地
その他の地域

山地や丘陵地

完成車の自動車組み立て工場

自動車部品・関連工場

エンジン
シート
ガラス
電子部品
その他の記号は

越後平野には大きな川が流れていて、田が広がっているね。



地図マスターへの道

自動車の組立工場を八つさがして、赤色の丸で囲もう。

地図上の1cmは実際には10kmです。



中部地方



地図マスターへの道

自動車の組立工場を八つさがして、赤色の丸で囲もう。

1:1,000,000
(100万分の1)

50km

地図上の1cmは実際には10kmです。



地形図 50ページ

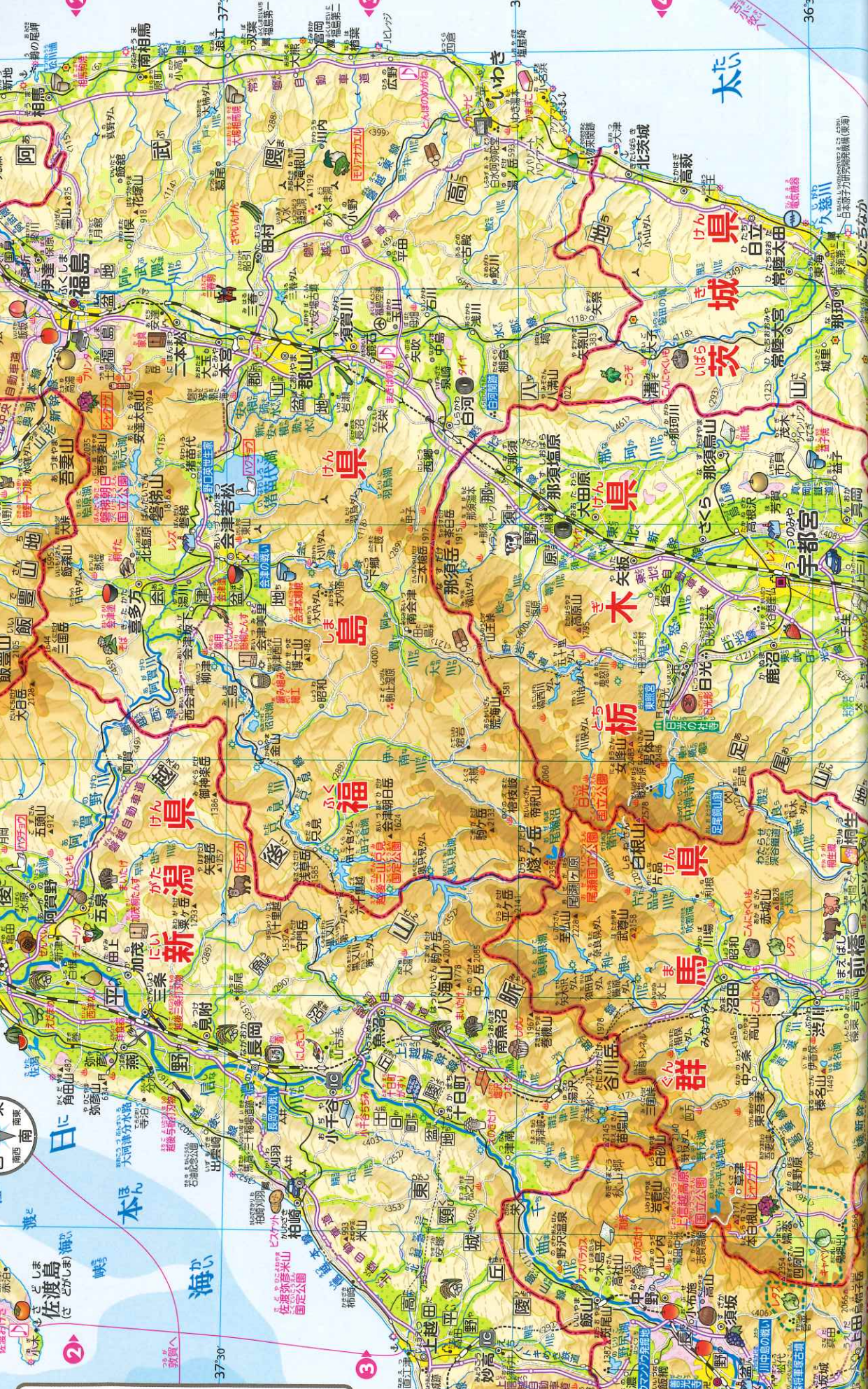
1:1,000,000 (100万分の1)

0 1000 2000 3000 4000 5000 6000 7000 8000 9000 10000

地形図 50ページ

1:1,000,000 (100万分の1)

0 1000 2000 3000 4000 5000 6000 7000 8000 9000 10000



1:1,000,000
(100万分の1)

50km

地図上の1cmは実際には10kmです。



地形図 50ページ

1:1,000,000 (100万分の1)

0 1000 2000 3000 4000 5000 6000 7000 8000 9000 10000

地形図 50ページ

1:1,000,000 (100万分の1)

0 1000 2000 3000 4000 5000 6000 7000 8000 9000 10000



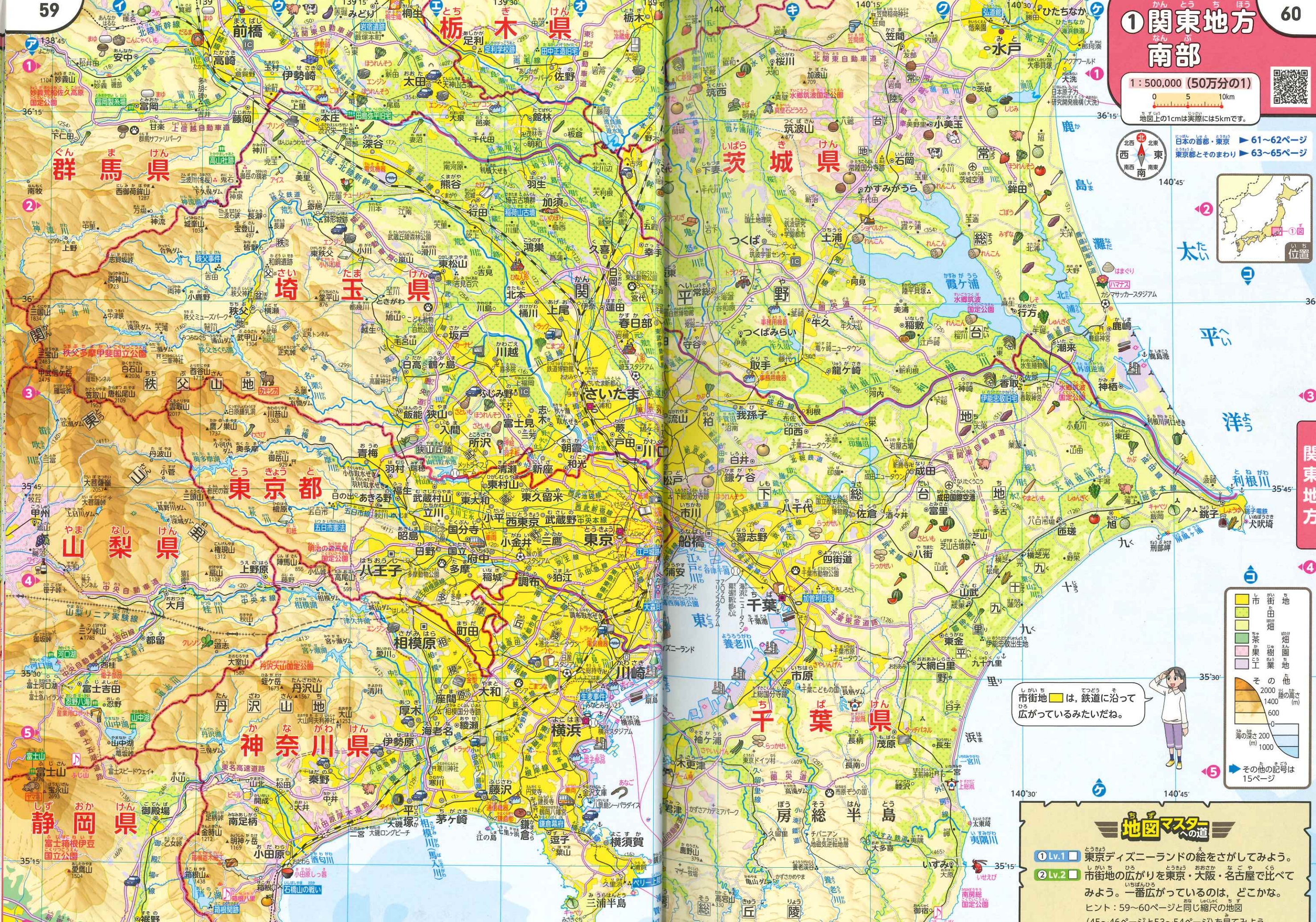
1 関東地方南部

1 : 500,000 (50万分の1)



北 北東 東 南東 南 南西 西 北西

日本の首都・東京 ▶ 61~62ページ
東京都とそのまわり ▶ 63~65ページ



関東地方

市街地	畑	茶園	果樹園地	工業地	その他
市街地	畑	茶園	果樹園地	工業地	その他

その他の記号は15ページ

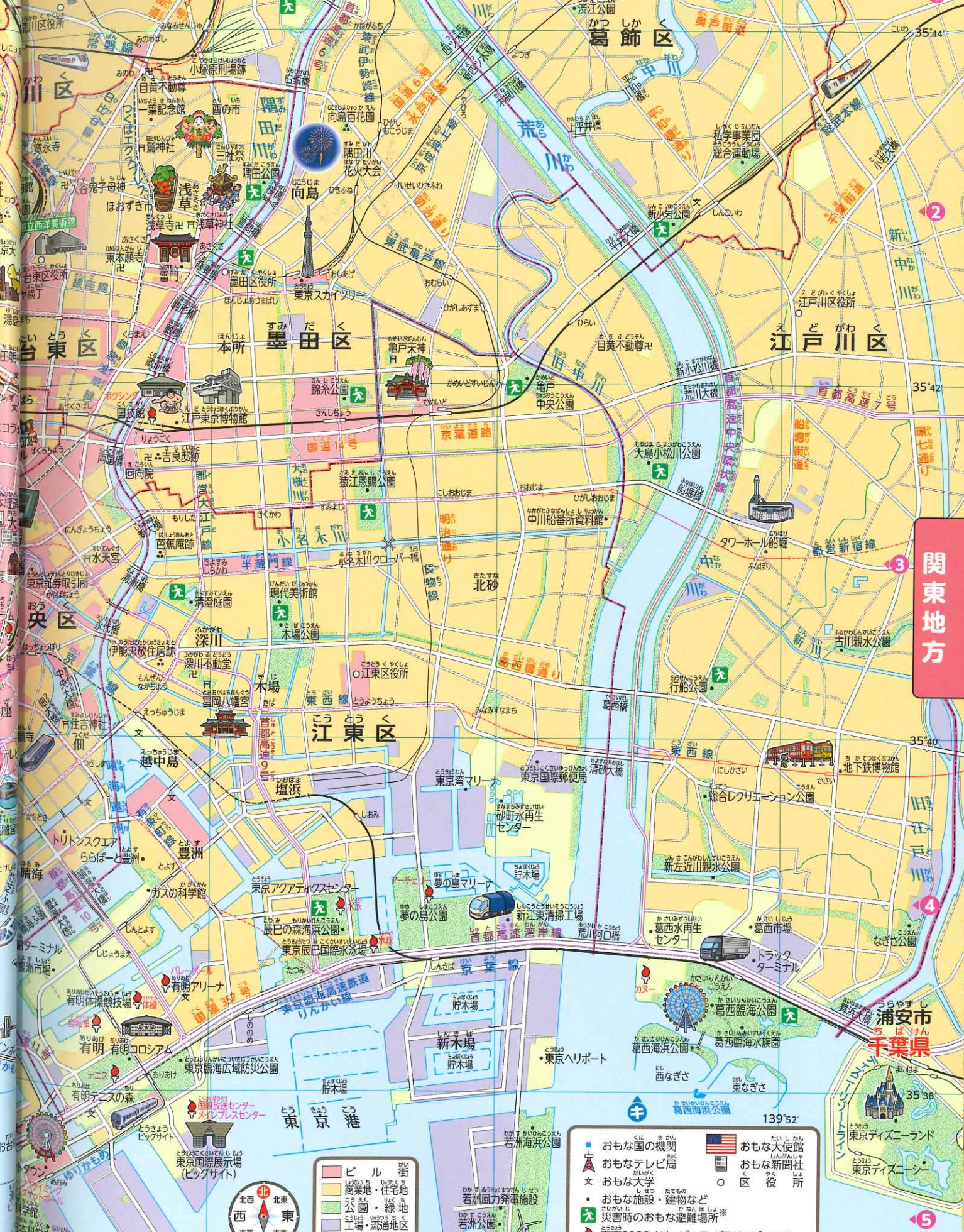
しがいち市街地は、鉄道に沿って広がっているみたいだね。

地図マスターへの道

- 1 Lv.1 東京ディズニーランドの絵をさがしてみよう。
- 2 Lv.2 市街地の広がり東京・大阪・名古屋で比べてみよう。一番広がっているのは、どこかな。ヒント：59~60ページと同じ縮尺の地図(45~46ページと53~54ページ)を見てみよう。



0 500 1000 1500 2000 2500m 地図上の1cmは実際には500mです。



関東地方

	おもな国の機関		おもな大使館
	おもなテレビ局		おもな新聞社
	おもな大学		区役所
	おもな施設・建物など		災害時のおもな避難場所
	東京2020オリンピック・パラリンピックの		

	ビル街
	商業地・住宅地
	公園・緑地
	工場・流通地区



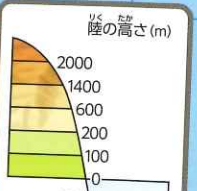


64



65

② 伊豆・小笠原諸島
1:5,000,000 (500万分の1)
50km



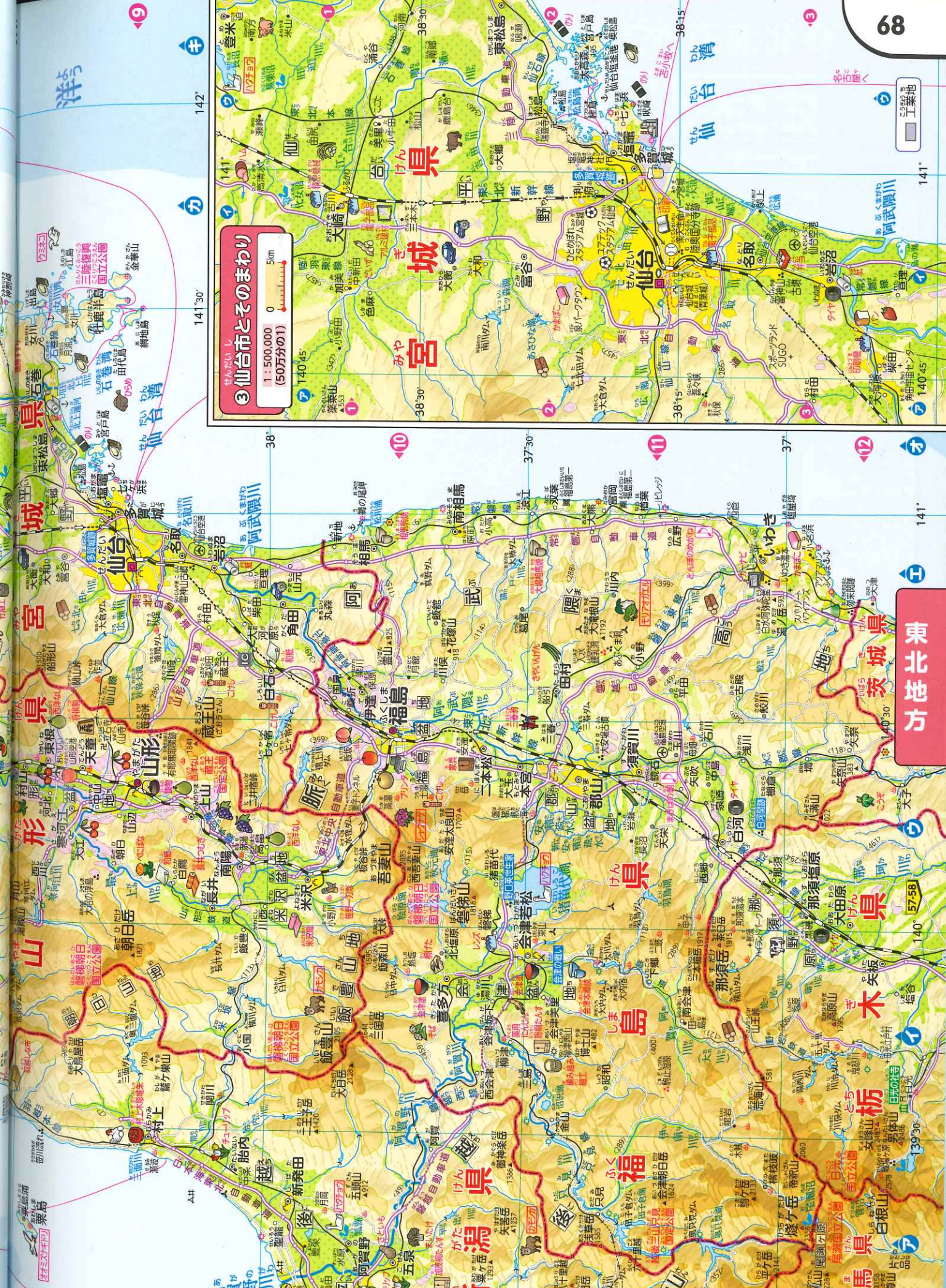
陸の高さ(m)
2000
1400
600
200
100
0
200



山形県
 宮城県
 福島県



の多くは、
 表図に広がっている。



③ 仙台市とそのまわり
 1:500,000
 (50万分の1)
 0 5km

東北地方

57.58

139.30

地図上の1cmは実際には10kmです。

市街地 (Yellow)

その他 (Green)

2000m 陸の高さ (m)

600m 陸の高さ (m)

200m 陸の高さ (m)

1000m 海の深さ (m)

2000m 海の深さ (m)

※②④⑤図共通

その他の記号は15ページ



2 奥尻島

1:1,000,000 (100万分の1)

0 10km

139°30' 奥尻島

42° 奥尻島

140° 奥尻島

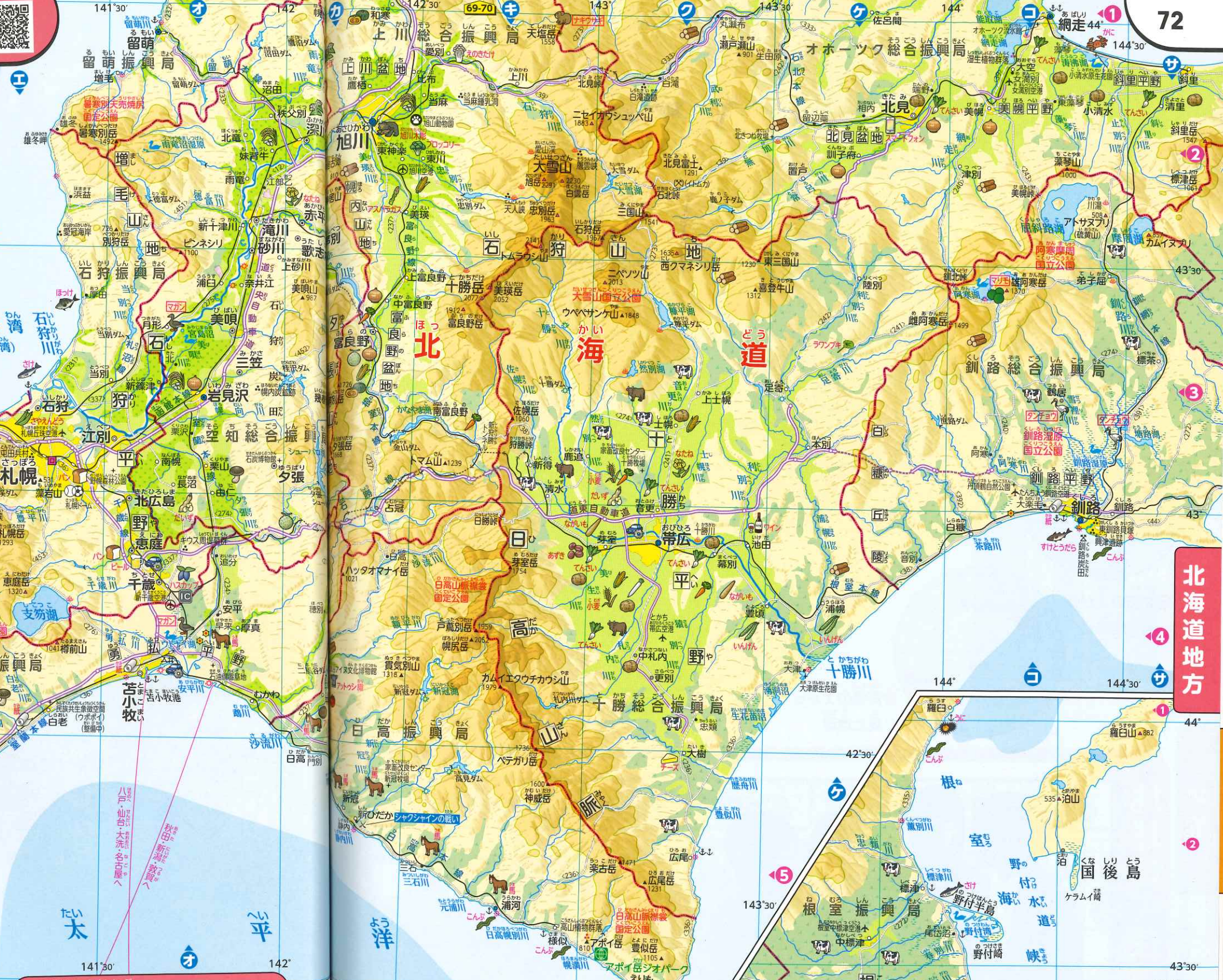
3 札幌市中心部 - 雪の多い都市の工夫



地図マスターへの道

ほっかいどうの食材を使ってカレーライスをつくろう。どこでとれる何を使うか、ノートに書いてみよう。

ほっかいどうの生産量が多い農産物を3つ答えよう。



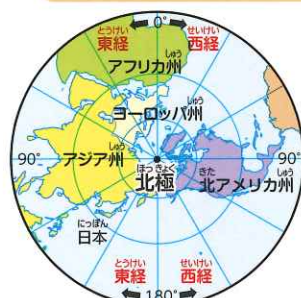


大陸と島々を合わせて、世界を六つの州に分けることもあるよ。

1 六つの大陸と三つの海洋

世界には陸地と海洋があります。陸地には、六つの大陸と数多くの島々があります。海洋には、三つの大きな海洋とそのほかの海があります。

2 さまざまな視点で見る地球



北極の上から見た地球

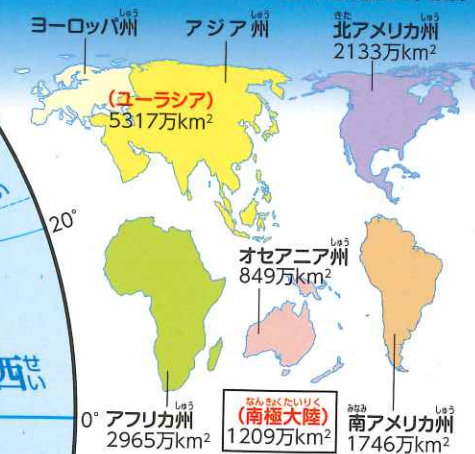


南極の上から見た地球

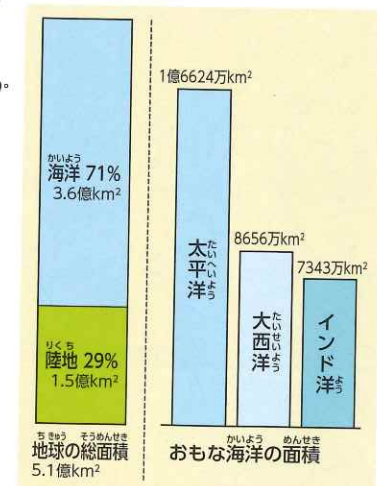


3 数字で比べる世界の陸地と海洋の面積

世界の陸地の面積 (世界人口年鑑2017, ほか)



海洋の割合と面積



(理科年表 2019)



地球儀を使おう



地球儀の特徴

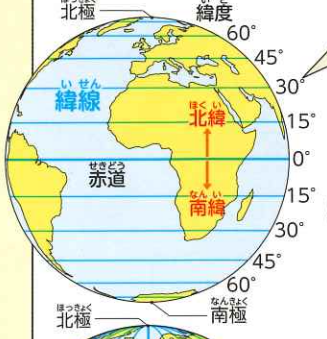
- ① 位置関係が正しい
- ② 方位が正しい
- ③ きよりが正しい
- ④ 面積が正しい

地球儀ってなに?

地球儀はわたしたちが住む地球をそのまま小さくした模型です。地球儀を使って、世界の国々について調べてみよう。

1 位置を表す 緯度と経度

地球儀や地図には、横と縦の線が引かれています。横の線を緯線、縦の線を経線といいます。



北極と南極からのきよりが等しい地点を通る緯線(赤道)が、緯度0°となっています。

ちようちんの横の線に似ているね。

イギリスのロンドンを通る経線(本初子午線)が、経度0°となっています。

すいかの縦の線に似ているね。


2 方位を調べる



- 2本の紙テープを直角に交わるように、はり合わせよう。
 - 交わる部分を日本の上に置こう。
 - 1本のテープを日本の上を通る経線(東経135度)に合わせよう。
- ▶ 経線の方向に合わせたテープは南北方向を、もう一方は東西方向を示しているよ。

※ 日本から見た場合

3 きよりを調べる



- 紙テープを赤道にそって一周させ、切りとろう。
 - その紙テープを真ん中のところで4回折って、16等分しよう。
 - 折り目に線をかくと、1目もりが約2500kmのものさしが完成。(赤道一周のきよりは約4万km)
- ▶ そのものさしで、きよりを調べよう。

4 面積, 5 形を調べる



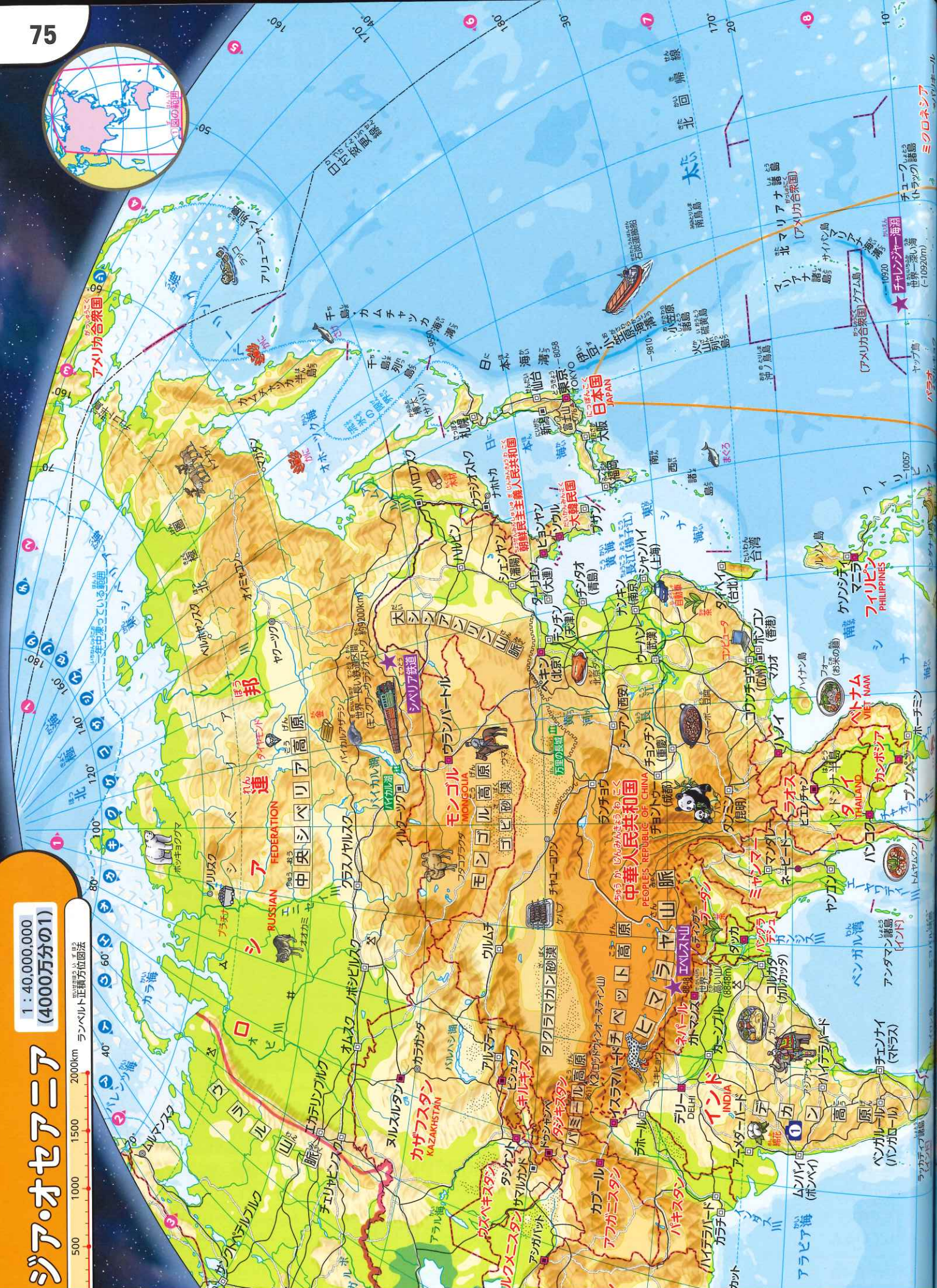
- トレーシングペーパーを使って、地球儀上のグリーンランドとオーストラリアをかきうつそう。
- 世界地図(118~120ページ)のグリーンランドとオーストラリアを、①と比べてみよう。

アジア・オセアニア

1 : 40,000,000 (4000万分の1)

2000km 1500 1000 500

ランペルト正確方位図法



ヒマラヤ山脈のまわりには、高い山が多いね。

インド

インド (17年) 12億8360万人
言語…ヒンディー語
女性の伝統服はサリー

お店のカレーは、カレーにご飯やナンをの指を使って食べます。



オーストラリア

オーストラリア (17年) 2459万人
言語…英語
国旗には南十字星が

さん、暑くない？
オーストラリアは南半球にあるため、オーストラリアは真夏です。

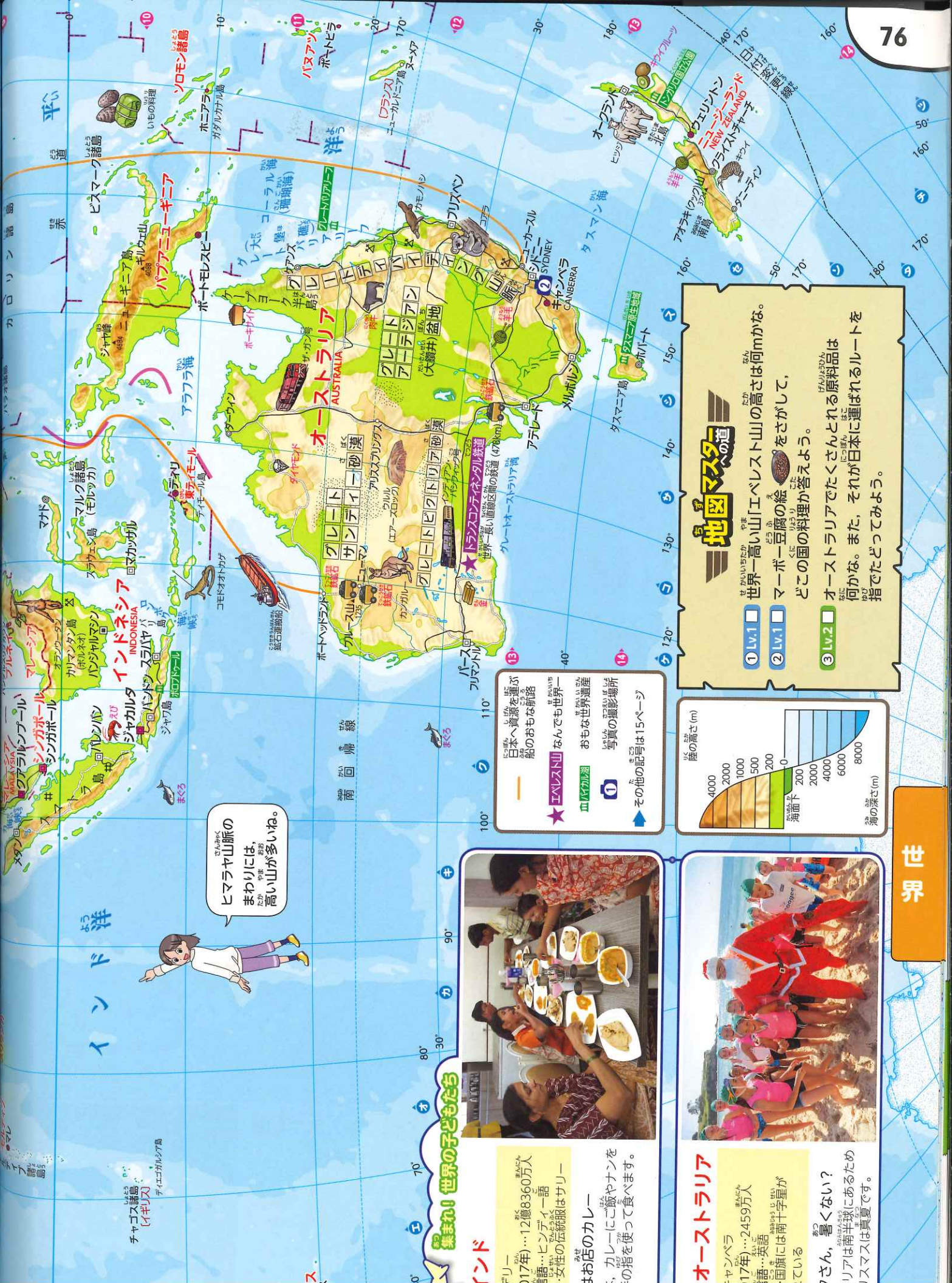


- 日本へ資源を運ぶ船のおもな航路
- ★ **イベント** なんでも世界一
- **イベント** おもな世界遺産
- ① 写真の撮影場所
- ② その他の記号は15ページ



地図マスタへの道

- 1 Lv.1 世界一高い山「エベレスト」の高さは何mかな。
- 2 Lv.1 マーボー豆腐の絵をさがして、どこの国の料理か答えよう。
- 3 Lv.2 オーストラリアでたくさんとれる原料品は何かな。また、それが日本に運ばれるルートを指でたどってみよう。





- 日本へ資源を運ぶ船のおもな航路
- 大陸の東西を結ぶ交易ルート(700年頃)
- ベリーの航路(黒船)
- 死海 なんでも世界一
- 万里の長城 おもな世界遺産
- 写真の撮影場所
- 物語のふたいと なったところ
- その他の記号は15ページ



西遊記って中国のお話だったんだね。

集まれ! 世界の子どもたち

サウジアラビア

- ・首都...リヤド
- ・人口(2017年)...3261万人
- ・おもな言語...アラビア語
- ・豆知識...石油の産出量が多く、世界中に輸出している国



1 今はお祈りの時間
イスラム教を信じる人々は、

中華人民共和国

- ・首都...ペキン(北京)
- ・人口(2017年)...14億1598万人
- ・おもな言語...中国語
- ・豆知識...人口が世界一多く、日本に来る観光客も多い国



2 はしを使って食べるよ
中国では日本と同じようにはしを

地図マスターへの道

- 1 [スリジャヤワルダナブラコッテ]が首都の国の名前を答えよう。
- 2 赤道が通り、東西に長い島国の名前を答えよう。



ヨーロッパ・アフリカ

1 : 40,000,000 (4000万分の1)

2000km
1500
1000
500



北極点
北極圏
北緯線
赤道
南緯線
南極点



北極点
北極圏
北緯線
赤道
南緯線
南極点

アフリカには、
ヨーロッパと比べて
面積の大きい国が多いね。



アフリカには、
ヨーロッパと比べて
面積の大きい国が多いね。

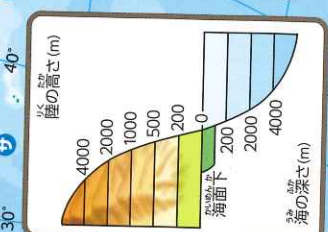
地図マスタへの道

「アフリカ」から始まる首都の名前をアフリカの国々の中から答えよう。

アフリカには、「喜望峯」という岬があるよ。どの国にあるかな。
ヒント：海沿いに注目しよう。

直線の国境線が多いのは、アフリカとヨーロッパのどちらかな。


- 1 []から始まる首都の名前をアフリカの国々の中から答えよう。 Lv.1
- 2 アフリカには、「喜望峯」という岬があるよ。どの国にあるかな。 Lv.1
- 3 直線の国境線が多いのは、アフリカとヨーロッパのどちらかな。 Lv.2



- ★ 世界の遺産
- ★ 世界の川
- ★ 世界の影
- ★ その他の記号は15ページ



アフリカには、
ヨーロッパと比べて
面積の大きい国が多いね。



アフリカには、
ヨーロッパと比べて
面積の大きい国が多いね。

世界

0 250 500 750 1000km ランベルト正積方位図法



「ガラス」や「クレヨン」は
英語だと思っていたけれど、
ちがうだね。



EU(ヨーロッパ
連合)の旗

EUに加盟して
いる国

外国から日本へ
伝わった言葉

物語のぶたいと
なったところ

★バチカン市国 なんでも世界一

山パナマ おもな世界遺産

写真の撮影場所

音楽のぶたいと
なったところ

その他の記号は15ページ

※2016年の国民投票で、EU離脱を支持する人が過半数に達しました。


生まれ! 世界の子どもたち

ロシア連邦

- 首都…モスクワ
- 人口(2017年)…1億4350万人
- おもな言語…ロシア語
- 豆知識…世界一広い国

❶ 寒いけど、外で遊びたい!

ユーラシア大陸の北にあるロシアでは、月平均気温がマイナス10℃以下になることもあります。



オランダ

- 首都…アムステルダム
- 人口(2017年)…1710万人
- おもな言語…オランダ語
- 豆知識…国土の4分の1が海面下

❷ チーズがたくさん!

酪農がさかんなオランダでは、各地でチーズ市が開かれ、多くの人でにぎわいます。



イタリア

- 首都…ローマ
- 人口(2017年)…6053万人
- おもな言語…イタリア語
- 豆知識…ブーツの形をした国

❸ パスタ大好き!

イタリアでは、パスタやピザといった、小麦粉を使った料理を家庭でもよく食べます。



地図マスターへの道

- ① Lv.1 ヨーロッパの国から日本へ伝わった言葉を見つけて、地図からさがして、一つ答えよう。
- ② Lv.1 本初子午線上に都市記号があるのはどの国かな。



アメリカ・南アメリカ

1 : 40,000,000 (4000万分の1)

500 1000 1500 2000km

ランペルト正積方位図法



地図マスタへの道

世界一広い島「グリーンランド」にいる動物は何かな。
赤道付近に河口がある、世界で2番目に長い川の名前を答えよう。
ヒント：世界で2番目に長い川は、88ページの図で確認できるよ。
太平洋とカリブ海を結ぶ運河の名前を答えよう。


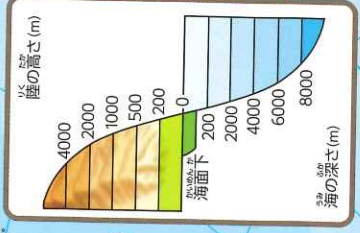
1 Lv.1
2 Lv.1
3 Lv.2



この運河がつくられた理由を、図書室の本などで調べてみよう。



★ **マスタ** なんでも世界一
 ● **おもしろ** おもな世界遺産
 ○ **写真** 写真の撮影場所
 ○ **動物** 動物の住む場所
 ○ **物産** 物産のぶたいと
 ○ **な** なったところ
 ● **その他の記号は15ページ**



ブラジル

ブラジルは17年...2億766万人
 言語...ポルトガル語
 日本から移住した人が多い国
 夢はサッカー選手！
 一番人気のスポーツはサッカーで、が熱中するようすが町中で見られます。



ペルー

マ...17年...3182万人
 言語...スペイン語
 じゃがいもの原産国の一つ
 欠かせない動物だよ
 ルーでは、家畜の毛で織をつくったり、羊の背に荷物をもせて運んだりします。

世界



- ① メジャーリーグの野球チーム
- ② 自由の女神
- ③ おもな世界遺産
- ④ 写真の撮影場所
- ⑤ 物語のぶたいとなったところ
- ⑥ 音楽のぶたいとなったところ
- ⑦ その他の記号は15ページ

② ハワイ諸島

1:15,000,000 (1500万分の1)

0 250km

オアフ島
ホノルル
ハワイ州
ハワイ
マウナケア山
ハワイ島

地図マスターへの道

- ① Lv.1 「オズの魔法使い」の物語のぶたいとなった州の名前を答えよう。
- ② Lv.1 オレンジがある州の名前を一つ答えよう。
- ③ Lv.2 「ノース(NORTH)」、「サウス(SOUTH)」、「ニュー(NEW)」のつく州の名前をそれぞれ答えよう。

ノース(NORTH)は、「北」という意味だよ。

カナダ

- ・首都…オタワ
- ・人口(2017年)…3670万人
- ・おもな言語…英語、フランス語
- ・豆知識…国旗にえがかれている葉はカエデ(メープル)の葉

① ロッキー山脈が見えた！
カナダとアメリカ合衆国を南北に

アメリカ合衆国

- ・首都…ワシントンD.C.
- ・人口(2017年)…3億2312万人
- ・おもな言語…英語
- ・豆知識…国名を漢字で「米」、英語で「USA」と略することもある

② 今日のお昼はこれに決めた！
アメリカ合衆国の小学校の昼食は、



- ①～⑧の州名
- ① ヴェルモント州 VERMONT
 - ② ニューハンプシャー州 NEW HAMPSHIRE
 - ③ マサチューセッツ州 MASSACHUSETTS
 - ④ ロードアイランド州 RHODE ISLAND
 - ⑤ コネティカット州 CONNECTICUT
 - ⑥ ニュージャージー州 NEW JERSEY
 - ⑦ デラウェア州 DELAWARE
 - ⑧ メリーランド州 MARYLAND
- *アメリカ合衆国にはこのほかアラスカ州もあります(83ページ)。

世界



⑦ 日本に友だちがいるんだ
姉妹都市で結ばれた日本とアメリカ合衆国の子どもたちが日本でも野球をしたときのようすです。

姉妹都市って何？
お互いの文化を知り、交流を深めるため、特別な友好関係を

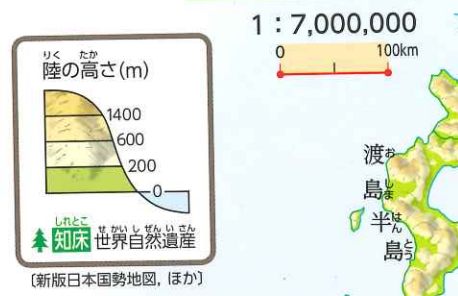
姉妹都市の例

アメリカ合衆国	日本	共通点
デトロイト市 (ミシガン州)	豊田市 (愛知県)	自動車産業
リッチモンド市 (バージニア州)	さいたま市 (埼玉県)	首都近郊の大都市 ※写真は交流の様子
ボストン市	京都市	歴史的な町並み

1 さまざまな地形 (模式図)



2 地形のようす



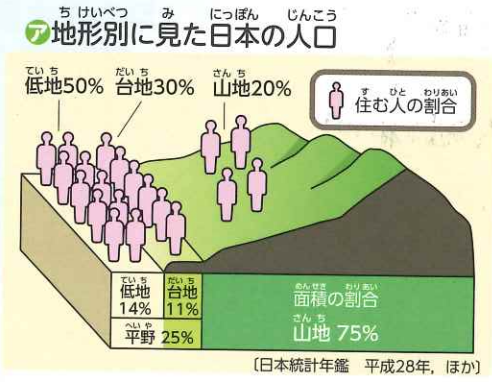
日本の山と川、湖は、世界と比べてどんなちがいがあかな。

地図マスターへの道

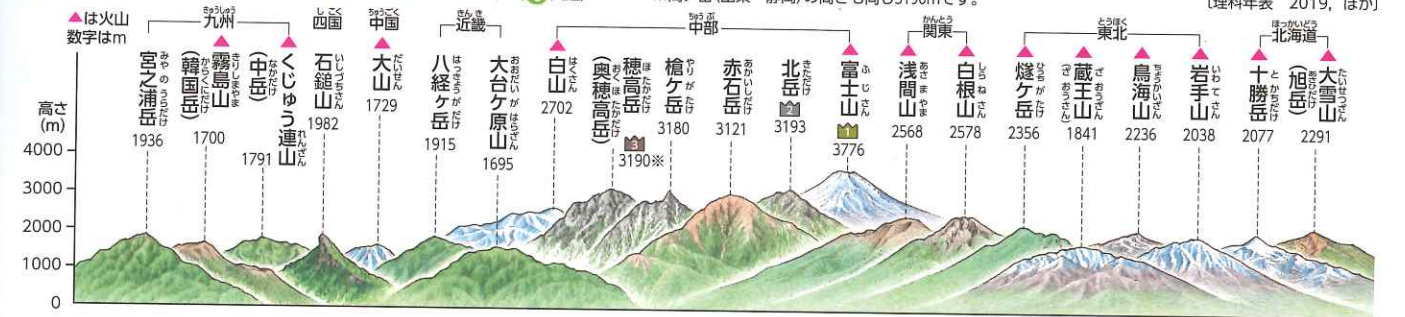
1 Lv.1 日本では、平野と山地の面積はどちらが大きいかな。
2 Lv.1 信濃川と利根川のうち、日本海へ

3 こうち 高地の暮らし -ハケ岳山ろくの野菜づくり-

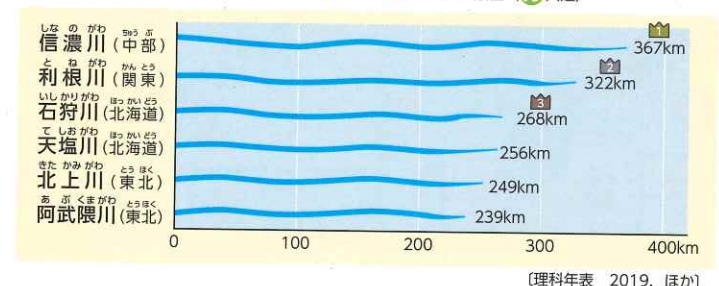
-2019年-



1 日本のおもな山の高さ



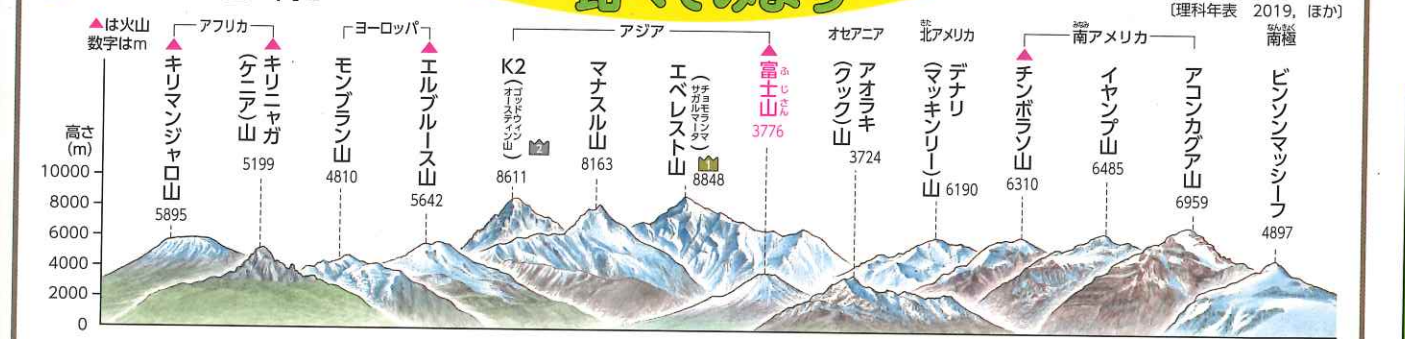
2 日本のおもな川の長さ



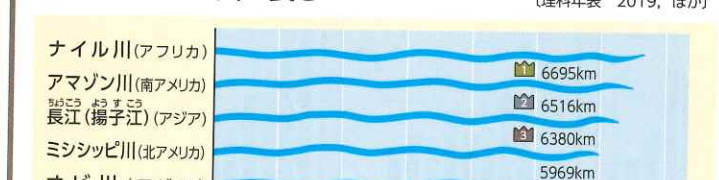
3 日本のおもな湖の広さと深さ



4 世界のおもな山の高さ



5 世界のおもな川の長さ

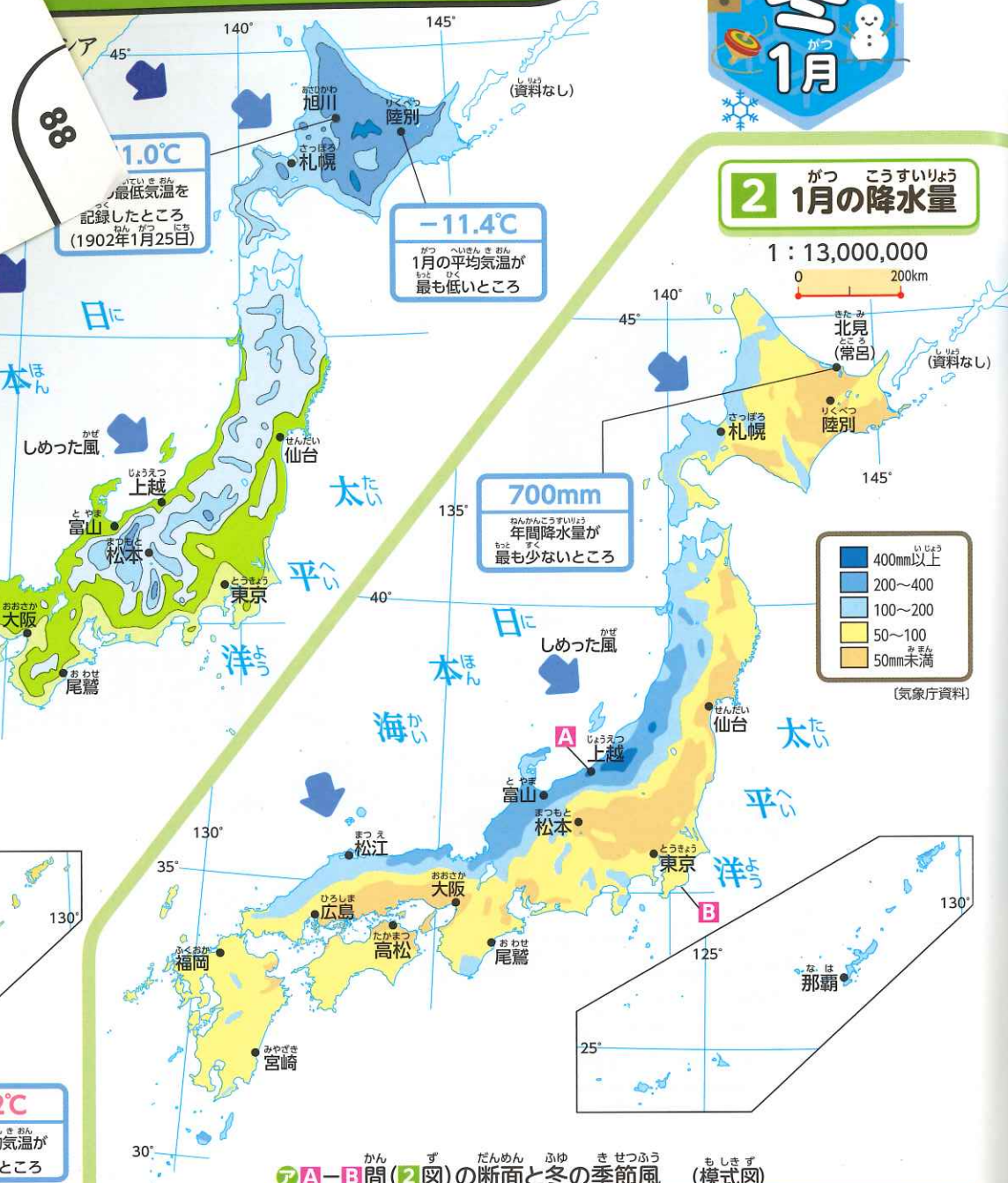
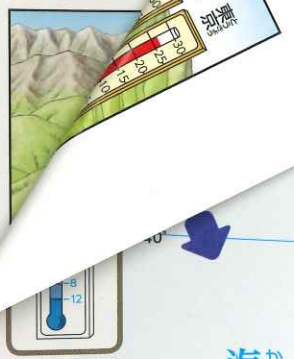


6 世界のおもな湖の広さと深さ

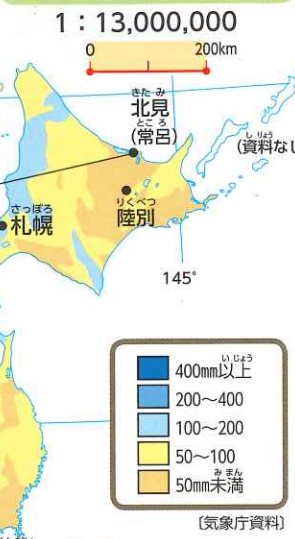




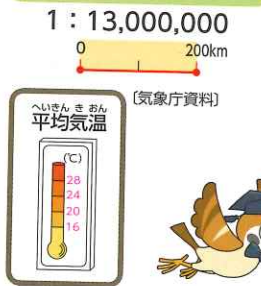
1 さまざ



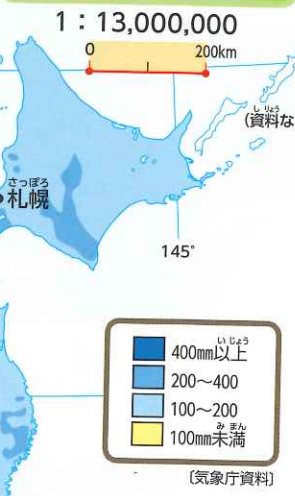
2 1月の降水量



3 8月の気温



4 8月の降水量



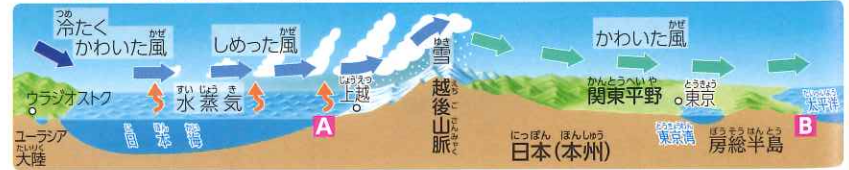
88ページB図の野辺山は、まわりよりも気温が低いね。



88ページB図の野辺山は、まわりよりも気温が低いね。

太平洋からのあたたかくしめった風

A-B間(2図)の断面と冬の季節風(模式図)



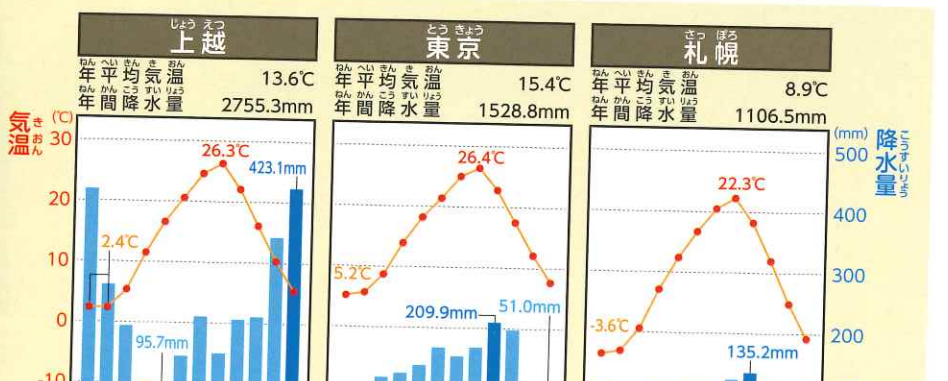
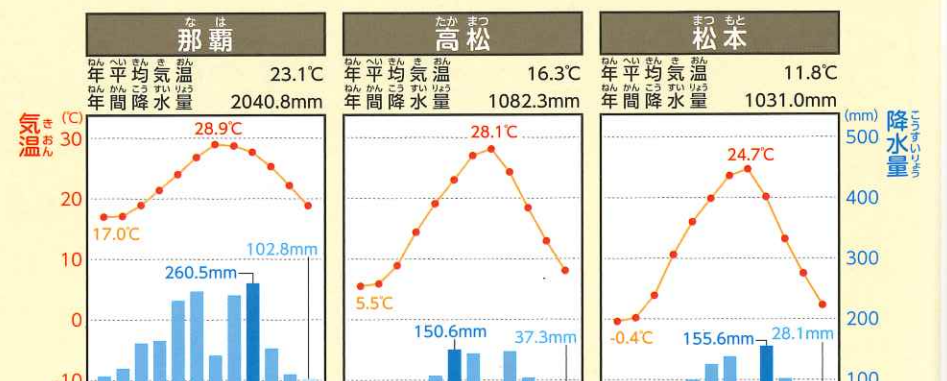
A-B間(4図)の断面と夏の季節風(模式図)



1月の陸別は、寒いのに雪はあまり多くないみたいだね。1月の上越はどうかかな。

5 おもな都市の気温と降水量

気温と降水量のグラフ... 折れ線グラフ... 棒グラフ



地図マスターへの道... 8月の降水量で、400mm以上の地域が多いのは、日本海側と太平洋側のどちらかな。1月に日本海側で降水量が多い理由を

1 さまざまな気候



(気象庁資料)

130°

145°

35°

4 8月の降水量

1 : 13,000,000


200km

2017年7月	九州北部豪雨
2018年1~2月	豪雪
2018年6~7月	平成30年7月豪雨

2 おもな台風の進路



地震時の消防隊による救助活動
一熊本県益城町一 (2016年4月)



火山灰や岩石が降り積もった御獄山
一長野県王滝村・木曾町一 (2014年9月)



大雪の影響で渋滞する道路
一福島県福井市一 (2018年2月)



水害時の自衛隊による救助活動
一茨城県常総市一 (2015年9月)



津波による被害
一宮城県常総市一

フィリピン海プレート

1 : 8,000,000

0 100 200km

地函マスター

- 1 Lv.1 大震災となった三つの地震の震源のうち、プレートの境界から一番はなれているのはどれかな。
- 2 Lv.1 台風や豪雨の災害が起こりやすいのは、冬・春と、夏・秋のどちらかな。

ユーラシアプレート

太平洋プレート

3 世界の地震の分布



自分の住んでいる地域では、どのような自然災害が多いか、話合ってみよう。



1 さまざまな自然災害

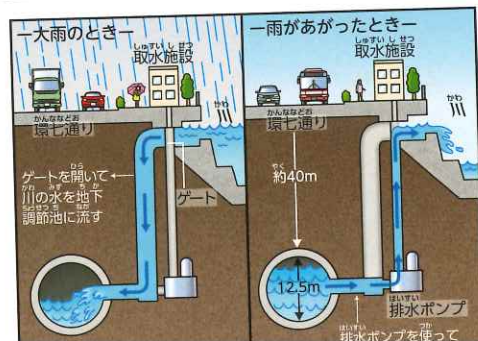


都市部での洪水への備え



地下調節池の分布

ほそがされている地面が多い都市部では、大雨になると雨水が地面にしみていかず、川に集中して流れこんでいきます。川の水があふれ洪水となるのを防ぐため、地下に雨水をためる地下調節池が川の近くに整備されるようになりました。



1 自然災害とその備え(模式図)



さまざまな防災への取り組み

4 地震の被害と防災への取り組み



兵庫県南部地震の被害と防災拠点

この地震による災害は、阪神・淡路大震災とよばれています。

災害に備えた学校(神戸市立本庄小学校)

震災の後に建てられた神戸市の学校には、災害時の拠点となるための工夫が多くなされています。

3 先人たちが残した教訓



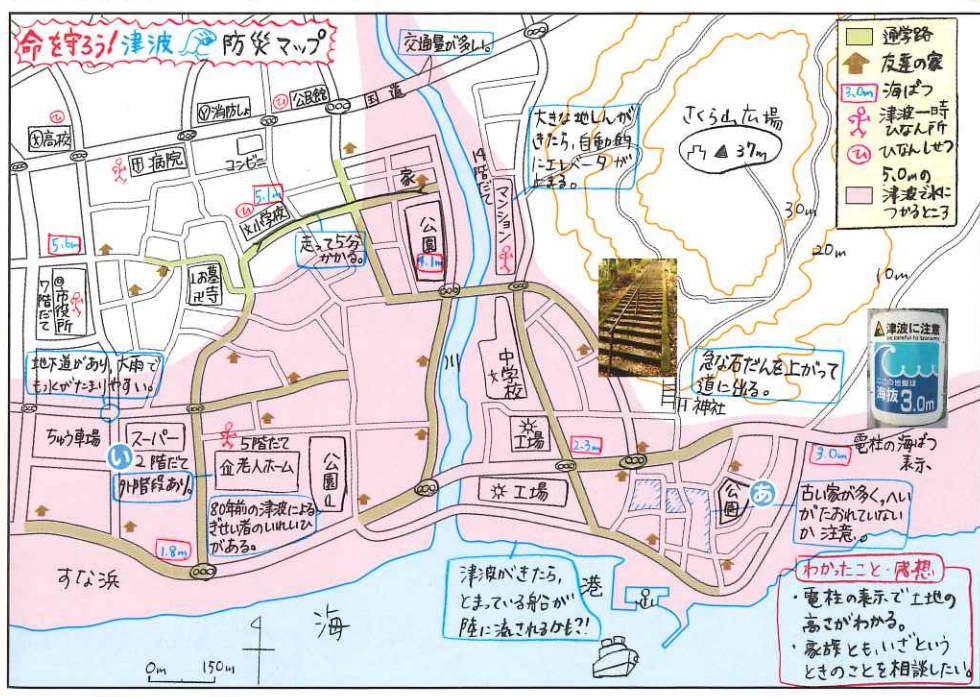
徳島県各地に残る地震・津波の碑

くり返し地震と津波の被害を受けてきた徳島県の沿岸には、犠牲者の数やどこまで津波がやってきたのかなどの情報が記録された碑が多く残っています。碑には、一度とこのような被害を出さないようにとの願いもこめられています。



防災マップづくり

自然災害から身を守るためには、堤防などの施設の建設だけでなく、私たちがどのように行動するかも大切です。防災マップをつくって、災害のときに危険な場所、安全な避難方法などを考えてみよう。



トライ!

- 防災マップを見て考えてみよう。
- 次のようなときに大地震が起こった場合、どこへ避難するか考えてみよう。

1 テーマを決める

ハザードマップとは、津波や洪水などの自然災害の被害の範囲、避難場所などをまとめた地図だよ。

2 町歩きの準備

どのようなものを調べてくるか話し合う。ルートや分担も決める。

カメラや地図など調査に必要な道具を用意する。

3 町歩き調査

避難するときに危険な道、避難できる高い建物などをさがし、地図に記入する。

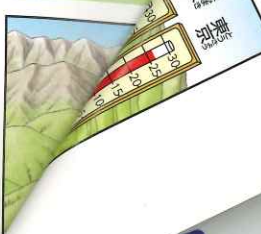
4 マップづくり

ハザードマップにある被害予測や避難場所、町歩きでわかった危険な場所などを地図にまとめる。

5 発表する

気づいたことを話し合い、よりよい避難方法を

1 さまざまな気候



88

4 8月の降水量



(気象庁資料)

130°

145°

- 田 市街地
- 畑 森林・その他
- 果樹園
- 高原野菜づくりやハウスさいばいのさかんなところ
- 全国で生産が上位のもの
- 全国で生産が1位のもの

(農林水産省資料、ほか)

2 とちりよう 土地利用とおもな農産物の産地

2 とちりよう 土地利用とおもな農産物の産地

1 : 7,000,000



地図マスターへの道

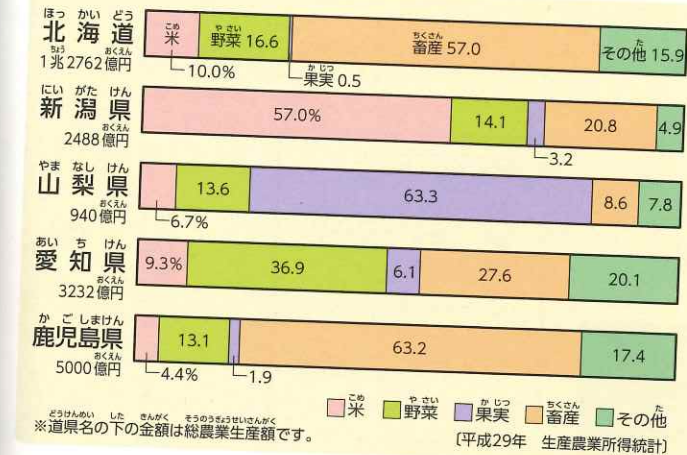
- みかんの生産量が第1位の県を答えよう。
- 水あげ量が多い漁港を上位三つ答えよう。
- 田が広がっているところの地形の持ちょうを、87~88

みかんの収穫

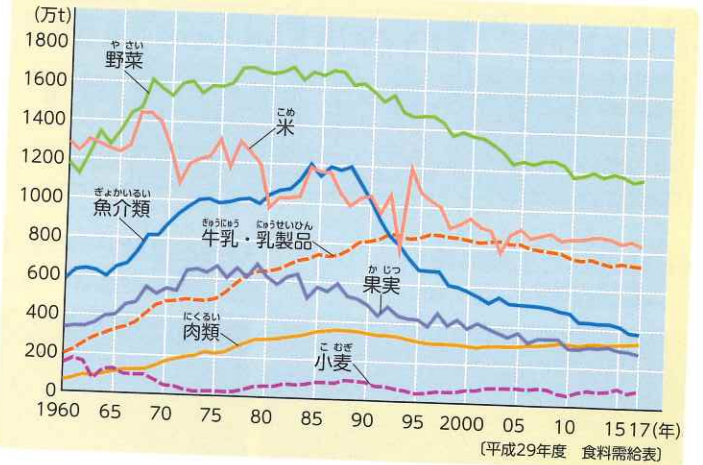


ちいき 地域によって、さかんな農業の種類がちがうね。

地域による農業生産の違い (2017年)



日本のおもな農産物と水産物の生産量の変化



各地の水産業

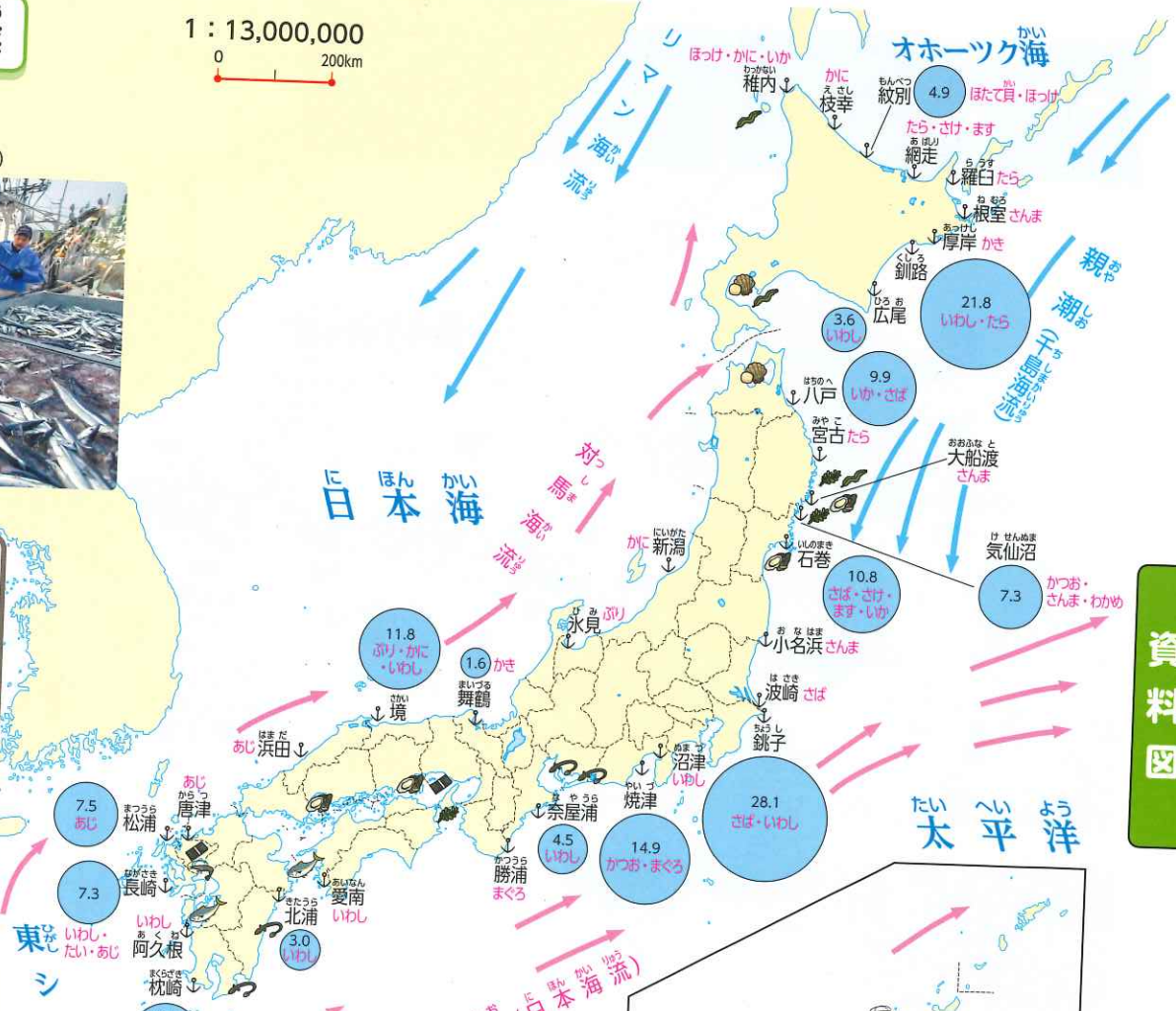
さんまの水あげ



1 : 13,000,000

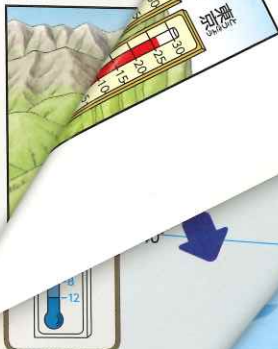


- おもな漁業
- おもな海流



資料図

1 さまざ




(気象庁資料)
130°
145°
35°

4 8月の降水量



1 工業の分布

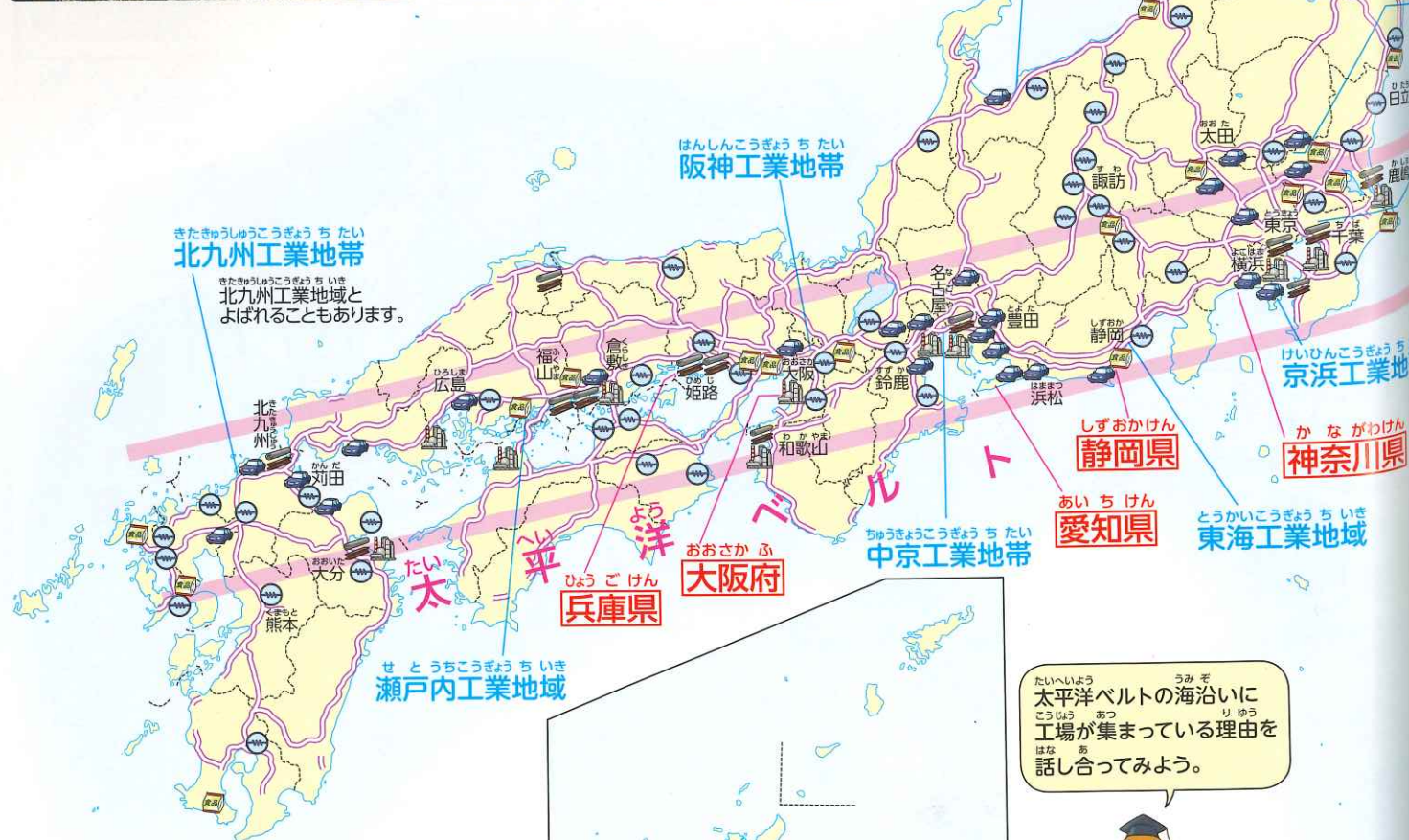


工業生産(出荷額)の多い県(2016年)

(平成29年 工業統計表)

45兆円
16兆円
16兆円
16兆円
15兆円

- 製鉄・鉄鋼
 - 製油
 - 自動車・自動車部品
 - 電気機械
 - 食品工業
 - 高速道路
 - おもな自動車専用道路
 - 赤文字 工業出荷額の多い県
 - 青文字 工業地帯・地域名
- (EDINET資料、ほか)



太平洋ベルトの海沿いに工場が集まっている理由を話し合ってみよう。

地図マスターへの道

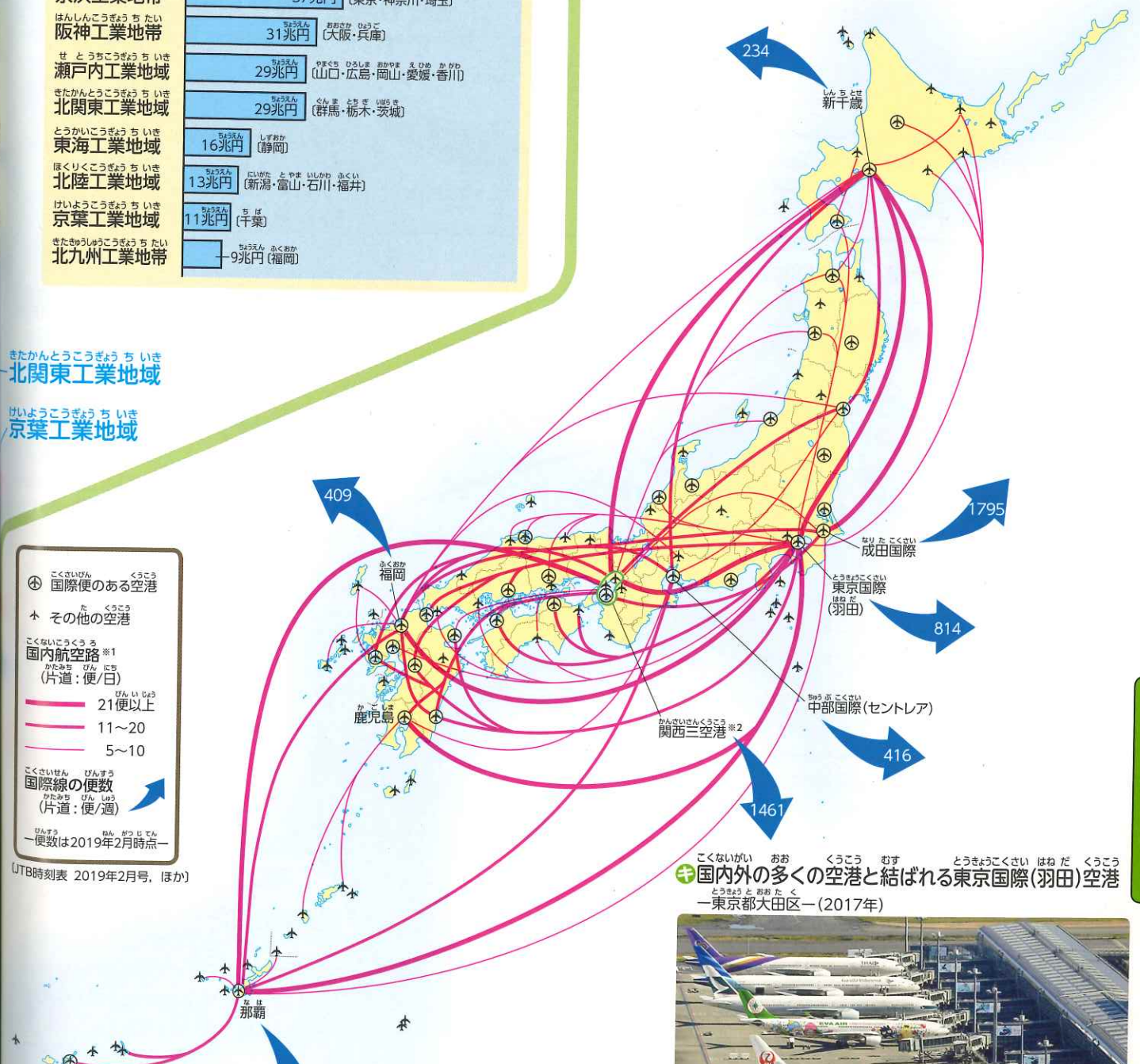
- 1 Lv.1 中京工業地帯には、どの工業の記号が多いかな。
- 2 Lv.1 日本で、国際線の便数が最も多いのはどの空港かな。
- 3 Lv.2 電気機械は、製鉄・鉄鋼や製油と比べて、工業の広がり方にどのようなちがいがあるか、説明してみよう。

おもな工業地域の工業生産(出荷額)(2016年)

総額 304兆9991億円 (平成29年 工業統計表)

中京工業地帯	55兆円	(愛知・三重)
京浜工業地帯	37兆円	(東京・神奈川・埼玉)
阪神工業地帯	31兆円	(大阪・兵庫)
瀬戸内工業地帯	29兆円	(山口・広島・岡山・愛媛・香川)
北関東工業地帯	29兆円	(群馬・栃木・茨城)
東海工業地帯	16兆円	(静岡)
北陸工業地帯	13兆円	(新潟・富山・石川・福井)
京葉工業地帯	11兆円	(千葉)
北九州工業地帯	9兆円	(福岡)

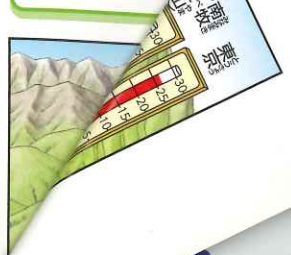
2 日本の航空路



国内外の多くの空港と結ばれる東京国際(羽田)空港
—東京都大田区—(2017年)

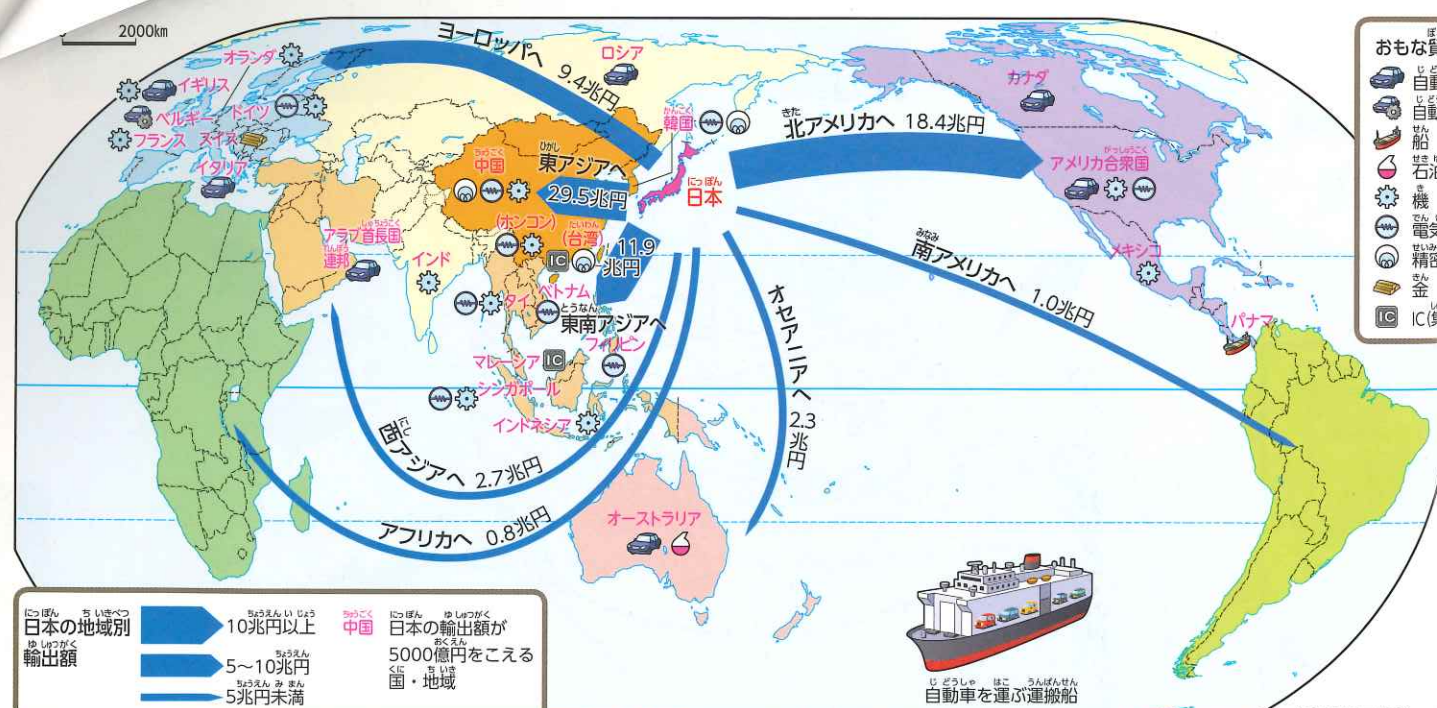


1 さまざまな観光地



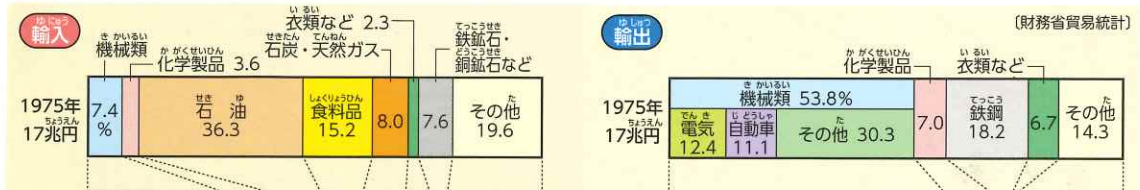
- おもな貿易品
- 石油 石油製品
 - 天然ガス 自動車
 - 石炭 機械
 - 鉄鉱石 電気機械
 - 銅鉱石 精密機械
 - プラチナ コンピュータ
 - なたね IC(集積回路)
 - ワイン 医薬品
 - 衣類

おもな輸出相手国・地域 (2017年)



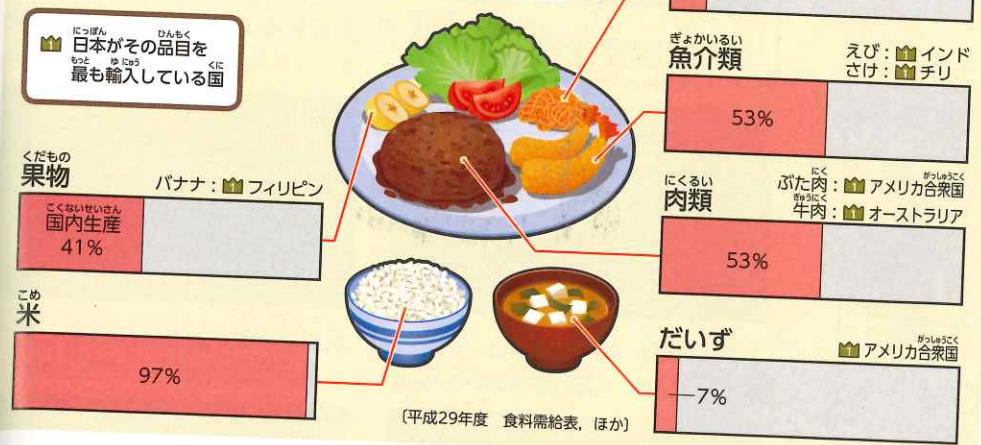
- おもな貿易品
- 自動車
 - 自動車部品
 - 船舶
 - 石油製品
 - 機械
 - 電気機械
 - 精密機械
 - 金
 - IC(集積回路)

日本の輸入品と輸出品の変化

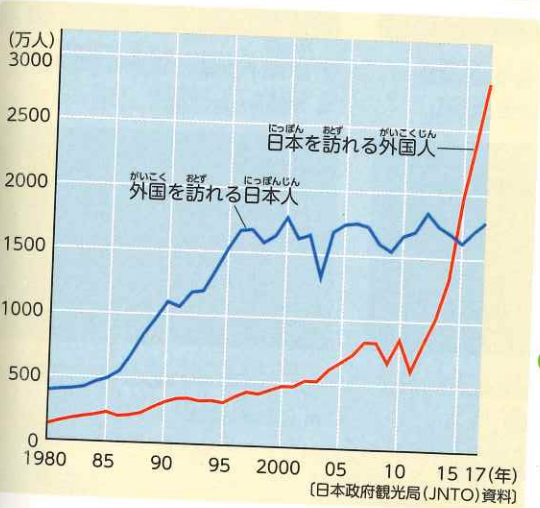


日本の輸出品の変化から、日本の工業にどのような変化があったと考えられるか、話し合ってみよう。

2 日本の食料自給率 (2016年)

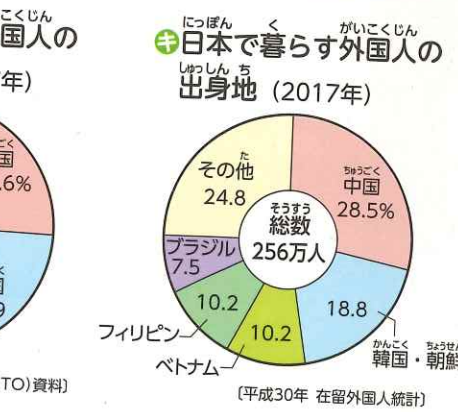
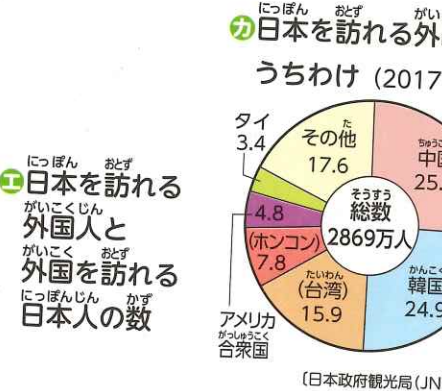


3 日本と外国の人を通じた結びつき

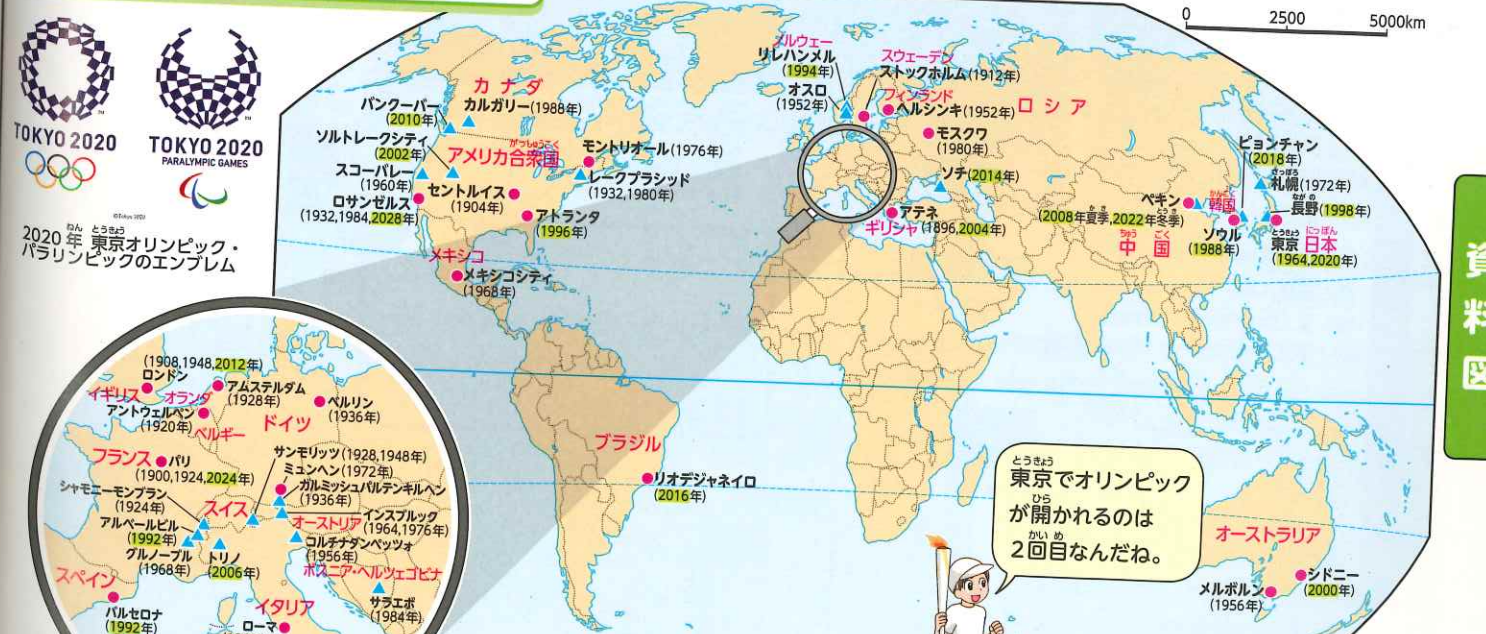


東京を観光する外国人 (2016年)

東京都台東区



4 オリンピック・パラリンピック



1 日本のおもなできごと

Timeline of Japanese history from ancient times to 2020, including events like the founding of the Japanese state, the Meiji Restoration, and the 2020 Olympics.

2 日本のおもなできごとと世界文化遺産



1 百里城跡 - 沖縄県那覇市



2 宗像大社沖津宮 - 福岡県宗像市



3 端島(軍艦島) - 長崎県長崎市



4 大浦天主堂 - 長崎県長崎市



5 石見銀山の鉱山町 - 島根県大田市



6 厳島神社 - 広島県廿日市市



7 原爆ドーム - 広島県広島市



8 姫路城 - 兵庫県姫路市



9 大仙(大山)古墳 - 大阪府堺市



10 正倉院 - 奈良県奈良市



11 法隆寺 - 奈良県斑鳩町



12 熊野古道 - 和歌山県那智勝浦町



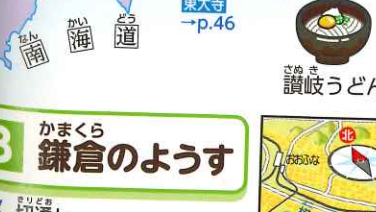
13 清水寺 - 京都府京都市



14 白川郷 - 岐阜県白川村



15 富士山



16 中尊寺金色堂 - 岩手県平泉町



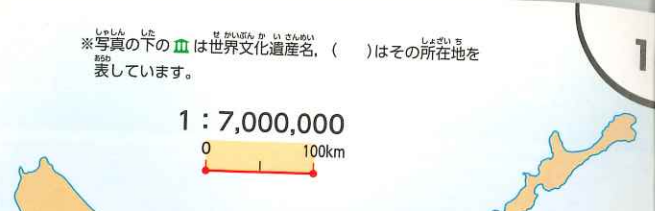
17 東照宮の陽明門 - 栃木県日光市



18 製糸場のまゆ倉庫 - 群馬県富岡市



19 国立西洋美術館 - 東京都台東区



1 : 7,000,000



16 中尊寺金色堂 - 岩手県平泉町



17 東照宮の陽明門 - 栃木県日光市



18 製糸場のまゆ倉庫 - 群馬県富岡市

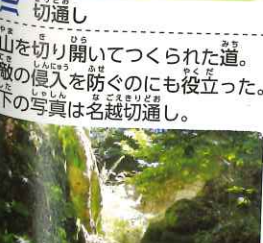


19 国立西洋美術館 - 東京都台東区

地図マスターへの道

- 1 Lv.1 自分の住んでいる都道府県の...
2 Lv.2 京都府には写真13の清水寺の...

3 かまくら 鎌倉のようす



資料図
101
日本の歴史と世界文化遺産



① 都道府県別の統計

赤太字は1位、赤字は2位から5位までの都道府県をします。

Table with columns for Prefecture, Area, Population, and various agricultural/industrial production metrics. Includes a sub-table for '都道府県別の統計'.

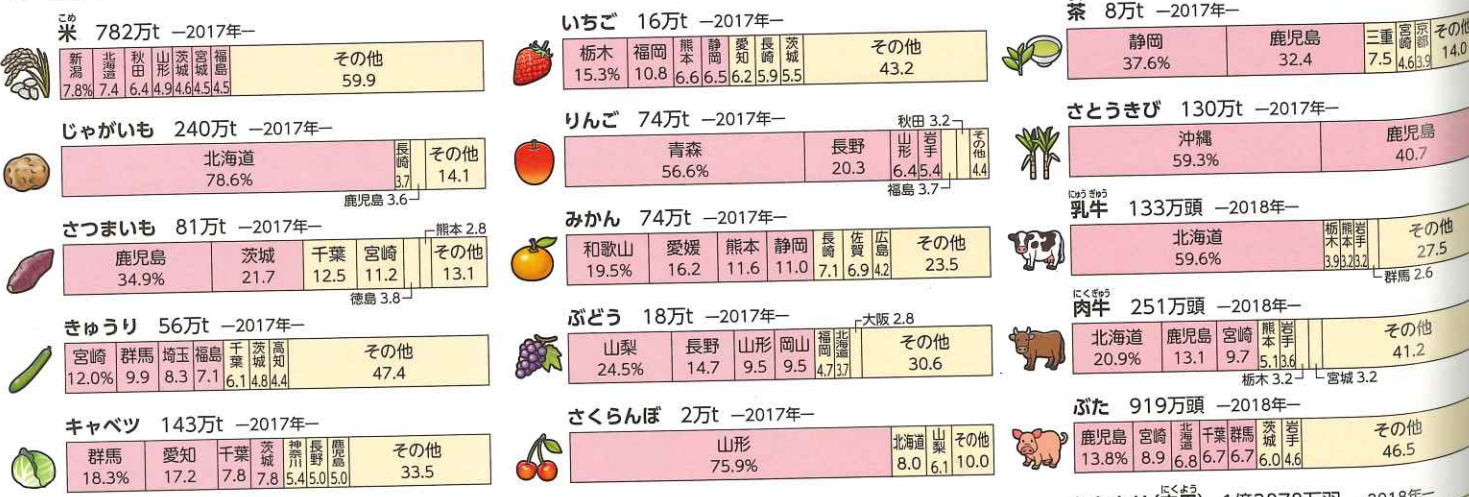
注 1) 北海道の面積は、... 2) 面積中・印のある県は、... 3) 印のある都道府県の数値は... 4) ※印の福島県、...

農林水産統計、平成29年 工業統計表、全国都道府県市区町村別面積調、ほか


Main table with columns for Industry, Environment, and Local Industry. Includes sub-tables for '工業', 'くらしと環境', and 'ふるさと自慢'.

② おもな農産物の生産

下のグラフに... でめられている、それぞれの農産物の生産の多い都道府県を、p.95の地図で確認してみよう。



③ おもな工業の生産額



④ 日本の農水産物の輸入先





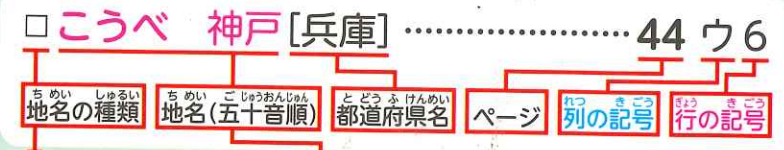
1 世界のおもな国々と日本の結びつき

【日本との貿易】の中の赤字は、輸出・輸入の額がとくに多いもの。

Table with columns: 州名, 正式国名, 首都, 面積(万km²), 人口(万人), 人口密度(人/km²), 日本からの輸入(2017年), 日本への輸出(2017年). Rows include Japan, USA, Europe, Africa, etc.



さくいんの見かた



地名の種類を表す記号 (106~113 ページ) and 地名(五十音順) (106~113 ページ) (113~114 ページ) with symbols for city, district, village, etc.

こうべは□の記号がついているから市ということだね。

こうべは赤字で書かれているから県庁所在地だね。

列の記号 行の記号 については、17ページのさくいんを使おうを見てみよう。

地図マスターへの道

1 Lv.1 自分の住んでいる市区町村をさくいんからさがし、下の空らんに入力しよう。

市区町村名 ページ 列の記号 行の記号

2 Lv.2 下の二つの地名を、さくいんを手がかりに地図の中からさがしてみよう。

□つる 都留 [山梨] □さくら [栃木]

日本の部

- あ あいおい 相生 [兵庫] 44 ア6 あいかわ 夔川 [神奈川] 59 エ4 あいさい 愛西 [愛知] 53 イ3 あいしょう 愛荘 [滋賀] 46 ケ2 あいずみ 藍住 [徳島] 40 カ3 あいちけん 愛知県 52 ウ〜エ6 あいづのたたい 会津の戦い 68 イ11

い

- い いいじま 飯島 [長野] 52 エ5 いいだ 飯田 [長野] 52 エ5 いいたて 飯館 [福島] 68 エ10 いいつか 飯塚 [福岡] 33 エ2

○ごかせ 五ヶ瀬[宮崎].....33オ4
 □ごかねい 小金井[東京].....59オ4
 □ごがや 五箇山.....51イ4
 □ごくぶんじ 国分寺[東京].....59エ4
 □ごくりつせいようびじゅつかん
 国立西洋美術館.....62オ2
 ○このえ 九重[大分].....33オ3
 □こしがや 越谷[埼玉].....52エ7
 ○こさか 小坂[秋田].....67エ5
 ○こさか 古座川[和歌山].....44エ8
 □こしがや 越谷[埼玉].....58オ6
 こしきしまれつう 飯島列島.....34イ6
 こしきづかこふん 五色塚古墳.....45オ4
 ○こしみず 小清水[北海道].....70カ3
 □こじょう 小倉[長崎].....44エ7
 ○ごじょうめ 五城目[秋田].....67ウ6
 □ごじょうがわ 五所川原[青森].....66ウ4
 ○こすげ 小菅[山梨].....52カ5
 ○こせ 御所[奈良].....46キ5
 □こせん 五泉[新潟].....56エ3
 ○こだいら 小平[東京].....59イ4
 ○こたけ 小竹[福岡].....36オ3
 □こてんば 御殿場[静岡].....52カ6
 □ごとう 五島[長崎].....34③ア2
 ○ことら 琴浦[鳥取].....38キ3
 ことらつとう 五島列島 34③ア1~2
 ○ことひら 琴平[香川].....40カ3
 □こなん 湖南[滋賀].....44オ5~6
 ○このへ 五戸[青森].....66オ4
 □こぼや 小林[宮崎].....34エ5~6
 □ごぼや 御坊[和歌山].....44ウ8
 □こまえ 泊江[東京].....59オ4
 こまがたけ 駒ヶ岳[長野].....52エ5
 こまがたけ 駒ヶ岳[長野・山梨] 52オ5
 こまがたけ 駒ヶ岳[北海道].....69イ4
 □こまがね 駒ヶ根[長野].....52エ5
 □こまき 小牧[愛知].....52イ6
 □こまつ 小松[石川].....51ア4
 □こまつま 小松島[徳島].....40ウ3~4
 こめそうどう 米騒動.....51ウ3
 ○こもの 狐野[三重].....44オ~カ5
 □こもろ 小諸[長野].....51オ4
 こりょうかくあと 五稜郭跡.....69イ5
 こんせんだいち 根釧台地.....70カ~キ3

さ

●さい 佐井[青森].....66エ3
 □さいかい 西海[長崎].....33イ4
 □さいき 佐伯[大分].....33カ4
 □さいじょう 西条[愛媛].....39オ4
 □さいたま 埼玉.....58オ6
 さいたまけん 埼玉県.....58エ5~6
 □さいと 西部[宮崎].....34オ5
 さいとばるこふんぐん 西部原古墳群.....34オ5
 ○ざおう 蔵王[宮城].....68エ9
 ざおうざん 蔵王山.....68ウ9
 ○さか 坂[広島].....41ウ4
 □さが 佐賀[佐賀].....33ウ3
 □さかい 坂井[福井].....43オ3
 □さかい 堺[大阪].....44ウ6
 ○さかい 境[茨城].....58オ5
 □さかいで 坂出[香川].....40カ3
 □さかいみなと 境港[鳥取].....38カ2
 ○さかえ 栄[千葉].....60キ3
 ○さかえ 栄[長野].....51カ3
 □さかえ 寒河江[山形].....68ウ9
 ○さかき 坂城[長野].....51オ4
 さがけん 佐賀県.....33イ~ウ3
 □さかた 酒田[山形].....67イ8
 □さかた 坂戸[埼玉].....58エ6
 ○さかほぎ 坂祝[岐阜].....53ウ2
 さがみがわ 相模川.....58エ7
 さがみはら 相模原[神奈川].....58エ6
 ○さがら 相良[熊本].....34エ5
 ○さかわ 佐川[高知].....39オ4~5
 ■さきみじょうあと 座喜味城跡 31②ア3
 □さく 佐久[長野].....51オ4
 □さくほ 佐久穂[長野].....52オ4

○さげがわ 鮭川[山形].....67ウ8
 ○さざ 佐々[長崎].....33イ3
 ○さざり 篠栗[福岡].....35オ3
 □させば 佐世保[長崎].....33イ3
 □さつて 幸手[埼玉].....58オ5
 ○さつぽろ 札幌[北海道].....69ウ3
 ○さつま 鹿儿岛.....34ウ6
 □さつませんたい 薩摩川内[鹿児島].....34ウ6
 さつまはんとう 薩摩半島.....34ウ6~7
 □さど 佐渡[新潟].....56イ2
 さどきんざんざん 佐渡金銀山.....56イ2
 さどしま 佐渡島.....56イ3
 ○さとしゅう 里庄[岡山].....38キ4
 ●さどわら 佐土原(→宮崎)[宮崎] 34オ5
 ●さなごうち 佐那河内[徳島] 40キ3~4
 □さぬき [香川].....40キ3
 さぬきへいや 讃岐平野.....40カ~キ3
 □さの 佐野[栃木].....57オ5
 □さばえ 鯖江[福井].....43オ4
 さびえるじょうりくち ザビエル大陸地.....34エ6
 □さま 座間[神奈川].....59エ5
 ○さまに 様似[北海道].....69エ4
 ●さみ 座間味[沖縄].....32⑤
 ○さむかわ 寒川[神奈川].....59エ5
 ●さめがわ 鮫川[福島].....68エ11
 ○さやま 狭山[埼玉].....58エ6
 ○さよう 佐用[兵庫].....44ア5~6
 ●さらべつ 更別[北海道].....70オ4
 ●さるふつ 猿払[北海道].....69エ1
 ○さろま 佐呂間[北海道].....70オ2
 さろまこ サロマ湖.....70オ2
 ●さわら 佐原(→香取)[千葉].....60ケ3
 ○さんごう 三郷[奈良].....46キ4
 ○さんじょう 三条[新潟].....56ウ3
 ○さんだ 三田[兵庫].....44ウ6
 さんないまるやまいせき 三内丸山遺跡
 シャフシャインの戦い.....66イ4
 ○さんか 三戸[青森].....66オ5
 さんぶつじなげれいどう 三仏寺投入学.....38キ3
 □さんむ 山武[千葉].....58カ6
 □さんようおのだ 山陽小野田[山口].....37イ5~6
 さんりくかいがん 三陸海岸.....67カ~キ7~8

し

●しいば 椎葉[宮崎].....34オ5
 □しおがま 塩竈[宮城].....68オ9
 □しおじり 塩尻[長野].....52エ4
 □しおや 塩谷[栃木].....57オ4
 ○しか 志賀[石川].....51イ2
 ○しかおい 鹿追[北海道].....69エ~オ3
 ししがけん 滋賀県.....43エ~オ5
 しかのしま 志賀島.....33ウ2
 ○しかべ 鹿部[北海道].....69イ4
 ○しかま 色麻[宮城].....68エ8
 □しき 志木[埼玉].....59オ3
 ■しきなえん 識名園.....31②ア4
 しこくさんち 四国山地 39~40オ~キ4
 □しこくちゅうおう 四国中央[愛媛].....39カ4
 ●しこたん 色丹[北海道].....70ウ3
 しこたんとう 色丹島.....70ウ3
 □しじょうなわて 四條畷[大阪].....46キ4
 ○しすい 酒々井[千葉].....60ウ4
 □しすおか 静岡[静岡].....52ウ7
 しすおかけん 静岡県.....52オ6
 ○しすくいし 粟石[岩手].....67エ6
 □しそ 穴薬[兵庫].....44イ5
 ○ししたら 設楽[愛知].....52エ6
 ○しちかしゆく 七ヶ宿[宮城].....68ウ10
 ○しちがはま 七ヶ浜[宮城].....68オ4
 ○しちのへ 七戸[青森].....66オ4
 ○しながわ 品川[東京].....64ケ4
 ○しなの 信濃[長野].....51オ3
 しなのがわ 信濃川.....56エ2~3
 しなの川[長野].....56エ2,3
 しぶぞめいっき 波染一揆.....42ケ3
 ○しぶや 渋谷[東京].....64ウ4
 ○しべちや 標茶[北海道].....70カ3
 □しべつ 士別[北海道].....69エ2
 ○しべつ 標津[北海道].....70キ3
 ●しべとろ 標取[北海道].....70②ウ1
 ○しほろ 士幌[北海道].....70オ3
 □しま 志摩[三重].....44カ7
 □しまだ 島田[静岡].....52オ7
 しまねけん 島根県.....37エ~オ3
 □しまばら 島原[長崎].....33ウ4
 しまばら・あまくさいつき 島原・天草一揆.....33ウ4
 しまはんとう 志摩半島.....44カ7
 ●しままき 島牧[北海道].....69イ4
 ○しまもと 島本[大阪].....46キ3
 ○しまんと 四万十[高知].....39エ6
 ○しまんと 四万十[高知].....39オ5
 ○しみず 清水[静岡].....52カ6
 ○しみず 清水[北海道].....69イ3
 ●しみず 清水(→静岡)[静岡] 52オ6
 ●しむかづ 占冠[北海道].....69エ4
 ○しめ 志免[福岡].....35エ3
 ○しもいち 下市[奈良].....44エ7
 ○しもかわ 下川[北海道].....69エ2
 しもきたはんとう 下北半島.....66オ3
 ●しもきたやま 下北山[奈良].....44エ7
 ○しもごう 下郷[福島].....68イ11
 ●しもじょう 下條[長野].....52エ6
 ○しもすわ 下諏訪[長野].....52オ4
 □しもだ 下田[静岡].....52カ7
 ●しもだて 下館(→筑西)[茨城].....60カ1
 ○しもつけ 下野[栃木].....57オ5
 ○しもつま 下妻[茨城].....58オ5
 ○しもにた 下仁田[群馬].....58ウ5
 ○しもせき 下関[山口].....37ア6
 しやくしゃいんのたたかい シャフシャインの戦い.....72カ5
 ○しゃこたん 積丹[北海道].....69イ3
 ●しゃな 紗那[北海道].....70②イ1
 ○しゃり 斜里[北海道].....70カ3
 □しゅうなん 周南[山口].....37ウ5
 しゅうぜんじ 修善寺[静岡].....52カ7
 ■しゅうりじょうあと 首里城跡.....31②ア4
 □じょうえつ 上越[新潟].....56イ4
 ○しゅうおう 勝央[岡山].....38ウ3
 ■しゅうかそんじゆく 松下村塾.....37イ5
 □じょうそう 常総[茨城].....58オ~カ5
 しゅうそういん 正倉院.....48ケ5
 ○しゅうどしま 小豆島[香川].....40キ3
 しゅうどしま 小豆島.....40キ2
 ○しゅうない 庄内[山形].....67イ8
 しゅうないへいや 庄内平野 67イ7~8
 □しゅうばら 庄原[広島].....38カ4
 □じょうよう 城陽[京都].....46ウ3
 ○しゅうわ 昭和[山梨].....52カ5
 ●しゅうわ 昭和[群馬].....57エ4
 ●しゅうわ 昭和[福島].....68イ11
 しゅうわしんざん 昭和新山.....69イ4
 ●しゅうさんべつ 初山別[北海道].....69ウ2
 ■しゅういとたき 白糸の滝.....54ウ2
 ○しらおい 白老[北海道].....69ウ4
 □しらおか 白岡[埼玉].....59オ2
 ■しらかみさんち 白神山地.....66ウ5
 □しらかわ 白河[福島].....68ウ11
 ○しらかわ 白川[岐阜].....52ウ5
 ●しらかわ 白川[岐阜].....51イ4
 ■しらかわごう 白川郷.....51イ4
 しらかわのせきあと 白河関跡.....68ウ11
 ○しらこ 白子[千葉].....60ウ5
 ○しらたか 白鷹[山形].....68ウ9
 ○しらぬか 白糠[北海道].....70カ4
 しらねざん 白根山.....57エ4
 ○しらはま 白浜[和歌山].....44ウ8
 ○しりうち 知内[北海道].....69イ5
 ■しれとこ 知床.....70キ2
 しれとこはんとう 知床半島.....70カ~キ2~3
 □しろい 白井[千葉].....60キ3
 □しろいし 白石[宮城].....68エ9~10
 □しろいし 白石[佐賀].....33ウ3

せ

○せいか 精華[京都].....46ウ3
 ○せいよ 西予[愛媛].....39エ5
 ○せいらう 聖籠[新潟].....56エ3
 □せき 関[岐阜].....52イ5~6
 ○せきがはら 関ヶ原[岐阜].....52ア6
 せきがはらのたたかい 関ヶ原の戦い.....52ア6
 ●せきかわ 関川[新潟].....56オ2
 ●せきやど 関宿(→野田)[千葉].....59オ2
 ○せたがや 世田谷[東京].....64ウ4
 ○せたな [北海道].....69ア4
 □せつ 摂津[大阪].....46キ3
 □せつ 瀬川[愛知].....52ウ6
 □せつ 瀬戸内[岡山].....38ウ4
 ○せとうち 瀬戸内[鹿児島].....32④A
 せとないかい 瀬戸内海.....37~38オ~ウ5
 ■せふあうたき 斎場御嶽.....31②イ4
 ○せら 世羅[広島].....38カ4
 ○せんとく せんたくしゅう 尖閣諸島.....31イ4
 せんこうじ 善光寺.....51オ3
 □せんだい 仙台[宮城].....68エ9
 せんだいへいや 仙台平野.....67~68エ~オ8~9
 □ぜんつうじ 善通寺[香川].....40カ3
 □せんなん 泉南[大阪].....45カ5
 □せんぼく 仙北[秋田].....67エ6

そ

○そらみ 相模[福島].....69イ4
 ○そらみ 相模[群馬].....69イ4
 ○そらみ 相模[山梨].....69イ4
 ○そらみ 相模[長野].....69イ4
 ○そらみ 相模[新潟].....69イ4
 ○そらみ 相模[富山].....69イ4
 ○そらみ 相模[石川].....69イ4
 ○そらみ 相模[福井].....69イ4
 ○そらみ 相模[山梨].....69イ4
 ○そらみ 相模[長野].....69イ4
 ○そらみ 相模[新潟].....69イ4
 ○そらみ 相模[富山].....69イ4
 ○そらみ 相模[石川].....69イ4
 ○そらみ 相模[福井].....69イ4

○しんかみごとう 新上五島[長崎].....34④イ2
 □しんくう 新宮[和歌山].....44エ8
 □しんくう 新宮[福岡].....35エ3
 しんげんつみ 信玄堤.....52オ~カ5
 ●しんごう 新郷[青森].....66オ5
 しんじこ 穴道湖.....38オ~カ3
 ●しんじつ 新篠津[北海道].....69ウ3
 □しんじゆく 新宿[東京].....64ケ4
 □しんじょう 新庄[山形].....67ウ8
 ●しんじょう 新庄[岡山].....38キ3
 ○しんじろ 新城[愛知].....52ウ~エ7
 ○じんせきこうげん 神石高原[広島].....38カ4
 ○しんち 新地[福島].....68エ10
 じんづうがわ 神通川.....51ウ3
 ●しんとう 榛東[群馬].....57ウ5
 ○しんとく 新得[北海道].....69エ3
 ○しんとくわ 新十津川[北海道] 69ウ3
 ○しんとくわ 新十津川[北海道] 69ウ3
 ■しんぼる・ぬやまこふんぐん 新原・奴山古墳群.....35エ2
 ○しんひだか 新ひだか[北海道].....69エ4
 ●しんみなと 新湊(→射水)[富山] 51ウ3

す

□すいた 吹田[大阪].....44エ6
 ○すえ 須恵[福岡].....35オ3
 ○すかおおしま 周防大島[山口] 37エ6
 □すかがわ 須賀川[福島].....68ウ11
 すがだいら 菅平.....51オ3
 ○すぎと 杉戸[埼玉].....59オ2
 ○すぎなみ 杉並[東京].....64ウ3~4
 ○すくも 宿毛[高知].....39エ6
 □すざか 須坂[長野].....51オ3
 ○すざき 須崎[高知].....39オ5
 ○すざし [和歌山].....44ウ~エ8
 ○すざし 葦子[神奈川].....58オ7
 ○すず 珠洲[石川].....51ウ2
 □すずか 鈴鹿[三重].....44カ6
 □すその 裾野[静岡].....52カ6
 ○すつ 寿野[北海道].....69イ4
 □すながわ 砂川[北海道].....69ウ3
 ○すみた 住田[岩手].....67カ7
 ○すみだ 墨田[兵庫].....64コ3
 ○すもと 洲本[兵庫].....44イ7
 するがわん 駿河湾.....52カ7
 □すわ 諏訪[長野].....52オ4

た

○たいき 大紀[三重].....44オ7
 ○たいき 大樹[北海道].....70オ4
 ○たがい 大子[茨城].....57カ4
 ○たがい 太子[兵庫].....44イ6
 ○たがい 太子[大阪].....46キ4
 ○たがい 太地[和歌山].....44エ8
 たいせつざん 大雪山.....69ウ3
 □たいせん 大仙[秋田].....67ウ7
 たいせん 大山[鳥取].....38カ~キ2
 たいせん 大山.....38キ3
 ■たいせんこふん 大仙(大山)古墳.....67オ6
 ○たいたう 台東[東京].....64ケ3
 □たいたう 大東[大阪].....46キ4
 ○たいたい 大内[宮城].....68エ9
 ○たか 多可[兵庫].....44イ5
 ○たか 多賀[滋賀].....46コ2
 □たかいたい 高石[大阪].....46カ7
 □たかおか 高岡[富山].....51ウ3
 ●たかぎ 喬木[長野].....52エ5
 □たかさき 高崎[群馬].....57エ5
 □たかさき 高砂[兵庫].....44イ6
 □たかしま 高島[滋賀].....43オ5
 ■たかしまたんこう 高島炭坑.....33イ4
 したがじょう 多賀城[宮城].....68エ~オ9
 したがじょうあと 多賀城跡.....68エ9
 ○たかす 鷹栖[北海道].....69エ3
 ○たかちほ 高千穂[宮崎].....33オ4
 □たかつき 高槻[大阪].....44エ6
 ○たかとり 高取[奈良].....46ウ5
 ○たかなべ 高鍋[宮崎].....34オ~カ5
 ○たかねざわ 高根沢[栃木].....57オ4
 □たかはぎ 高萩[茨城].....57カ4
 □たかはし 高梁[岡山].....38キ4
 ○たかはた 高島[山形].....68ウ9~10
 □たかはま 高浜[愛知].....53ウ4
 ○たかはら 高原[宮崎].....43エ5
 ○たかはら 高原[宮崎].....34オ6
 □たかまつ 高松[香川].....40キ3
 たかまつかこふん 高松塚古墳.....44エ7
 ○たがみ 田上[新潟].....56エ3
 ○たがもり 高森[熊本].....33オ4
 ○たがもり 高森[長野].....52エ5
 ○たがやま 高山[岐阜].....52オ4
 ●たがやま 高山[長野].....51ウ3
 ●たがやま 高山[群馬].....57ウ4
 ■たがやましやあと 高山社跡.....59ウ2
 たがらじま 宝島.....32オ2
 □たがらづか 宝塚[兵庫].....44ウ6
 □たがわ 田川[福岡].....33エ2
 ○たき 多気[三重].....44カ7
 □たきかわ 滝川[北海道].....69ウ4
 □たきざわ 滝沢[岩手].....67オ6
 ○たきのうえ 滝上[北海道].....69オ2
 ○たたく 多気[佐賀].....33ウ3
 たけしめ 武雄[佐賀].....37②イ~ウ1
 □たけた 竹田[大分].....33オ4
 ○たけとみ 竹富[沖縄].....31③A
 ○たけとよ 武豊[愛知].....53ウ4
 □たけはら 竹原[広島].....37オ5
 ●たけふ 武生(→越前)[福井].....43オ4
 ○たこ 多古[千葉].....58カ6
 □たさいふ 太宰府[福岡].....33エ2
 ださいふあと 大宰府跡.....33エ2
 ■たじまやへいきゅうたく 田島弥平宅.....59ウ1~2
 □たじみ 多治見[岐阜].....52ウ6
 ○たじり 田尻[大阪].....45カ5

○たつこ 田子[青森].....67オ5
 ○たつごう 龍郷[鹿児島].....32④A
 □たつの 兵庫.....44イ6
 ○たつの 辰野[長野].....52エ5
 □たて 伊達[福島].....68エ10
 □たて 伊達[北海道].....69イ4
 ○たてしな 立科[長野].....51オ4
 □たてばやし 館林[群馬].....58オ5
 □たてやま 館山[千葉].....58オ7~8
 ○たてやま 立山[富山].....51ウ3
 たてやま 立山.....51エ3
 ○たどつ 多度津[香川].....40カ3
 たなかしょうぞうきゅうたく 田中正造旧宅.....59オ1
 ○たなぐら 棚倉[福島].....68ウ11
 □たなべ 棚田[和歌山].....44ウ8
 たねがしま 種子島.....32カ1
 ○たの 田野[高知].....40キ5
 ●たのはた 田野畑[岩手].....67カ6
 ●たばやま 丹波山[山梨].....52カ5
 □たはら 田原[愛知].....52ウ7
 たばるざかのたたかい 田原坂の戦い.....33エ4
 ○たふせ 田布施[山口].....37エ6
 □たま 多摩[東京].....58エ6
 ■たまどうらん 玉陵.....31②ア4
 ●たまかわ 玉川[福島].....68ウ11
 たまがわ 多摩川.....58オ6~7
 ○たまき 玉城[三重].....44カ7
 □たまな 玉名[熊本].....33エ4
 ○たまの 玉野[岡山].....38キ5
 ○たまむら 玉村[群馬].....59ウ1
 ○たむら 田村[福島].....68エ11
 ○たら 太良[佐賀].....33ウ3
 ○たらぎ 多良木[熊本].....34エ5
 ●たらま 多良間[沖縄].....31ウ4
 ○たらい 垂井[岐阜].....52イ6
 □たらみず 垂水[鹿児島].....34エ7
 ○たわらもと 田原本[奈良].....46ウ4
 だんのうらのたたかい 壇ノ浦の戦い.....37ア6
 □たんば 丹波[兵庫].....44ウ5
 □たんばささやま 丹波篠山[兵庫] 44ウ5

た

○たいき 大紀[三重].....44オ7
 ○たいき 大樹[北海道].....70オ4
 ○たがい 大子[茨城].....57カ4
 ○たがい 太子[兵庫].....44イ6
 ○たがい 太子[大阪].....46キ4
 ○たがい 太地[和歌山].....44エ8
 たいせつざん 大雪山.....69ウ3
 □たいせん 大仙[秋田].....67ウ7
 たいせん 大山[鳥取].....38カ~キ2
 たいせん 大山.....38キ3
 ■たいせんこふん 大仙(大山)古墳.....67オ6
 ○たいたう 台東[東京].....64ケ3
 □たいたう 大東[大阪].....46キ4
 ○たいたい 大内[宮城].....68エ9
 ○たか 多可[兵庫].....44イ5
 ○たか 多賀[滋賀].....46コ2
 □たかいたい 高石[大阪].....46カ7
 □たかおか 高岡[富山].....51ウ3
 ●たかぎ 喬木[長野].....52エ5
 □たかさき 高崎[群馬].....57エ5
 □たかさき 高砂[兵庫].....44イ6
 □たかしま 高島[滋賀].....43オ5
 ■たかしまたんこう 高島炭坑.....33イ4
 したがじょう 多賀城[宮城].....68エ~オ9
 したがじょうあと 多賀城跡.....68エ9
 ○たかす 鷹栖[北海道].....69エ3
 ○たかちほ 高千穂[宮崎].....33オ4
 □たかつき 高槻[大阪].....44エ6
 ○たかとり 高取[奈良].....46ウ5
 ○たかなべ 高鍋[宮崎].....34オ~カ5
 ○たかねざわ 高根沢[栃木].....57オ4
 □たかはぎ 高萩[茨城].....57カ4
 □たかはし 高梁[岡山].....38キ4
 ○たかはた 高島[山形].....68ウ9~10
 □たかはま 高浜[愛知].....53ウ4
 ○たかはら 高原[宮崎].....43エ5
 ○たかはら 高原[宮崎].....34オ6
 □たかまつ 高松[香川].....40キ3
 たかまつかこふん 高松塚古墳.....44エ7
 ○たがみ 田上[新潟].....56エ3
 ○たがもり 高森[熊本].....33オ4
 ○たがもり 高森[長野].....52エ5
 ○たがやま 高山[岐阜].....52オ4
 ●たがやま 高山[長野].....51ウ3
 ●たがやま 高山[群馬].....57ウ4
 ■たがやましやあと 高山社跡.....59ウ2
 たがらじま 宝島.....32オ2
 □たがらづか 宝塚[兵庫].....44ウ6
 □たがわ 田川[福岡].....33エ2
 ○たき 多気[三重].....44カ7
 □たきかわ 滝川[北海道].....69ウ4
 □たきざわ 滝沢[岩手].....67オ6
 ○たきのうえ 滝上[北海道].....69オ2
 ○たたく 多気[佐賀].....33ウ3
 たけしめ 武雄[佐賀].....37②イ~ウ1
 □たけた 竹田[大分].....33オ4
 ○たけとみ 竹富[沖縄].....31③A
 ○たけとよ 武豊[愛知].....53ウ4
 □たけはら 竹原[広島].....37オ5
 ●たけふ 武生(→越前)[福井].....43オ4
 ○たこ 多古[千葉].....58カ6
 □たさいふ 太宰府[福岡].....33エ2
 ださいふあと 大宰府跡.....33エ2
 ■たじまやへいきゅうたく 田島弥平宅.....59ウ1~2
 □たじみ 多治見[岐阜].....52ウ6
 ○たじり 田尻[大阪].....45カ5

ち

□ちがさき 茅ヶ崎[神奈川].....58エ7
 □ちくご 筑後[福岡].....33エ3
 ちくごがわ 筑後川.....33ウ3
 ちくごの 筑紫野[福岡].....33エ3
 ○ちくじょう 築上[福岡].....33オ2
 □ちくせい 筑西[茨城].....57オ5
 ○ちくぜん 筑前[福岡].....35オ4
 ●ちくほく 筑北[長野].....51オ4
 □ちくま 千曲[長野].....51オ3
 ちくまがわ 千曲川.....51オ~カ3
 ちくまれつとう 千島列島.....30キ2
 □ちた 知多[愛知].....53ウ4
 ちたはんとう 知多半島.....52イ7
 □ちちぶ 秩父[埼玉].....58エ6
 ちちぶじけん 秩父事件.....59ウ2
 ○ちづ 智頭[鳥取].....38ウ3
 ○ちつぶつ 秩父別[北海道].....69ウ3
 □ちとせ 千歳[北海道].....69ウ4
 ○ちな 知内[鹿児島].....32④C
 □ちの 茅野[長野].....52オ4~5
 ○ちば 千葉[千葉].....58カ6
 ちばけん 千葉県.....58オ~カ7
 ●ちばやあかさか 千早赤阪[大阪] 46キ5
 ●ちぶ 知夫[島根].....38カ1
 ○ちやたん 北谷[沖縄].....31②イ3
 □ちゅうおう 中央[山梨].....52カ5
 ○ちゅうおう 中央[東京].....64ケ4
 ちゅうごくさんち 中国山地.....37~38エ~ウ3~4
 ちゅうそんじ 中尊寺.....67オ7~8
 ちゅうかいざん 鳥海山.....67ウ7
 □ちゅうし 銚子[千葉].....58キ6
 ●ちゅうせい 長生[千葉].....60ウ5
 ●ちゅうなん 長南[千葉].....60キ5
 □ちゅうふ 調布[東京].....58オ6
 ちゅうふ 調布.....58オ6
 ちゅうふ 調布.....58オ6

○たつこ 田子[青森].....67オ5
 ○たつごう 龍郷[鹿児島].....32④A
 □たつの 兵庫.....44イ6
 ○たつの 辰野[長野].....52エ5
 □たて 伊達[福島].....68エ10
 □たて 伊達[北海道].....69イ4
 ○たてしな 立科[長野].....51オ4
 □たてばやし 館林[群馬].....58オ5
 □たてやま 館山[千葉].....58オ7~8
 ○たてやま 立山[富山].....51ウ3
 たてやま 立山.....51エ3
 ○たどつ 多度津[香川].....40カ3
 たなかしょうぞうきゅうたく 田中正造旧宅.....59オ1
 ○たなぐら 棚倉[福島].....68ウ11
 □たなべ 棚田[和歌山].....44ウ8
 たねがしま 種子島.....32カ1
 ○たの 田野[高知].....40キ5
 ●たのはた 田野畑[岩手].....67カ6
 ●たばやま 丹波山[山梨].....52カ5
 □たはら 田原[愛知].....52ウ7
 たばるざかのたたかい 田原坂の戦い.....33エ4
 ○たふせ 田布施[山口].....37エ6
 □たま 多摩[東京].....58エ6
 ■たまどうらん 玉陵.....31②ア4
 ●たまかわ 玉川[福島].....68ウ11
 たまがわ 多摩川.....58オ6~7
 ○たまき 玉城[三重].....44カ7
 □たまな 玉名[熊本].....33エ4
 ○たまの 玉野[岡山].....38キ5
 ○たまむら 玉村[群馬].....59ウ1
 ○たむら 田村[福島].....68エ11
 ○たら 太良[佐賀].....33ウ3
 ○たらぎ 多良木[熊本].....34エ5
 ●たらま 多良間[沖縄].....31ウ4
 ○たらい 垂井[岐阜].....52イ6
 □たらみず 垂水[鹿児島].....34エ7
 ○たわらもと 田原本[奈良].....46ウ4
 だんのうらのたたかい 壇ノ浦の戦い.....37ア6
 □たんば 丹波[兵庫].....44ウ5
 □たんばささやま 丹波篠山[兵庫] 44ウ5

て

○てしお 天塩[北海道].....69ウ2
 てしおがわ 天塩川.....69ウ2
 ○てしがわ 弟子屈[北海道].....70カ3
 てじま 出島.....33イ4
 てっぼうでんらいち 鉄砲伝来地.....34④イ2
 てわさち 出羽山地.....67ウ6~7
 ●てんえい 天栄[福島].....68ウ11
 ●てんか 天川[奈良].....44エ7
 ○てんどう 天童[山形].....68ウ9
 ○てんり 天理[奈良].....44エ6
 ●てんりゅう 天龍[長野].....52エ6
 てんりゅうがわ 天竜川.....52エ7

と

○とういん 東員[三重].....53イ3
 ○とうえい 東栄[愛知].....52エ6
 ○とうおん 東温[愛媛].....39エ4
 ○とうかい 東海[愛知].....53ウ3
 ○とうかい 東海[茨城].....57キ5
 ○とうがね 東金[千葉].....58カ6
 ○とうきょう 東京[東京].....58オ6
 とうきょうと 東京都.....58オ6
 ○とうごう 東郷[愛知].....53エ3
 ○どうし 道志[山梨].....52キ5
 とうしゅうくわ 東照宮.....57オ4
 ■とうしょうだいじ 唐招提寺.....49ア2
 とうだいじ 東大寺.....46ウ4
 ○とうのしょう 東

なながくすくじょうあと 中城城跡

- なながくすくじょうあと 中城城跡 31 ②イ3
□ながくて 長久手[愛知] 52 ウ6
ながくてのたたかい 長久手の戦い

ながさき 長崎[長崎]

- ながさき 長崎[長崎] 33 イ4
ながさきけん 長崎県 33 ア〜イ4
なながさきぞうせんじよほか

長崎造船所ほか

- 長崎造船所ほか 33 イ4

ながさつない 中札内[北海道]

- ながさつない 中札内[北海道] 69 オ4

ながしのたたい 長篠の戦い

- ながしのたたい 長篠の戦い 52 エ7

なかしべつ 中標津[北海道]

- なかしべつ 中標津[北海道] 70 カ3

なかしま 中島[福島]

- なかしま 中島[福島] 68 ウ11

ながしま 長島[鹿児島]

- ながしま 長島[鹿児島] 34 ウ5

ながす 長洲[熊本]

- ながす 長洲[熊本] 33 ウ4

なかつたね 中種子[鹿児島]

- なかつたね 中種子[鹿児島] 34 ④イ1

なかつ 中津[大分]

- なかつ 中津[大分] 33 オ2

なかつがわ 中津川[岐阜]

- なかつがわ 中津川[岐阜] 52 エ6

ながと 長門[山口]

- ながと 長門[山口] 37 イ5

なかとさ 中土佐[高知]

- なかとさ 中土佐[高知] 39 オ5

なかどまり 中泊[青森]

- なかどまり 中泊[青森] 66 ウ4

ながとろ 長瀬[埼玉]

- ながとろ 長瀬[埼玉] 58 エ5

なかとんべつ 中頓別[北海道]

- なかとんべつ 中頓別[北海道] 69 エ2

ながぬま 長沼[北海道]

- ながぬま 長沼[北海道] 69 ウ3

なかの 中野[長野]

- なかの 中野[長野] 51 オ3

なかの 中野[東京]

- なかの 中野[東京] 64 ク3

ながの 長野[長野]

- ながの 長野[長野] 51 オ3

ながのけん 長野県

- ながのけん 長野県 52 エ〜オ5

なかのじょう 中之条[群馬]

- なかのじょう 中之条[群馬] 57 ウ4

なかのと 中能登[石川]

- なかのと 中能登[石川] 51 イ3

ながのはら 長野原[群馬]

- ながのはら 長野原[群馬] 57 ウ4

ながはま 長浜[滋賀]

- ながはま 長浜[滋賀] 43 オ5

なかふらの 中富良野[北海道]

- なかふらの 中富良野[北海道] 69 エ3

なかま 中間[福岡]

- なかま 中間[福岡] 33 エ2

なかむら 中村[四万十][高知]

- なかむら 中村[四万十][高知] 39 エ5〜6

なかやま 中山[山形]

- なかやま 中山[山形] 68 ウ9

ながよ 長与[長崎]

- ながよ 長与[長崎] 35 イ6

ながら 長柄[千葉]

- ながら 長柄[千葉] 60 キ5

ながらがわ 長良川

- ながらがわ 長良川 52 イ5

ながれやま 流山[千葉]

- ながれやま 流山[千葉] 58 オ6

ながわ 長和[長野]

- ながわ 長和[長野] 51 オ4

なざき 奈義[岡山]

- なざき 奈義[岡山] 38 ク3

なきじん 今帰仁[沖縄]

- なきじん 今帰仁[沖縄] 31 ②イ2

なきじんじょうあと 今帰仁城跡

- なきじんじょうあと 今帰仁城跡 31 ②イ2

なごぞ 南木曾[長野]

- なごぞ 南木曾[長野] 52 エ5

なご 名護[沖縄]

- なご 名護[沖縄] 31 ②イ2

なごみ 和水[熊本]

- なごみ 和水[熊本] 35 オ6

なごや 名古屋[愛知]

- なごや 名古屋[愛知] 52 イ6

なごやじょうあと 名護屋城跡

- なごやじょうあと 名護屋城跡 33 イ2

なす 那須[栃木]

- なす 那須[栃木] 57 カ3

なすからすやま 那須烏山[栃木]

- なすからすやま 那須烏山[栃木] 57 カ4

なすしおばら 那須塩原[栃木]

- なすしおばら 那須塩原[栃木] 57 カ4

なぜ 名瀬[鹿児島]

- なぜ 名瀬[鹿児島] 32 ④イ4

なちかつら 那智勝浦[和歌山]

- なちかつら 那智勝浦[和歌山] 44 エ8

なちのたき 那智滝

- なちのたき 那智滝 44 エ8

なとり 名取[宮城]

- なとり 名取[宮城] 68 イ9

ななえ 七飯[北海道]

- ななえ 七飯[北海道] 69 エ5

ななお 七尾[石川]

- ななお 七尾[石川] 51 イ2

なは 那覇[沖縄]

- なは 那覇[沖縄] 31 ②ア4

なはり 奈半利[高知]

- なはり 奈半利[高知] 40 キ5

なばり 名張[三重]

- なばり 名張[三重] 44 オ6

なまむぎじけん 生麦事件

- なまむぎじけん 生麦事件 59 オ5

なみえ 浪江[福島]

- なみえ 浪江[福島] 68 エ〜オ11

なめがた 行方[茨城]

- なめがた 行方[茨城] 58 カ6

なめがわ 滑川[埼玉]

- なめがわ 滑川[埼玉] 59 エ2

なめりかわ 滑川[富山]

- なめりかわ 滑川[富山] 51 ウ3

なよろ 名寄[北海道]

- なよろ 名寄[北海道] 69 エ2

なら 奈良[奈良]

- なら 奈良[奈良] 44 エ6

ならけん 奈良県

- ならけん 奈良県 44 エ〜オ7

ならしの 習志野[千葉]

- ならしの 習志野[千葉] 58 カ6

ならは 檜葉[福島]

- ならは 檜葉[福島] 68 エ11

なりた 成田[千葉]

- なりた 成田[千葉] 58 カ6

なるさわ 鳴沢[山梨]

- なるさわ 鳴沢[山梨] 52 カ6

なると 鳴門[徳島]

- なると 鳴門[徳島] 40 ク3

なんかん 南関[熊本]

- なんかん 南関[熊本] 35 オ5

なんこく 南国[高知]

- なんこく 南国[高知] 40 カ4

なんじょう 南城[沖縄]

- なんじょう 南城[沖縄] 31 ②イ4

なんたん 南丹[京都]

- なんたん 南丹[京都] 44 ウ5

なんもく 南牧[群馬]

- なんもく 南牧[群馬] 58 ウ5

なんよう 南陽[山形]

- なんよう 南陽[山形] 68 ウ9

に

にいがた 新潟[新潟]

- にいがた 新潟[新潟] 56 エ3

にいがたけん 新潟県

- にいがたけん 新潟県 56 エ3

にいかつ 新見[北海道]

- にいかつ 新見[北海道] 69 エ4

にいざ 新座[埼玉]

- にいざ 新座[埼玉] 59 オ3

にいじま 新島[東京]

- にいじま 新島[東京] 58 ②イ4

にいつ 新津[新潟]

- にいつ 新津[新潟] 56 エ3

にいはま 新居浜[愛媛]

- にいはま 新居浜[愛媛] 39 オ4

にいみ 新見[岡山]

- にいみ 新見[岡山] 38 カ4

にいかほ 新田[秋田]

- にいかほ 新田[秋田] 67 イ7

にき 仁木[北海道]

- にき 仁木[北海道] 69 イ3

にしあひつ 西会津[福島]

- にしあひつ 西会津[福島] 68 イ10

にしあわくら 西栗倉[岡山]

- にしあわくら 西栗倉[岡山] 38 ク3

にしあいつ 西伊豆[静岡]

- にしあいつ 西伊豆[静岡] 52 カ7

にしお 西尾[愛知]

- にしお 西尾[愛知] 52 ウ7

にしおこっぺ 西興部[北海道]

- にしおこっぺ 西興部[北海道] 69 エ2

にしかつら 西桂[山梨]

- にしかつら 西桂[山梨] 52 カ5

にしかわ 西川[山形]

- にしかわ 西川[山形] 68 ウ9

にしき 錦[熊本]

- にしき 錦[熊本] 34 エ5

にしごう 西郷[福島]

- にしごう 西郷[福島] 68 ウ11

にしとうきょう 西東京[東京]

- にしとうきょう 西東京[東京] 59 オ4

にしのおもて 西之表[鹿児島]

- にしのおもて 西之表[鹿児島] 34 ④イ〜ウ1

にしおのしま 西ノ島[島根]

- にしおのしま 西ノ島[島根] 38 オ1

にしのみや 西宮[兵庫]

- にしのみや 西宮[兵庫] 44 ウ6

にしはら 西原[沖縄]

- にしはら 西原[沖縄] 31 ②イ4

にしはら 西原[熊本]

- にしはら 西原[熊本] 36 カ6

にしめや 西目屋[青森]

- にしめや 西目屋[青森] 66 ウ4

にしめら 西米良[宮崎]

- にしめら 西米良[宮崎] 34 オ5

にしわが 西和賀[岩手]

- にしわが 西和賀[岩手] 67 エ7

にしわき 西脇[兵庫]

- にしわき 西脇[兵庫] 44 イ5〜6

にしこ ニセコ[北海道]

- にしこ ニセコ[北海道] 69 イ4

にちなん 日南[宮崎]

- にちなん 日南[宮崎] 34 オ6

にちなん 日南[鳥取]

- にちなん 日南[鳥取] 38 カ3

にちこう 日光[栃木]

- にちこう 日光[栃木] 57 オ4

にっこうのしゃじ 日光の社寺

- にっこうのしゃじ 日光の社寺 57 オ4

にっしん 日進[愛知]

- にっしん 日進[愛知] 53 エ3

にのへ 二戸[岩手]

- にのへ 二戸[岩手] 67 オ5

にのみや 二宮[神奈川]

- にのみや 二宮[神奈川] 59 エ5

にほんまつ 二本松[福島]

- にほんまつ 二本松[福島] 68 ウ10

にゅうぜん 入善[富山]

- にゅうぜん 入善[富山] 51 ウ〜エ3

にやどがわ 仁淀川[高知]

- にやどがわ 仁淀川[高知] 39 オ4

にやどがわ 仁淀川

- にやどがわ 仁淀川 39 オ〜カ5

にらさき 韮崎[山梨]

- にらさき 韮崎[山梨] 52 オ5

にらやまはんしゃろ 韮山反射炉

- にらやまはんしゃろ 韮山反射炉 52 カ6

ぬ

ぬまた 沼田[群馬]

- ぬまた 沼田[群馬] 57 エ4

ぬまた 沼田[北海道]

- ぬまた 沼田[北海道] 69 ウ3

ぬまづ 沼津[静岡]

- ぬまづ 沼津[静岡] 52 カ6

ね

ねば 根羽[長野]

- ねば 根羽[長野] 52 エ6

ねむろ 根室[北海道]

- ねむろ 根室[北海道] 70

Table with 2 columns: Country/Region and Index. Includes entries like やま〜わら 矢奈 [福島], やま〜わら 大和 [神奈川], etc.

Table with 2 columns: Country/Region and Index. Includes entries like ゆら 由良 [和歌山], ゆら はま 湯梨浜 [鳥取], etc.

Table with 2 columns: Country/Region and Index. Includes entries like よ 余市 [北海道], ようかいち 八日市 [東近江], etc.

Table with 2 columns: Country/Region and Index. Includes entries like ろく のへ 六戸 [青森], ろつかしよ 六ヶ所 [青森], etc.

Table with 2 columns: Country/Region and Index. Includes entries like ゆ あさ 湯浅 [和歌山], ゆ うき 結城 [茨城], etc.

Table with 2 columns: Country/Region and Index. Includes entries like ろ りく 陸前高田 [岩手], ろ りく 陸別 [北海道], etc.

Table with 2 columns: Country/Region and Index. Includes entries like ろ りく 陸前高田 [岩手], ろ りく 陸別 [北海道], etc.

Table with 2 columns: Country/Region and Index. Includes entries like ろ りく 陸前高田 [岩手], ろ りく 陸別 [北海道], etc.

Table with 2 columns: Country/Region and Index. Includes entries like スロベニア, セイロン島 [スリランカ], 赤道ギニア, etc.

Table with 2 columns: Country/Region and Index. Includes entries like タイ, 大韓民国, タイペイ [台北], etc.

Table with 2 columns: Country/Region and Index. Includes entries like ナーノ, ナイジェリア, ナイル川, etc.

Table with 2 columns: Country/Region and Index. Includes entries like ハイチ, パキスタン, パーク [アゼルバイジャン], etc.

Table with 2 columns: Country/Region and Index. Includes entries like ブータン, フナフティ [ツバル], フノンベン [カンボジア], etc.

Table with 2 columns: Country/Region and Index. Includes entries like ヤーヨ, ヤウンデ [カメルーン], ヤムスクロ [コートジボワール], etc.

Table with 2 columns: Country/Region and Index. Includes entries like ミャンマー, ミュンヘン [ドイツ], ミラノ [イタリア], etc.

Table with 2 columns: Country/Region and Index. Includes entries like ラーオ, ラオス, ラトビア, etc.

世界の部

Table with 2 columns: Country/Region and Index. Includes entries like アーオ, アイスランド, アイルランド, etc.

Table with 2 columns: Country/Region and Index. Includes entries like インドシナ半島, インドネシア, ウィーン [オーストリア], etc.

Table with 2 columns: Country/Region and Index. Includes entries like カリブ海, カリマンタン島, ガンビア, etc.

Table with 2 columns: Country/Region and Index. Includes entries like サヌア [イエメン], サハラ砂漠, サモア, etc.

Table with 2 columns: Country/Region and Index. Includes entries like サンクトペテルブルク [ロシア連邦], サンサルパドル [エルサルバドル], etc.

Table with 2 columns: Country/Region and Index. Includes entries like サンティアゴ [チリ], サントメ・プリンシペ, サンパウロ [ブラジル], etc.

Table with 2 columns: Country/Region and Index. Includes entries like マーモ, マーシャル諸島, マスカット [オマーン], etc.

Table with 2 columns: Country/Region and Index. Includes entries like マーモ, マーシャル諸島, マスカット [オマーン], etc.

Table with 2 columns: Country/Region and Index. Includes entries like カーコ, ガイアナ, カイロ [エジプト], etc.

Table with 2 columns: Country/Region and Index. Includes entries like カイロ [エジプト], カザフスタン, カスピ海, etc.

Table with 2 columns: Country/Region and Index. Includes entries like カンボジア, キエフ [ウクライナ], キタマケドニア, etc.

Table with 2 columns: Country/Region and Index. Includes entries like キタマケドニア, キト [エクアドル], ギニア, etc.

Table with 2 columns: Country/Region and Index. Includes entries like キタマケドニア, キト [エクアドル], ギニア, etc.

Table with 2 columns: Country/Region and Index. Includes entries like キタマケドニア, キト [エクアドル], ギニア, etc.

Table with 2 columns: Country/Region and Index. Includes entries like キタマケドニア, キト [エクアドル], ギニア, etc.

Table with 2 columns: Country/Region and Index. Includes entries like キタマケドニア, キト [エクアドル], ギニア, etc.

問題の答え

Answers to geographical questions. Includes p.20 沖縄美ら海水族館, p.22 しまなみ海道, p.24 静岡県と山梨県, etc.



いろいろな方法で
都道府県について
考えられるね。

と どう ふ けん ちゅう もく
47都道府県のここに注目しよう

かたち ちゅう もく
形に注目

と どう ふ けん かし
都道府県の形はさまざまです。都道府県の形を
に 似て いる もの に 例 え る と、 わ か り や す く な り ま す。

①  **福島県**
→ ムササビ 

②  **静岡県**
→ 金魚 

③  **兵庫県**
→ ためき 

④  **高知県**
→ 竜 

⑤ **千葉県**
県の形が、そのまま
ご当地キャラクターと
なった「チーバくん」


トライ!
自分たちの住む都道府県の形が何に見えるのか考えて、
意見を話し合ってみよう。

も じ ちゅう もく
文字に注目

と どう ふ けん な ま え
都道府県の名前に付いている文字に注目してみよう。
下の⑥⑦⑧⑨の漢字がつく都道府県をさがしてみよう。

⑥ **山**  ヒント：六つあるよ

⑦ **川**  ヒント：三つあるよ

⑧ **島**  ヒント：五つあるよ

⑨ **動物**
くま 熊  とり 鳥  しか 鹿  うま 馬 
ヒント：一つずつあるよ

トライ!
都道府県の名前に
使われている漢字を
書いてみよう。

みやぎ けん	えひめ けん
宮 県	愛 県
にいがた けん	おきなわ けん
新 県	県

い ち ちゅう もく
位置に注目

と どう ふ けん い ち
都道府県の位置に注目してみよう。

⑩  **海に面していない**
都道府県を
答えよう。
ヒント：八つあるよ

⑪  **最も多くの都道府県と**
接している都道府県を
答えよう。
ヒント：八つの県と接しているよ

しゅ わ あらわ と どう ふ けん
手話で表す都道府県

手話で都道府県を表すこともできます。

⑫ **北海道**
北海道の形(ひし形)を
示します。


⑬ **山形県**
特産のさくらんぼの
形を示します。


⑭ **長崎県**
「長い」と「崎(岬)」の
手話表現を合わせて
示します。

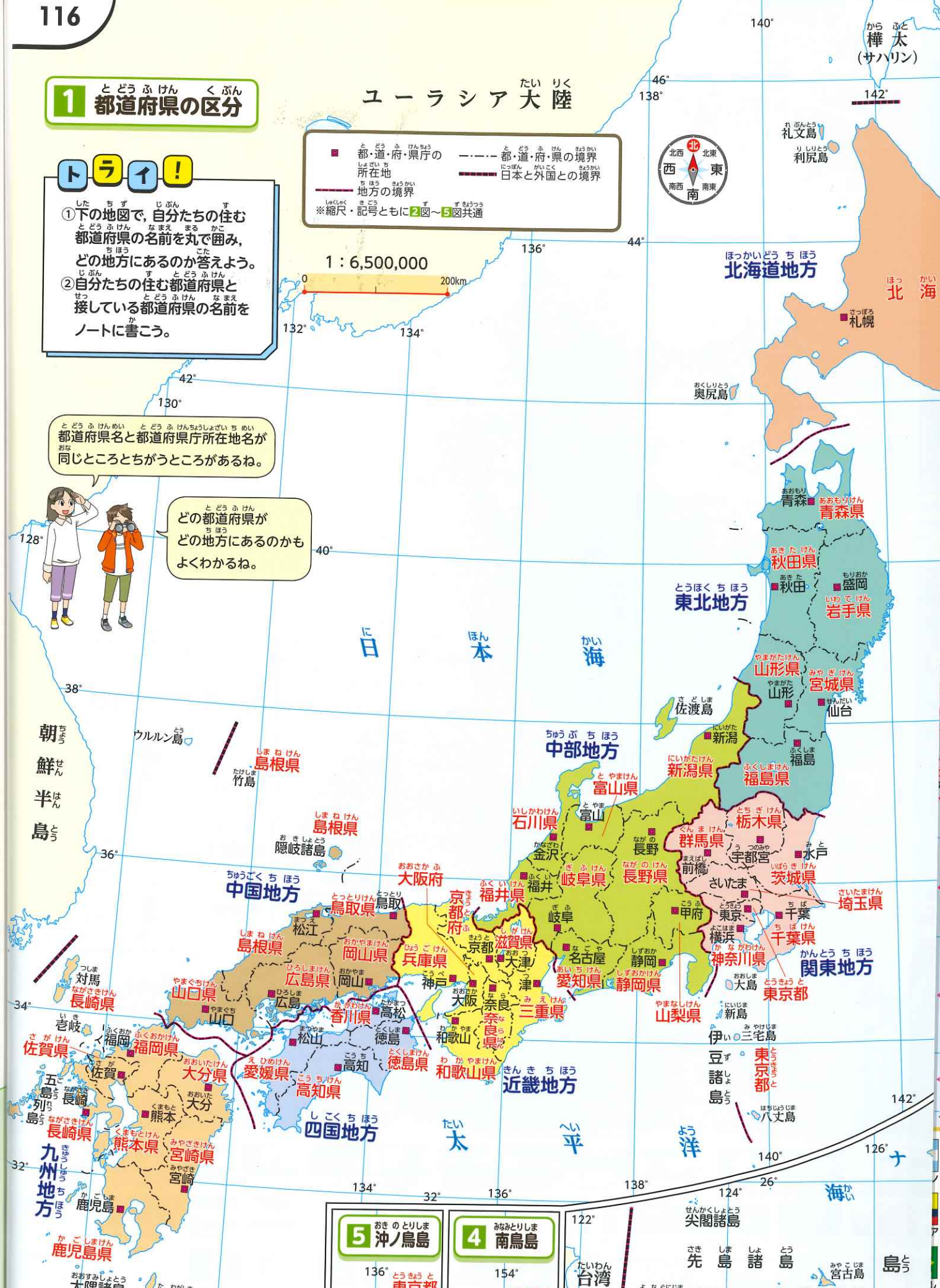

1 と どう ふ けん く ぶん
都道府県の区分

トライ!

- 下の地図で、自分たちの住む都道府県の名前を丸で囲み、どの地方にあるのか答えよう。
- 自分たちの住む都道府県と接している都道府県の名前をノートに書こう。

■ 都・道・府・県庁の所在地
--- 都・道・府・県の境界
--- 地方の境界
--- 日本と外国との境界

※縮尺・記号ともに2図～5図共通



⑤ **沖ノ島**
④ **南鳥島**

地図マスターへの道

～まよめのぬりつぶし～

つかかた
使い方

20ページから始まる
地図マスターの問題に
正しく答えられたら、
1問につき、下の○を
一つずつぬっていき。
※問題の答えは、
114ページにあります。



2 おがさわらしょう 小笠原諸島

小笠原諸島 東京都

太平洋

父島 母島

硫黄島

鹿島 宮崎県

大隅諸島 種子島 屋久島

鹿児島県


喜界島 奄美大島 徳之島 沖永良部島 与論島

九州 地方

大東諸島

琉球

沖縄県



ロサンゼルス11月9日 午後4時

ニューヨーク11月9日 午後7時

ロンドン11月10日 午前0時

首都
その他の都市
世界の州境

(注1) イスラエルは、エルサレムを首都として
宣言していますが、国際的な
承認は得ていません。
(注2) 白い部分は、どの国の領土が
決まっていない地域です。

→p.73~74


ロサンゼルスは午後4時。練習しているよ。

ニューヨークは午後7時。夕ご飯を食べているよ。

国旗を見て調べよう

オセアニア州の国旗をながめると、いくつかの国に共通の柄が入っています。それはなぜなのか、それらの国の歴史を調べてみよう。

オーストラリア	キリバス	アメリカ合衆国	パプアニューギニア	エルサレム	カナダ
ツバル	トンガ	キューバ	グアテマラ	グレナダ	コスタリカ
ニュージーランド	バヌアツ	セントクリストファー・ネイビス	ジャマイカ	セントクリストファー・ネイビス	セントクリストファー・ネイビス
セントクリストファー・ネイビス	セントクリストファー・ネイビス	セントクリストファー・ネイビス	セントクリストファー・ネイビス	セントクリストファー・ネイビス	セントクリストファー・ネイビス
ウルグアイ	エクアドル	ガイアナ	コロンビア	スリナム	チリ
パラグアイ	ブラジル	パラグアイ	ブラジル	パラグアイ	ブラジル



ヨーロッパ州の国々の国旗 (45か国)

- List of 45 European countries with their national flags and names in Japanese: アイスランド, アイルランド, アルバニア, アンドラ, イギリス, イタリア, ウクライナ, エストニア, オーストリア, オランダ, 北マケドニア, ギリシャ, クロアチア, コンボ, サンマリノ, スイス, スウェーデン, スペイン, スロバキア, スロベニア, セルビア, チェコ, デンマーク, ドイツ, ノルウェー, ハチカン, ハンガリー, フィンランド, フランス, ブルガリア, ベラルーシ, ベルギー, ボスニア・ヘルツェゴビナ, ポーランド, ポルトガル, マルタ, モナコ, モルドバ, モンテネグロ, ラトビア, リトアニア, リヒテンシュタイン, ルクセンブルク, ルーマニア, ロシア連邦

アフリカ州の国々の国旗 (54か国)

- List of 54 African countries with their national flags and names in Japanese: アルジェリア, アンゴラ, ウガンダ, エジプト, エスワティニ, エチオピア, エリトリア, ガーナ, カーボベルデ, ガボン, カメルーン, ガンビア, ギニア, ギニアビサウ, ケニア, コートジボワール, コモロ, コンゴ共和国, コンゴ民主共和国, サントメ・プリンシペ, ザンビア, シエラレオネ, ジブチ, ジンバブエ, スーダン, 赤道ギニア, セーシェル, セネガル, ソマリア, タンザニア, チャド, 中央アフリカ, チュニジア, トーゴ, ナイジェリア, ナミビア, ニジェール, ブルキナファソ, ブルンジ, ベナン, ボツワナ, マダガスカル, マラウイ



② ヨーロッパ中心部 1:42,000,000



③ 本初子午線中心の世界地図 1:3000km



日本は午前9時。私たちは授業中だけど、ほかの国では何をしているのかな。



ブリスベンは午前10時。学校でサッカーをしているよ。

サンゼルスは午後4時。習っているよ。

オセアニア州 共通の柄が入る それらの国の国旗

オセアニア州の国々の国旗 (16か国)

- List of 16 Oceania countries with their national flags and names in Japanese: オーストラリア, キリバス, クック諸島, サモア, ニュージーランド, ナウル, トンガ, パプアニューギニア, ソロモン諸島, ツバル, フィジー, バヌアツ, ニュージーランド, ニュージーランド, ニュージーランド