

2


## 2年のふくしゅう①

なまえ

1210点

点

① 今の時こくは9時です。次の時こくを書きましょう。



① 30分後の時こく

( )

② 1時間後の時こく

( )

② 計算をしましょう。

$$\begin{array}{r} ③ \quad 61 \\ + 23 \\ \hline \end{array}$$

$$\begin{array}{r} ④ \quad 74 \\ + 39 \\ \hline \end{array}$$

$$\begin{array}{r} ⑤ \quad 58 \\ + 46 \\ \hline \end{array}$$

$$\begin{array}{r} ⑥ \quad 37 \\ - 20 \\ \hline \end{array}$$


$$\begin{array}{r} ⑦ \quad 175 \\ - 89 \\ \hline \end{array}$$

$$\begin{array}{r} ⑧ \quad 106 \\ - 57 \\ \hline \end{array}$$

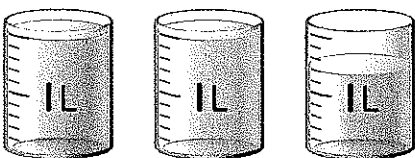
③ □にあてはまる数を書きましょう。

⑨ 1mと50cmをあわせた長さは、

□ m □ cm です。



④ 次のかさは何L何dLですか。



⑩ ( )

3

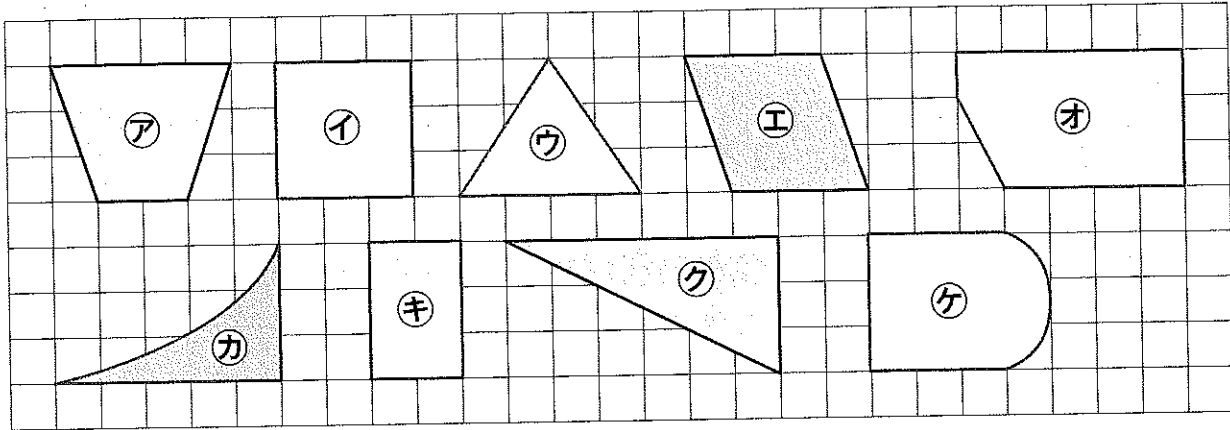
## 2年のふくしゅう②

なまえ

点

① 長方形，正方形，直角三角形はどれですか。

アからケで答えましょう。



① 長方形 ( )    ② 正方形 ( )    ③ 直角三角形 ( )

② かけ算をしましょう。

④  $3 \times 6$

⑤  $4 \times 7$

⑥  $9 \times 8$

⑦  $6 \times 5$

③ □にあてはまる数を書きましょう。

⑧ 100 を 8 こ，10 を 2 こ，1 を 5 こあわせた数は，

□ です。

⑨ 1000 を 3 こ，100 を 1 こ，1 を 4 こあわせた数は，

□ です。

⑩ 7600 は，100 を □ <sup>あつ</sup>こ集めた数です。


なまえ

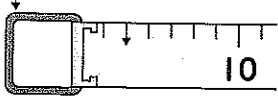
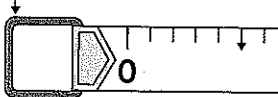
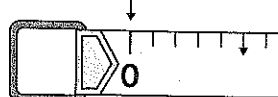
100点

点

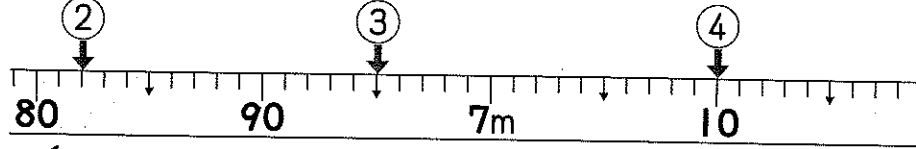
### ① 長いものの長さのはかり方

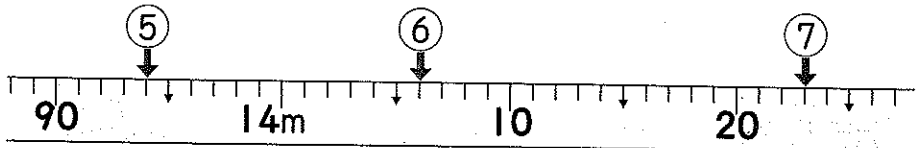
1 下のまきじゃくの0のメモリのいちで正しいのは、

ア, イ, ウのうち、どれとどれですか。  ヒント まきじゃくのメモリをよく見て考えよう。

ア  イ  ウ  ① (      と      )

2 次のまきじゃくで、②から⑦のメモリが表す長さを <sup>つぎ</sup>書きましょう。 <sup>あらわ</sup>

 ② (      )      ③ (      )      ④ (      )

 ⑤ (      )      ⑥ (      )      ⑦ (      )

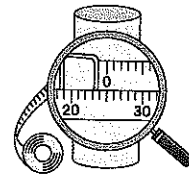
3 次の長さをはかります。まきじゃく、ものさしのどちらを <sup>つか</sup>使いますか。

⑧ ノートのたての長さ (      )      ⑨ 黒板の横の長さ (      )

⑩ かんづめのまわりの長さ (      )



④ お茶のつつのまわりの長さを、まきじゃくではかりました。つつのまわりの長さは何cmですか。



(      )