



西大和学園補習校

2016年2月6日発行

1年生 学年通信



<先週的生活科では、節分にちなんで「豆まき」を行いました。>



豆まき前には、節分に関する紙芝居を読みました。始まった途端みんな静かになり、食い入るようにお話を聞いていました。豆まきのルールを確認した頃、校舎の影より赤鬼が顔を出したことに気付いた子が「あそこに鬼がいるー!」と叫び、みんなのテンションも一気に上がりました。鬼もさぞかし驚かしがいがあったのではないかと思います。勇敢に立ち向かう子や、少し怖がった様子で逃げ回る子、それぞれが思い思いの豆まきを経験できたと思います。最後の鬼さんからの「いい子にするんだよ」というメッセージにはしっかりと頷く仕草も見られました。来月は雛祭りもあります。日本の文化を楽しみながら学んでいる様子を、是非ご家庭でも聞いてあげてください。(生活科担当・神中)



鬼退治のあとに、集合写真を撮りました。みんな4月と比べてずいぶん大きくなりましたね。

<詩の発表会に向けて〜クラスごとの作品が決まりました〜>

1組「日づけ」 2組「おもち」 3組「ねずみのもちつき」

3月の発表会に向けて「ぞうさんのぼうし」とともに、これらの作品も練習していきます。練習用の紙をクラスごとに配布しております。リズムに合わせて楽しく練習しましょう!

《今週の学習》

国語1	「どうぶつの赤ちゃん」(p92-97)
算数	「なんじなんぷん」(p52-54)
国語2	口年草貝カタカナ復習
生活科	「漢字の魚釣り」

＜次週は学年末テストです！＞

再度以下の点をご確認下さい。

☆こくご：「どうぶつの 赤ちゃん」からの読み取りと、これまでに学習した言語事項。

☆さんすう：(上) p66～最終ページ「10より おおきい かず」「3つの かずの けいさん」「どちらが おおい (かさ)」「(下) p2～50「たしざん」「ひきざん」「かたちあそび」「どちらが ひろい」「おおきい かず」

《来週の学習予定》

国語1	国語2	算数	生活
学年末テスト	入右足石カタカナ	学年末テスト	漢字魚釣り大会(2)

《こんしゅうのしゅくだい》

こくご	<input type="checkbox"/> かん字の学しゅうノート ③④⑤をおわらせる。(ていねいに！) <input type="checkbox"/> おんどくカード「どうぶつの 赤ちゃん」「クラスのし」 <input type="checkbox"/> かん字カタカナテストのれんしゅう <input type="checkbox"/> さく文 「おはなしをつくろう」 <input type="checkbox"/> ドリルの王さま46 (P78のみ) <input type="checkbox"/> カタカナワークブックのしあげ (次週回収します) ※お休みなどで抜けているページをしあげましょう。	<table border="1"> <tr> <td></td> <td>19</td> <td>18</td> <td>17</td> <td>16</td> <td>15</td> <td>14</td> <td>13</td> <td>12</td> <td>11</td> <td>10</td> <td>9</td> <td>8</td> <td>7</td> <td>6</td> <td>5</td> <td>4</td> <td>3</td> <td>2</td> <td>1</td> </tr> <tr> <td>2</td> <td>17</td> <td>11</td> <td>15</td> <td>9</td> <td>13</td> <td>10</td> <td>14</td> <td></td> <td></td> <td></td> <td></td> <td></td> <td></td> <td></td> <td></td> <td></td> <td></td> <td></td> <td></td> </tr> <tr> <td>3</td> <td>12</td> <td>6</td> <td>10</td> <td>4</td> <td>8</td> <td>5</td> <td>9</td> <td></td> <td></td> <td></td> <td></td> <td></td> <td></td> <td></td> <td></td> <td></td> <td></td> <td></td> <td></td> </tr> <tr> <td>4</td> <td>15</td> <td>9</td> <td>13</td> <td>7</td> <td>11</td> <td>8</td> <td>12</td> <td></td> <td></td> <td></td> <td></td> <td></td> <td></td> <td></td> <td></td> <td></td> <td></td> <td></td> <td></td> </tr> <tr> <td>5</td> <td>11</td> <td>5</td> <td>9</td> <td>3</td> <td>7</td> <td>4</td> <td>8</td> <td></td> <td></td> <td></td> <td></td> <td></td> <td></td> <td></td> <td></td> <td></td> <td></td> <td></td> <td></td> </tr> <tr> <td>6</td> <td>14</td> <td>8</td> <td>12</td> <td>6</td> <td>10</td> <td>7</td> <td>11</td> <td></td> <td></td> <td></td> <td></td> <td></td> <td></td> <td></td> <td></td> <td></td> <td></td> <td></td> <td></td> </tr> <tr> <td>7</td> <td>18</td> <td>12</td> <td>16</td> <td>10</td> <td>14</td> <td>11</td> <td>15</td> <td></td> <td></td> <td></td> <td></td> <td></td> <td></td> <td></td> <td></td> <td></td> <td></td> <td></td> <td></td> </tr> <tr> <td>8</td> <td>10</td> <td>4</td> <td>8</td> <td>2</td> <td>6</td> <td>3</td> <td>7</td> <td></td> <td></td> <td></td> <td></td> <td></td> <td></td> <td></td> <td></td> <td></td> <td></td> <td></td> <td></td> </tr> </table>		19	18	17	16	15	14	13	12	11	10	9	8	7	6	5	4	3	2	1	2	17	11	15	9	13	10	14													3	12	6	10	4	8	5	9													4	15	9	13	7	11	8	12													5	11	5	9	3	7	4	8													6	14	8	12	6	10	7	11													7	18	12	16	10	14	11	15													8	10	4	8	2	6	3	7												
	19		18	17	16	15	14	13	12	11	10	9	8	7	6	5	4	3	2	1																																																																																																																																														
2	17	11	15	9	13	10	14																																																																																																																																																											
3	12	6	10	4	8	5	9																																																																																																																																																											
4	15	9	13	7	11	8	12																																																																																																																																																											
5	11	5	9	3	7	4	8																																																																																																																																																											
6	14	8	12	6	10	7	11																																																																																																																																																											
7	18	12	16	10	14	11	15																																																																																																																																																											
8	10	4	8	2	6	3	7																																																																																																																																																											
さんすう	<input type="checkbox"/> テストれんしゅうプリント 1まい (両面) ※丸付けをお願いいたします。 <input type="checkbox"/> ます けいさん れんしゅう 1まい 今回はひき算です。落ち着いて解きましょう。 <input type="checkbox"/> さんすうドリルの宿題はありません。	解答→																																																																																																																																																																

⑤	④	③	②	①
ダ <small>だ</small>	かい	一年生 <small>ねんせい</small>	レストラン	ロコニミでゆうな名 <small>めい</small>
が	草 <small>そう</small>	にも	は	な
お	貝 <small>かい</small>	大人 <small>だいじん</small>		
い	の	気 <small>き</small>		
し	サ			
い	マ			
よ				
。				

「にしゃまご がくえん ほしゅうこう ろみた こうかんじ かたかな てすと (2) がつ(13) にち じめ・はね・はらいまで きをつけて かきましょう。」

「ねんせい(4)くみ なまえ ロリングひる子

来週の漢字カタカナテストです。二年生の学習につながるよう、「とめ・はね・はらい」に気を付けて練習しましょう。

ます けいさん れんしゅう

2/6

やた日: 月 日 よ日 なまえ ()

ますの 中に こたえを かきましょう。

—	19	13	17	11	15	12	16
2							
7							
4							
8							
5							
1							
9							

にしまと がくえん ほしゅうこう るみた こう

かんじ かたかな てすと

(2)が (13)にちれんじゅう

とめ・はね・はらいまで きをつけて かきましよう。

一ねんせい ()くみ

なまえ

①

くち ぬい

②

しん せい

③

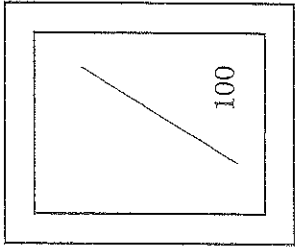
ねん せい だに じん き

④

か せい かい

⑤

だ (かたがら)





おんどく カード

Iねん

なまえ

よい◎ ふつう○ もうすこし△

月 日	よんだところ	、やに きをつけて	おおきなこえで	ゆっくりよむ	おうちの人の サイン
/	しゅくだい：(P.92～P.97) どうぶつの 赤ちゃん ※らいしゅうはテストです。しっかりと よみましょう。				
/	しゅくだい：(P.92～P.97) どうぶつの 赤ちゃん				
/	しゅくだい：(P.92～P.97) どうぶつの 赤ちゃん				
/	しゅくだい：(P.92～P.97) どうぶつの 赤ちゃん				
/	しゅくだい： クラスできめた「し」をよもう。				
/	しゅくだい： クラスできめた「し」をよもう。				
/	しゅくだい： クラスできめた「し」をよもう。				
/	ここまでがしゅくだいです。ここからはじゅうおんどくです。				
/					
/					
/					

せんせいのサイン

日づけ

一月一日 お正月。

二月二日は みんなで こたつ。

三月三日は ももの 花。

四月四日は さくらの 花見。

五月五日は こいのぼり。

六月六日は わかばの 小みち。

七月七日は 天の川。

八月八日は なつ休み。

九月九日 虫の こえ。

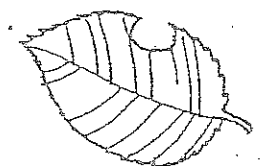
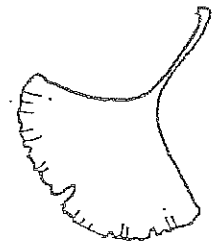
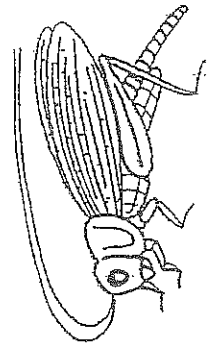
十月十日は ハイキング。

ロプウエーにも のりたいな。

十一月十一日 おちばひろい。

十二月二十日は、

早く こい こい お正月。



ねずみの もちのち

ねずみもち

ねずみの もちのち

くんだらり

くんだら ぼんだら

くんだらり

ながすく にくらば

だれとだれ

ちゆらりに ちゆらすけ

ちゆらだに ちゆらちち

ちゆらちよるり

どのりち くだら

くだら ちゆり

ねずみの もちのち

くんだらり

くんだら ぼんだら

くんだらり

くんだら かじらり

だれとだれ

ちゆらりに ちゆらすけ

ちゆらだに ちゆらちち

ちゆらちよるり

どのりち かりかり

かりかり ちゆり

投 申 切

掛 入 切 掛

投 申 切 切 切 切

切 切 切 切

切 切 切 切 切 切 切 切

切 切 切 切 切 切

切 切 切 切

切 切 切 切 切 切 切 切

切 切 切 切 切 切

切 切 切 切

切 切 切 切 切 切 切 切



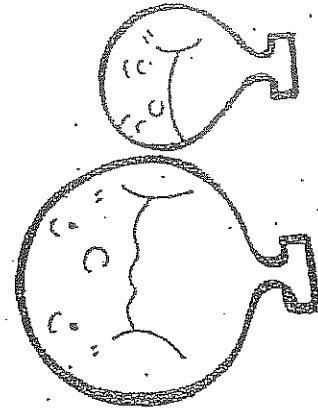
切 切 切 切 切 切

切 切 切 切

切 切 切 切 切 切 切 切

切 切 切 切 切 切

切 切 切 切 切 切



1ねん さんすう


名まえ

月

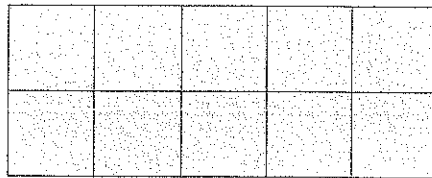
日

しゅくだい 「こうきの ふくしゅう」

1、ひろい ほうに ○を つけましょう。

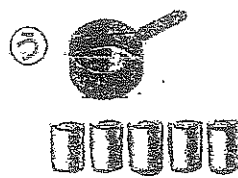



()



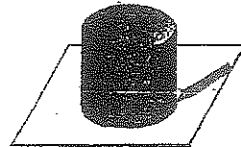
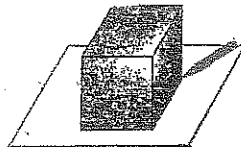
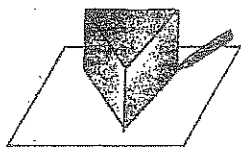
()

2、いちばん おおく はいるのは どれですか。



()

3、うつした かたちを せん (●——) で むすびましょう。



4、けいさんを しましょう。

① $4 + 1 + 2 =$

② $10 - 6 + 5 =$

③ $30 + 40 =$

④ $100 - 80 =$

⑤ $53 + 4 =$

⑥ $88 - 6 =$

うしろ
あります。

5、あかい はなが 9こ、しろい はなが 7こ さいています。

あわせて なんこ さいていますか。

しき

こたえ

6、りすが 12ひき います。うさぎが 5ひき います。

どちらが なんびきおおいですか。

しき

こたえ

7、チョコレートが 8こ あります。はじめに 3こ たべました。

つぎに 2こ たべました。チョコレートは なんこに なりましたか。

しき

こたえ

8、□に かずを かきましょう。

① 10が 6こと、1が 3こで

② 78は 10が こと 1が こ

③ 十のくらいが7、一のくらいが9の かずは

④ 45の 十のくらいの すうじは 、一のくらいの すうじは

うぶも あります。

1ねん さんすう

しゅくだい 「こうきの ふくしゅう」

名まえ


月

日

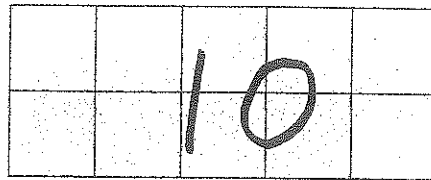
こたえ

こたえあわせをしましょう

1、ひろい ほうに 〇を つけましょう。


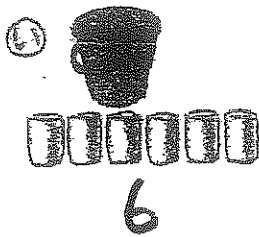


()

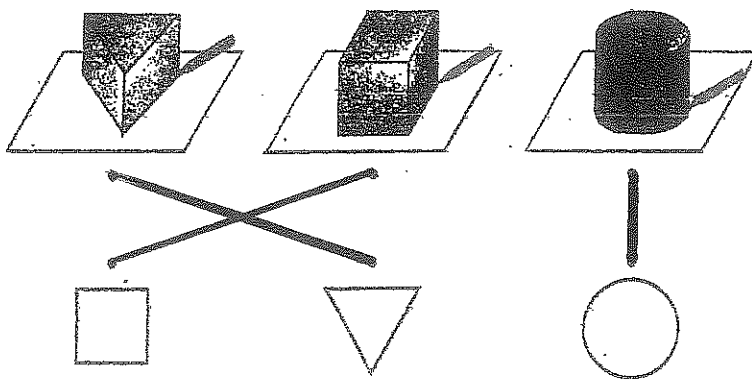


(〇)

2、いちばん おおく はいるのは どれですか。



3、うつした かたちを せん (—) で むすびましょう。



4、けいさんを しましょう。

① $4 + 1 + 2 = 7$

② $10 - 6 + 5 = 9$

③ $30 + 40 = 70$

④ $100 - 80 = 20$

⑤ $53 + 4 = 57$

⑥ $88 - 6 = 82$

うらやま
あります。

5、あかい はなが 9こ、しろい はなが 7こ さいています。

あわせて なんこ さいていますか。

しき $9+7=16$

こたえ

16こ

↑ わすれずに。

6、りすが 12ひき います。うさぎが 5ひき います。

どちらが なんびきおおいですか。

しき $12-5=7$

こたえ

りすが 7ひき おおい。

7、チョコレートが 8こ あります。はじめに 3こ たべました。

つぎに 2こ たべました。チョコレートは なんこに なりましたか。

しき $8-3-2=3$

こたえ

3こ

↑ 1つのしきにしましょう。

8、□に かずを かきましょう。

① 10が 6こと、1が 3こで 63

② 78は 10が 7 こと 1が 8 こ

③ 十のくらいが7、一のくらいが9の かずは 79

④ 45の 十のくらいの すうじは 4、一のくらいの すうじは 5

うじも あります。

