



整数と小数

小数の表し方

年 組 番
 名前

1 10mを1こ、1mを2こ、0.1mを7こ、0.01mを9こ、0.001mを8こあわせた数をもとめます。にあてはまる数を書きましょう。

① 10m が 1こで 1 0 m

テニスコートのネットの横の長さだよ

② 1m が 2こで 2 m

③ 0.1m が 7こで 0 . 7 m

④ 0.01m が 9こで 0 . 0 9 m

⑤ 0.001m が 8こで 0 . 0 0 8 m

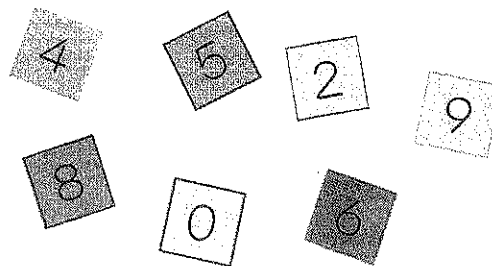
合わせて 1 2 . 7 9 8 m



2 にカードをあてはめて、次の数をつくりましょう。

1番大きい数

9 8 6 5




1番小さい数

2 0 4 5

50に1番近い数

4 9 8 6





整数と小数

小数の表し方

年 組 番
 名前

10mを1こ、1mを2こ、0.1mを7こ、0.01mを9こ、0.001mを8こあわせた数をもとめます。□にあてはまる数を書きましょう。

① 10m が 1こで 1 0 m

② 1m が 2こで m

③ 0.1m が 7こで . m

④ 0.01m が 9こで . m

⑤ 0.001m が 8こで . m


合わせて 1 . m

テニスコートのネットの横の長さだよ



2 □ にカードをあてはめて、次の数をつくりましょう。

1番大きい数



1番小さい数

50に1番近い数

