



1年生 学年通信

web

夏休みが明け、久しぶりに教室に子どもたちが勢ぞろいしました。お休みの間に普段の学校生活では味わえないような貴重な体験や思い出がたくさん出来たことでしょう。保護者の皆さまには、家庭学習にご協力を頂きありがとうございます。休暇中の様子を絵日記で読ませてもらうのがとても楽しみです。さて、来週はさっそく前期のまとめテストがあります。書き方を忘れてしまった文字もあるかもしれません。今一度、ご家庭での復習にご協力をよろしくお願いたします (美間)

《今週の学習》

国語 1	「うみのかくれんぼ」(p.114-119) まとめテストの練習
算数	まとめテストの練習
国語 2	「大」「ズ」
生活科	夏休みの思い出 絵・作文①

《来週の学習予定》

国語 1	まとめテスト ひらがなあつまれ(p102-103)
算数	まとめテスト
国語 2	「小」「一」「ボ」「ン」
生活科	夏休みの思い出 続き

《こんしゅうのしゅくだい》

こくご	□ドリルのおうさま みなおし p31, 32, 33, 34, 35, 38, 42 □おんどく「うみのかくれんぼ」「ねことねっこ」「おばさんとおばあさん」
さんすう	□さんすう テストの練習1枚 (おうちの方と一緒に練習してください) □計算カード たしざん① または ひきざん①
せいかつ	□プリント「あさがおのたねができたよ」 最後の観察記録です。 ・種ができている場合 →観察をして、提出してください。 ・種がまだできていない場合→種ができたなら観察して提出してください。 ・枯れてしまった場合 →種ができる様子を想像して描いてください。 (図鑑やインターネットなどで調べていただいても結構です)



※夏休みの宿題にご協力を頂きありがとうございます。点検のためしばらくお預かりさせていただきます。

未提出の課題があれば、来週提出していただくようお願いいたします。

※夏休みに貸し出した学校図書がご家庭にありましたら、忘れずに返却してください。

※今後しばらくは暑い日が続くと思われま。お茶やお水を多めに持たせてあげてください。

※お子さんが時間通りに起床し、朝食を食べて登校できるよう、生活面でのご協力をお願いいたします。

来週のまとめテストについて

まとめテストの範囲を再度お知らせいたします。ご家庭での学習の参考になさってください。

<算数> 「なかまづくりと かず」～「のこりはいくつ ちがいはいくつ」(p2～59)と

「なんじ なんじはん」～「どちらがながい」(p74～81)

(「10よりおおきいかず」は後期のテスト範囲とします。)

<国語> 読解:「うみのかくれんぼ」 言語:「前期学習範囲」(「ひらがな」「長音(おと[㊦]さん)」

「促音(ら[㊦]こ)」言葉のつながり等) ※「拗音(び[㊦]ういん)」は試験に含まれません。

教科書・ドリルの下巻を配布しました。(欠席の方は学校で保管しています)


本日教科書(こくご下巻・さんすう下巻・せいかつ下巻・ずこう下巻)と副教材(漢字学習ノート、カタカナ学習ノート)を配布しています。ご家庭で記名の上、保管をお願いいたします。国語・算数ともにもうしばらく上巻を使用いたします。さんすうドリルの下巻は使用を始める週に配布いたします。また、新しい文房具、水筒などにも名前を書いて頂くと助かります。

(裏面はありません。)

たねが^ができましたよ

なまえ

じぶんのあさがおから とれた たねを とっておきましょう。どんなかたちかな。
いまの あさがお の ようす を かこう
かれていますばあいは、ずかんやインターネットではなのようすをしらべてみよう。



たねの ようすを かこう。5がつに もらった たねと くらべてみよう。

Empty rounded rectangular box for drawing or writing.

あさがおをそだてて きがついたこと おもったことをかきましょう。


Three horizontal lines for writing.

これで、あさがおのかんさつはおしまいです。いままでよくがんばりましたね！

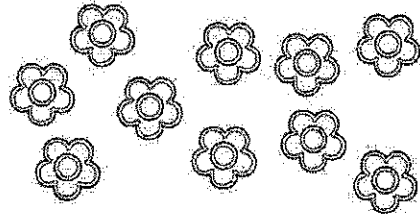
1ねん さんすう
ぜんき れんしゅう てすと
(しゅくだい)

_____ くみ なまえ _____

1. かずを かきましょう。



わ



こ

2. かずの おおきい ほうに ○を しましょう。

8

5

()

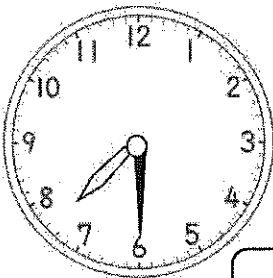
()

3. ひだりから 3まいめに いろを ぬりましょう。




4. なんじ、なんじはん ですか。ことば (すうじと ひらがな) で かきましょう。

①



②



5.あと いくつで 6に なりますか。

①

4 と

②

1 と

6.たしざん、ひきざんを しましょう。

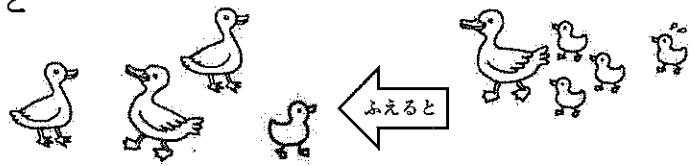
$$3 + 5 =$$

$$6 + 4 =$$

$$7 - 2 =$$

$$9 - 6 =$$

7.あひるが 4わ います。 5わ ふえると
あひるは なんわに なりますか。



しき

こたえ

8.ぱんだが 7とう います。うしが 4とう います。
どちらが なんと おおいでしょう。



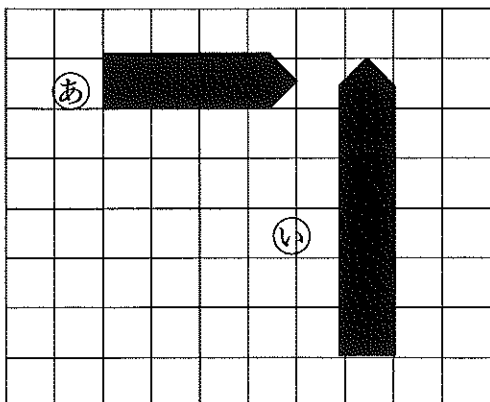
しき

こたえ

が

とう おおい。

9.したの ずを みて こたえましょう。




(1) (a)は、ますの こぶんの ながさ。

(2) (i)は、(a)より ますの こぶん
ながい。


1ねん さんすう
ぜんき れんしゅう すと
(しゅくだい)

_____ くみ なまえ _____

1. かずを かきましよう。



8 わ



10 こ

2. かずの おおきい ほうに ○を しましよう。

8

5

(○)

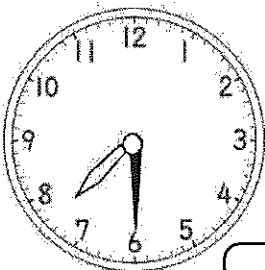
()

3. ひだりから 3まいめに いろを ぬりましよう。




4. なんじ、なんじはん ですか。ことば (すうじと ひらがな) で かきましよう。

①



7じはん

②



4じ

5.あと いくつで 6に なりますか。

①

4 と 2

②

1 と 5

6. たしざん、ひきざんを しましょう。


$$3 + 5 = 8$$

$$6 + 4 = 10$$

$$7 - 2 = 5$$

$$9 - 6 = 3$$


7. あひるが 4わ います。 5わ ふえると
あひるは なんわに なりますか。



しき $4 + 5 = 9$

こたえ 9わ

8. ぱんだが 7とう います。うしが 4とう います。
どちらが なんてう おおいでしょう。



しき $7 - 4 = 3$

こたえ

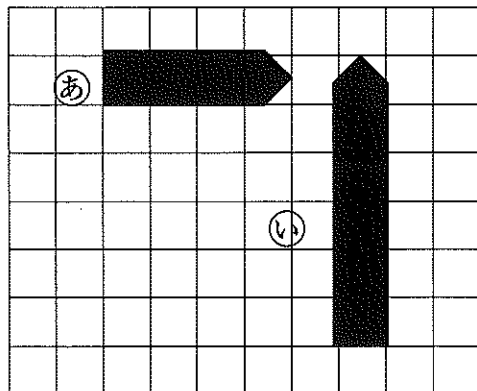
ぱんだ

が

3

とう おおい。

9. したの ずを みて こたえましょう。



(1) (a)は、ますの 4 こぶんの ながさ。

(2) (i)は、(a)より ますの 2 こぶん
ながい。



おんどく+けいさん カード

1ねん

なまえ

よい◎

ふつう○

もうすこし△

月 日	よんだところ	、や。に きをつけて	おおきなこえで	ゆっくりよむ	おうちの人の サイン
/	うみのかくれんぼ p 114-118				
/	うみのかくれんぼ p 114-118				
/	うみのかくれんぼ p 114-118				
/	「ねことねっこ」 「おばさんとおばあさん」				
/	「ねことねっこ」 「おばさんとおばあさん」				
/	「ねことねっこ」 「おばさんとおばあさん」				
/	けいさんカード ひきざん①10問	ただしいこたえ ◎○△	はやさ	げんき◎	サイン
/	けいさんカード ひきざん①10問				
/	けいさんカード たしざん①10問				
/	けいさんカード たしざん①10問				


じゅうおんどくはうらめんです。

せんせいのサイン


1ねん さんすう
ぜんきれんしゅう てすと
(じゅぎょう)

くみ なまえ

① かずを かきましょう。



こ



ぴき

② かずの おおきい ほうに ○を しましょう。

4

6

③ まえから 3ひきの ねこを ○で かこみましょう。



④ あと いくつで 5に なりますか。

①

2

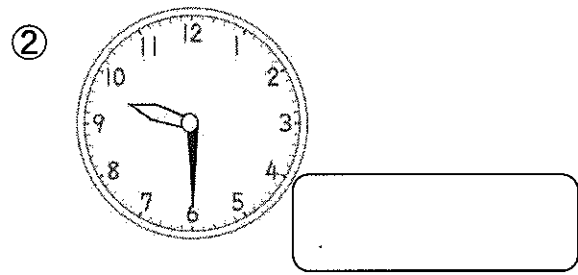
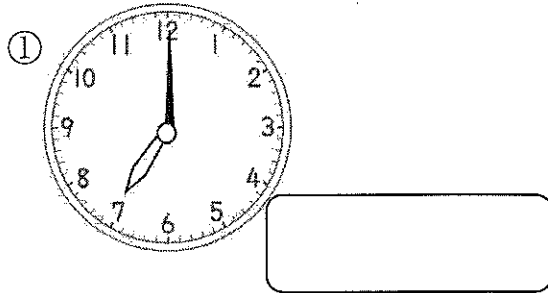
と

②

4

と

⑤ なんじ、なんじはん ですか。ことば (すうじと ひらがな) で かきましょう。



⑥ たしざん、ひきざんを しましょう。

① $7 + 2 =$

② $5 + 3 =$

③ $8 - 2 =$

④ $6 - 6 =$

⑦ めろんばんが 6 こあります。あんばんが 3 こあります。
ばんは あわせて なんこ ありますか。



しき _____



こたえ _____

⑧ とりが 8 わ います。3 わ とんで いくと のこりは なんわに なりますか。

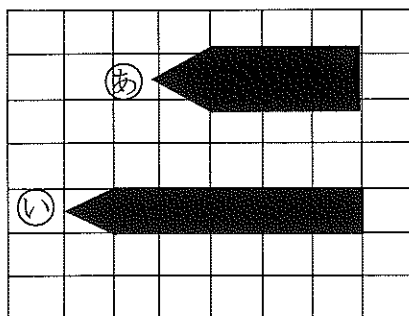


しき _____



こたえ _____

⑨ したの ずを みて こたえましょう。



(1) ①は ますの こぶんの ながさ。

(2) ②は ①より ますの こぶん
ながい。

せんせいのおしめ


てすとねんしゅう

① ① ①
えをみて、
なかに
かきましよう。

② ② ②
えの
かきましよう。


① おに

 せん

① 


② おと

 と

② 

③ おね

 せん

③ 

③ ③ ③
うしろ
かきましよう。

- ① おとに きが . . . あげる。
- ② かがみに すがたを . . . ひく。
- ③ おおきな えを . . . うつす。

④ □ に あらほうの じを かきましよう。

① ぴあの

--

 (お・を) せんせい

--

 (が・で) ひく。

② わたし

--

 (ほ・わ) でんわ

--

 (お・を) かける。

4 つきの ぶんじちんを もんで、 もんだいじに いたてまじちん。

① ② ③ ④ ⑤ ⑥ ⑦ ⑧ ⑨ ⑩ ⑪ ⑫ ⑬ ⑭ ⑮ ⑯ ⑰ ⑱ ⑲ ⑳ ㉑ ㉒ ㉓ ㉔ ㉕ ㉖ ㉗ ㉘ ㉙ ㉚ ㉛ ㉜ ㉝ ㉞ ㉟ ㊱ ㊲ ㊳ ㊴ ㊵ ㊶ ㊷ ㊸ ㊹ ㊺

はまぐりが、すなの なかに かくれて います。

はまぐりは、大きくて つよい あしを もって います。すなの なかに あしを のばして、 すばやく もぐって かくれます。

たこが、うみの そこに かくれて います。


たこは、からだの いろを かえる ことが できます。まわりと おなじ いろに なって、 じぶんの からだを かくします。

● 「たこの かくれんぼ」より ●

() を まわりと おなじにする。

① ② ③ ④ たこは 色をかえる ことが できるのか。

(1) はまぐりは、どこに かくれて いますか。



の なか。

(2) はまぐりの あしは、 どんな あしですか。あ うもの 二つに ○を つけましょう。

- Ⓐ () 大きい。
- Ⓑ () 小さい。
- Ⓒ () よわい。
- Ⓓ () つよい。

(3) たこは、どこに かく れて いますか。

()

(4) たこは、じぶんの か らだを かくす ために なにを しますか。