

テストの勉強をしましょう

5/12

いぬ しゆじんこう はなし

① 犬が主人公のお話

こおり みず

② 氷がとけると水になる

のうち

③ 農地をたがやす

きよく きつて か

④ ゆうびん局で切手を買う

てがみ へんじ

⑤ 手紙の返事をもらう

いっぶん ろくじゆうびよう

⑥ 一分は六十秒

しゆご こ かんが

⑦ 主語としゆつ語を考える

しゆ かえ

⑧ れん習をくり返す

のう たい

⑨ 農ぎようを体けんする

ひようすう

⑩ 秒数をはかる

5/19

いぬがしゆじんこうのおはなし

①

こおりがとけるとみずになる

②

のうちをたがやす

③

ゆうびんきよくできつてをかう

④

おてがみのへんじをもらう

⑤

いっぶんはろくじゆうびよう

⑥

しゆごとしゆつごをかんがえる

⑦

れんしゆうをくりかえす

⑧

のうぎようをたいけんする

⑨

ひようすうをはかる

⑩

西大和学園補習校三年  
漢字テスト

5/12

①

にほんでおんせんにはいる

②

こころがあたたかくなるはなし

③

ちちはおさががすぎだ

④

じかいはひやくてんをとる

⑤

つかいかたをならう

⑥

ひあののはつびようかい

⑦

でんしゃがはっしやする

⑧

つぎのひどにまわす

⑨

さかやがあまざけをうる

⑩

ずがこうざくがとくい

3

こまを楽しむ

名前

① 「はじめ」「中」「おわり」の三つに分けましょう。

<b>はじめ</b>	「問い」	ページ 行目	ページ 行目
<b>中</b>	「問い」にたいする「答え」	ページ 行目	ページ 行目
<b>おわり</b>	ぜんたいのまとめ	ページ 行目	ページ 行目

② 「問い」と「答え」に気をつけて読みましょう。

・この文章の「問い」を二つ書きぬきましょう。

①	②

・「問い」にたいする「答え」を、段落ごとにせいりしましょう。

段落	②の「答え」	①の「答え」
ページ 行目		

ページ 行目	ページ 行目	ページ 行目	ページ 行目	ページ 行目

3

# 長いものの長さのはかり方

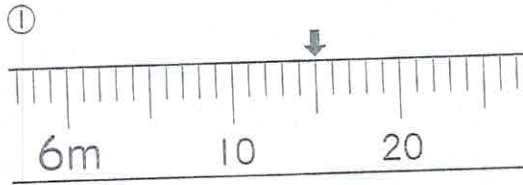
3年

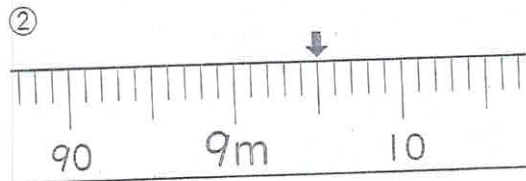
組

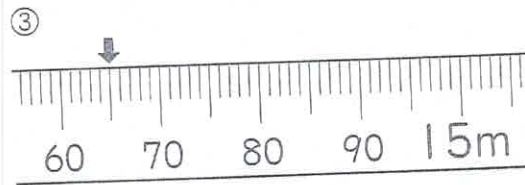
番

名前

① 下のまきじゃくの、↓のめもりをよみましょう。(各10点)





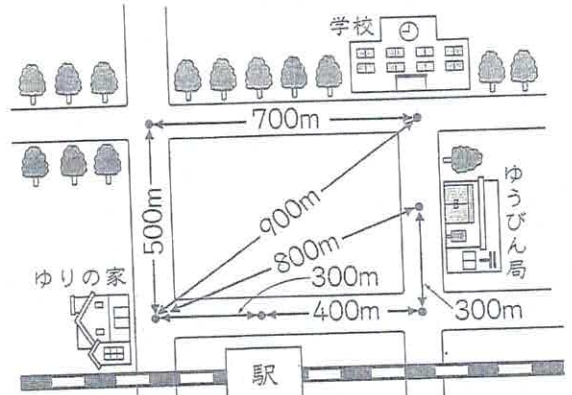



② □にあてはまる数を書きましょう。(各10点, ①は完答)

① 2500m =  km  m

② 1km80m =  m

③ 下の地図を見て答えましょう。(各10点)



① 駅えきからゆうびん局きょくまでの道のりは何mですか。

② 学校からゆりさんの家までの道のりは何mですか。また、それは何km何mになりますか。

 m

 km  m

③ ゆりさんの家からゆうびん局までの、きょりと道のりのちがいは何mですか。

しき式

答え

③

## 長いものの長さのはかり方

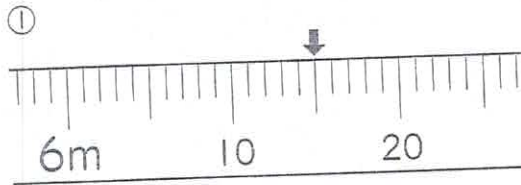
3年

組

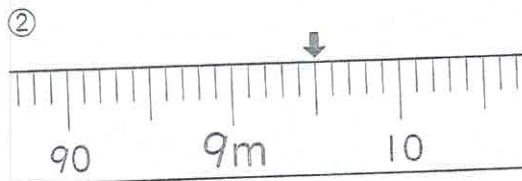
番

名前

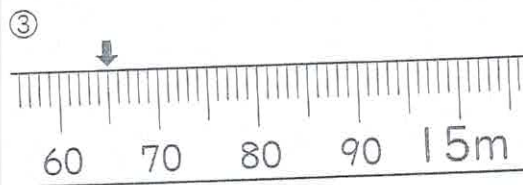
- ① 下のまきじゃくの、↓のめもりをよみましょう。(各10点)



6m 15cm



9m 5cm



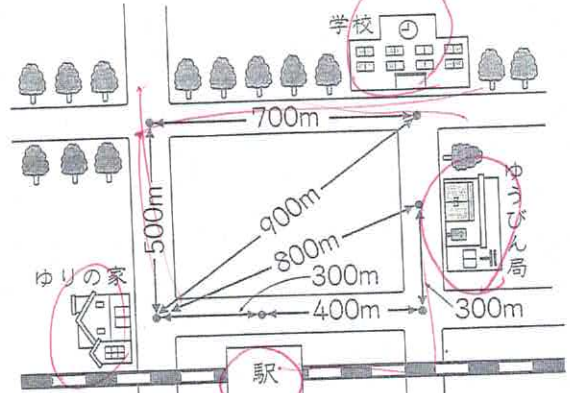
14m 65cm

- ② □にあてはまる数を書きましょう。(各10点, ①は完答)

①  $2500\text{m} =$   km  m

②  $1\text{km}80\text{m} =$   m

- ③ 下の地図を見て答えましょう。(各10点)



- ① 駅からゆうびん局までの道のりは何mですか。

700m

- ② 学校からゆりさんの家までの道のりは何mですか。また、それは何km何mになりますか。

1200 m

1 km 200 m

- ③ ゆりさんの家から 800 ゆうびん局までの、きょりと ~~1000~~ ~~500~~ 道のりのちがいは何mですか。

しき

$$1000 - 800 = 200$$

答え

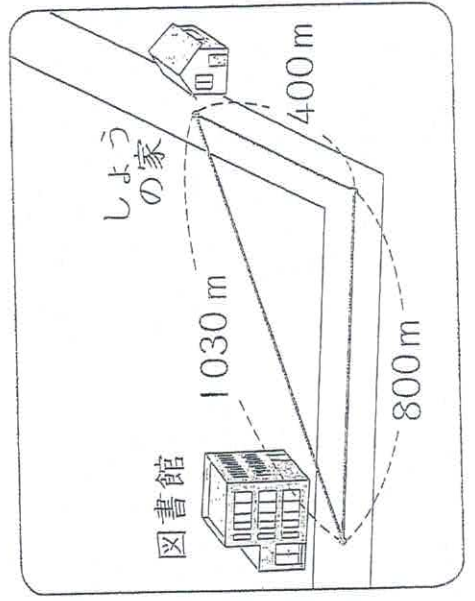
200m

# 名前 ( )

32ページの絵地図を見て、次の長さをもとめましょう。

- ① たつきさんの家からゆうびん局までの道のり A.
- ② あさみさんの家からゆうびん局までのきより A.

② しょうさんは、家から図書館まで本を返すにいきます。



- ① 家から図書館までの

きよりは何mですか。

m また、何km 何mですか。

- ② 家から図書館までの

m 道のりは何mですか。

km また、何km 何mですか。

(きよ)

(道のり)

3 ( )にあてはまる, 長さのたんいを書きましょう。km・m・cm・mm

- ① 水そうの横の長さ..... 60( )
- ② ハイキングコースの道のり..... 4( )
- ③ 算数のノートのあつさ..... 3( )
- ④ 教室のたでの長さ..... 7( )




### 昔の長さのたんい

昔の日本では, 「里」という  
長さのたんいを使っています。

1里は, だいたい4kmです。

これは一里塚といって,  
旅をする人の目じるしに  
なっていたんだよ。



神奈川県足柄下郡箱根町