

日本の領海の範囲…海岸線から12海里
 日本の範囲…約3000kmの弓なりの形をした島国
 日本の国土面積…約38万km²
 排他的経済水域の範囲…200海里

にあてはまる語句を答えよう。
 ノートを活用して、くり返し書いて覚えよう。



日本の領域とその特色①

教科書 p.18 ~ 20

日本の領域／排他的経済水域

① …一つの国がもっている主権が及ぶ範囲。

② …陸地。

① 領海… ② から一定の範囲の海洋→日本では海岸線から12海里(約22.2km)まで。

① 領空… ② と領海の上空→大気圏まで。

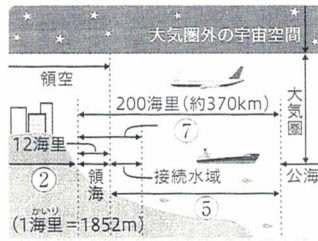
・日本…北海道と ③ , 四国, 九州の四つの島と数千に及ぶ小さな島々で構成された島国。

・日本の国土面積…約 ④ km²。

・ ⑤ …沿岸国が水産資源や鉱産資源を利用できる権利をもつ。

・ ⑤ の範囲…海岸線から200海里(約370km)以内の範囲と ⑥ 条約で定められている。

・ 接続水域…領海の外側で、海岸線から ⑦ 以内の海域。



日本の領土／北方領土

・日本の ① は国際法によって決定されてきた→現在の日本の ② …1951年に日本が世界の国々と結んだ ⑧ 平和条約により決定。

国際法


世界の国々が国家と国家の関係を決めた法である。文書として交わした条約や、国際間での慣習法などが含まれている。

・日本固有の ② である ⑨ …北海道の北東部にある歯舞群島・色丹島・国後島・択捉島の島々からなる地域の総称→北海道根室市などに属する。

・ ⑩ による占領… ⑨ は、1945年に日本との条約を一方的に無視して侵攻してきた、⑩ に占領された。

・現在の ⑨ の状態… ⑩ の崩壊後に成立した ⑪ によって不法に占拠されたままである。





岸線から12
の弓なりの
km²
200海里

5.18 ~ 20

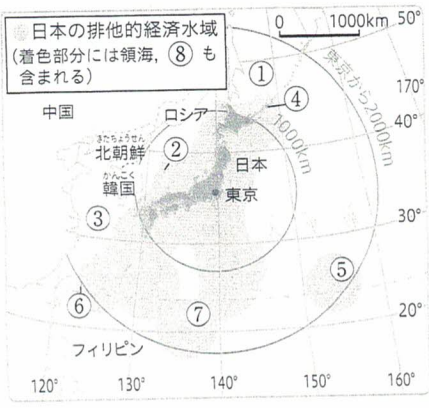
教科書 p.18 ~ 20

第1部

教科書 18 ~ 20 ページ

① 右の地図や図を見て、次の問いに答えなさい。

- (1) 日本は大小の島々が約何kmにわたって広がっていますか。
- (2) 日本は四つの海に囲まれています。地図中の①~③にあてはまる海洋名を書きなさい。
- (3) 地図中の④~⑦は、日本の東西南北の端の島々です。この④~⑦にあてはまるものを、ア~エからそれぞれ選びなさい。
ア 択捉島 イ 沖ノ鳥島 ウ 南鳥島
エ 与那国島
- (4) 日本を示しているものを、右の図中のア~エから選びなさい。
- (5) 地図中の⑧は何を表していますか。
- (6) 現在の日本の領土は、1951年によって結ばれた条約によって定められています。何という条約か書きなさい。
- (7) 北海道の北東部にある地域は、④をはじめとしてロシアに不法に占拠されています。この地域を何とよびますか。
- (8) (7)の地域にある島々に含まれていない島を、ア~エから選びなさい。
ア 国後島 イ 色丹島 ウ 西之島
エ 歯舞群島



アメリカ合衆国	ア	ブラジル	イ	ウ	エ
762万km ²	701	317	191	38	27
983万km ²	769	852	541	447	483
国土面積	※排他的経済水域の面積には領海も含まれる。				

▲主な国の排他的経済水域の面積 (2018漁港漁場漁村ポケットブック,ほか)

(1)

①

(2) ②

③

④

⑤

(3) ⑥

⑦

(4)


(5)

(6)

(7)

(8)

書きトレ 沖ノ鳥島で護岸工事が行われた理由を、写真を見て簡単に書きなさい。



ヒント ④ 日本の国土面積の広さをヒントに考えましょう。
書きトレ 沖ノ鳥島がなくなると、日本の総面積以上の海域が失われる点から考えて書きましょう。

公海…200海里の排他的経済水域の外側の水域。
 廃藩置県により藩が廃止→「府」と「県」が最初に設置
 都道府県の数…1都1道2府43県、合計47都道府県

にあてはまる語句を答えよう。
 ノートを活用して、くり返し書いて覚えよう。



3 日本の領域とその特色②

教科書 p.20 ~ 21

● 竹島／尖閣諸島

- ・日本海にある ① …島根県隠岐の島町に所属→日本の固有の領土。
- ・ ② が不法に占拠…1952年に一方的に公海上に境界線を引く→ ① に海洋警察隊や灯台を設置した。
- ・東シナ海にある ③ …沖縄県石垣市に所属→日本の固有の領土。
- ・1970年代に中国などが ③ の領有権を主張…1960年代に ④ などの資源が周辺海底にある可能性が示されたため。



- ①
- ②
- ③
- ④

日本には、領有をめぐっている問題をあるんだね。



4 都道府県と県庁所在地

教科書 p.22 ~ 24


● 都道府県／都道府県庁所在地／都道府県の境界

- ・都道府県…地方の ⑤ を行うための基本単位。
→明治政府が行った廃藩置県により「 ⑥ 」と「県」を設置←政府は藩を廃止。
→「 ⑥ 」が付いた ⑦ と大阪…江戸時代以前から重要な都市のため。
- ・現在の首都である東京…かつては「 ⑥ 」→1943年に「都」へと変更された。
- ・「都」は首都の、「 ⑧ 」は「大きな行政の単位」の意味である。
- ・現在の都道府県数…1都1道2府43県で、合計47都道府県。
- ・ ⑨ …都道府県庁が設置されている都市→設置されている多くの都市は、その地域の ⑤ ・ ⑩ の中心地。
- ・ ⑪ …都道府県の境界線のこと→山地や河川、海峡など、 ⑫ に沿って引かれたものが多い。

- ⑤
- ⑥
- ⑦
- ⑧
- ⑨
- ⑩
- ⑪
- ⑫


詳しく解説! 海峡

陸地の間によって狭められている二つの海を結ぶ水域のこと。北海道と青森県との境界線となっている津軽海峡は有名である。



① 右の地図を見て、次の問いに答えなさい。


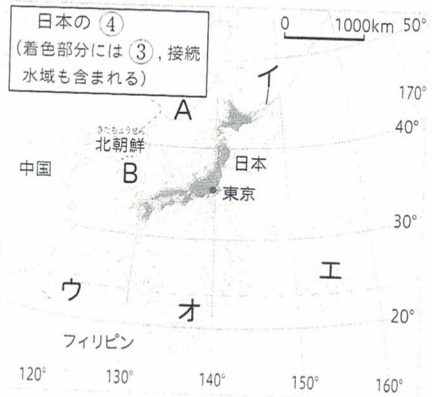
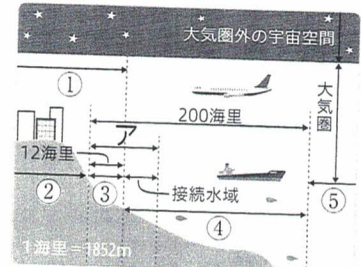
- (1) 地図中の①の線を何といいますが。
- (2) ①の線は、ほぼ経度何度の線に沿って引かれていますか。
- (3) 地図中の②の線は、兵庫県のある都市を通る東経135度の経線です。この都市名を書きなさい。また、②の線は何といえますか。
- (4) ロンドンを通る本初子午線の時刻は、世界の基準となる時刻です。この時刻を何といえますか。
- (5) 東京とロサンゼルの経度差はおおよそ何度ですか。 [技]
- (6) 東京が1月1日午前9時のとき、ロサンゼルスは何月何日の何時ですか。 [技]



よく出る

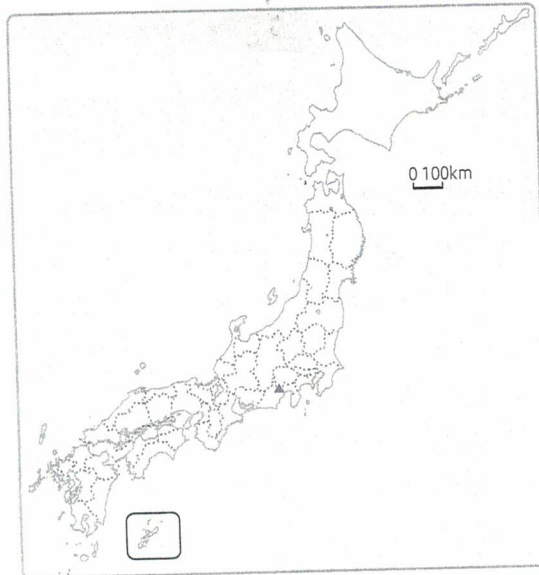
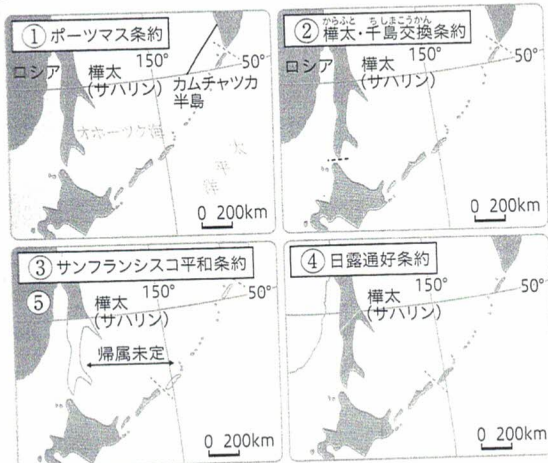
② 右の模式図や地図、写真を見て、次の問いに答えなさい。

- (1) 右の模式図中の①～⑤にあてはまる語句を書きなさい。
- (2) 接続水域は海岸線から何海里までですか。図中のアにあてはまる数字を書きなさい。
- (3) ④はある条約により、200海里と定められています。この条約名を書きなさい。また、200海里とは、約何kmか書きなさい。 [技]
- (4) [記述] 大気圏外にあたる宇宙空間を利用するときには、どのようなことが定められていますか。「主権」という語句を入れて、簡単に書きなさい。 [思]
- (5) 右の地図中のA, Bは、日本の西側のユーラシア大陸にある国です。A, Bにあてはまる国名をそれぞれ書きなさい。
- (6) 右の写真は、日本の東西南北の端のいずれかの島の様子です。あてはまるものを、地図中のイ～オから選びなさい。また、その島名も書きなさい。 [思]
- (7) 日本の国土面積は、どのくらいですか。あてはまるものを、ア～エから選びなさい。
ア 約10万km² イ 約27万km²
ウ 約30万km² エ 約38万km²



3 次の問いに答えなさい。

28点



第1部

教科書 14 ~ 24 ページ

- (1) 日本の領域は、何によって定められていますか。
- (2) 左上の①~④の地図は、北方領土周辺の国境の移り変わりを表したものです。年代の古い条約順に番号を書きなさい。[愚]
- (3) 地図中の⑤は、その当時、北方領土を不法に占拠し始めた国です。⑤の国名を書きなさい。
- (4) [作図] 右上の日本の地図で、「宮城県」、「京都府」、「島根県」の場所に色をぬりなさい。[技]
- (5) 右上の地図中の▲は、山梨県と静岡県にまたがる山で、その山頂付近は両県の県境が未確定です。この山の名称を書きなさい。

①	(1)	(2)			
	(3) 都市名	経線名	(4)		
	(5)	(6)			
②	(1) ①	②	③		
	④	⑤	(2)	海里	
	(3) 条約名		(4)		
	(5) A	B			
③	(6) 記号	島名	(7)		
	(1)				
	(2)	→	→	→	(3)
	(4)	設問の日本地図に色をぬりましょう。			(5)