

4

めあて ● 数をグラフやひょうにあらわすことができる。

べんきょうした 日 ___ 月 ___ 日

1. ひょうとグラフ

ひょうとグラフ


□4~6

なまえ

1つ20点

点


1 どうぶつのかずを、グラフにせいりします。



うさぎ




いぬ



りす



ねこ



さる

どうぶつのかず

○				
○				
○	○			
○	○			
うさぎ	いぬ	りす	ねこ	さる

① 左のグラフのつづきをかきましょう。

ヒント

上の絵に1つずつしるしをつけながら左のグラフに○をかこう。



② いちばん多いどうぶつは何ですか。 ()

③ ねことさるでは、どちらが多いですか。 ()

2 上のグラフの数を下のひょうにあらわしましょう。

④


どうぶつのかず

どうぶつ	うさぎ	いぬ	りす	ねこ	さる
数	4	2			

せいりします。



ねこ



さる

グラフの つづきを
ましよう。

つずつ しるしをつけながら
に O を かこう。



らばん ^{おお}多い どうぶつは
か。 ()

と さるでは、どちらが
ですか。 ()

ように あらわしましょう。

の 数

りす	ねこ	さる



たしかめよう

な
ま
え

1 たし算^{ざん}を しましょう。

① 2+4

② 4+3

③ 3+5

④ 8+1

⑤ 7+2

⑥ 6+4

⑦ 1+9

⑧ 5+0

⑨ 0+7

⑩ 0+0

2 たし算を しましょう。

⑪ 9+4

⑫ 7+5

⑬ 8+6

⑭ 2+9

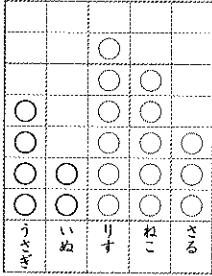
⑮ 4+7

⑯ 8+8

1. ひょうと グラフ
1. ひょうと グラフ



どうぶつの数



① 左のグラフの つづきを かきましょう。

ヒント 上の 線に 1つずつ しるしをつけながら 左の グラフに ○を かこう。

② いちばん 多い どうぶつは 何ですか。 (りす)

③ ねこ と さるでは、どちらが 多いですか。 (ねこ)

2. 上の グラフの 数を 下の ひょうに あらわしましょう。

④

どうぶつ	うさぎ	いぬ	りす	ねこ	さる
数	4	2	6	5	3

⑤ 数が 3びきの どうぶつは 何ですか。 (さる)

上の グラフで、ねこより 3びき 少ない どうぶつは 何ですか。 (いぬ)

1. たし算を しましょう。

- ① $2+4=6$ ② $4+3=7$
- ③ $3+5=8$ ④ $8+1=9$
- ⑤ $7+2=9$ ⑥ $6+4=10$
- ⑦ $1+9=10$ ⑧ $5+0=5$
- ⑨ $0+7=7$ ⑩ $0+0=0$

2. たし算を しましょう。

- ⑪ $9+4=13$ ⑫ $7+5=12$
- ⑬ $8+6=14$ ⑭ $2+9=11$
- ⑮ $4+7=11$ ⑯ $8+8=16$
- ⑰ $6+9=15$ ⑲ $5+8=13$
- ⑱ $9+3=12$ ⑳ $6+7=13$

1. たし算を しましょう。

①	$\begin{array}{r} 14 \\ +72 \\ \hline 86 \end{array}$	②	$\begin{array}{r} 23 \\ +45 \\ \hline 68 \end{array}$	③	$\begin{array}{r} 84 \\ +13 \\ \hline 97 \end{array}$
---	---	---	---	---	---

④	$\begin{array}{r} 16 \\ +21 \\ \hline 37 \end{array}$	⑤	$\begin{array}{r} 65 \\ +34 \\ \hline 99 \end{array}$	⑥	$\begin{array}{r} 52 \\ +27 \\ \hline 79 \end{array}$
---	---	---	---	---	---

⑦	$\begin{array}{r} 45 \\ +53 \\ \hline 98 \end{array}$	⑧	$\begin{array}{r} 31 \\ +28 \\ \hline 59 \end{array}$	⑨	$\begin{array}{r} 73 \\ +15 \\ \hline 88 \end{array}$
---	---	---	---	---	---

2. 女の子が 17人、男の子が 22人

1. たし算を しましょう。

①	$\begin{array}{r} 40 \\ +56 \\ \hline 96 \end{array}$	②	$\begin{array}{r} 81 \\ +4 \\ \hline 85 \end{array}$	③	$\begin{array}{r} 7 \\ +70 \\ \hline 77 \end{array}$
---	---	---	--	---	--

④	$\begin{array}{r} 20 \\ +33 \\ \hline 53 \end{array}$	⑤	$\begin{array}{r} 68 \\ +30 \\ \hline 98 \end{array}$	⑥	$\begin{array}{r} 50 \\ +40 \\ \hline 90 \end{array}$
---	---	---	---	---	---

⑦	$\begin{array}{r} 42 \\ +6 \\ \hline 48 \end{array}$	⑧	$\begin{array}{r} 6 \\ +71 \\ \hline 77 \end{array}$	⑨	$\begin{array}{r} 60 \\ +9 \\ \hline 69 \end{array}$
---	--	---	--	---	--

2. あわせて 荷田に なりますか