





下の表は、たけとさんがじゃんけんゲームをした記録を、点数ごとに整理したものです。とく点をもとめましょう。

点数(点)	 で勝ち	 で勝ち	 で勝ち	負け	合計
3	3	2	1	0	
回数(回)	1	0	5	4	10



点数 × 回数 = とく点

- ① 3点のところのとく点  $3 \times \square = \square$
- ② 2点のところのとく点  $\square \times \square = \square$

 ヒント  
 どんな数に0をかけても、0にどんな数をかけても、答えは0になるよ。

上の表を見て、とく点をもとめましょう。

- ③ 1点のところのとく点  $\square \times \square = \square$
- ④ 0点のところのとく点  $\square \times \square = \square$

かけ算をしましょう。

- ⑤  $7 \times 0$       ⑥  $5 \times 0$       ⑦  $0 \times 9$
- ⑧  $0 \times 6$       ⑨  $13 \times 0$       ⑩  $0 \times 0$

右のカードをあてはめて、答えが0になる式をつくりましょう。  
 (カードは何回でも使えます。また、全部のカードを使わなくてもよいです。)



- ①  $0 + \square = 0$       ②  $3 - \square = 0$
- ③  $\square \times 8 = 0$       ④  $4 \times \square = 0$

## 力だめし

1 □にあてはまる数を書きましょう。

①  $3 \times 5 = 3 \times 4 + \square$

②  $8 \times 6 = 8 \times 5 + \square$

③  $9 \times 6 = 9 \times 7 - \square$

④  $7 \times 2 = \square \times 7$

⑤  $5 \times \square = 30$

⑥  $\square \times 4 = 16$

2 かけ算をしましょう。

⑦  $4 \times 0$

⑧  $0 \times 1$

3  $5 \times 10$ の答えをもとめます。□にあてはまる数を書きましょう。

⑨

$$5 \times 10 \begin{cases} 5 \times 7 = \square \\ 5 \times \square = 15 \end{cases}$$


---

あわせて  $\square$

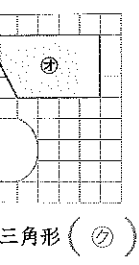
4  $17 \times 3$ の答えをもとめます。□にあてはまる数を書きましょう。

⑩

$$17 \times 3 \begin{cases} \square \times 3 = \square \\ 7 \times 3 = \square \end{cases}$$


---

あわせて  $\square$



三角形 (7)

た数は、  
せられた数は、  
す。

る数を  
 $\times 2 = 10$   
 $\times 5 = 25$   
あわせて  $35$   
るよ。  
る数を  
 $\times 3 = 12$   
 $\times 3 = 18$   
わけて  $30$   
 $= 45$   
 $= 42$   
ましよう。  
⑧  $8 \times 7$   
⑨  $6 \times 8$   
⑩  $7 \times 6$

**6** ① かけ算のきまり

13×3の答えのもとめ方を考えます。□にあてはまる数を書きましょう。

①  $13 \times 3 = 39$

②  $13 \times 3 = 9 \times 3 + 4 \times 3$

ヒント  
九九や、かけ算のきまりを使ってもとめられるよ。

14×6の答えのもとめ方を考えます。□にあてはまる数を書きましょう。

③  $14 \times 6 = 10 \times 6 + 4 \times 6$

④  $14 \times 6 = 10 \times 6 + 4 \times 6 = 60 + 24 = 84$

14×6の14を、10と4に分けて計算します。

16×5の答えは、⑥から⑩のどれとどれの答えをあわせた数ですか。  
④  $4 \times 5$  ⑤  $6 \times 5$   
⑧  $8 \times 5$  ⑨  $10 \times 5$  (④)と(⑧)

**7** ② 0のかけ算

下の表は、たけとさんがじゃんけんゲームをした記録を、点数ごとに整理したものです。とく点をもとめましょう。

点数(点)	勝て勝ち	負け勝ち	負け	合計	
3	2	1	0		
回数(回)	1	0	5	4	10

とく点  $\times$  回数 = とく点

① 3点のところのとく点  $3 \times 1 = 3$

② 2点のところのとく点  $2 \times 0 = 0$

ヒント  
どんな数に0をかけても、0にどんな数をかけても、答えは0になるよ。

上の表を見て、とく点をもとめましょう。

③ 1点のところのとく点  $1 \times 5 = 5$

④ 0点のところのとく点  $0 \times 4 = 0$

かけ算をしましょう。

⑤  $7 \times 0 = 0$  ⑥  $5 \times 0 = 0$  ⑦  $0 \times 9 = 0$   
⑧  $0 \times 6 = 0$  ⑨  $13 \times 0 = 0$  ⑩  $0 \times 0 = 0$

右のカードをあてはめて、答えが0になる式をつくりましょう。(カードは何回でも使えます。また、全部のカードを使わなくてもよいです。)

⑪  $0 + 0 = 0$  ⑫  $3 - 3 = 0$   
⑬  $0 \times 8 = 0$  ⑭  $4 \times 0 = 0$

おもしろさかすう のとき方

**4** ①  $6 \times 7 = 42$        $6 \times 8 = 48$

1ふえる      6大きい

②  $7 \times 8 = 56$        $7 \times 7 = 49$

1へる      7小さい

**5** ①  $5 \times 7 = 35$  }  $35 + 21 = 56$   
②  $3 \times 7 = 21$  }  
③  $8 \times 7 = 56$

④  $2 \times 6 = 12$  }  $12 + 30 = 42$   
⑤  $5 \times 6 = 30$  }  
⑥  $7 \times 6 = 42$

⑦  $6 \times 5 = 30$  }  $30 + 18 = 48$   
⑧  $6 \times 3 = 18$  }  
⑨  $6 \times 8 = 48$

**6**  $16 \times 5 = 6 \times 5 = 30 \leftarrow ①$   
 $10 \times 5 = 50 \leftarrow ②$   
あわせて 80

**7** ①  $0 + 0 = 0$   
②  $3 - 3 = 0$   
③  $0 \times 8 = 0$   
0にどんな数をかけても答えは0です。  
④  $4 \times 0 = 0$   
どんな数に0をかけても答えは0です。

練習した日 月 日

8 1. かけ算 □6~21

力だめし

□にあてはまる数を書きましょう。

①  $3 \times 5 = 3 \times 4 + \boxed{3}$       ②  $8 \times 6 = 8 \times 5 + \boxed{8}$

③  $9 \times 6 = 9 \times 7 - \boxed{9}$       ④  $7 \times 2 = \boxed{2} \times 7$

⑤  $5 \times \boxed{6} = 30$       ⑥  $\boxed{4} \times 4 = 16$

かけ算をしましょう。

⑦  $4 \times 0 = 0$       ⑧  $0 \times 1 = 0$

⑨  $5 \times 10$  の答えをもとめます。□にあてはまる数を書きましょう。

⑨  $5 \times 10$   $\left\{ \begin{array}{l} 5 \times 7 = \boxed{35} \\ 5 \times \boxed{3} = \boxed{15} \end{array} \right.$   $\rightarrow$   $5 \times 10$  の10を、7と3に分けて計算します。

あわせて  $\boxed{50}$

⑩  $17 \times 3$  の答えをもとめます。□にあてはまる数を書きましょう。

⑩  $17 \times 3$   $\left\{ \begin{array}{l} \boxed{10} \times 3 = \boxed{30} \\ 7 \times 3 = \boxed{21} \end{array} \right.$   $\rightarrow$   $17 \times 3$  の17を、10と7に分けて計算します。

あわせて  $\boxed{51}$

練習した日 月 日

9 2. 時ごとと時間のもつめ方 □22~23

① 時ごとと時間のもつめ方

ともかさんの家を午前9時50分に出て、20分歩くと公園に着きました。着いた時こくは何時何分ですか。

① ((午前)10時10分)

② 次の時こくから40分後の時こくは何時何分ですか。

② 10時30分      ③ 3時50分

((11時10分))      ((4時30分))

④ 図書館を午後4時40分に出て、家に午後5時10分に着きました。図書館から家までかかった時間は何分ですか。

④ (30分(間))

⑤ 9時30分から10時20分までの時間は何分ですか。

⑤ (50分(間))

中国が午前8時のとき、日本は午前9時です。中国が午前9時のとき、日本は午前何時ですか。

中国 日本 (午前10時)

練習した日 月 日

10 2. 時ごとと時間のもつめ方 □24~25

① 時ごとと時間のもつめ方

家を出て30分歩いて、商店がいに午後3時20分に着きました。家を出た時こくは何時何分ですか。

① ((午後)2時50分)

② 7時10分から40分前の時こくをもとめましょう。

② ((6時30分))

③ 公園にいた時間は30分、図書館にいた時間は50分です。あわせて何時間何分ですか。

③ (1時間20分)

④ けんたさんは、午前中に1時間50分、午後40分本を読みました。本を読んだ時間は、あわせて何時間何分ですか。

④ ((2時間30分))

ともみさんは午前8時10分に発車する電車に乗るために、発車の10分前に駅に着きたいと思っています。ともみさんの家から駅まで20分かかります。ともみさんはおそくとも何時間何分までに家を出ればよいですか。

((午前)7時40分)

練習した日 月 日

11 2. 時ごとと時間のもつめ方 □26

② 短い時間

① 下のストップウォッチは、何秒を表していますか。

① 40秒      ② 20秒

③ □にあてはまる数を書きましょう。

③ 1分 =  $\boxed{60}$  秒      ④ 3分 =  $\boxed{180}$  秒

⑤ 90秒 =  $\boxed{1}$  分  $\boxed{30}$  秒

⑥ 140秒 =  $\boxed{2}$  分  $\boxed{20}$  秒

⑦ ( )にあてはまる、時間のたんいを書きましょう。

⑦ サッカーのしあいの時間..... 90 (分)

⑧ 100m走るのにかかった時間..... 20 (秒)

⑨ 1日に学校にいる時間..... 7 (時間)

⑩ 歌1曲分の時間..... 3 (分)

いちばん短い時間は、②、③、⑥のどれですか。

② 110秒      ③ 1分10秒      ⑥ 80秒      ( )



3

「きんぎょの商店」に出てくる動物を、出てくる順に書きましよう。

- ウ ( ) 聞いて、引きうけること。
- イ ( ) 見て、まんぞくすること。
- ア ( ) さわって、何かわかること。

③ たのみごとを聞いて、しよちする。

- ウ ( ) 音が広がっていくこと。
- イ ( ) 音がはねかえって、ひびくこと。
- ア ( ) 音がすいこまれていくこと。

② ぶなの木の音が、ぶなの森にこだまする。

- ウ ( ) すぐにかうことができること。
- イ ( ) とくによいものをえらび出すこと。
- ア ( ) いちばんうつくしいこと。

① えりすぐりの木を見つける。

2 線の言葉のいみえらんで、○をつけましよう。

- ⑧ 母さん ( )
- ⑨ 二人 ( )
- ⑩ 地面 ( )
- ① 場面 ( )
- ② 登場人物 ( )
- ③ 四分音符 ( )
- ④ 今朝 ( )
- ⑤ 開店 ( )
- ⑥ 今日 ( )
- ⑦ 木の实 ( )

1 線のかん字の読みがはなを書きましよう。

きんぎょの音

# 4

## きんぎょの商店 (2)

時間 20分  
合計 < 80点  
100点

教科書 12 / 24 ページ

日 月

① ② きんぎょが、かたばんに書いてあるね。

このはじめの場面から、きんぎょのお店の  
はじめの場面から

Blank boxes for writing answers.

8点 (104)



「おと、  
「ジャック」と  
ちかんだら、  
「だま」だも。

12点 (104)

30点 (103)

4 次の文章を読んで、問題に答えましょう。

④ 13ページ、12行、15ページ、4行

「四分音符分、ちょうだい。」

「しようちしました。では、どうぞこちらへ。」

きつつきは、野うさぎをつれて、ぶなの森にやって来ました。

それから、野うさぎを、大きなぶなの木の下に立たせると、自分は、木のてっぺん近くのみきに止まりました。

「さあ、いきますよ、いいですか。」

きつつきは、木の上から声をかけました。野うさぎは、きつつきを見上げて、こつくりうなずきました。

「では。」

きつつきは、ぶなの木のみきを、くちばしでかいつぱいたたきました。

コーン。

ぶなの木の音が、ぶなの森にこだましました。

野うさぎは、きつつきを見上げたまま、だまつて聞いていました。きつつきも、うつとり聞いていました。

四分音符分よりも、うんと長い時間がすぎてゆきました。

■ 林原玉枝「もつぎの産卵」より ■

(1) 「どうぞこちらへ。」とありますが、どこへつれて行きましたか。 10点

( )

(2) きつつきと野うさぎは、ぶなの森でそれぞれどこにいましたか。

野うさぎ 10点(1つ)

( )

きつつき

( )

(3) 「コーン」という音は、きつつきが、どうやって出した音ですか。

それが分かる文に—線をつけましょう。 10点

(4) 「ぶなの木の音」とありますが、この音を、野うさぎときつつきは、どんなようすで聞いていましたか。

分かるぶぶんを書きぬきましょう。

野うさぎ 10点(1つ)

( )


きつつき

( )

(5) 「四分音符分よりも、うんと長い時間」とは、野うさぎが何をしていた時間ですか。 10点

( )

88 (1) 野うさぎは、何をちょうだいと言っているかな。



# 答え

★ドリルやホーミングが終わったら、  
 後ろの「がんばり表」をえんぴつで  
 1つ引きましょう。  
 ★まねがっついたら、必ずまね一巻や  
 1回引きましょう。  
 練習も読み直し  
 しましょう。



## 1 1〜2ページ

- ① 高い ② 強い ③ 弱い ④ 同じ
- ⑤ 長い ⑥ 首 ⑦ 黄色 ⑧ 広げる
- ⑨ 羽 ⑩ 牛 ⑪ 鳴く ⑫ 一万
- ⑬ 少ない

## 2 2〜3ページ

- ① 売店 ② 馬 ③ 二頭 ④ 時間
- ⑤ 多い ⑥ 売る ⑦ 買う ⑧ 門
- ⑨ 地図 ⑩ 家 ⑪ 行く ⑫ 道
- ⑬ 方角

## 3 3〜4ページ

- ① 元氣 ② 止まる ③ 細い ④ 太い
- ⑤ 親友 ⑥ 会う ⑦ 通る ⑧ 谷
- ⑨ 弓矢 ⑩ 当たる ⑪ 天才 ⑫ 戸
- ⑬ 岩 ⑭ 丸い ⑮ 光る

## 4 4〜5ページ

- ① 日曜日 ② 朝 ③ 顔 ④ 室内
- ⑤ 人形 ⑥ 妹 ⑦ 半分 ⑧ 来る
- ⑨ 午後 ⑩ 午前 ⑪ 何回 ⑫ 外
- ⑬ 肉 ⑭ 日記 ⑮ 番組

## 1 1〜2ページ

- ① 北 ② 台 ③ 公園 ④ 東 ⑤ 活気
- ⑥ 市場 ⑦ 点数 ⑧ 新しい ⑨ 線
- ⑩ 古い ⑪ 交番 ⑫ 西 ⑬ 走る
- ⑭ 広場 ⑮ 南 ⑯ 家 ⑰ 自分
- ⑱ 国語 ⑲ 聞く ⑳ 電 ㉑ 新聞
- ㉒ 社会 ㉓ 計算 ㉔ 歌声
- ㉕ 黒板 ㉖ 読書

## 3 3〜4ページ

- ① 絵 ② 理科 ③ 画用紙 ④ 切る
- ⑤ 考える ⑥ 算数 ⑦ 知る ⑧ 音楽
- ⑨ 教える ⑩ 回 ⑪ 鳥 ⑫ 晴れ

## 4 4〜5ページ

- ① はめん ② どうしようもない

## 1 1〜2ページ

- ③ 野原 ④ 昼 ⑤ 食べる
- ① 歩く ② 米 ③ 秋 ④ 風 ⑤ 雷
- ⑥ 春 ⑦ 夏 ⑧ 冬 ⑨ 汽車
- ⑩ 遠い ⑪ 山里 ⑫ 魚 ⑬ 麦茶
- ⑭ 星 ⑮ 夜空

## 3 3〜4ページ

- ① し ② しようばい ③ ひら
- ④ かぞく ⑤ は ⑥ はし
- ⑦ がくしゅう ⑧ こ
- ⑨ つるつる

## 2 2〜3ページ

- ② くれました ③ だおれた
- ③ イ
- ① おとや
- ② てきたての音、すてきな音、お
- 聞かせします。四分音符二につき、
- どれでも百リル。
- ③ 茶色(耳をぴんと立てた)野うぎ
- ④ ぶか(の音)
- ⑤ じくり

## 3 3〜4ページ

- ② 「何を」に当たるのが「てきたての音、
- すてきな音」です。また、「いくら
- で」に当たるのが、「百リル」です。
- ⑤ 「じくり」は、野うぎが考えな
- がらよく見ているようすをあらわして
- います。

## 4 4〜5ページ

- ④ 老匠のドリル
- 1〜2ページ

- ③しぶ(じぶん) ④けや
- ⑤かいてん ⑥きよう ⑦み ⑧かあ
- ⑨ふたり ⑩じめん
- ②①イ ②イ ③ウ
- (順に)野うさぎ・野ねずみ
- ④①(1)ぶなの森
- (2)野うさぎ…大きなぶなの木の下。  
きつつき…木のてっぺんの近くのみき(木の上)。
- ③きつつきは、ぶなの木のみきを、くちばしてかいつばいたたきました。
- (4)野うさぎ…きつつきを見上げたまま、だまつて聞いていました。  
きつつき…うつとり聞いていました。
- ⑤①(5)「れい」(きつつきの出した)ぶなの木の音を聞いていた時間。

読書

- ④④「うつとり」は、ごきうばわれてしまったようにぼうことなつて聞いているようすをあらわしています。
- ⑤「四分音符」の音を買ったのですが、長いこと聞きはれていたので。

5 きほんのドリル 9、10ページ

- ①①いみ ②しら ③しゆう
- ④もんだい ⑤あたた ⑥ぎけ
- ⑦つか ⑧あらわ
- ②ア・イ・オ
- ③①ア ②ア ③イ ④ア ⑤ア
- ④①音…カ 訓…ひ
- ②音…チヨウ 訓…あさ
- ③音…ヒヨウ 訓…こおり
- ④音…ヨウ 訓…は
- ⑤音…シヨ 訓…ところ
- ⑥音…ユウ 訓…とも
- ⑤①(順に)まんかい・夜ぎくら
- ②(順に)こいのぼり・しょうぶゆ

- ③(3)シヤバシヤバシヤバ・ア
- パシパシピチピチ・ア
- バリバリバリ・ア
- ドウドウドウ・イ

- ⑥①(1)ア
- (2)(順に)しずく・散る

読書

- ③見出し語は五十音順にのっています。
- ①「おおい」と「あかい」のように、一字目が同じ字のときは、二字目は五十音順でどちらが先かをくらべます。
- ④かたかなで書く言葉で、のばす音を表す「ー」があるものは、「カード」は「かあと」、「シール」は「しいる」、「スーパ」は「すうぷ」のように、「あ・い・う・え・お」におきかえて考えます。
- ⑤清音(「は」「き」など)、濁音(「ぶ」「じ」など)、半濁音(「ぷ」「ぼ」など)の順にならんでいます。
- ⑤①「夜ぎくら」は、夜に見るぎくらのことです。②「しょうぶゆ」は、五月ごろにさく「しょうぶ」を入れたおふろのことです。体をよくあたためるので、かぜをひかないようにこれに入るならわしがあります。
- ⑥①「うらら」は「うららか」ともいい、よいお天気で、のんびりと気持ちがよいようすを表します。
- (2)船をこぐ櫂がしずくをたて、そのしずくがきらきら光りながら散るようすを花にたとえています。

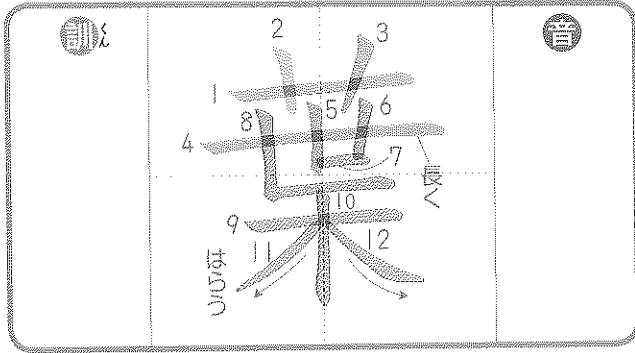
6 まどめのドリル 11、12ページ

- ①①開く ②こめる ③聞く
- ④しずか ⑤いそがしい
- ②①ア ②イ
- ③①音…シン 訓…こころ
- ②音…シ 訓…×
- ③音…ゲン 訓…はら
- ④①(1)雨の音
- (2)イ

6 まどめのドリル 15、16ページ

- ①①公園 ②まつ白な大きな矢
- ③アップルジュース





① 読み方を書きましよう。


④ 葉のつくことばを書きましよう。


② ひつじゅんに気をつけてれんしゅうしましよう。

○ にちゅういしましよう。

ぶしゆ

**葉** くさかんむり

画

ぶしゆ

「**葉**」のつく字

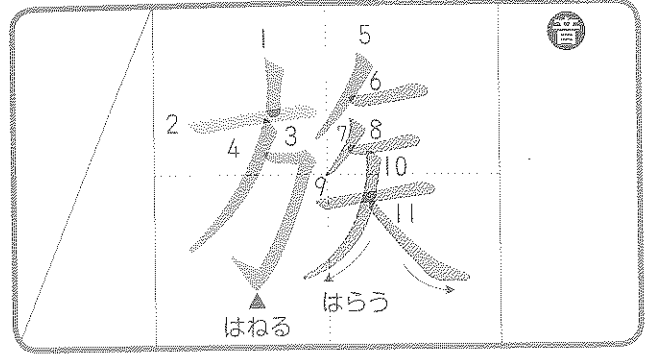
花 **葉**

草

③ 画数

いみ 草や木のは。

(れい) いちようの葉は、秋に黄色くなる。



① 読み方を書きましよう。


④ 族のつくことばを書きましよう。


② ひつじゅんに気をつけてれんしゅうしましよう。

○ にちゅういしましよう。

ぶしゆ

**族** かたへん

画

つかい方

親族 しんぞく 家族 かぞく

③ 画数

いみ 同じしゆるいのものあつまし。

(れい) 夏休みは家族で海へ行く。

① 読み方を書きましよう。

① 読み方を書きましよう。

② ひつじゆんに気をつけてれんしゅうしまししよう。

④ 所のつくことばを書きましよう。


② ひつじゆんに気をつけてれんしゅうしまししよう。

○ひつじゆんに気をつけて

所	一
所	。
所	。
所	。
所	。
所	。

② ひつじゆんに気をつけてれんしゅうしまししよう。

④ 実のつくことばを書きましよう。


② ひつじゆんに気をつけてれんしゅうしまししよう。

④ 実のつくことばを書きましよう。

実	一
実	。
実	。
実	。
実	。
実	。

(れい) しずかな場所をさがす。

⑤ 所をつかって、文を一つ作りましよう。

(れい) しずかな場所をさがす。

⑤ 所をつかって、文を一つ作りましよう。

③ 画数

ぶしゆ	とらん
所	画

(れい) しずかな場所をさがす。

⑤ 実をつかって、文を一つ作りましよう。

③ 画数

ぶしゆ	うかんむり
実	画

(れい) しずかな場所をさがす。

⑤ 実をつかって、文を一つ作りましよう。

③ 画数

ぶしゆ	うかんむり
実	画

なりたち

もとは、おのて木を切るとき  
の音をあらわす。

所 ↓ 所

いみ ①草木の音。②じゆくす。③やうてたしかめる。

なりたち

家の中がお金でいっぱいにな  
るといひみ。

實 ↓ 実

いみ ①草木の音。②じゆくす。③やうてたしかめる。

