

16



もうすぐ雨に
「あしがとう」をつたえよう
漢字の広場③

時間
20分

合かく80点

100点

「あしがとう」をつたえよう

1 手紙の書き方について、問題に答えましょう。 15点(1つ3)

(1) 手紙のはじめのあいさつ、本文、むすびのあいさつには、それぞれどのようなことを書きますか。()に当てはまる言葉を□からえらんで、記号を書きましょう。

- ① はじめのあいさつには、()を入れたり、()をたずねたりする。こちらのことをよく知らない相手には、()をする。
- ② 本文には、その手紙で()を書く。
- ③ むすびのあいさつには、()や、相手のけんこうを気づかう言葉などを書く。

ア 相手の様子 イ つたえたいこと ウ わかれのあいさつ
 エ きせつの言葉 オ じこしようかい

(2) あて名を書くとき、次の①～③は、どこに、どのように書きますか。 15点(1つ5)

- からえらんで、記号を書きましょう。
- ① () 相手のじゅうしよ
- ② () 相手の名前
- ③ () 自分のじゅうしよと名前

ア 中央に、少し大きめの字で書く。
 イ 右がわに書く。二行になるようなときは、くぎりのよいところで、行をかえる。
 ウ はがきの場合は、切手の下に書く。ふうしよの場合は、ふうとうのうらに書く。

漢字の広場③

2 線の言葉を、漢字を使って書きましよう。 20点(1つ4)

あねはまいにち、ごご四時のテレビばんぐみをたのしみにしている。

まよめドリル

1ページの練習問題

う。



00万

めめて●数のいろいろな表し方がわかる。

8. 大きい数のしくみ

□89

41 ① 数の表し方

なまえ

1 14000 という数を、次のように表しました。
□ にあてはまる数を書きましょう。



あいり
14000 は、
20000 より
① 小さい数です。

きょうすけ
14000 は、
10000 と を
② あわせた数です。

しょうた
14000 は、
1000 を こ
③ 集めた数です。

▶ あいりさんの見方を式に表しましょう。

14000 = ^④ — ^⑤

▶ きょうすけさんの見方を式に表しましょう。

14000 = ^⑥ + ^⑦



ヒント
20000 より小さい
数なので、ひき算を
使うよ。



2 29000 について、□ にあてはまる数を書きましょう。

⑧ 20000 と をあわせた数

⑨ 30000 より 小さい数

⑩ 1000 を こ集めた数

おもしろ問題

② 3700 円の買い物をしたのはだれですか。

たくや

4000 円出して、200 円

おつりをもらったよ。

はるか

千円さつ 3 まいと、

百円玉を 6 まい出したよ。

なつみ

百円玉を 37 まい

出したよ。

すか。

42

8. 大きい数のしくみ
- ② 10倍した数と10でわった数

なまえ

点

1 次の数を書きましよう。


- ① 15を10倍した数 ② 400を10でわった数

百	十	一
	1	5

10倍

ベスト

① 数を10倍すると、
位が1つずつ上がり、
15の右に0を
1こつけた数に
なるよ。



百	十	一
4	0	0

10でわる

2 次の数を書きましよう。

- ③ 60を10倍した数 ④ 42を10倍した数
- ⑤ 800を100倍した数 ⑥ 597を100倍した数
- ⑦ 90を10でわった数 ⑧ 700を10でわった数
- ⑨ 320を10でわった数

3 1本30円のえん筆を、10本買います。
代金は何円ですか。

⑩ 式

答え ()



ある数を100倍するのを、まちがえて100をひいたので、
50になりました。ある数を100倍した数はいくつですか。

○ $-100=50$

○ $\times 100=?$ ()

43

1 次の

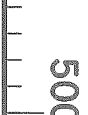
① 五

② 10

1万

③ 10

2 次の



3 □

⑥ 60

⑦ 30

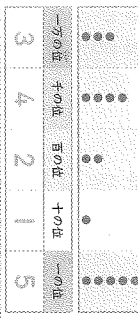
4 次の

⑧ 50

⑩ 80

三万四千二百十五を表に数字で書きましょう。

① 三万四千二百十五



② 次の数を数字で書きましょう。

- ② 九万四千六百 (94600) ③ 八十万七千四 (8107004)

④ □にあてはまる数を書きましょう。

73050は、一万を こ、千を こ、十を5こあわせた数です。

614030001は、千を こ、百を こ、十を こ、千を3こあわせた数です。

⑤ 次の数を数字で書きましょう。
 ⑤ 一万を3こ、千を1こ、百を8こあわせた数 (31800)

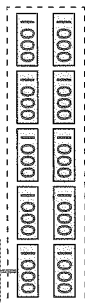
⑥ 1000万を5こ、10万を3こあわせた数 (50300000)

⑦ 3万円のカメラを、おまつを8まい出して買いました。おつをどのくらいに集めたかを書きましょう。




一万円さつ (2) まい
 五千円さつ (1) まい
 千円さつ (5) まい

1000を12こ集めた数はいくつですか。



① 一万の位、千の位に入る数字を書ききましょう。



② 次の数はいくつですか。数字で書きましょう。

- ② 1000を46こ集めた数 (46000)
 ③ 1000を372こ集めた数 (372000)

④ 次の数は、それぞれ1000を何こ集めた数ですか。

- ④ 25000 (25こ)
 ⑤ 890000 (890こ)

⑥ 1冊1000円の画用紙でてるがパソコンがほしいです。おなさんのお母さんの、パソコンを15まい持つてほしい。何冊の画用紙が必要ですか。



(15000円)

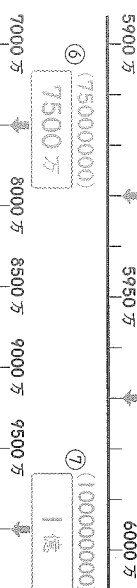
次の数直線で、①、②、③のめもりが表す数を書きましょう。



- ① (4000) ② (15000) ③ (37000)

⑦ 次の□にあてはまる数を書きましょう。

⑦ 5930万 (59300000)
 ⑧ 5970万 (59700000)



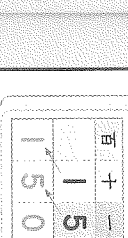
⑨ □にあてはまる番号、不等号を書きましょう。

- ⑨ 70000 < 80000
 ⑩ 4000+6000 = 10000
 ⑪ 500万 > 700万-300万

⑫ 次の記号を等号といいい、>、<の記号を不等号といいいます。

- ⑫ 9 < 6.2 ⑬ 9.7 > 0.3 ⑭ 5.8 < 4.7 ⑮ ()

① 15を10倍



② 次の数を10倍

- ② 800を10倍 (8000)
 ③ 90を10倍 (900)
 ④ 320を10倍 (3200)

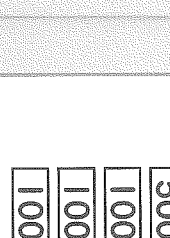
⑤ 1本30円の代金は、何円か

- ⑤ 30×10 = 300 (300円)

⑥ ある数を100倍すると50になりました。ある数は

- ⑥ 500 (500)


① 1000




② 500



③ 100



④ 100



⑤ 150

42

8. 大数の読みかき
□□90-91

記入した日 一月 一日
点

43

8. 大数を読みかき
□□80-92

力だめし
記入した日 一月 一日
点

② 10 倍した数と 10 でわった数

百	十	一
1	5	
1	5	0

10 倍
15 の右に 0 を 1 つつけた数になるよ。

百	十	一
4	0	0
4	0	0

10 倍
15 の右に 0 を 1 つつけた数になるよ。

① 15 を 10 倍した数

② 400 を 10 でわった数

③ 次の数を書きましよう。

④ 42 を 10 倍した数

⑤ 800 を 100 倍した数

⑦ 90 を 10 でわった数

⑨ 320 を 10 でわった数

⑩ 1 本 30 円のえん筆を、10 本買います。代金は何円ですか。

⑩ 30 × 10 = 300

ある数を 100 倍するのね。まちがえて 100 をひいたのて、50 にさうまひた。ある数を 100 倍した数をいってさうか。

○ -100 = 50
⊗ ×100 = ? (15000)

① 五万八千七百

② 1000 万を 1 こ、10 万を 4 こ、1 万を 2 こあわせた数

③ 1000 を 36 こ集めた数

④ 次の数直線で、④、⑤のめもりが表す数を書きましよう。



④ (62000) ⑤ (78000)

□にあてはまる番号、不等号を書きましよう。

⑥ 60000 > 40000

⑦ 300 万 = 500 万 - 200 万

⑧ 次の数を書きましよう。56 を 10 倍した数 ⑨ 358 を 100 倍した数

⑩ 800 を 10 でわった数 (80)

おもしろていそう のとき方

38 10000 10000 → 一万円さつ 2 まい
5000 → 五千円さつ 1 まい

1000 1000
1000 1000
1000 → 千円さつ 5 まい

39 1000 を 15 こ集めた数は 15000 です。

1000 円のチケット 15 まいで 15000 円の買い物かができます。

40 ② 9 6 2
① 9 7 0 3
③ 5 8 4 7

② の下がいちばん大きい 9 のときも 9703 > 95847 だから

いちばん大きい数は ② です。

41 買い物の金がかくは

たぐや... 4000 - 200 = 3800 (円)
はるか... 1000 が 3 こで 3000
100 が 6 こで 600
3000 + 600 = 3600 (円)
なつみ... 100 が 37 こで 3700 (円)

42 ○ -100 = 50 だから ⊗ は 150。
150 を 100 倍した数は 15000。