

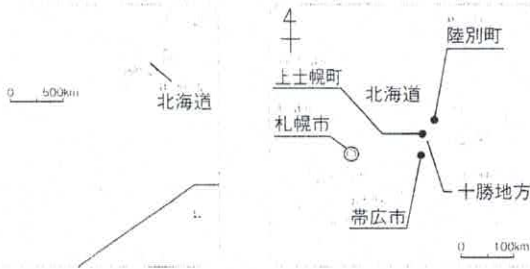
1. わたしたちの国土

寒い土地のくらし ①

せんたく

に入る
言葉を、下から
選びましょう。

と ち
十勝地方の人々は、どのようにくらししているのだろうか。

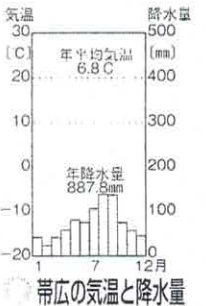


十勝地方の位置と気候

十勝地方は北海道の南東部に位置し、東や西を高い山々に囲まれ、^{ほっかいどう}が広がっている。広大な農地のほか、大自然が今も残っている。山に囲まれた十勝地方は、冷たい空気がたまりやす^{そな}く、冬は0℃以下になる。

寒さや雪に備えた家のくふう

寒さを防ぐため、家のつくりなんだね。
壁の中や床の下に ① が入っている。また、家の入口には ② があり、まどは ③ にして寒さを防ぎ、屋根の角度を ④ にして雪を落ちやすくしている。雪をとかず設備がある、屋根が平らな無落雪の家も ⑤ 小 えている。



寒い地域の家のくふう


十勝地方では、どんな農業が行われているのだろうか。

すずしい気候と広い畑

十勝平野は火山灰の積もった水はけのよい土地で、あずき、スイートコーンなどがつくられている。一つの作物を同じ畑で毎年つくると、病気や害虫に弱くなるので、5種類ほどの作物をそれぞれ畑で ⑤ を行っている。十勝平野には、一つの農家の畑が約40ha^{*}あり、これは全国平均の ⑥ 倍以上の広さである。*ha (ヘクタール) …たて100m×横100mの面積のこと。広い畑では、大型の ⑦ を使った大規模な農業が行われている。

約40ha 全国平均 約1.7ha

十勝地方の農家の畑の規模



じゃがいもを収穫する大型 ⑦

	畑①	畑②	畑③	畑④	畑⑤
1年目	じゃがいも	あずき	てんさい	スイートコーン	小麦
2年目	あずき	じゃがいも	てんさい	小麦	スイートコーン
3年目	てんさい	あずき	じゃがいも	スイートコーン	小麦
4年目	小麦	てんさい	あずき	じゃがいも	スイートコーン
5年目	スイートコーン	小麦	じゃがいも	あずき	てんさい

- ① じゃがいも
- ② あずき
- ③ てんさい
- ④ スイートコーン
- ⑤ 小麦

輪作のやり方



に入る
言葉

輪作
玄関フード

二重まど
機械

20

急

断熱材

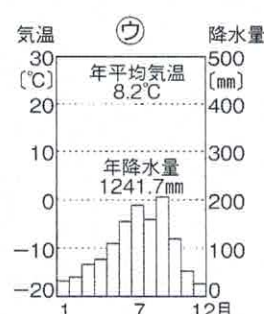
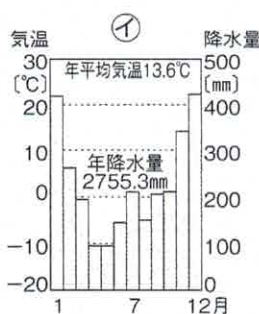
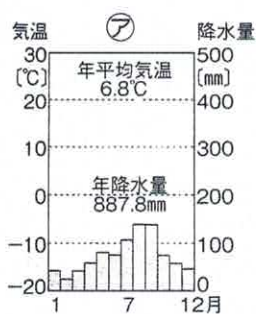
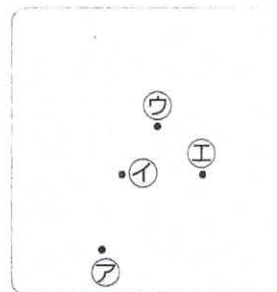
やってみよう



寒さに備えた生活の様子をおさえよう。
輪作のやり方と目的をチェックしよう。
十勝平野の農業の特徴を確認しよう。

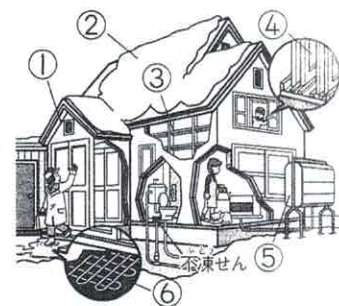
1 十勝地方について、次の問いに答えなさい。

- (1) 十勝地方にある帯広の位置を右の地図中の㉗～㉙から選び、記号で答えなさい。
- (2) 次の㉗～㉙のグラフは、三つの都市の月ごとの平均気温を折れ線グラフで、降水量を棒グラフで表したものです。㉗～㉙のうち、帯広にあてはまるものを選び、記号で答えなさい。



2 十勝地方の生活と農業の様子について、次の問いに答えなさい。

- (1) 右の絵は、十勝地方などの寒い地域の家のくふうについて表したものです。絵の中の①～⑥にあてはまることばをから選び、記号で答えなさい。



- ① ② ③
④ ⑤ ⑥

- ㉗ 二重まど ㉘ 温水パイプ ㉙ 玄関フード
㉚ 灯油タンク ㉛ 急な角度の屋根 ㉜ 断熱材

- (2) 次の文中の①・②にあてはまる数字やことばを書きなさい。

1 ha(ヘクタール)とは、たて ① m×横 ① mの面積のことで、十勝平野の農家の畑は平均約40haと、全国平均の20倍以上もの広さです。また、十勝平野では一つの畑で年ごとにちがう作物をつくる ② や、大型の機械を使った大規模な農業が行われています。

ここが
だいじ!

北海道の十勝平野の人々は、冬の寒さや雪に備えた家に住んでいる。