

後期復習プリント①

教科書：P102～127

明治の国づくりを進めた人々①

2 次の問いに答えましょう。

1つ4点 [20点]

(1) 日本に來航したペリーは、どこの国の使者でしたか。()



(2) ペリーが來航した目的を、次から選びましょう。()

- ア 鎖国 イ 開国 ウ 倒幕

(3) 次の文にあてはまる政策を、あとの()からそれぞれ選びましょう。

- ① () ② ()
 ① 藩を廃止し、かわりに府や県を置く。
 ② 近代的な工業をさかんにする。

富国強兵 殖産興業 廃藩置県 文明開化

(4) 明治政府が地租改正をおこなった目的を、収入の言葉を使って簡単に書きましょう。()

明治の国づくりを進めた人々② / 世界に歩み出した日本

3 次の問いに答えましょう。

1つ4点 [24点]

(1) 次の人物にあてはまる文を、あとからそれぞれ選びましょう。 ① () ② () ③ ()



- ア 薩摩藩出身で、西南戦争をおこした。
 イ 国会の開設や、人々の政治参加を求めた。
 ウ 初代内閣総理大臣になった。

(2) 次の文の{ }にあう言葉に○を書きましよう。

- ▶ 天皇が国民にあたえるという形で、1889年に { 日本国 大日本帝国 } 憲法が發布された。
 ▶ 外務大臣の { 陸奥宗光 小村寿太郎 } が、イギリスとの条約改正に成功し、領事裁判権をなくした。

(3) 日清戦争にあてはまるもの1つに○を書きましよう。

日本は多額の賠償金を受け取った。 ()

与謝野晶子が戦争に反対する歌をよんだ。 ()

東郷平八郎が相手国の艦隊を破った。 ()

4 次の資料を見て、問いに答えましょう。 1つ4点 [24点]



小説家として活やくし、すぐれた作品を残しました。



左手のやけどをきっかけに医師になり、細菌学の研究をしました。



衆議院議員として、足尾銅山の鉃毒問題について政府にうったえしました。



女性差別をなくし、選挙権や、母親の権利を獲得する運動を進めました。

(1) 資料にあてはまる人物を次からそれぞれ選びましよう。 ① () ② () ③ () ④ ()

- ア 樋口一葉 イ 田中正造
 ウ 平塚らいてう エ 野口英世

(2) 普通選挙を求める運動の結果、衆議院議員の選挙権をもった人について、()にあてはまる数字や言葉を書きましよう。

() 才以上のすべての()。

後期復習プリント②

教科書：歴史 P128～155 政 国 P66～109

長く続いた戦争と人々の暮らし

1 次の年表を見て、問いに答えましょう。 1つ4点 [32点]

年	主なできごと
1931	㉖ 満州事変が起こる
1933	日本が□に脱退を通告
1937	㉗ 日中戦争が始まる
1938	国民全員を総動員する法律
1939	㉘ 第二次世界大戦が始まる
1941	㉙ 太平洋戦争が始まる
1945	沖縄戦、原爆投下 ㉚ 戦争が終わる



- (1) 年表の□にあてはまる言葉を書きましょう。
()
- (2) 次の話にあてはまるできごとを、年表中の㉖～㉚からそれぞれ選びましょう。



ヨーロッパで、ドイツがまわりの国々を侵略して始まったよ。



満州(中国東北部)にいた日本軍が、中国軍を攻撃、占領して始まったよ。

- (3) —のあとの戦時体制の様子として、正しいものには○を、誤っているものには×を書きましょう。
- ① () 米や衣料が配給制になった。
- ② () 大学生は戦場には行かなかった。
- ③ () 都市部の小学生は集団疎開した。
- (4) 右上の写真の建物がある都市と、ここに原爆が落とされた月日を書きましょう。 都市 ()
月日 (月 日)

新しい日本、平和な日本へ

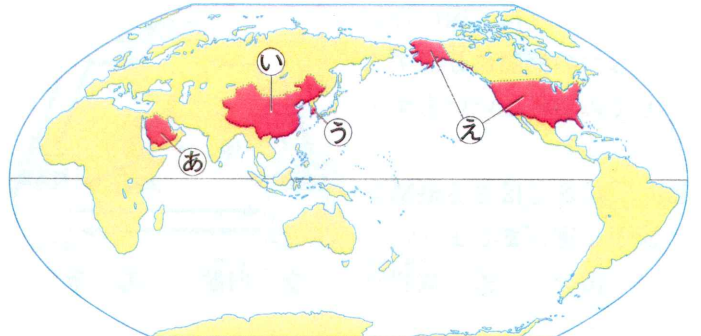
2 次の資料を見て、問いに答えましょう。 1つ5点 [20点]



- (1) 資料にあてはまる文を次から選びましょう。
- ㉛ 翌年、占領が終わり日本は主権を回復した。
- ㉜ 女性の参政権が認められた。
- ㉝ 日本経済の復興と発展が世界に示された。
- (2) ㉝のころの産業が急速に発展したころのことを何といいますか。 ()


日本とつながりの深い国々

3 次の地図を見て、答えましょう。 1つ4点 [32点]



- (1) 次の国旗はどこの国のものですか。地図中㉖～㉚からそれぞれ選びましょう。

①



②



③



④



- (2) 次の文にあてはまる国を、地図の㉖～㉚からそれぞれ選びましょう。
- ① () イスラム教が国教になっている。
- ② () さまざまな民族がくらす多文化社会の国。
- ③ () 最近まで一人っ子政策が行われていた。
- ④ () 寒い冬にキムチなどのからい料理を食べる。

世界の未来と日本の役割

4 国際連合について、問いに答えましょう。 1つ4点 [16点]

- (1) 国際連合について、次の文にあてはまる言葉をあとの□からそれぞれ選びましょう。
- ① 戦争や食料不足で厳しいくらしをしている地域の子どもたちを支援する機関。 ()
- ② 教育・科学・文化を通じて、平和な社会をつくることを目的とした機関。 ()
- ③ 世界各地の戦争・紛争の予防や調停、復興支援のための活動。 ()

ユニセフ ユネスコ 平和維持活動

- (2) 右のような17の目標は、何の実現をめざして立てられたものですか。
()な社会




補習プリント

1 年表中の□にあてはまる時代名を、次からそれぞれ選びましょう。

- ㊦ 昭和 ㊧ 江戸 ㊨ 大正 ㊩ 明治

2 年表中の()にあてはまる言葉や人名を、あとの□からそれぞれ選びましょう。

時代	年	できごと
	1603	()が江戸幕府を開く
	1615	大名を取りしめるため、()を定める
	1635	3代将軍徳川家光が()の制度を定める
□	1637	島原・天草一揆が起こる
	1641	鎖国が完成する
	1853	()が浦賀に来航する
	1854	()条約が結ばれ、鎖国の状態が終わる
	1858	()条約が結ばれる
	1867	15代将軍徳川慶喜が政権を朝廷に返す
	1873	国の収入を安定させるため()が行われる
	1881	板垣退助が自由党をつくる
□	1885	()が最初の内閣総理大臣になる
	1889	()が公布される
	1894	()戦争が起こる
	1904	()戦争が起こる
□	1914	第一次世界大戦が始まる
	1925	普通選挙制度が定められる
	1931	()が起こる
	1933	日本が()の脱退を通告する
	1937	()戦争が始まる
	1939	第二次世界大戦が始まる
□	1941	()戦争が始まる
	1945	広島・()に原子爆弾が落とされる
	1946	()が公布される
	1951	サンフランシスコ平和条約と()条約が結ばれる
	1956	日本が()に加盟する
	1964	東京オリンピックと東京パラリンピックが開かれる
	1978	()条約が結ばれる
平成	2011	東日本大震災が起こる
令和	2020	東京オリンピックと東京パラリンピックが開かれる



- | | | | | | | | |
|-------|---------|------|--------|------|--------|--------|-------|
| 徳川家康 | ペリー | 地租改正 | 伊藤博文 | 西郷隆盛 | 大隈重信 | 参勤交代 | 武家諸法度 |
| 日本国憲法 | 大日本帝国憲法 | 廃藩置県 | 長崎 | 沖縄島 | 太平洋 | 日露 | 日清 |
| 満州事変 | 国際連盟 | 国際連合 | 日中平和友好 | 日米和親 | 日米修好通商 | 日米安全保障 | 日中 |