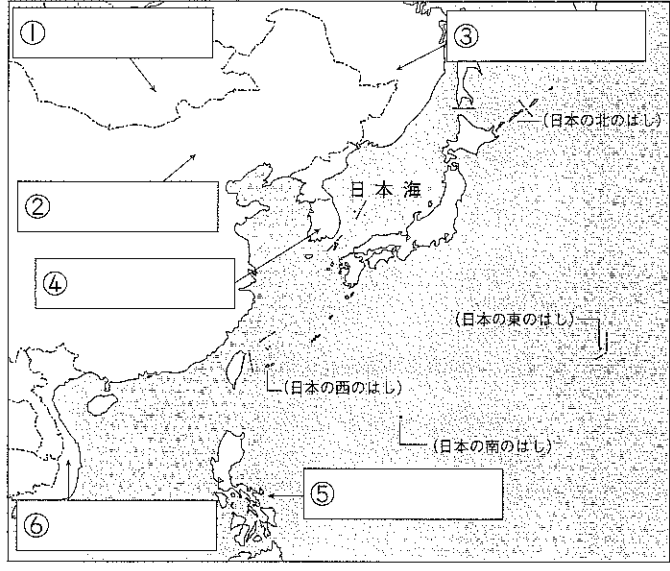




わたしたちのくらしと国土
日本の周りの国々

名前 _____
_____ / 50点

★ 次の地図中の □ にあてはまる国名を □ から選び、書きなさい。 24点(1つ4)



- ① 中華人民共和国
- ② ロシア連邦
- ③ 大韓民国
- ④ フィリピン共和国
- ⑤ モンゴル国
- ⑥ ベトナム社会主義共和国

③は世界で一番面積の広い国だよ。



読んで覚えよう

★ 次の文の () にあてはまる語句を □ から選び、書きなさい。 26点(1つ2)

- 日本列島は、北から北海道 (①), 四国 (②) を中心に、たくさんの島々から成りたつ、(③) に長い島国である。
- 日本の周りは海に囲まれていて、東は(④), 西は(⑤) や東シナ海、北は(⑥) をへだてて、外国と接している。
- 北海道の北東につらなる(⑦) はもともと日本の領土だが、現在はロシア連邦に占領されており、政府はこれらの島を返すよう交じょうしている。
- 日本海の(⑧), 東シナ海の(⑨) は日本固有の領土だが、韓国と中国がそれぞれ自国の領土だと主張している。
- 日本の北のはしは(⑩), 南のはしは(⑪), 東のはしは(⑫), 西のはしは(⑬) である。

択捉島	本州	北方領土	オホーツク海	九州	日本海	竹島
南鳥島	太平洋	沖ノ鳥島	南北	尖閣諸島	与那国島	

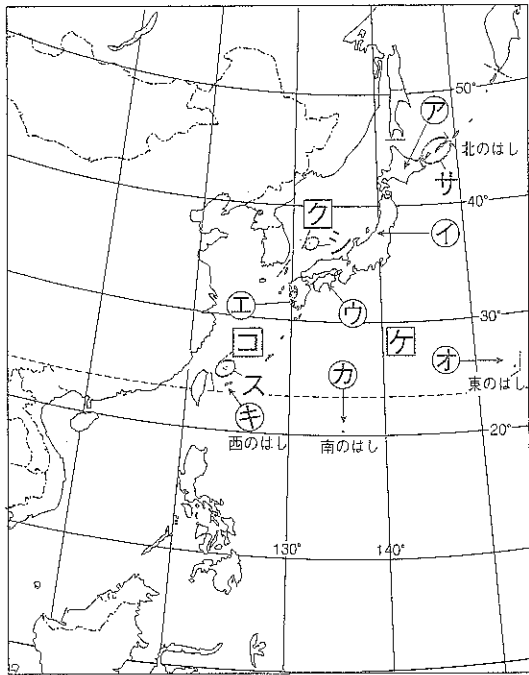
◎ ポイント 日本は南北に細長い島国で、海をはさんで他国と接している。

2

日本の周りの国々

① 次の地図を見て、あとの問いに答えなさい。

26点(1つ2)

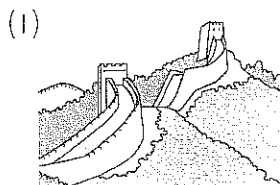


(1) 地図中のア～オは島の名前、ク～コは海の名前を答えなさい。

- ア() イ()
 ウ() エ()
 オ() カ()
 キ() ク()
 ケ() コ()

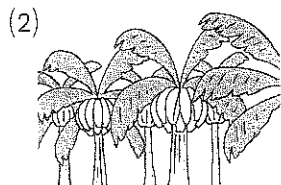
(2) 地図中の○で囲んだサ～スは、他の国のかんしょうを受けているわが国の領土です。このうちサの島々は何とよばれますか。また、シとスの島の名前をそれぞれ答えなさい。 サ()
 シ() ス()

② 次の資料は、日本の周りにある国々を表しています。資料が表している国名を書きなさい。また、その国の国旗を□から選び、記号を書きなさい。 24点(1つ4)



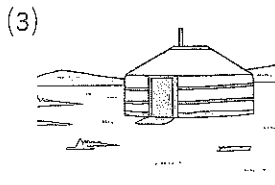
・人口：約14億人
 ・歴史が古く、万里の長城などの世界遺産がある。

()
 国旗 ()



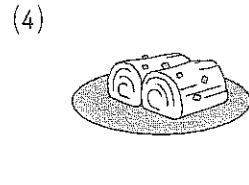
・日本より南に位置し、あたたかい。バナナの生産がさかん。

()
 国旗 ①



・内陸にあり雨が少ない。草原で家畜を飼い生活する人々がいる。

()
 国旗 ①



・日本と古くから交流があり、ワールドカップをともにひらいた。

()
 国旗 ()



① ② ③ ④ (1)カは島の周りをコンクリートで守っている。④は、中国の昔のよび名をつかい、〇〇の東という意味である。 (3)絵はゲルという羊の毛で作ったテント。 (4)はキムチという漬物。

答え 5年 ① 社会



① 地図や地球儀で世界の国々を調べる

3ページ

- ☆ ①ユーラシア大陸 ②アフリカ大陸
③太平洋 ④北アメリカ大陸
⑤オーストラリア大陸 ⑥インド洋
⑦南極大陸 ⑧南アメリカ大陸
⑨大西洋
- ☆ ①中華人民共和国
②アメリカ合衆国
③サウジアラビア
④南アフリカ共和国 ⑤ブラジル
⑥イギリス ⑦エジプト

4ページ

- ◆ (1) ①アフリカ(大陸)
②ユーラシア(大陸)
③インド(洋) ④太平(洋)
⑤オーストラリア(大陸)
- (2) 赤道
(3) ①ア・② ②イ・③
- ◆ (1) 中華人民共和国(中国)
(2) アメリカ合衆国
(3) オーストラリア
- ◆ ①太平洋 ②西 ③オーストラリア

考え方 3ページ ☆ 大陸や海洋の名前と位置は、日本を中心に、日本の東は～、南は～と覚えるとよい。④が北アメリカ大陸、⑧が南アメリカ大陸というように、ふつう、地図の上は北である。

☆ どの国も、日本とつながりの深い国である。名前や特色だけでなく、どこにある国なのか、地図帳で調べてみよう。

4ページ ◆ (2)赤道からはなれ具合(緯度)を使って、地球上の南北の位置を表す。赤道は、その基準となる。

◆ 日本が、どのような海洋や大陸、国と接し

ているか、地図帳でかくにんしよう。

② 日本の周りの国々

5ページ

- ☆ ①モンゴル国 ②中華人民共和国
③ロシア連邦 ④大韓民国
⑤フィリピン共和国
⑥ベトナム社会主義共和国
- ☆ ①本州 ②九州 ③南北
④太平洋 ⑤日本海
⑥オホーツク海 ⑦北方領土
⑧竹島 ⑨尖閣諸島 ⑩択捉島
⑪沖ノ鳥島 ⑫南鳥島
⑬与那国島

6ページ

- ◆ (1) ⑦北海道 ①本州 ④四国
①九州 ④南鳥島 ④沖ノ鳥島
④与那国島 ⑦日本海
④太平洋 ④東シナ海
- (2) サ北方領土 シ竹島 ス尖閣諸島
- ◆ (1) 中華人民共和国・⑦
(2) フィリピン(共和国)
(3) モンゴル(国)
(4) 大韓民国・⑦

考え方 6ページ ◆ (1)は万里の長城、(2)はバナナ園、(3)はゲルという移動式のテント、(4)はキムチである。

③ 日本の国土と気候

7ページ

- ☆ ①奥羽山脈 ②利根川 ③関東平野
④赤石山脈 ⑤信濃川 ⑥濃尾平野
⑦中国山地 ⑧九州山地
- ☆ ①平地 ②山地 ③中央 ④太平洋
⑤日本海 ⑥四季 ⑦つゆ(梅雨)
⑧台風 ⑨南北 ⑩気候