



懇談会のお知らせの提出をしていただきありがとうございました。懇談会の日程は後日お知らせ致します。本日、さんすうドリル・かん字の学しゅう・ドリルの王様を持ち帰っていますので、今週からは漢字の授業や宿題はこちらを使用します。宿題の毎週の提出は、一度怠ってしまうと出さなくなる習慣がついてしまいがちです。一年間の流れを作るのは最初が肝心です。勉強の習慣を上手に生活の中に取り入れて、生活リズムを作って行けるよう、お子さんが宿題をする習慣が身に付く環境作りをしてください。

今週 (4/25) 学習内容	国語①	「今週のニュース1/2」
	国語②	絵・春・今・週・紙
	算数	「たし算のしかたを考えよう②」
	生活	「自己紹介をしよう」
来週 (5/2) 学習予定	国語①	「今週のニュース2/2」
	国語②	門・黄・色・太・毛
	算数	「たし算のしかたを考えよう③」
	生活	こどもの日
今週の宿題	国語①	絵日記 音読カード <div style="border: 1px solid black; padding: 5px; margin: 5px 0;">             して音読① 22ページ 上のだん              して音読② 22ページ 下のだん 1の部分              して音読③ 22ページ、23ページ 掲示板の中              して音読④ 23ページ 下のだん 2の部分           </div> ドリルの王様5ページ、6ページ 授業で終らなかつた箇所を終らせる テスト勉強
	国語②	
	算数	さんすうドリル8ページ、9ページ たし算(2)



# 2年音読カード

なまえ

よい◎ ふつう○ もうすこし△

月 日	読んだところ	、やに 気をつけて	大きなこえで	ゆっくり読む	おうちの人の サイン
/	しゅくだい: してい音読①				
/	しゅくだい: してい音読②				
/	しゅくだい: してい音読③				
/	しゅくだい: してい音読④				
/	しゅくだい: してい音読⑤				
/	しゅくだい: してい音読⑥				

ここまでが、しゅくだいです。ここから下は 自由音読 (じゆう おんどく)

/					
/					
/					
/					

先生のサイン



漢字テストはんい

4/25 テストの勉強用に配布  
テストの勉強をしましょう

漢字テスト  
5/2 に出る漢字

①	え み 絵を見る
②	はる 春になる
③	こんげつ 今月
④	いっしゅう 一週間
⑤	かみ 紙ひこうき
⑥	がっこう 学校
⑦	しゅん ひ 春ぶんの日
⑧	いま むかしと今
⑨	がようし がよう紙
⑩	あか 赤ちゃん

漢字テスト

5/2 ②

名前	
①	えをみる
②	はるになる
③	こんげつ
④	いっしゅうかん
⑤	かみひこうき
⑥	がっこう
⑦	しゅんぶんのひ
⑧	むかしといま
⑨	がようし
⑩	あかちゃん



西大和学園補習校二年  
漢字テスト

4/25 ①

名前

①	よお
②	しるこゆき
③	いっ
④	みなみのしき
⑤	かきとりテスト
⑥	おんどく
⑦	てんけん
⑧	なんぢやく
⑨	たけずら
⑩	みあげる

# じこしょうがいをしよう



なまえ

しょうらいのゆめ

すきないろ

すきなたべもの

すきなこと

アーバイン2年生

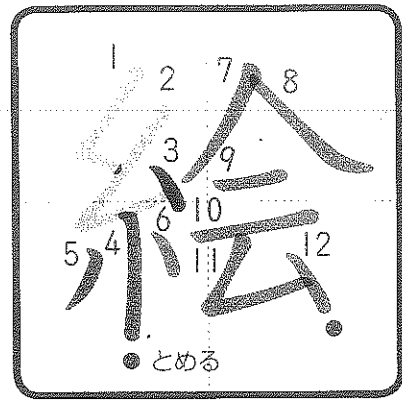
じゆぎょうプリント

4/25 こくご①

# 今週のニュース


## なまえ

<p>🕒 月・日 (いつ)</p>	
<p>📍 ばしょ (どこ で)</p>	
<p>🔍 なにか あったか</p>	

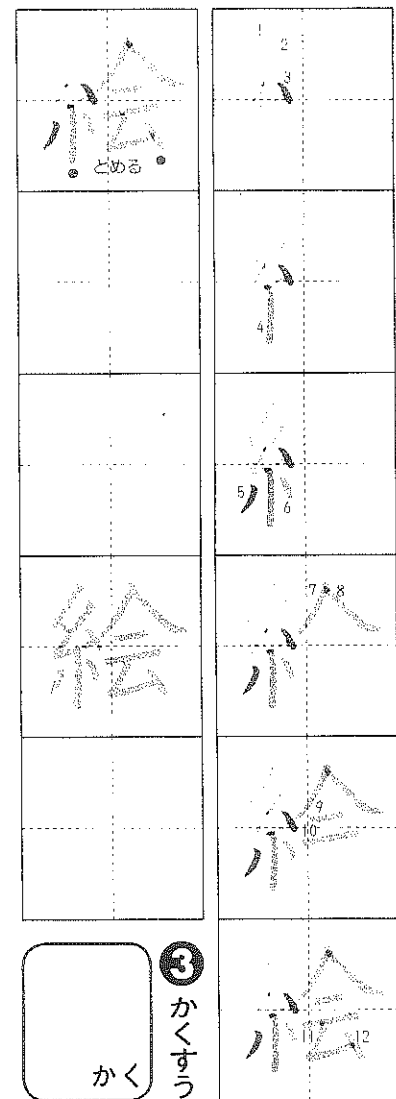


ゆびで なぞりましょう。


① 読みかたを 書きましょう。



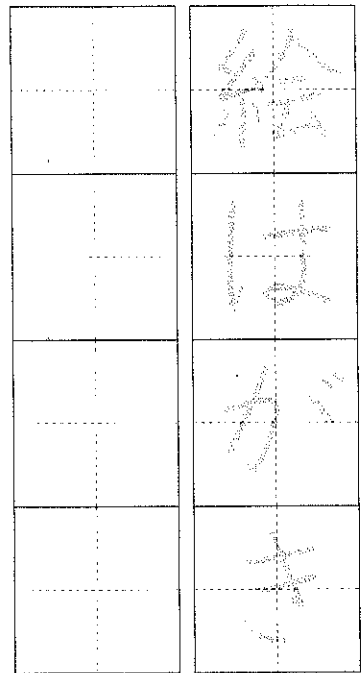
② 書きじゆんに 気をつけて れんしゅうしましょう。




③ かくすう




④ 絵の つく ことばを 書きましょう。



つかいかた  
 絵のぐ  
 ぬり絵  
 絵文字

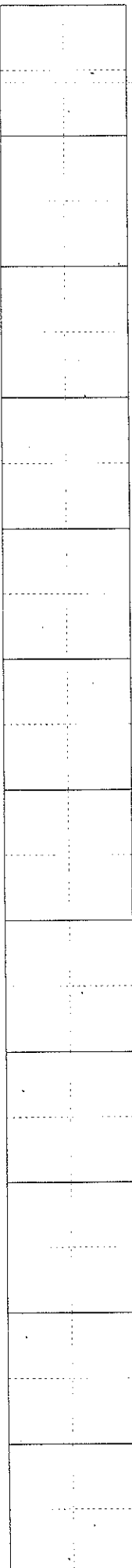


⑤ 文を なぞって 書きましょう。

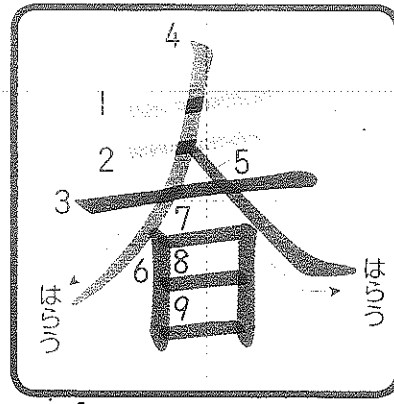


⑥ 絵を つかって 文を つくりましょう。

(れい) いもうとと 絵本を 読んだ。






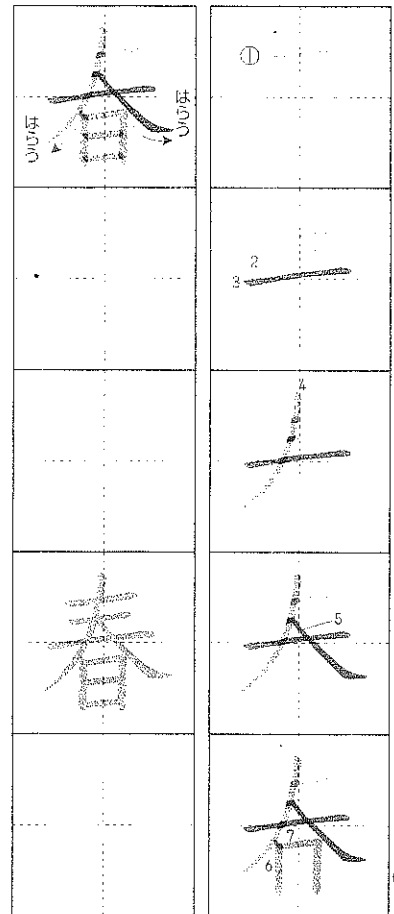


ゆびで なぞりましょう。

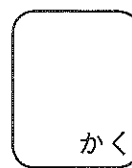
① 読みかたを 書きましょう。



② 書きじゆんに 気をつけて れんしゅうしましょう。




○ びんごうで まじりまわす。

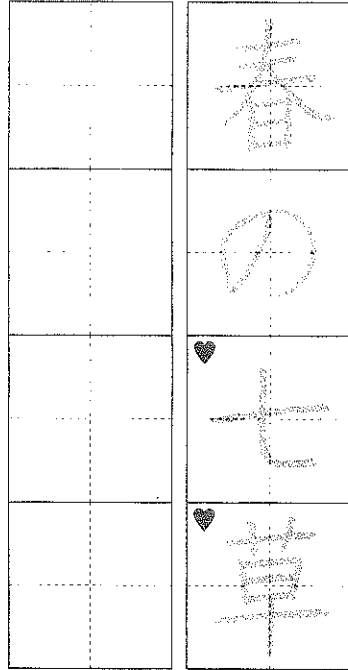


③ かくすう


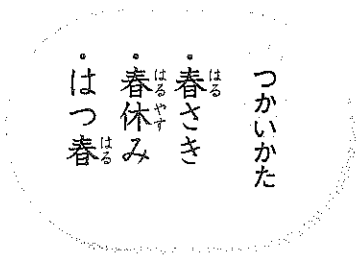
おぼえかた



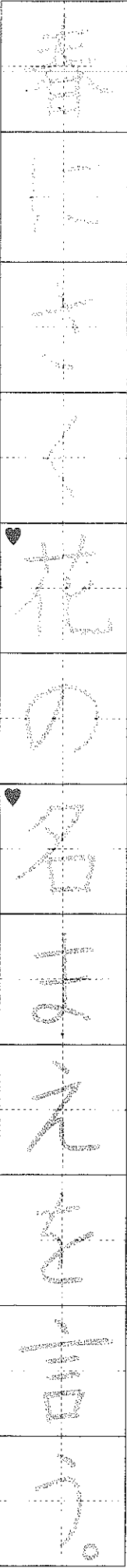
「三人で 日に あたる 春」と おぼえよう。



④ 春の つく ことばを 書きましょう。

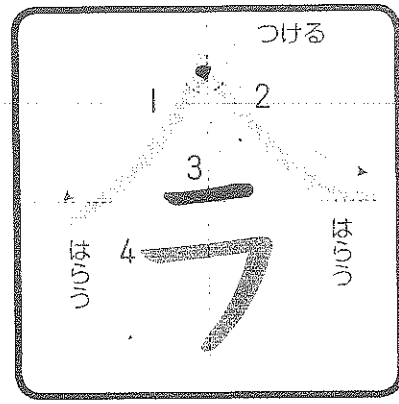


⑤ 文を なぞって 書きましょう。




⑥ 春をつかって 文をつくりましょう。

(れい) 春になると、雪がとける。

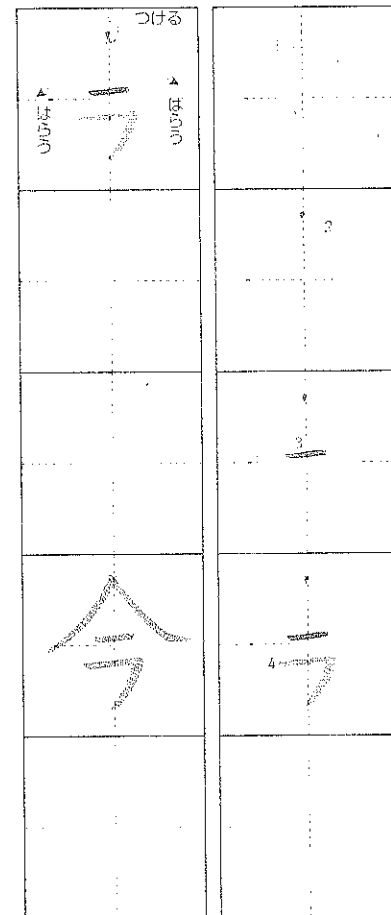


④ ゆびで なぞりましょう。

① 読みかたを 書きましょう。



② 書きじゆんに 気をつけて れんしゅうしましょう。



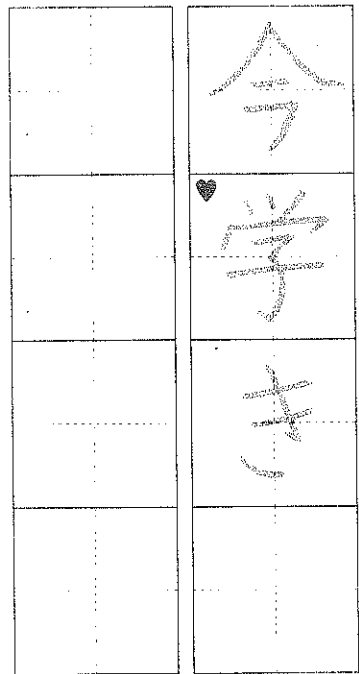
③ かくすう

ちゅうい

ななめに  
しない。

きちんと  
つける。


書きかたに  
ちゅういし  
よう。



④ 今の つくことばを 書きましょう。

つかいかた

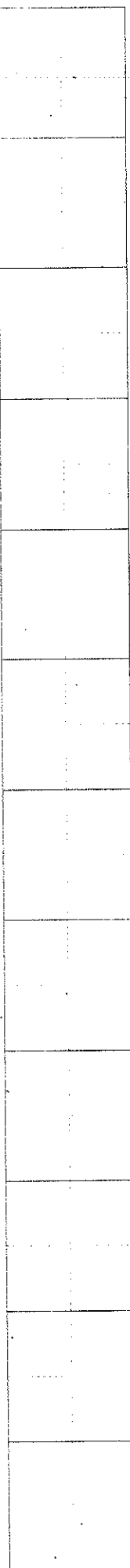
今かい  
今ご  
今ばん



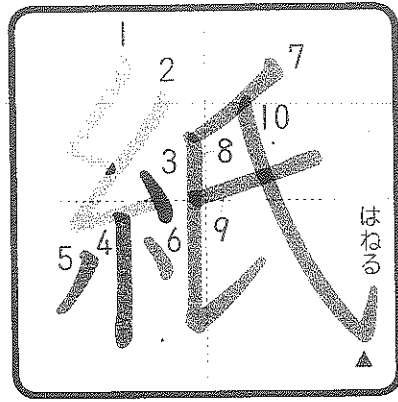
今とは、男の子のばんだ。

⑥ 今をつかって 文をつくりましょう。

(れい) 今やは まん月が見える。









④ ゆびで なぞりましょう。

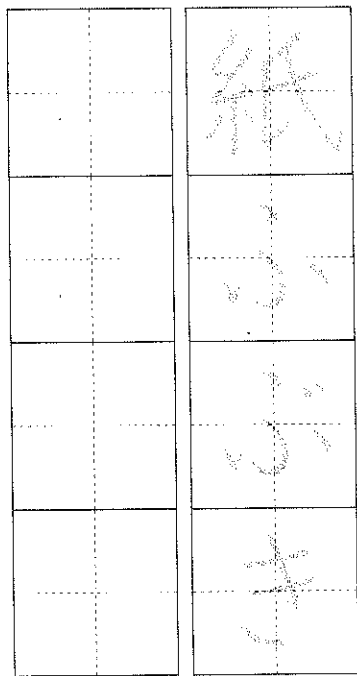
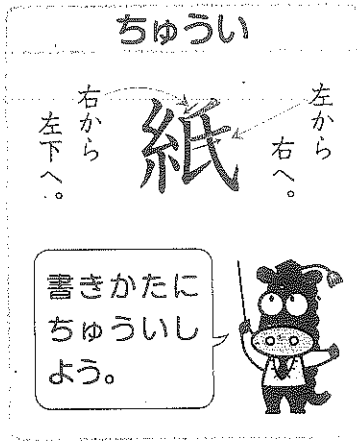
① 読みかたを書きましよう。



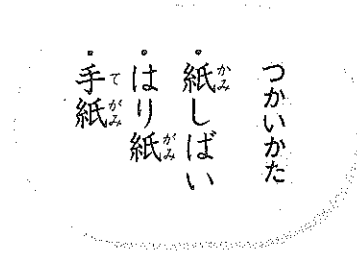
② 書きじゆんに気をつけてれんしゅうしましよう。



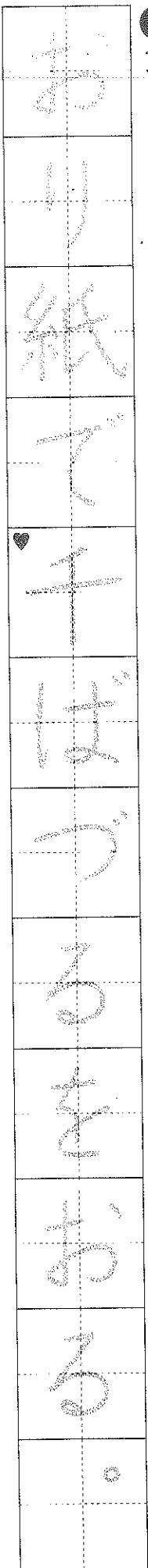
○ 「ち」のついでに「ま」をい。



④ 紙のつくことばを書きましよう。



⑤ 文をなぞって書きましよう。



⑥ 紙をつかって文をつくりましよう。

(れい) 紙ひこうきがとおくにとい。

# 8

## ② たし算(2)

たし算をしましょう。

① 
$$\begin{array}{r} 15 \\ + 59 \\ \hline 74 \end{array}$$
 ② 
$$\begin{array}{r} 36 \\ + 47 \\ \hline 83 \end{array}$$
 ③ 
$$\begin{array}{r} 28 \\ + 13 \\ \hline 41 \end{array}$$

ヒント 十のくらいに1くり上げよう。

④ 
$$\begin{array}{r} 43 \\ + 29 \\ \hline 72 \end{array}$$
 ⑤ 
$$\begin{array}{r} 64 \\ + 17 \\ \hline 81 \end{array}$$
 ⑥ 
$$\begin{array}{r} 35 \\ + 58 \\ \hline 93 \end{array}$$

⑦ 
$$\begin{array}{r} 26 \\ + 56 \\ \hline 82 \end{array}$$
 ⑧ 
$$\begin{array}{r} 19 \\ + 42 \\ \hline 61 \end{array}$$
 ⑨ 
$$\begin{array}{r} 24 \\ + 69 \\ \hline 93 \end{array}$$

子どもが18人います。16人くると、みんなて何人になりますか。

⑩ 
$$18 + 16 = 34$$
  
答 (34人)

あ、ひに入る数字は何ですか。  
$$\begin{array}{r} 28 \\ + 36 \\ \hline 64 \end{array}$$

# 9

## ② たし算(2)

たし算をしましょう。

① 
$$\begin{array}{r} 27 \\ + 43 \\ \hline 70 \end{array}$$
 ② 
$$\begin{array}{r} 79 \\ + 8 \\ \hline 87 \end{array}$$
 ③ 
$$\begin{array}{r} 6 \\ + 54 \\ \hline 60 \end{array}$$

ヒント くり上がりに気をつけよう。

④ 
$$\begin{array}{r} 32 \\ + 58 \\ \hline 90 \end{array}$$
 ⑤ 
$$\begin{array}{r} 21 \\ + 69 \\ \hline 90 \end{array}$$
 ⑥ 
$$\begin{array}{r} 46 \\ + 7 \\ \hline 53 \end{array}$$

⑦ 
$$\begin{array}{r} 9 \\ + 72 \\ \hline 81 \end{array}$$
 ⑧ 
$$\begin{array}{r} 34 \\ + 6 \\ \hline 40 \end{array}$$
 ⑨ 
$$\begin{array}{r} 5 \\ + 75 \\ \hline 80 \end{array}$$

赤い花が23本、白い花が37本さいています。花は、ぜんぶで何本さいていますか。

⑩ 
$$23 + 37 = 60$$
  
答 (60本)

あ、ひの大きいじゆんに文字をならべましょう。  
$$\begin{array}{r} 22 \\ + 27 \\ \hline 49 \end{array}$$
 
$$\begin{array}{r} 8 \\ + 43 \\ \hline 51 \end{array}$$
 
$$\begin{array}{r} 36 \\ + 14 \\ \hline 50 \end{array}$$

### ○ ときかた

4 どうぶつの数

		○		
		○		
○		○		
○		○		○
○		○		○
○		○		○
○		○		○
ふ	り	り	り	り

グラフを見て、ねこより○の数が3つ少ないどうぶつをさがします。3つ少ないのはいぬです。

6

	12	
13	11	14
	15	

よこ  $13 + 11 = 24$   
 $24 + 14 = 38$   
たて  $12 + 11 = 23$ ,  $23 + 15 = 38$

7

	③
+	④
<hr/>	
9	8

一のくらい  $3 + ④ = 8$   
④は、5です。

十のくらい  $③ + 3 = 9$  ③は、6です。

8


	2	8
+	⑥	⑦
<hr/>		
6	7	

一のくらい  $8 + ⑦ = 17$   
⑦は、9です。

十のくらい 十のくらいに1くり上がるから、くり上げた1と2で3。  
 $3 + ⑥ = 6$  ⑥は、3です。

9

① 
$$\begin{array}{r} 8 \\ + 43 \\ \hline 51 \end{array}$$
 ② 
$$\begin{array}{r} 36 \\ + 14 \\ \hline 50 \end{array}$$
 ③ 
$$\begin{array}{r} 22 \\ + 27 \\ \hline 49 \end{array}$$



2. たし算のひっ算

② たし算(2)

15

なまえ

10点

点

① たし算を <sup>さん</sup>しまししょう。

$$\begin{array}{r} ① \quad 27 \\ + 43 \\ \hline \square \square \end{array}$$

$$\begin{array}{r} ② \quad 79 \\ + 8 \\ \hline \square \square \end{array}$$

$$\begin{array}{r} ③ \quad 6 \\ + 54 \\ \hline \square \square \end{array}$$

ヒント くり上がりに気をつけよう。

$$\begin{array}{r} ④ \quad 32 \\ + 58 \\ \hline \square \square \end{array}$$

$$\begin{array}{r} ⑤ \quad 21 \\ + 69 \\ \hline \square \square \end{array}$$

$$\begin{array}{r} ⑥ \quad 46 \\ + 7 \\ \hline \square \square \end{array}$$

$$\begin{array}{r} ⑦ \quad 9 \\ + 72 \\ \hline \square \square \end{array}$$

$$\begin{array}{r} ⑧ \quad 34 \\ + 6 \\ \hline \square \square \end{array}$$

$$\begin{array}{r} ⑨ \quad 5 \\ + 75 \\ \hline \square \square \end{array}$$

② 赤い花が23本、白い花が37本  
さいています。花は、ぜんぶで <sup>なんぼん</sup>何本  
さいていますか。

⑩ しき

答え ( )

③ 答えの大きいじゆんに  
文字をならべましよう。

$$\begin{array}{r} ㉑ \quad 22 \\ + 27 \\ \hline \end{array}$$

$$\begin{array}{r} ㉒ \quad 8 \\ + 43 \\ \hline \end{array}$$

$$\begin{array}{r} ㉓ \quad 36 \\ + 14 \\ \hline \end{array}$$

( )



2. たし算のひっ算

② たし算(2)

□ 13~14

なまえ

120点

点

① たし算を <sup>さん</sup>しまししょう。

$$\begin{array}{r} \textcircled{1} \quad 15 \\ + 59 \\ \hline \square \square \end{array}$$

$$\begin{array}{r} \textcircled{2} \quad 36 \\ + 47 \\ \hline \square \square \end{array}$$

$$\begin{array}{r} \textcircled{3} \quad 28 \\ + 13 \\ \hline \square \square \end{array}$$

ヒント 十のくらいに1くり上げよう。



$$\begin{array}{r} \textcircled{4} \quad 43 \\ + 29 \\ \hline \square \square \end{array}$$

$$\begin{array}{r} \textcircled{5} \quad 64 \\ + 17 \\ \hline \square \square \end{array}$$

$$\begin{array}{r} \textcircled{6} \quad 35 \\ + 58 \\ \hline \square \square \end{array}$$

$$\begin{array}{r} \textcircled{7} \quad 26 \\ + 56 \\ \hline \square \square \end{array}$$

$$\begin{array}{r} \textcircled{8} \quad 19 \\ + 42 \\ \hline \square \square \end{array}$$

$$\begin{array}{r} \textcircled{9} \quad 24 \\ + 69 \\ \hline \square \square \end{array}$$

② 子どもが18人います。16人くると、みんなで <sup>なんにん</sup>何人になりますか。

⑩ しき


答え ( )

⑬ ㊸, ㊹に入る <sup>たし</sup>数字は何ですか。


$$\begin{array}{r} 28 \\ + \textcircled{あ} \textcircled{い} \\ \hline 67 \end{array}$$

㊸ ( ) ㊹ ( )

② 色をあらわすかん字



★ドリルやホムステットが おわつたら、**色え**合わせを しましょう。  
★まちがって いたら、その ままにしないで、かならず もつ 一どやり直しましょう。



1 かん字のらくしゅつ 1~2ページ

- ① ①車 ②青 ③貝 ④山 ⑤町  
⑥夕日 ⑦赤 ⑧王 ⑨学校 ⑩村  
⑪林 ⑫田 ⑬森
- ② ①見 ②正 ③石 ④目 ⑤先生  
⑥音 ⑦花 ⑧中 ⑨小 ⑩立 ⑪手
- ③ ①月 ②虫 ③雨 ④火 ⑤字  
⑥糸 ⑦金 ⑧早 ⑨天気 ⑩水  
⑪草 ⑫日 ⑬土

ポイント

習ってすぐの漢字は書けても、時間がたつと忘れてしまうというお子さんが、一定数います。

漢字学習は、くり返し練習するしかありません。配当漢字数が少ない低学年のうち、くり返し復習して定着させる習慣を身につけましょう。

- ① ③「貝」は「見」と、⑧「王」は「玉」とまちがえやすいので、注意しましょう。

- ③ 横線の長さにも注意。⑨の「天」は上の横線の方を長く書きます。⑬「土」は下の横線の方が長くなります。

2 かん字のらくしゅつ 3~4ページ

- ① ①三 ②五 ③犬 ④四 ⑤九 ⑥二  
⑦本 ⑧四 ⑨七 ⑩一 ⑪円 ⑫百  
⑬八 ⑭人 ⑮玉 ⑯十 ⑰六 ⑱千  
⑲三 ⑳二
- ② ①カ ②竹 ③出 ④入 ⑤空 ⑥足

- ⑦休 ⑧名 ⑨右 ⑩人 ⑪女 ⑫子  
⑬男 ⑭左 ⑮下 ⑯上 ⑰青 ⑱名  
⑲人

ポイント

漢字を練習するときは、特に、書き順に注意する必要があります。まずは、次の大きな二つのきまりをきちんと覚えましょう。

- 上から下へ書く (例三、青)
- 左から右へ書く (例六、竹)

その他にも、小さなきまり、こがいくつがあります。

- ◇中を先に書く (例小、赤)
- ◇外側を先に書く (例円、月)
- ◇横線と縦線が交わる時には、横線を先に書く (例十、手)
- ◇つきぬける線は最後に書く (例中、女)
- ◇左はらいを先に書く (例人、九)
- ◇左はらいと横線が交わる時には、短い方を先に書く (例右へ左はらいが先、左へ横線が先)

3 きほんのドリル 5~6ページ

- ① ①おんどく ②ゆき ③い ④みなみ  
⑤え ⑥か
- ② ①あ  
②い  
③う
- ③ あ・い・え・か・き・け・し







5 つまの 文しよつを 読んで、おたづねに したまへおしよ。

「きよしよ」を あらわします。  
(例 ①9ページ～10ページ ②6ページ)

よが あけました。

あさの ひかりを あびて、

竹やぶの 竹の はつぱが、

「さむかったね。」

「うん、さむかったね。」

と ささやいて います。

雪が まだ すこしのこつて、

あたりは しんと して います。

どこかで、小さな こえが

しました。

「よいしよ、よいしよ。」

おもたいな。」

竹やぶの そばの

ふきのとうです。

雪の 下に あたまを 出して、

雪を どけようと、ふんばつて

いる ところですよ。

「よいしよ、よいしよ。そどが

見たいな。」

「よいしよ、よいしよ。そどが 見たいな。」

これは、たいせつ。この 文しよつは、

文しよつのはじめの ばめんとす。どんな じんぶつが 出てくるかに 気をつけて 読みましょう。おはなしの 中では、にんげん ではなくても、にんげんのように うごいた り かんがえたり する 生きものや ものも、 「どうじようじんぶつ」と いいます。

①②③ はなす ことばには 「」がついて いるよ。

(1) この ばめんの きせつは

いつですか。あう ものに

○を つけましょう。 10 ぶん

あ ( ) 春の はじめ

い ( ) 春の おわり

う ( ) ぶゆの はじめ

(2) 「ささやいて」いるのは、だ

れ(なに)ですか。 10 ぶん

( )

(3) なんと ささやいて しま

したか。文しよつの中から

二つ かきぬきましよう。

10 ぶん(2つ)

( )

( )

(4) 「小さな こえ」は だれ

(なに)の ものでしたか。 10 ぶん

( )

(5) 「おもたいな」と あります

が、だれ(なに)が おもたい

と いうて いるのですか。 10 ぶん

( )



# 漢字テスト

名前

①

えをみる

②

はるになる

③

こんげつ

④

こっしゅうかん

⑤

かみひじょうち

⑥

がつにう

⑦

しゅんぱんのひ

⑧

おかしといま

⑨

がようじ

⑩

あかちゃん