



# 3年生学年通信

西大和学園補習校アーバン校舎

2015年9月26日

第3学年学級通信

## がくしゅう かくにん - 学習の確認

こんしゅう 今週  9/26の がくしゅうないよう 学習内容	国語①	つたえよう、楽しい学校生活(p.108-115)(1/2)
	国語②	「柱、住、油、港、員、身」
	算数	かけ算のしかたを考えよう(2/2回)
	生活	地図記号を学ぼう
らいしゅう 来週  10/3の がくしゅうよてい 学習予定	国語①	つたえよう、楽しい学校生活(p.108-115)(2/2)
	国語②	感、想、送、列、乗、追、血（漢字の学習「下」に入ります。）
	算数	大きい数のわり算を考えよう
	生活	仕組みを使って楽しいカードを作ろう  <b>持ち物</b> 教科書「図画工作3・4(下)」 折り紙、はさみ、のり、色鉛筆(サインペン、クレヨン)
今週の しゅくだい 宿題	国語①	○絵日記1枚 ○音読1枚指定音読 ・指定音読①④「つたえよう、楽しい学校生活」(p.108-111)、 ・指定音読②⑤「つたえよう、楽しい学校生活」(p.112-115) ・指定音読③⑥「へんにつくり」(p.116-117) ○ドリルの王様(p.39、40)(丸付けをして提出をおねがいます。)
	算数	○算数ドリル(49、50)
	国語②	・漢字テストの勉強 漢字の学習62ページの力だめし6まで全てやりましょう。ご家庭で丸付けをよろしくお願いします。  ※漢字の学習「上」を全て学習しました。来週(10/3)漢字の学習「下」を使います。名前を油せいマジックではっきりと書いて持って来てください。


## お知らせ

### 夏休みの宿題について

先週夏休みの宿題を返却いたしました。ご協力をいただきありがとうございました。



# 3年おんどくカード



名前

よい◎ ふつう○ もうすこし△

月 日	読んだところ	句読点に 気づけて	声の大きさ	ゆっくり読む	おうちの人 のサイン
/	してい音読①				
/	してい音読②				
/	してい音読③				
/	してい音読④				
/	してい音読⑤				
/	してい音読⑥				

ここまでよめたら、おんどく名人！

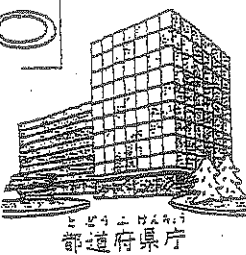
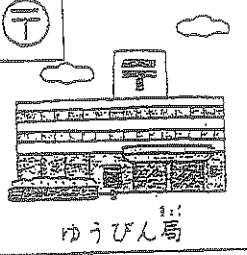



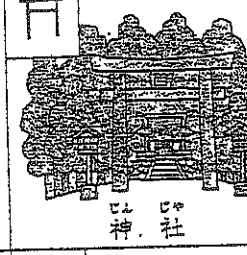
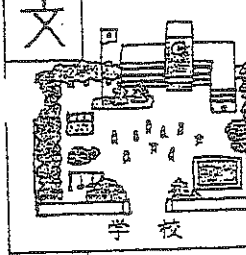
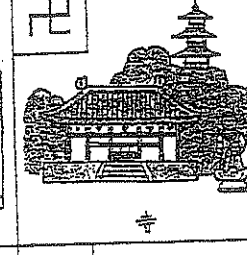
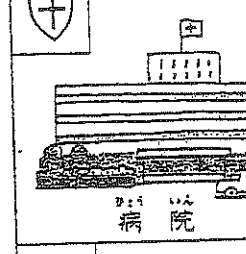
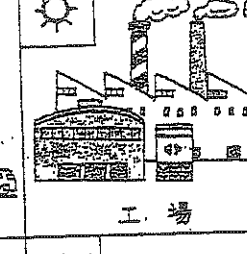


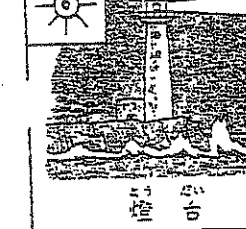

/	自由音読				
/	自由音読				
/	自由音読				
/	自由音読				



先生











たてもの

 都道府県庁	 ゆうびん局
 市役所	 消防しよ
 町・村役場	 神社
 学校	 寺
 病院	 工場
 けいさつしよ	 発電所・変電所
 燈台	 家の集まっているところ




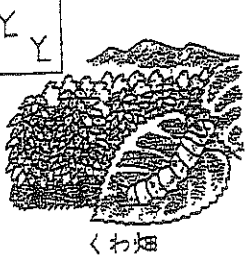

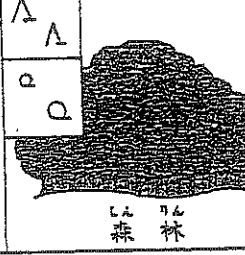
田   || || いねをかりとったあとの、さ  
りかぶをあらわしたもの。

畑   √ √ たねからめを出してきた、2  
まい葉をあらわしたもの。

ゆうび  
ん局   ⊕ ゆうびんのマークを、まるで  
かこんだもの。

工場   ⚙ 歯車をあらわしたもの。

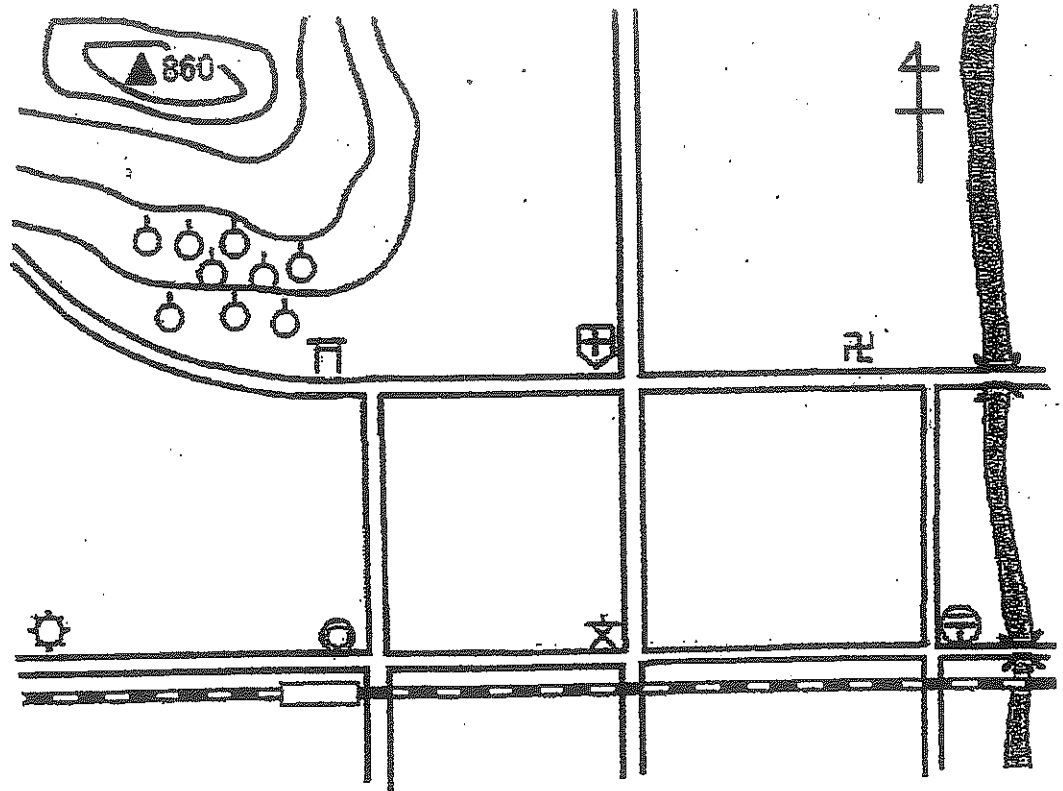
土地利用

 田	 畑	 くだものの畑
 くわ畑	 茶畑	 森林

その他

 鉄道	 橋	 トンネル
 港	 おんせん	 こう山
 飛行場	 しろあと	 山頂(▲は火山)


## 地図の記号と方位



- ① 学校から見て工場はどの方位にありますか。 (                    )
- ② 学校から見て病院はどの方位にありますか。 (                    )
- ③ 病院から見てお寺はどの方位にありますか。 (                    )
- ④ 神社から見て工場はどの方位にありますか。 (                    )
- ⑤ 郵便局から見て病院はどの方位にありますか。 (                    )
- ⑥ 鉄道は ( 南北 ・ 東西 ) に走っている。

ワークシート

\* 地図記号を使って下の  に地図を書いてみましょう。



\* 上の地図を使って方位の問題を作ってみましょう。

	問題	答え
①	_____	[ ]
②	_____	[ ]
③	_____	[ ]
④	_____	[ ]
⑤	_____	[ ]

西大和学園補習校三年	漢字テストはんじ	テストの勉強をしましょう	9/26
①	柱時計 はしらどけい	でんちゅう	
②	電柱にぶつかる。 でんちゅう		
③	身長をはかる。 しんちよう		
④	住まいの住所。 すまいのじゅうしょ		
⑤	油絵をかく。 あぶらえ		
⑥	石油ストーブ。 せきゆ		
⑦	港を出る船。 みなと ぶね		
⑧	空港の開港。 くうこう かいこう		
⑨	クラス全員。 クラスぜんいん		
⑩	黄身と白身。 きみ しるみ		

西大和学園補習校三年	漢字テスト	10/3 名前	組
①	はしらどけい。		
②	でんちゅうにぶつかる。		
③	しんちようをはかる。		
④	すまいのじゅうしょ。		
⑤	あぶらえをかく。		
⑥	せきゆストーブ。		
⑦	みなとをでるぶね。		
⑧	くうこうのかいこう。		
⑨	クラスぜんいん。		
⑩	きみとしるみ。		



西大和学園補習校三年  
漢字テスト

9/26 名前		組	
①	れんしゅうする。		
②	いたをぬる。		
③	せんせいのじょうけん。		
④	ひとをたすける。		
⑤	ちゆういじぶんかくみる。		
⑥	おたふせをそぐ。		
⑦	くふくしとのしりし。		
⑧	としがかり。		
⑨	にくばんをうす。		
⑩	いたのま。		