



# スターライン

西大和学園補習校 アーバイン校舎 第一学年通信

発行日：2016年2月6日

第33号

発行者：木村 和子

暦の上では春となりますが、ちらほら街の中で花が見られるようになりました。春の訪れとともに、子どもたちが二年生になるまでの日が近づいていますね。来週は、後期まとめテストが行われます。今週のワークシートや授業プリントをよく復習して、自分で問題文を理解して解けるようにして家庭学習を進めていきましょう。

## 今週の学習

国語①	○P92~99「どうぶつの赤ちゃん」しまうまの赤ちゃんが大きくなっていく様子について読み取りました。大事なところに線も引きながら、ワークシート⑩に書いて学習していきましました。読み取りの授業プリントも一緒にやりました。→お休みしたお子さんは、よく読んでワークシートや授業プリントをやっておきましょう。ワークシートは来週提出です。
算数	○「後期の復習」 後期に習った範囲をプリントで復習しました→お休みしたお子さんは、授業プリントをやってみましょう。
国語②	○漢字「左」「立」「花」「先」 →お休みしたお子さんは、ご家庭で取り組み、来週提出してください。
生活	○思い思いの絵を描いたビニール袋凧を作成し、外で飛ばしました。

## 今週の宿題

国語	<p><b>漢字学習ノート</b> 「左」「立」「花」「先」授業で終わらなかった②、③、④、⑤を終わらせる。お直しがある人はお直しをして提出です。④ははみ出さないように書きましょう。付箋はそのままにして来週提出して下さい。</p> <p><b>カタカナノート</b> 表紙に終了シールが貼られていないお子さんは、全ページを終了して提出してください。</p> <p><b>かけるかなテスト練習</b> 見ないで書けるように練習しましょう。</p> <p><b>ドリルの王様</b> 45 (p75)、46 (p78)</p> <p><b>視写プリント</b> 丁寧にきれいに写しましょう。</p> <p><b>指定音読カード</b>          指定音読①：教科書 P92 はじめから P94 最後まで          指定音読②：①と同じ          指定音読③：教科書 P95 はじめからから P97 最後まで          指定音読④：③と同じ</p> <p>*来週の後期まとめテストに備え、本日返却したワークシートと読み取りの授業プリントをよく復習しておきましょう。</p>
----	---



## 算数

●算数ドリル 41、48

●マス計算 計算力をアップする練習です。丸つけへのご協力、いつもありがとうございます。その場で確実に間違いを直してあげましょう。

●計算カード 先々週からマス計算が始まりましたが、計算カードも引き続きできる範囲でがんばって続けましょう。

\*来週の後期まとめテストに備え、本日返却した授業プリントをよく復習しておきましょう。

ますけいさんれんしゅう  
解答 2/4

—	19	13	17	11	15	12	16
2	17	11	15	9	13	10	14
7	12	6	10	4	8	5	9
4	15	9	13	7	11	8	12
8	11	5	9	3	7	4	8
5	14	8	12	6	10	7	11
1	18	12	16	10	14	11	15
9	10	4	8	2	6	3	7

保護者のかたへ

終わったら丸付けをお願いします。

/49

## &lt;来週の予定&gt;

	1組	2組
1	国語テスト	国語テスト
2	生活	国語2
3	国語2	生活
4	算数テスト	算数テスト

\*生活・・・後期に作った作品の表紙作りをします。持ち物：クレヨンまたは色鉛筆

\*学年末テスト実施に伴いまして、時間割が変更となっております。また、かけるかなテストは、算数テストの時間（4時間目）に行います。何卒、よろしくお願いいたします。

<<来週のかけるかな出題予定>>

テストでは、文章で書く練習をかねておりますので、ご家庭でも、文の中で言葉を使えるように練習を進めてください。

西大和学園補修校 一年国語 練習／<sup>かな</sup>かな 小テスト

かけるかな


① 右 みぎ 手 て を を 上 あ げ げ ま ま す す

② 左 ひだり 足 あし で で ケ け ン ん ケ け ン ん

③ さ さ か か 立 た ち ち を を す す る る

④ <sup>し</sup>花 はな が が さ さ い い て て い い る る

⑤ 洗 せん 月 がつ は は 一 いっ 月 がつ で で す す

⑥ カ か ナ な カ か ナ な

⑦ 雨 あめ が が ふ ふ り り ま ま し し た た

雨と雨

10

\*忘れ物が大変多くなっていますので、前日に必ず確認してください。

か け る か な



①

--	--	--	--	--	--	--	--

②

--	--	--	--	--	--	--	--

③

--	--	--	--	--	--	--	--

④

--	--	--	--	--	--	--	--

⑤

--	--	--	--	--	--	--	--

⑥

--	--	--	--	--	--	--	--

⑦

--	--	--	--	--	--	--	--

10
----

とうぶつのはちやん

しまうまのはちやんは、

生まれて三十ふんもただな

いうちに、じふんでたち上

がります。そして、つぎの

日には、はしるようになり

ます。だから、つよいとう

ぶつにおそわれても、おか

あちゃんやなかまといっしよ

ににげるこができるので

す。

かたじけなく (じぶん) で (たちあがります) たちあがります。と横字で。


1年算数

$2 \times 4 = 8$

$2 + 4 = 6$

?

# けいさんカード



なまえ

ぜんぶまちがえずにこたえた◎

1~5もんまちがえた○

5もんいじょうまちがえた△

がつ にち	けいさんカード	やったもんだいのかず	ひょうか ◎ ○ △	おうちの人のサイン
/				
/				
/				
/				
/				



ここまでがしゅくだい！けいさんめいじん！



ここまでできたら、けいさんせんになん！



先生

# ますけいさんれんしゅう 2/

やった日: 月 日 曜日 なまえ( )

ますの 中に こたえを かきましょう。

—	19	13	17	11	15	12	16
2							
7							
4							
8							
5							
1							
9							

おわったら おうちの人に まるを つけて もらいましょう。



# 1年生おんどくカード



なまえ

よい◎ ふつう○ もうすこし△

月 日	よんだところ	、やに 気をつけて	大きなこえで	ゆっくりよむ	おうちの人の サイン
/	しゅくだい：していおんどく①				
/	しゅくだい：していおんどく②				
/	しゅくだい：していおんどく③				
/	しゅくだい：していおんどく④				
ここまでが、しゅくだいです。ここから下は 自由音読（じゆう おんどく）					
/					
/					
/					
/					
/					
/					





名まえ

[Empty rounded rectangular box for writing a name]

しまらまの 赤ちゃんは、  
生まれた ときに、もう  
やぎぐらいの 大きさが  
あります。目は あいて  
いて、耳も ぴんと たつて  
います。しまの もようも  
ついて いて、おかあさんに  
そっくりです。

しまらまの 赤ちゃんは、  
生まれて 三十ふんも  
たたない うちに、じふんで  
たち上がります。そして、  
つぎの 日には、はしるよう  
になります。だから、  
つよい どうぶつに  
おそわれても、  
おかあさんや  
なかまと いっしょに  
にげる ことが  
できるのです。



しまらまの 赤ちゃんが、  
おかあさんの おちちだけ  
のんで いるのは、たった  
七日ぐらいの あいだです。  
その あとは、おちちも  
のみますが、じふんで  
草も たべるようになり  
ます。

1 しまらまの 赤ちゃんは、 生まれたとき  
どのぐらいの 大きいですか。

( ) ぐらいの 大きさ。

2 からだのもようは、 どうですか。

( ) に そっくり。

3 しまらまの 赤ちゃんは、 生まれた

ばかりで、 どんなことを しますか。

●三十ふんも たたない うちに、  
(じふんで )。

●つぎの 日には、  
( )。

4 おちちだけを のんで いるのは、  
生まれてから どのぐらいですか。

( )

5 つよい どうぶつに おそわれても、  
にげることが できるのは、

なぜですか。(1つに○を つけましょう。)

( ) おかあさんに そっくりだから。

( ) はしる ことが できるから。

名まえ

解答

しまりまの 赤ちゃん、  
生まれた ときに、もう  
やぎぐらいの 大きさが  
あります。目は あいて  
いて、耳も ぴんと たつて  
います。しまの もようも  
ついて いて、おかあさんに  
そっくりです。

しまりまの 赤ちゃんは、  
生まれて 三十ふんも  
たたない うちに、じふんで  
たち上がります。そして、  
つぎの 日には、はしるよう  
になります。だから、  
つよい どうぶつに  
おそわれても、  
おかあさんや  
なかまと いつしよに  
にげる ことが  
できるのです。



しまりまの 赤ちゃんが、  
おかあさんの おちちだけ  
のんで いるのは、たった  
七日ぐらいの あいだです。  
その あとは、おちちも  
のみますが、じふんで  
草も たぐるようになり  
ます。

1 しまりまの赤ちゃんは、生まれたとき  
どのくらい <sup>(ヤギ)</sup>おちちですか。

( やぎ ) ぐらいの 大きさ。

2 からだのもようは、どうですか。

( しまの もようが ぴんと たつて ) に そっくり。

3 しまりまの赤ちゃんは、生まれた

ばかりで、どんなことを しますか。

●三十ふんも たたない うちに、

( じふんでたち上がります ) 。

●つぎの 日には、

( はしるようになります ) 。

4 おちちだけを のんで いるのは、

生まれてから どのくらいですか。

( 七日くらい )

5 つよい どうぶつに おそわれても、

にげる ことが できるのは、

なぜですか。(1つに○を つけましょう。)


( ) おかあさんに そっくりだから。

(○) はしる りとが できるから。

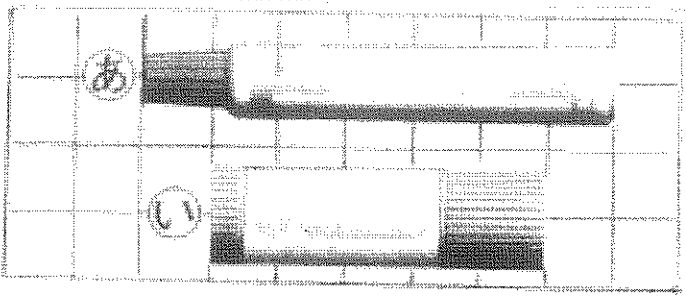
小1 リンゴ 「おちちの赤ちゃん」 のおちちのプリント

一年 くみ 各まえ ( )

・ リンゴと おちちの赤ちゃんの よろずを まよめましよう。

くみする人	リンゴの赤ちゃん	おちちの赤ちゃん
生まれたときの 大きさ	① ちねくら	② ちねくら
おちちをのんで いるのはどのくら	③ 二か月くら	④ 七日くら
目や耳のよろず	⑤ じだまま	⑥ (目は) あいてる。 (耳も) びんたいてる。
おかあさん にしているか	⑦ よわよわしくて、 あまりにいない。	⑧ おちちのあたま ひらいて、 おかあさんにならぬ。
あるいたり はしつたり できるか	⑨ じふんではあるけな い。 おかあさんに、口に くえわえてはこんで もらふ。	⑩ 生まれて、三十ふんも たないうちに、じふん たち上がる。  おちちの口には、はしる ものなる。  おかあさんやながまらつじふん にけることなる。



① ながい ほうに ○を  
つけましょう。



あ ( )

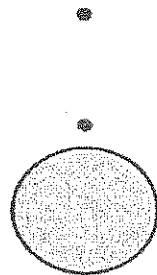
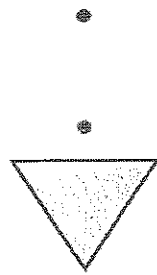

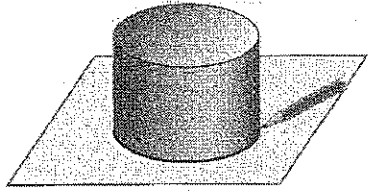
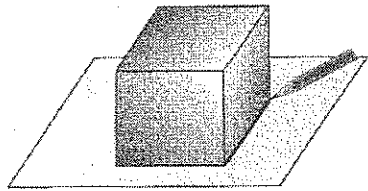
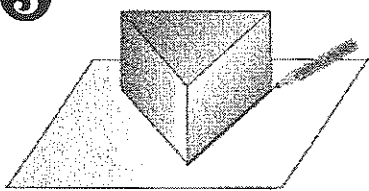
い ( )

② いちばん おおく はいるのは どれでしょう。





( )

③ うつした かたちを <sup>せん</sup>で むすびましょう。



④ なんじ なんぷんでしょう。





# もういちど ふくしゅう

なまえ \_\_\_\_\_

1. さるが 12ひき います。うさぎが 5ひき います。  
さるは うさぎより なんびき おおいですか。

しき

こたえ

2. 本が 9さつあります。3さつかいました。  
ぜんぶで なんさつ ありますか。

しき

こたえ

3. けいさんを しましょう。

①  $4 + 1 + 2 =$

②  $10 - 6 + 5 =$

③  $30 + 40 =$

④  $100 - 80 =$

4. □にかずを かきましょう。

① 10 が 6こと 1 が 3こ で

② 十のくらいが 7、一のくらいが 9の かず

③ 10 が 4こと 1 が 2こ で

# 解答

## もういちど ふくしゅう

2月6日  
じゅぎょうプリント

なまえ \_\_\_\_\_

1. さるが 12ひき います。うさぎが 5ひき います。  
さるは うさぎより なんびき おおいですか。

しき  $12 - 5 = 7$

こたえ  $7$ ひき

2. 本が 9さつあります。3さつかいました。  
ぜんぶで なんさつ ありますか。

しき  $9 + 3 = 12$

こたえ  $12$ さつ

3. けいさんを しましょう。

①  $4 + 1 + 2 = 7$

②  $10 - 6 + 5 = 9$

③  $30 + 40 = 70$

④  $100 - 80 = 20$

4. □にかずを かきましょう。

① 10 が 6こと 1 が 3こで

$63$


② 十のくらいが 7、一のくらいが 9の かず

$79$

③ 10 が 4こと 1 が 2こで

$42$

①




あ

い

②

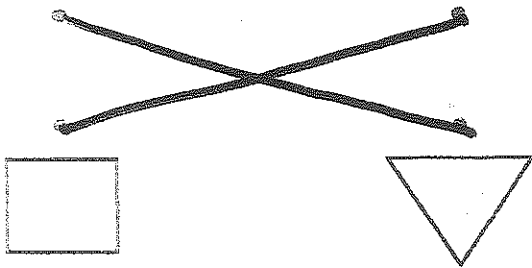
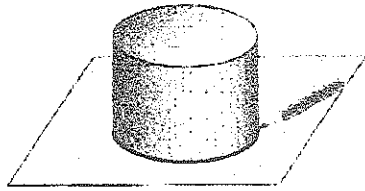
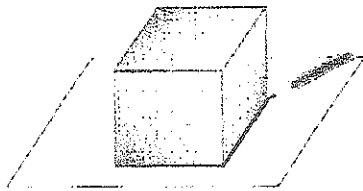
いちばん おおく はいるのは どれでしょう。



い

③

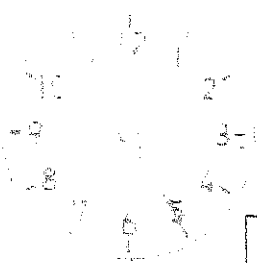
うつした かたちを <sup>せん</sup>で むすびましょう。



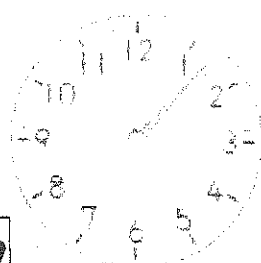
④

なんじ なんぷんでしょう。

①



②



8じ25ぶん

11じ7ぶん



★くになまえて。かたかなでかき。 ↓

か

けるかな

くみ

--

①

--	--	--	--	--	--	--	--	--	--

②

--	--	--	--	--	--	--	--	--	--

③

--	--	--	--	--	--	--	--	--	--

④

--	--	--	--	--	--	--	--	--	--

⑤

--	--	--	--	--	--	--	--	--	--

⑥

--	--	--	--	--	--	--	--

⑦

--	--	--	--	--	--	--	--

10
----