

★文章を読んで、答えましょう。

ずぐりは、雪の上で回して楽しむこ
 まです。ふつうのこまは、芯ぼうが細
 いので、雪の上で回すことはできませ
 ん。いつぼう、ずぐりは、雪の上で回
 して遊ぶことができるように、芯ぼう
 の先が太く、丸く作られています。ま
 ず、雪にちいさなくぼみをつくり、わ
 らでできたなわを使って、その中にな
 り入れて回します。雪がふつてもこま
 を回したいという人々の思いから、ず
 ぐりは長く親しまれてきました。

このように、日本には、さまざま
 なしゆるいのこまがあります。それぞれ
 色も形もちがいますが、じくを中心に
 バランスをとりながら回るというつく
 りは同じです。人々は、このつくり
 にくふうをくわえ、回る様子や回し方
 でさまざまな楽しみ方のできるこまを
 たくさん生み出してきたのです。

①ずぐりは、どのように楽しむこまですか。

各10点(20)

() で () 楽しむこま。

②ふつうのこまと、ずぐりの芯ぼうは、それ
 ぞれ、どうなっていますか。

各10点(20)

・ふつうのこまの芯ぼう ()

・ずぐりの芯ぼう ()

③ずぐりの芯ぼうが、ふつうのこまとちがう
 のは、なんのためですか。

(10)

[]

④ずぐりは、人々のどのような思いから、長
 く親しまれてきたのですか。一つにをつけま
 しょう。

(10)

() こまを長く回しつづけたい。

() こまのしゆるいをふやしたい。

() 雪がふつてもこまを回したい。

⑤「さまざまなしゆるいのこま」について、
 ちがうところと同じところを書きましょう。

各10点(30)

・ちがうところ:

--

 ・

--

・同じところ:

--	--	--

⑥人々が生み出してきたこまは、どんなこま
 ですか。「楽しみ方」という言葉を使って書
 きましょう。

(10)

[]

前期期末テスト

言葉の決まり 答5(20)

① 国語辞典に出てくる順に、()に番号を書きましょう。

- ① { () チーズ }
 - () ちいき
 - () ちかい
- ② { () ポール }
 - () ホール
 - () ボール

言葉の決まり 答5(25)

② 線をつけた符号は、なんといひますか。 からえらんで書きましよう。

① おとなも、子どもも、楽しめましよう。()

② 「なんてすばらしい」。()

③ さとう・小麦・たまごをまぜる。()

④ 「さあ、いきましよう」。()

⑤ では、詩を作ってみましよう。()

句点	読点	中点
ダツシユ	かぎ	


言葉のつかい方 答5(20)

③ ()に合う「そあ」言葉」を、 からえらんで書きましよう。

① きみは()に行きたいですか。

② 遠くに見える()山は、なんという山ですか。

これ	その
あの	どこ



言葉の使い方 答10(20)

④ ()に合う言葉を、 からえらんで書きましよう。

① うさぎが()はねる。

② 校庭を()ひとまわりする。

③ 犬が体を()ふるわせる。

くわつと	ぐるつと
びよんと	ぶるつと

言葉の使い方 答5(25)

⑤ 上と下を線をつないで、正しい文をつくりましよう。

① さとうとしおを . . ひねる。

② かべにかけた絵が . . くわえる。

③ 水道のせんを . . かたむく。

西大和学園小学校三年
漢字テスト

9/10

①

ようふくをきる。

②

はちじにとうこうする。

⊕

とうふつえんぐい。

④

かぞくででかける。

⑤

しをおんどくする。

⑥

ちちがすきなおさけ。

⑦

ことはのいみをしらべる。

⑧

きつつきのしょうはい。

⑨

よるはきおんがさがる。

⑩

みんなのまえではつびようする。

漢字テストはんい

テストの勉強をしましょう

9/10

① やま い しゃしん
山に行つて写真をとる。

② ちち しごと けんがく
父の仕事を見学する。

③ あおもりけん
青森県のりんご。

④ こ しあ
さい後の仕上げ。

⑤ にほん いち おお みずうみ
日本で一番大きな湖。

⑥ ま しろ くも
真っ白な雲。

⑦ はは りよくちや
母は緑茶がすきだ。

⑧ けんどう はし くるま
県道を走る車。

⑨ こうてい しやせい
校庭で写生をする。

⑩ しんじつ ひと
真実は一つ。

漢字テスト

9/17

① やまにいつてしゃしんをとる。

② ちちのしごとをけんがくする。

③ あおもりけんのりんご。

④ さいごのしあげ。

⑤ にほんでいちばんおおきなみずうみ。

⑥ まっしろなくも。

⑦ はははりよくちやがすきだ。

⑧ けんどうをはしるくるま。

⑨ こうていでしやせいをする。

⑩ しんじつはひとつ。

2016 年前期 3 年 算数 まとめテスト

理解 /50 考え方 /50

くみ なまえ

/ 100

1. 次の問題に答えましょう。(理解 2×10)

(1) () にあてはまる数を書きましょう。

① $5 \times 6 = 5 \times 5 + ()$

② $() \times 4 = 16$

③ 1 分 = () 秒

④ 90 秒 = () 分 () 秒

⑤ $1200\text{m} = ()\text{km} ()\text{m}$

⑥ $1\text{km}50\text{m} = ()\text{m}$

⑦ 90 秒 = () 分 () 秒

2. 次の問題に答えましょう。(理解 3×5)

(1) () にあてはまる数を書きましょう。

① $() \times 6 = 12$

3. 次の問題に答えましょう。(考式 $4 \cdot$ 答え 4)

★たんいもわすれずにかきましよう。

(1)

学校には、男子が 158 人、女子が 162 人います。あわせて何人いますか。

【式】

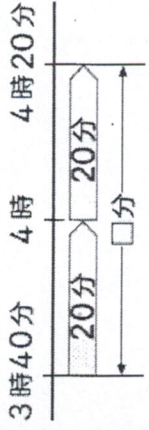
計算らん

答え()

(2) バスに 20 分、電車に 20 分乗りました。

乗り物に乗っていた時間は、あわせて何分

ですか。(3)



答え()

② $10 \div 8 = (\quad \text{あまり} \quad)$

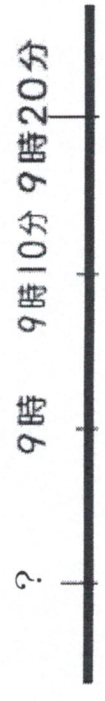
たしかめ ($\quad \quad \quad$)

(2)計算をしましょう。

①
$$\begin{array}{r} 987 \\ + 56 \\ \hline \end{array}$$

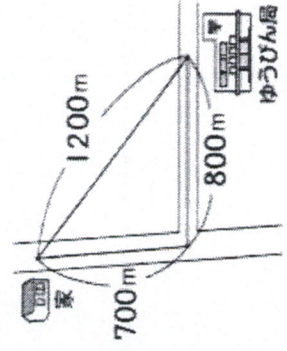
②
$$\begin{array}{r} 2054 \\ - 86 \\ \hline \end{array}$$

(3)9時20分から30分前の時刻は
何時何分ですか。(3)



答え ($\quad \quad \quad$)

(4)下の地図を見て答えましょう。



①家からゆうびん局までのきよりは、何m
ですか。(4)

答え ($\quad \quad \quad$)

②あおいさんの家から学校までの道のりは、
ゆうびん局

何mですか。

【式】

答え ($\quad \quad \quad$)

2016 年前期 3 年 算数 まとめテスト

(4) りんごが 14 あります。7 人で同じ数ずつ分けると、一人分は何こになりますか。

【式】

答え()

(5) ケーキが 47 あります。8 人で同じ数ずつ分けると、一人分は何こになって、


何こあまりありますか。答えは、たんいもわすれずに書きましよう。

【式】

答え(一人分は、) になって、) あまる)

(6) 子どもが 25 人います。1 つのベンチに 4 にんずつすわります。みんながすわるには、

ベンチはいくついらいますか。



答え() /24

(7)数の表し方について答えましょう。(理解 3×5)

① () にあてはまる数を書きましよう。

56080は、一万を()こ、千を()こ、十を()こあわせた数です。

②次の数を数字で書きましよう。

一万を7こ、千を1こ、百を2こあわせた数 ()

③次の数はいくつですか。数字を書きましよう。

1000を425こ あつめた数 () /15

前きにがんばったこと、できるようになったことを書きましよう。
